



T.C.  
MİLLÎ EĞİTİM BAKANLIĞI  
ÖLÇME, DEĞERLENDİRME VE SINAV HİZMETLERİ GENEL MÜDÜRLÜĞÜ

8. SINIF 2. DÖNEM  
**TÜRKÇE DERSİ**  
MERKEZİ ORTAK SINAVI  
(MAZERET)

20 MAYIS 2017 Saat: 09.00

**A**  
KİTAPÇIK TÜRÜ

SORU SAYISI : 20  
SINAV SÜRESİ : 40 Dakika

Adı ve Soyadı : .....  
Sınıfı : .....  
Öğrenci Numarası : .....

**ÖĞRENCİLERİN DİKKATİNE!**

1. Sınıf öğrenci yoklama listesinde belirtilen sınıfta ve sıra numarasında oturunuz.
2. Cevap kâğıdındaki kimlik bilgilerinin doğruluğunu kontrol ediniz. Bilgiler size ait değilse veya cevap kâğıdı kullanılmayacak durumdaysa sınav görevlilerine bildirin.
3. Kitapçık türünü cevap kâğıdındaki ilgili alana kodlayınız.
4. Cevap kâğıdı üzerindeki kodlamaları kurşun kalemle yapınız.

**SINAV BAŞLAMADAN ÖNCE  
KİTAPÇIĞIN ARKA KAPAĞINDAKİ  
UYARILARI MUTLAKA OKUYUNUZ.**

TÜRKÇE 2017

## TÜRKÇE

1. Bu testte 20 soru vardır.
2. Cevaplarınızı, cevap kâğıdına işaretleyiniz.

1. Genç bir ressam adayının, etrafına kendi gözleriyle bakmayı öğrendikten sonra ruhundan bir şeyler katarak dünyayı tuvale aktarması ressam olma yolunda önemli bir adımdır.

**Bu cümledeki altı çizili söz ile sanatçının taşıması gereken hangi özellik anlatılmak istenmiştir?**

- A) Öğreticilik
- B) Özgünlük
- C) Tutarlılık
- D) Kalıcılık

2. Masumane işlenmiş bazı hatalar vardır. Hani birine iyilik yapayım derken zararı dokunmak, iltifat edeyim derken karşısındakini gülünç duruma sokmak, saygı göstereyim derken aşağılamak gibi... Bu tür durumları - - - - deyimini oldukça öz bir şekilde yansıtır.

**Bu metinde boş bırakılan yere anlam bütünlüğüne göre aşağıdaki deyimlerden hangisi getirilmelidir?**

- A) kaç yapayım derken göz çıkarmak
- B) hatır gönül saymak
- C) can yakmak
- D) kalıptan kalıba girmek

3. Kadife gibi yumuşak olan bu kumaş senelerdir annemin sandığındaydı.

**Aşağıdakilerin hangisinde “sert” kelimesi, bu cümledeki altı çizili kelimenin anlamca karşıtıdır?**

- A) Sipariş ettiği ayakkabının sert bir malzemeden yapıldığını sonradan öğrendi.
- B) Şimdiye kadar etrafındakilere sert bir harekette bulunduğumu hatırlamıyorum.
- C) Kimseyle fazla samimi olmayan, az konuşan, sert bir adammış dedem.
- D) Bu bölgenin sert iklimi insanların karakterine de yansımış.

4. Zaman zaman kendi yazılarıma baktığımda bazı sözleri değiştirme gereği duyarım. O sözün yerine yeni ifadeler bulurum. Sonra nedense hangisini kullanacağımı bilemem bir türlü. Düşüncem bir o yana, bir bu yana yalpalar.

**Bu metindeki altı çizili cümlenin taşıdığı anlam aşağıdakilerden hangisidir?**

- A) Öneri
- B) Varsayım
- C) Kararsızlık
- D) İhtimal

5. (I) Panorama 1453 Tarih Müzesi İstanbul'da, Topkapı Kültür Parkı'nda bulunuyor. (II) Müzede İstanbul'un Fethi'ni anlatan bir resim, ses efektleriyle ziyaretçilere sunuluyor. (III) Bu resim, sekiz sanatçının üç yıl aralıksız çalışması sonunda ortaya çıkmış. (IV) Haftanın her günü ziyaret etmenin mümkün olduğu Müze, özellikle çocuklara unutulmaz bir tarih deneyimi yaşıyor.

**Bu metinde numaralanmış cümlelerin hangisinde öznel bir ifadeye yer verilmiştir?**

- A) I.      B) II.      C) III.      D) IV.

6. Az sözle çok şey anlatabilenler yetenekli kimselerdir.

**Aşağıdakilerden hangisi anlamca bu cümleye en yakındır?**

- A) Bir konu hakkında bilgisi olmayanlar susmayı tercih etmelidir.  
B) Güzel konuşmak kişinin saygı kazanmasını sağlar.  
C) Duyularını doğru dile getirenler iyi iletişim kurabilir.  
D) Düşünceleri, birkaç kelimeyle ifade edebilmek bir sanattır.

7. Alanında uzmanlaşmış kişilerce yazıldığından makalede bilimsel bir anlatım ağır basar. Kelimeler gerçek anlamıyla kullanılır. Terimlere yer verilir. Açıklayıcı, tartışmacı anlatım ağırlık kazanır. Yazar, söylediklerini olabildiğince öznellikten kurtarmaya çalışır.

**Bu metinde makalenin hangi yönü üzerinde durulmuştur?**

- A) Kalıcılığı  
B) Amacı  
C) Üslubu  
D) İçeriği

8. Bizim değer vermediğimiz, üstünde durmadığımız, çiğneyip geçtiğimiz, unutup gittiğimiz, bayağı dediğimiz ufak tefek şeyler, olaylar, kişiler, işler, renkler, kokular, sesler... Bütün bunlar sanatçı için değerlidir, eserinin temel taşıdır.

**Bu metinde vurgulanan düşünce aşağıdakilerden hangisidir?**

- A) Sanat eserleri sanatçının kişiliğini, kültürünü yansıtır.  
B) Her sanat dalının kendine özgü konuları vardır.  
C) Sanatçı, kimsenin önemsemediği ayrıntıları esere dönüştürür.  
D) Herkes sanat eserinde farklı yön bulur, eserden farklı zevk alır.

9. Yazar, edebiyat dünyasında büyük ses getiren romanında, anlatmak istediği ne varsa lafı dolandırmadan ortaya koymuş. Bir piramitteki taşların kusursuz dizilmesi gibi romanda ele alınan düşünceler de hep yerli yerinde duruyor. Gereksiz hiçbir ayrıntıya, gizli saklı hiçbir konuya yer vermemiş. Böyle olunca romanı elinizden düşürmeniz, okurken başka şeyler düşünmeniz pek mümkün olmuyor.

**Bu metinde sözü edilen roman ile ilgili aşağıdakilerden hangisi söylenemez?**

- A) Anlamak için büyük bir bilgi birikimi gerektirmektedir.  
B) Edebiyat alanında dikkatleri üzerine çekmiştir.  
C) Sürükleyici bir anlatımı vardır.  
D) Anlatılmak istenenler açıkça ifade edilmiştir.

10. Yazın giydiğimiz kıyafetler, oldukça ince kumaşlardan yapılmıştır. Bunun için çabuk yıpranabilir. Bu gibi giyim eşyalarının yıkanırken yıpranmamasına dikkat edilmelidir. İpeklerden ince yünlülere, naylonlardan daha başka suni kumaşlara kadar her türlü yazlık elbisenin kendisine göre birer yıkanma usulü vardır ve bu usullere uyulması şarttır. Ayrıca bu eşyalar saklanmak üzere dolaba, sandığa konmadan önce iyice temizlenmelidir.

**Bu metinde “yazlık kıyafetler” ile ilgili aşağıdakilerden hangisine değnilmemiştir?**

- A) Niçin yıprandığına  
B) Ne ile yıkandığına  
C) Nasıl korunması gerektiğine  
D) Hangi malzemelerden yapıldığına

11. I. Henüz on yedi yaşında olan genç şairimiz, yeni bir şiir çağının başlangıcını haber veriyor.  
II. Paris'te çıkan sanat dergilerinden biri, genç şairlere sayfalarını açmıştı.  
III. Tecrübeli sanatçılardan biri, genç şairlerden birini başarılı şiiri için kutladıktan sonra yazısını şöyle bitiriyordu:  
IV. Her hafta dergiye gelen şiirlerden en çok beğenilen beş tanesi yayımlanıyor, derginin tanınmış sanatçıları bu şiirleri eleştiriyordu.

**Numaralanmış cümlelerle anlamlı bir metin oluşturulmak istenirse sıralama aşağıdakilerden hangisi olur?**

- A) II - III - I - IV  
B) II - IV - III - I  
C) IV - III - II - I  
D) IV - II - I - III

12. Fabl; hayvanlara, bitkilere veya başka varlıklara kişilik verilmesi ve onların konuşturulmasıyla meydana getirilen bir çeşit masaldır. Ancak masaldan farklı olarak fabldaki kahramanlar gerçek hayattaki bir tipi, değeri veya kişilik özelliğini sembolize eder. Tilki kurnazlığı, keçi inatçılığı, karınca çalışkanlığı temsil eder.

**Bu metnin anlatımında aşağıdaki düşünceyi geliştirme yollarından hangisi kullanılmamıştır?**

- A) Örnekleme  
B) Karşılaştırma  
C) Tanımlama  
D) Betimleme

13. Ormanın ortasında bir yer... Boğazımıza kadar yeşile gömülmüştük. Orman, baharı son damlasına kadar içmiş; tepeden tırnağa kadar yeşile bürünmüştü. Bir tek yeşil ama yeşillerin en belalısı... Binbir tonda yeşil...

**Bu metnin dil ve anlatımıyla ilgili aşağıdakilerden hangisi söylenemez?**

- A) Betimleyici anlatımdan yararlanılmıştır.  
B) Benzetme yapılmıştır.  
C) Yükleme olmayan cümleler kullanılmıştır.  
D) Özne ifadelere yer verilmiştir.

14. Aşağıdaki metinlerin hangisinde anlatım birinci kişi ağzıyla yapılmıştır?

- A) Hurma ağaçlarını gözden yitirmeden bir süre amaçsızca yürüdü. Rüzgârı dinliyor, ayaklarının altındaki kumların yumuşaklığını hissediyordu.  
B) Genç adam, alanı çevreleyen beyaz evlerin arkasından uzun süre güneşe baktı. Güneş batarken kendisinin bir başka ülkede bulunduğunu düşünüyor gibiydi.  
C) Ayaklarım kaldırım taşlarına takıla takıla eve dönüyoruz. Göz kapaklarımı binbir güçlülle açık tutabiliyorum.  
D) Çölün ortasında böyle bir çadırın olabileceğini hiç düşünmemişti. Yer, şimdiye kadar üzerinde yürümediği güzellikteki halılarla kaplıydı.

15. “Mal, canın yongasıdır.” sözünü duymuşsunuzdur. İngilizcede bu kadar derli toplu bir söz yoktur. İngilizcede iki satırla anlatılan bir gerçek, Türkçede üç kelimeye rahat rahat sığdırılabiliyor. Her sözcüğün yabancı dilde karşıladığı bir anlam olmayabilir. Mesela “can” temasını ele alan bir şiiri yabancı dillerden birine çevirmeye çalışanların işi çok zor olacaktır. Bir deneyin de görün, insanı nasıl terletiyor!

**Bu metin aşağıdaki türlerin hangisine örnektir?**

- A) Denemeye  
B) Biyografiye  
C) Anıya  
D) Eleştiriye

16. (I) Tepeden inerken dikenli çalılar, koşusunu yavaşlatmıştı. (II) Onu yakalamak isteyenlerin elinden kurtulmasına içgüdüğü yardımcı oluyordu. (III) Fahri, adamların bağrıışlarını açık seçik duyunca telaşlandı. (IV) Aralarındaki mesafe her an, adım adım azalıyordu.

**Bu metinde numaralanmış cümlelerden hangisi yapıcı farklıdır?**

- A) I.      B) II.      C) III.      D) IV.



**20 MAYIS 2017 TARİHİNDE YAPILAN 8. SINIF 2. DÖNEM  
TÜRKÇE DERSİ MERKEZİ ORTAK SINAVI (MAZERET)  
“A” KİTAPÇIĞI CEVAP ANAHTARI**

**TÜRKÇE**

1. B
2. A
3. A
4. C
5. D
6. D
7. C
8. C
9. A
10. B
11. B
12. D
13. B
14. C
15. A
16. D
17. A
18. A
19. C
20. B



T.C.  
MİLLÎ EĞİTİM BAKANLIĞI  
ÖLÇME, DEĞERLENDİRME VE SINAV HİZMETLERİ GENEL MÜDÜRLÜĞÜ

8. SINIF 2. DÖNEM  
**MATEMATİK DERSİ**  
MERKEZİ ORTAK SINAVI  
(MAZERET)

20 MAYIS 2017 Saat: 10.10

**A**  
KİTAPÇIK TÜRÜ

SORU SAYISI : 20  
SINAV SÜRESİ : 40 Dakika

Adı ve Soyadı : .....  
Sınıfı : .....  
Öğrenci Numarası : .....

**ÖĞRENCİLERİN DİKKATİNE!**

1. Sınıf öğrenci yoklama listesinde belirtilen sınıfta ve sıra numarasında oturunuz.
2. Cevap kâğıdındaki kimlik bilgilerinin doğruluğunu kontrol ediniz. Bilgiler size ait değilse veya cevap kâğıdı kullanılmayacak durumdaysa sınav görevlilerine bildirin.
3. Kitapçık türünü cevap kâğıdındaki ilgili alana kodlayınız.
4. Cevap kâğıdı üzerindeki kodlamaları kurşun kalemle yapınız.

**SINAV BAŞLAMADAN ÖNCE  
KİTAPÇIĞIN ARKA KAPAĞINDAKİ  
UYARILARI MUTLAKA OKUYUNUZ.**

MATEMATİK 2017



## MATEMATİK

1. Bu testte 20 soru vardır.
2. Cevaplarınızı, cevap kâğıdına işaretleyiniz.

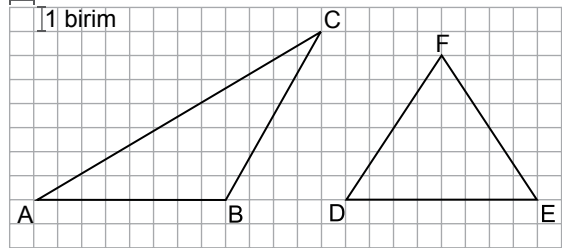
1. 18 tane 9'un çarpımının, 3 tane 3'ün toplamına bölümü aşağıdakilerden hangisidir?

- A)  $9^6$       B)  $9^{17}$       C)  $9^{18}$       D)  $9^{21}$

2. Aşağıdakilerden hangisi  $-9x \cdot x$  cebirsel ifadesine özdeş değildir?

- A)  $-3x \cdot 3x$       B)  $9x \cdot (-x)$   
C)  $-x \cdot (-9x)$       D)  $-3 \cdot 3x^2$

3. 1 birim



Yukarıdaki kareli zeminde verilen ABC üçgeninde, AB kenarına ait yükseklik ile DEF üçgenindeki F açısına ait açıortayın uzunlukları toplamı kaç birimdir?

- A) 13      B) 10      C) 9      D) 6

4.  $\sqrt{18} - \sqrt{64} + A$  işleminin sonucu bir tam sayıdır.

Buna göre A sayısı aşağıdakilerden hangisi olabilir?

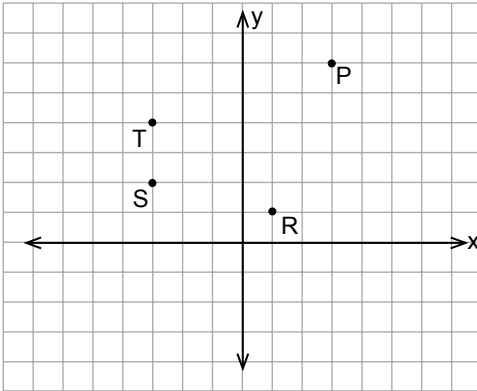
- A)  $-\sqrt{46}$       B)  $-3\sqrt{2}$       C)  $3\sqrt{2}$       D)  $\sqrt{46}$

5. Kız ve erkek öğrencilerin bulunduğu 30 kişilik bir sınıftan rastgele seçilen bir öğrencinin kız olma olasılığı erkek olma olasılığından daha fazladır.

Buna göre bu sınıfta en az kaç kız öğrenci vardır?

- A) 14      B) 15      C) 16      D) 17

- 6.



Verilen koordinat düzleminde P, R, S, T noktaları işaretlenmiştir.

Buna göre aşağıdaki hangi iki noktadan geçen doğrunun eğimi  $\frac{2}{3}$  olur?

- A) R ile T                      B) R ile S  
C) P ile T                      D) P ile S

7.  $\frac{3x}{4} + 1 = \frac{x}{2} + 5$  olduğuna göre x kaçtır?

- A) 16      B) 12      C) 10      D) 8

8. Uç noktaları A ve B olan 60 cm uzunluğundaki bir tel iki noktasından bükülüp A ve B noktaları çakıştırılarak, kenar uzunlukları santimetre cinsinden birer tam sayı olacak şekilde bir üçgen oluşturulacaktır.

Aşağıdakilerden hangisi bu üçgenin kenarlarından birinin santimetre cinsinden uzunluğu olamaz?

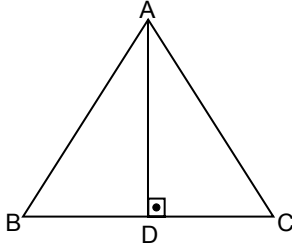
- A) 20      B) 28      C) 29      D) 30

9. Bir torbada renkleri dışında aynı özelliklere sahip mavi ve kırmızı toplar bulunmaktadır.

**Torbadan rastgele çekilen bir topun kırmızı olma olasılığı aşağıdakilerden hangisi olamaz?**

- A)  $\frac{1}{2}$     B)  $\frac{3}{2}$     C)  $\frac{1}{3}$     D)  $\frac{3}{4}$

10.



ABC ikizkenar üçgeninde  $|AB| = |AC|$  ve  $[AD] \perp [BC]$ 'tir.

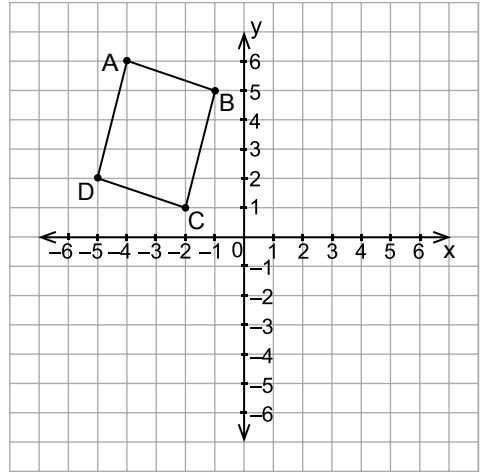
**$|BC| = 16$  cm ve  $|AB| = 17$  cm olduğuna göre  $|AD|$  kaç santimetredir?**

- A) 20    B) 15    C) 10    D)  $\sqrt{33}$

11. Aşağıdakilerden hangisi  $ab + a + bc + c$  cebirsel ifadesine özdeştir?

- A)  $(a + b)(c + 1)$     B)  $c \cdot (a + b)$   
C)  $(a + c)(b + 1)$     D)  $a \cdot (b + c)$

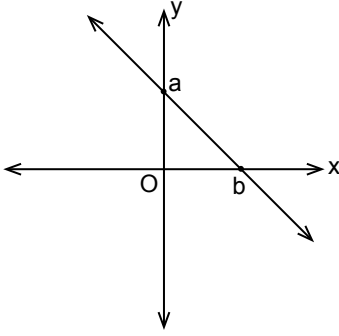
12.



**Aşağıdaki noktalardan hangisi şekildeki ABCD dörtgeninin x eksenine göre yansıması olan dörtgenin içinde yer alır?**

- A) (3, 1)    B) (-2, -3)  
C) (-3, -1)    D) (2, 3)

13.



$2x + y - 4 = 0$  denkleminin belirttiği grafik yukarıda verilmiştir.

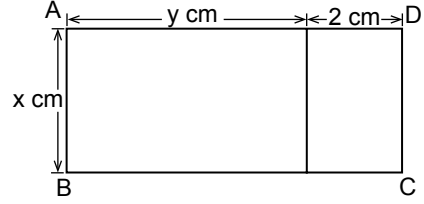
Buna göre  $a + b$  kaçtır?

- A) 2      B) 4      C) 6      D) 8

14. Denklemleri  $y = 3$  ve  $y = x$  olan doğruların kesim noktasının koordinatları aşağıdakilerden hangisidir?

- A) (0, 3)      B) (1, 3)      C) (2, 3)      D) (3, 3)

15.



Şekilde verilen ABCD dikdörtgeninin alanını santimetrekare cinsinden gösteren cebirsel ifade aşağıdakilerden hangisidir?

- A)  $x + y + 2$       B)  $xy + 2x$   
C)  $2xy$       D)  $xy + 2$

16.

$-3 \cdot (x + 7) \geq 6$  eşitsizliğinin çözümü aşağıdakilerden hangisidir?

- A)  $x \leq 9$       B)  $x \geq -9$   
C)  $x \leq -9$       D)  $x \geq 9$

17. Kenar uzunlukları 6 santimetre, 9 santimetre ve 4 santimetre olan bir üçgen ile kenar uzunlukları 12 santimetre, 18 santimetre ve 27 santimetre olan üçgen benzerdir.

Bu iki üçgen arasındaki benzerlik oranı aşağıdakilerden hangisi olabilir?

- A)  $\frac{1}{3}$     B)  $\frac{1}{2}$     C)  $\frac{2}{3}$     D)  $\frac{3}{4}$

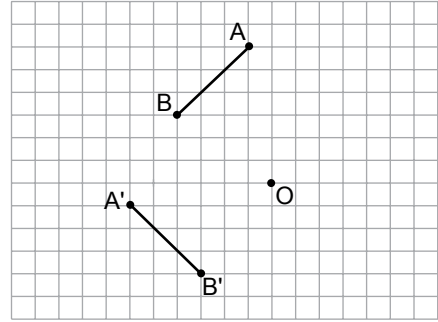
18.  $\sqrt{225}$  sayısının aşağıdakilerden hangisi ile çarpımı bir irrasyonel sayıdır?

- A)  $\sqrt{16}$     B)  $\sqrt{25}$     C)  $\sqrt{121}$     D)  $\sqrt{125}$

19. 
$$\left. \begin{array}{l} 4x - 5y = 17 \\ 2x + 7y = -1 \end{array} \right\} \text{ denkleminin çözümü}$$
 aşağıdakilerden hangisidir?

- A) (3, -1)    B) (-4, 3)  
C) (3, 5)    D) (-4, -1)

- 20.



Kareli zeminde verilen AB doğru parçası O noktası etrafında döndürülerek A'B' doğru parçası elde edilmiştir.

Buna göre AB doğru parçasına aşağıdaki dönme hareketlerinden hangisi uygulanmıştır?

- A) Saat yönünde  $90^\circ$   
B) Saat yönünde  $270^\circ$   
C) Saat yönünün tersi yönünde  $180^\circ$   
D) Saat yönünün tersi yönünde  $270^\circ$

TEST BİTTİ.  
CEVAPLARINIZI KONTROL EDİNİZ.

**20 MAYIS 2017 TARİHİNDE YAPILAN 8. SINIF 2. DÖNEM  
MATEMATİK DERSİ MERKEZİ ORTAK SINAVI (MAZERET)  
“A” KİTAPÇIĞI CEVAP ANAHTARI**

**MATEMATİK**

1. B
2. C
3. A
4. B
5. C
6. D
7. A
8. D
9. B
10. B
11. C
12. B
13. C
14. D
15. B
16. C
17. A
18. D
19. A
20. B



T.C.  
MİLLÎ EĞİTİM BAKANLIĞI  
ÖLÇME, DEĞERLENDİRME VE SINAV HİZMETLERİ GENEL MÜDÜRLÜĞÜ

8. SINIF 2. DÖNEM  
**FEN BİLİMLERİ DERSİ**  
MERKEZİ ORTAK SINAVI  
(MAZERET)

21 MAYIS 2017

Saat: 09.00

**A**  
KİTAPÇIK TÜRÜ

SORU SAYISI : 20

SINAV SÜRESİ : 40 Dakika

Adı ve Soyadı : .....

Sınıfı : .....

Öğrenci Numarası : .....

**ÖĞRENCİLERİN DİKKATİNE!**

1. Sınıf öğrenci yoklama listesinde belirtilen sınıfta ve sıra numarasında oturunuz.
2. Cevap kâğıdındaki kimlik bilgilerinin doğruluğunu kontrol ediniz. Bilgiler size ait değilse veya cevap kâğıdı kullanılmayacak durumdaysa sınav görevlilerine bildirin.
3. Kitapçık türünü cevap kâğıdındaki ilgili alana kodlayınız.
4. Cevap kâğıdı üzerindeki kodlamaları kurşun kalemle yapınız.

**SINAV BAŞLAMADAN ÖNCE  
KİTAPÇIĞIN ARKA KAPAĞINDAKİ  
UYARILARI MUTLAKA OKUYUNUZ.**

FEN BİLİMLERİ 2017

## FEN BİLİMLERİ

1. Bu testte 20 soru vardır.
2. Cevaplarınızı, cevap kâğıdına işaretleyiniz.

1. Karasal bir besin ağında yer alan canlılar sembollerle gösterilerek bu canlılara ait bilgiler verilmiştir.

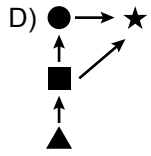
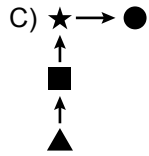
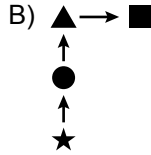
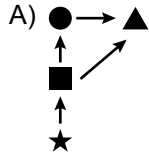
▲: Işık enerjisini kimyasal enerjiye dönüştürür.

●: ■ ile beslenen bir tüketicidir.




■: Enerji ihtiyacını sadece üretici canlılardan karşılar.

★: ■ ve ● ile beslenerek enerji ihtiyacını karşılar.

**Buna göre aşağıdaki şemalardan hangisi bu besin ağını ifade etmektedir?**



2. Bitkilerin büyümesini etkileyen faktörleri inceleyen bir öğrenci numaralanmış aşağıdaki düzenekleri hazırlıyor. Düzeneklerdeki saksı bitkileri, toprak özellikleri ve ortam sıcaklıkları özdeştir.



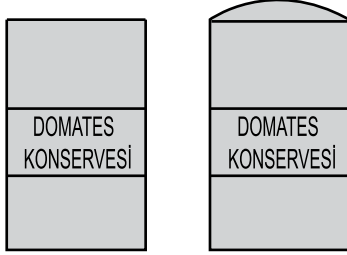
- I. bitkiyi yanmakta olan lambanın önüne koyup üç günde bir suluyor.
- II. bitkiyi güneş ışığı alan pencere kenarına koyuyor fakat hiç sulamıyor.
- III. bitkiyi ışık almayan karanlık bir ortama koyup üç günde bir suluyor.

**Bu deney düzeneklerinde öğrenci üç hafta sonra aşağıdakilerden hangisini gözlemler?**

- A) Yaprak sayısındaki artışın en fazla I. bitkide olduğunu
- B) II. bitkinin, güneş ışığı alabildiği için daha iyi büyüdüğünü
- C) I. bitkinin diğerlerinden daha az karbondioksit tükettiğini
- D) III. bitkinin daha fazla karbondioksit tükettiğini



3. Markete alışverişe giden bir öğrenci, raftaki domates konservelerinden birinin kapağının şekildeki gibi şiştiğini görmüştür.



Bu öğrenci, araştırmasında havası alınarak kapatılmış konserve kapaklarının şişmesinin ve içindeki besinlerin bozulmasının konserve içinde çoğalan bakterilerin faaliyetleri sonucu olduğunu öğrenmiştir.

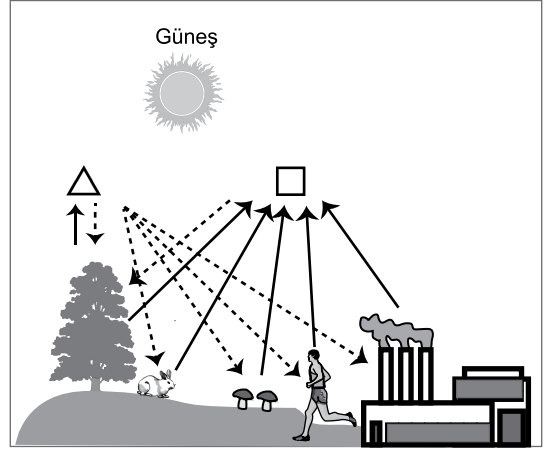
**Bu öğrenci, konserve bozulmasına neden olan bakteriler ile ilgili olarak**

- I. Enerji üretmek için besin kullanmıştır.
- II. Ortamda oksijen olmadığı için enerji üretmemiştir.
- III. Faaliyetleri sonucunda gaz açığa çıkarmıştır.

**yargılarından hangilerine ulaşır?**

- A) Yalnız I                      B) Yalnız II  
C) I ve III.                      D) II ve III.

4. Bir öğrenci aşağıdaki görseli incelemektedir.



**Öğrencinin bu görseldeki olayla ilgili verdiği bilgilerden hangisi yanlıştır?**

- A)  $\triangle$ , oksijeni ifade eder.  
B) Bitkiler atmosfere sadece  $\triangle$  gazı verir.  
C)  $\square$ , canlıların solunumda dışarı verdiği gazdır.  
D)  $\square$ , fosil yakıtların yanması sonucu atmosfere verilen karbondioksidi ifade eder.

5. Bitkisel yağ elde etmek amacıyla ekilen bir bitki türünü zararlı bir böcek türüne karşı dayanıklı hâle getirmek için kullanılan yöntemlerden biri olan gen aktarımı, bu bitki türüne uygulanmıştır. Bir süre sonra bu bitkinin hastalanmadığı, bitkiye zarar veren böceklerin azaldığı görülmüştür. Bunun sonucunda yakındaki başka bir ekim alanında bu bitkiye benzer yabancı bir bitki türünün hızla yayıldığı ve gen aktarımı yapılmış olan bitkinin yetiştiği alanı kaplamaya başladığı tespit edilmiştir.

#### Bu durumla ilgili

- Dayanıklı bitki türleri elde etmenin tek yolu gen aktarımı yapmaktır.
- Biyoteknolojik uygulamaların olumsuz sonuçları olabilir.
- Genetik çalışmalar biyoteknoloji uygulamalarında da kullanılmaktadır.

#### Çıkarımlarından hangileri yapılabilir?

- A) I ve II.                      B) I ve III.  
C) II ve III.                    D) I, II ve III.

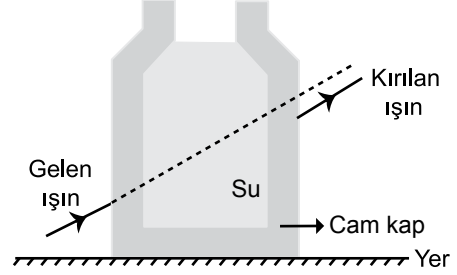
6. Bazı katı atıkların doğada ayrıştırılma süreleri ve bu atıkların geri dönüşümünden elde edilen enerji tasarrufu tabloda verilmiştir:

Katı atıklar	Doğada ayrıştırılma süreleri (yıl)	Enerji tasarrufu (GJ / ton)
Cam	4000	6
Plastik	100-1000	32,6
Alüminyum	200-500	222

#### Bu tabloya göre aşağıdaki çıkarımlardan hangisi yapılabilir?

- A) Katı atıkların geri dönüşümü enerji tasarrufu sağlar.  
B) Doğada ayrıştırılma süresi uzadıkça tasarruf edilen enerji miktarı artar.  
C) Katı atıklar, sıvı atıklara göre doğaya daha fazla zarar verir.  
D) Atıkların doğada ayrıştırılma süreleri sadece miktarlarına bağlıdır.

7. Şekildeki gibi su dolu cam kaba gelen bir ışığı kırılarak kabı terk etmektedir. Kırılan ışın kabı terk ederken doğrultusu gelen ışının doğrultusuna paraleldir.



#### Bu olayda gelen ışın kaç kez kırılmaya uğramıştır?


- A) 1                      B) 2                      C) 3                      D) 4

8. Neşe, bir parça gazete kâğıdını alıp üzerine bir miktar tuz döküyor. Bu kâğıdı hoparlörün üzerine koyarak müziğin sesini arttırıyor. Ses arttıkça tuz taneciklerinin bu gazete kâğıdı üzerinde hareket ettiğini gözlemliyor.

#### Neşe, yalnızca bu gözleminden hareketle aşağıdaki yargılardan hangisine ulaşabilir?

- A) Ses boşlukta yayılmaz.  
B) Ses başka bir enerji türüne dönüşebilir.  
C) Sesin yayılma sürati sıvı ortamlarda gaz ortamlara göre daha fazladır.  
D) Sesin yayılma sürati katı ortamlarda sıvı ortamlara göre daha fazladır.

9. Öğretmen üzerinde pozitif (+) ve negatif (–) elektrik yük sembolleri yazılı etiketleri sınıfa getirir. Öğrencilerden bunları kullanarak sembolik nötr bir cismin yük dağılımını göstermesini ister. Öğrenciler de aşağıda verilen kartları hazırlarlar:



Ali'nin kartı

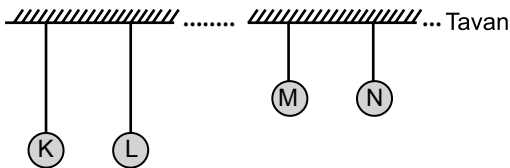
Ayşe'nin kartı

Mehmet'in kartı

**Buna göre hangi öğrencilerin hazırladığı kart, nötr cismi temsil etmiştir?**

- A) Yalnız Ali  
B) Yalnız Mehmet  
C) Ali ve Ayşe  
D) Ali ve Mehmet

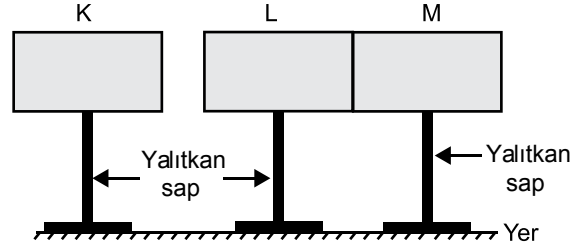
10. Özdeş nötr K, L, M plastik küreleri yünlü kumaşa, nötr N cam küresi ise ipek kumaşa sürtülerek elektrikleniyor. Daha sonra aşağıdaki gibi birbirlerini etkileyecek bir konumda naylon iplerle tavana asılıyorlar.



**Buna göre aşağıdaki yargılardan hangisi yanlıştır?**

- A) K ve L birbirini iter.  
B) M ve N birbirini çeker.  
C) M ve N küreleri farklı cins yükle yüklenmiştir.  
D) K, L, M, N küreleri aynı cins yükle yüklenmiştir.

11. Elektrik yüklü K levhası, birbirine dokunan iletken, nötr L ve M levhalarına şekildeki gibi yaklaştırılıyor.



K levhası uzaklaştırılmadan L ve M levhaları birbirinden ayrıldığında başlangıçta nötr olan L ve M levhaları elektrikle yükleniyor.

**Buna göre**

- I. K pozitif yüklü ise L negatif, M ise pozitif yüklüdür.  
II. K negatif yüklü ise L pozitif, M ise negatif yüklüdür.  
III. K pozitif yüklü ise L ve M yüksüzdür.

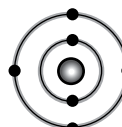
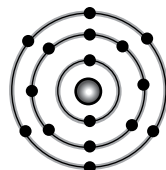
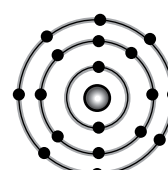
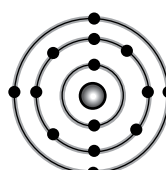
**yargılarından hangileri doğrudur?**

- A) Yalnız I  
B) Yalnız II  
C) I ve II.  
D) II ve III.

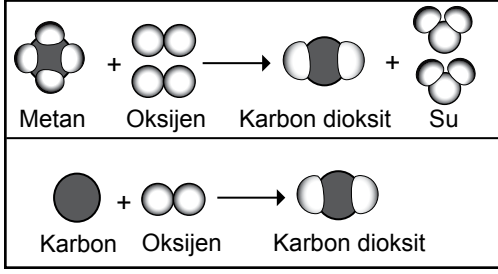
12. Şekilde periyodik tablonun bir bölümü verilmiştir.



**Aşağıda elektron-katman ilişkisi verilen elementlerden hangisi bu tabloda ■ ile gösterilen yere yerleştirilmelidir?**

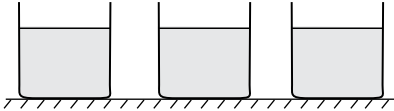
- A) 
- B) 
- C) 
- D) 

13. Şekilde iki tepkime modeli verilmiştir.



Aşağıda verilenlerden hangisi bu tepkimelerin ortak özelliklerinden değildir?

- A) Tepkime sonucu yeni atomlar oluşmuştur.  
 B) Bağlar kırılıp, yeni bağlar oluşmuştur.  
 C) Toplam atom sayısı korunmuştur.  
 D) Yanma tepkimesi örnekleridir.
14. Eşit miktarda saf su, asit ve baz çözeltilerinin her biri şekildeki gibi ayrı kaplara konuluyor.



Öğrenci, bu maddelere ait pH değerlerinin yazılı olduğu etiketleri kaplara yapıştırmak istiyor.

2	7	12
---	---	----

Öğrencinin, etiketleri kaplara doğru bir şekilde yapıştırması için aşağıdakilerden hangilerini yapmasına gerek yoktur?

- I. Kırmızı turnusol kâğıdını kullanarak hangisinde mavi renge dönüştüğünü tespit etmeli  
 II. Kaplara mermer parçasını ayrı ayrı atarak etkileşimleri gözlemli  
 III. Termometre ile kaplardaki sıvıların sıcaklık değerlerini ölçmeli
- A) Yalnız II  
 B) Yalnız III  
 C) I ve II.  
 D) I ve III.

15. 50 °C'ta özdeş kaplarda bulunan eşit kütlelerdeki etil alkol ve su, aynı ortamda soğumaya bırakılıyor. Sıvıların 30 °C'a gelmeleri için geçen süreler karşılaştırıldığında etil alkolün daha kısa sürede bu sıcaklığa geldiği gözlemleniyor.

Buna göre etil alkolün, suya göre daha çabuk soğumasının nedeni aşağıdakilerden hangisidir?

(Su ve etil alkolün buharlaşmadığı kabul edilecektir.)

- A) Suyun buharlaşma ısısının, etil alkolün buharlaşma ısısından büyük olması  
 B) Etil alkolün öz ısısının, suyun öz ısısından küçük olması  
 C) Etil alkolün ortama daha çok ısı vermesi  
 D) Suyun ortama daha az ısı vermesi

16. Aşağıdaki tabloda birbirine temas eden K ve L metal bloklarına ait sıcaklık-zaman değerleri verilmiştir:

	Zaman (dakika)	0	2	4	6	8	10	12
K	Sıcaklık (°C)	70	65	60	55	50	50	50
L	Sıcaklık (°C)	30	35	40	45	50	50	50

Buna göre

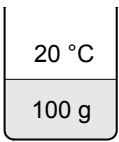
- I. K ve L bloklarının denge sıcaklığı 50 °C'tur.  
 II. K ve L bloklarının kütleleri aynıdır.  
 III. K bloğundan L bloğuna ısı akışı olmuştur.

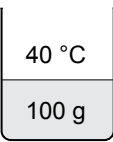
yargılarından hangileri kesinlikle doğrudur?

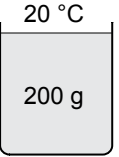
(Isı alışverişinin sadece K ve L blokları arasında olduğu kabul edilecektir.)


- A) I ve II.  
 B) I ve III.  
 C) II ve III.  
 D) I, II ve III.

17. Ahmet aynı ortamda bulunan özdeş kaplara, belirtilen sıcaklık ve miktarlarda su koyuyor.
- Suların sıcaklığını 70 °C'a çıkarmak isteyen Ahmet, en fazla ısıyı aşağıdakilerden hangisine vermelidir?**

A) 

B) 

C) 

D) 

18. İki farklı maddeye ilişkin erime ısıları değerleri tabloda verilmiştir:

Madde	Erime ısıları (J/g)
Buz	334
Bakır	134

Tabloya bakılarak erime sıcaklığındaki 10 g buzun erimesi için gerekli olan ısı ile erime sıcaklığındaki kaç gram bakırın eritilebileceği aşağıdakilerden hangisi ile hesaplanır?

- A)  $\frac{10 \cdot 334}{134}$
- B)  $\frac{334}{10 \cdot 134}$
- C)  $\frac{134 \cdot 10}{334}$
- D)  $\frac{134}{10 \cdot 334}$

19. Özdeş kaplarda bulunan ilk sıcaklıkları aynı, eşit miktarlardaki su, etil alkol ve aseton sıvıları özdeş ısıtıcılarla aynı anda ısıtılmaya başlanıyor. 10 dakika sonra etil alkolün kaynamaya başladığı, asetonun kaynarak bittiği, suyun ise kaynamaya başlamadığı gözlemleniyor.

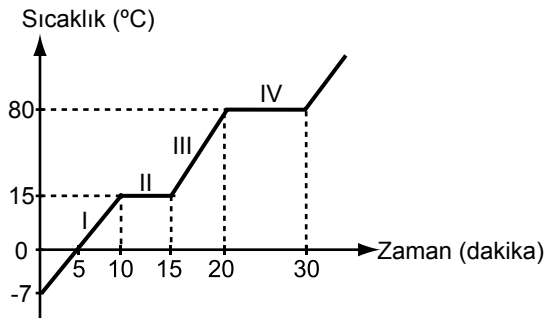
**Buna göre**

- Bu sıvılardan kaynama noktası en yüksek olan sudur.
- Bu sıvılardan kaynama noktası en düşük olan asetonudur.
- Etil alkol kaynamaya devam ederken suyun tamamı buharlaşır.

**yargılarından hangileri doğrudur?**

- A) Yalnız I
- B) I ve II.
- C) II ve III.
- D) I, II ve III.

- 20.



**Sıcaklık-zaman grafiği verilen saf K maddesi için hangisi yanlıştır?**

- A) K maddesi 30 dakika içinde iki kez hâl değiştirmiştir.
- B) K maddesinin erime sıcaklığı 15 °C'tur.
- C) K maddesinin kaynama sıcaklığı 80 °C'tur.
- D) K maddesi II ve IV. bölgede ısı vermiştir.

**TEST BİTTİ.**

**CEVAPLARINIZI KONTROL EDİNİZ.**

**21 MAYIS 2017 TARİHİNDE YAPILAN 8. SINIF 2. DÖNEM  
FEN BİLİMLERİ DERSİ MERKEZİ ORTAK SINAVI (MAZERET)  
“A” KİTAPÇIĞI CEVAP ANAHTARI**

**FEN BİLİMLERİ**

1. D
2. A
3. C
4. B
5. C
6. A
7. D
8. B
9. D
10. D
11. C
12. D
13. A
14. B
15. B
16. B
17. C
18. A
19. B
20. D



T.C.  
MİLLÎ EĞİTİM BAKANLIĞI  
ÖLÇME, DEĞERLENDİRME VE SINAV HİZMETLERİ GENEL MÜDÜRLÜĞÜ

8. SINIF 2. DÖNEM  
T.C. İNKILAP TARİHİ VE  
ATATÜRKÇÜLÜK DERSİ  
MERKEZİ ORTAK SINAVI  
(MAZERET)

21 MAYIS 2017 Saat: 10.10

SORU SAYISI : 20  
SINAV SÜRESİ : 40 Dakika

**A**  
KİTAPÇIK TÜRÜ

Adı ve Soyadı : .....  
Sınıfı : .....  
Öğrenci Numarası : .....

### ÖĞRENCİLERİN DİKKATİNE!

1. Sınıf öğrenci yoklama listesinde belirtilen sınıfta ve sıra numarasında oturunuz.
2. Cevap kâğıdındaki kimlik bilgilerinin doğruluğunu kontrol ediniz. Bilgiler size ait değilse veya cevap kâğıdı kullanılmayacak durumdaysa sınav görevlilerine bildirin.
3. Kitapçık türünü cevap kâğıdındaki ilgili alana kodlayınız.
4. Cevap kâğıdı üzerindeki kodlamaları kurşun kalemle yapınız.

**SINAV BAŞLAMADAN ÖNCE  
KİTAPÇIĞIN ARKA KAPAĞINDAKİ  
UYARILARI MUTLAKA OKUYUNUZ.**

T.C. İNKILAP TARİHİ VE ATATÜRKÇÜLÜK 2017

## T.C. İNKILAP TARİHİ VE ATATÜRKÇÜLÜK

1. Bu testte 20 soru vardır.
2. Cevaplarınızı, cevap kâğıdına işaretleyiniz.

1. Mustafa Kemal'in "Askerler! Karşımızdaki düşmanı mağlup edeceğimize hiç şüphe yoktur. Fakat siz acele etmeyin. Evvela ben ileri gideyim. Siz, ben kırbacımla işaret verdiğim zaman hep birden atılırsınız!" emri doğrultusunda zamanı gelince askerler ileri atılmış ve düşman imha edilmiştir. Böylece Conkbayırı'nda zafer kazanılmıştır.

**Bu olay Mustafa Kemal'in aşağıdaki kişilik özelliklerinden hangisiyle ilişkilendirilemez?**

- |                     |                   |
|---------------------|-------------------|
| A) İnkılapçılığıyla | B) Cesaretiyle    |
| C) Vatan sevgisiyle | D) Önder oluşuyla |

2. Millî Mücadele'nin Hazırlık Dönemi'nde yapılan;

- Erzurum Kongresi'nde Karadeniz ve Doğu Anadolu'daki millî cemiyetler, "Doğu Anadolu Müdafaa-i Hukuk Cemiyeti" adı altında toplanmıştır.
- Sivas Kongresi'nde Anadolu ve Trakya'daki millî cemiyetler "Anadolu ve Rumeli Müdafaa-i Hukuk Cemiyeti" çatısı altında birleştirilmiştir.

**uygulamalarının amacı aşağıdakilerden hangisidir?**

- |  |
|--|
| A) Düzensiz birliklerden düzenli orduya geçmek |
| B) İstanbul Hükûmeti'nin etkinliğini artırmak  |
| C) Millî Mücadele'yi tek merkezden yönetmek    |
| D) Cemiyetlere uluslararası statü kazandırmak  |

3. Mustafa Kemal Paşa, Millî Mücadele'nin en kritik günleri olan Kütahya-Eskişehir Savaşları'nın tüm şiddetiyle devam ettiği günlerde Ankara'da Maarif Kongresi'nin toplanmasını sağlamıştır. Cehalete karşı savaşın, en az bağımsızlık kadar önemli olduğunu söyleyerek cepheye gönüllü olarak gitmek için Ankara'ya gelen öğretmenleri tekrar okullarına göndermiştir.

**Bu metne verilebilecek en uygun başlık aşağıdakilerden hangisidir?**

- |                                    |
|------------------------------------|
| A) Cephedeki Öğretmenler           |
| B) Ulusal Egemenliğin Önemi        |
| C) Maarif Kongresi Kararları       |
| D) Atatürk'ün Eğitime Verdiği Önem |

4. Atatürk; "Millet, varlığı ve bağımsızlığı için her şeye girişir ve bu gaye uğrunda her fedâkarlığı yaparsa başarılı olmaması mümkün değildir." **sözünü aşağıdakilerden hangisinin önemi vurgulamaktadır?**

- |  |
|--|
| A) Teknolojik gelişmenin toplumun ilerlemesini sağlayacağını |
| B) Eğitimin bağımsızlık için en önemli unsur olduğunu        |
| C) Bağımsızlığın sadece düzenli orduyla sağlanacağını        |
| D) Milletçe çalışarak her zorluğun aşılabileceğini           |



5. **Mustafa Kemal, Sakarya Savaşı'nı yönetirken:** "Çal Dağı'nı da her alan gibi şiddetle, inatla savunacağız. Eğer elimizden çıkarsa araziye mahkûm olmayacağız, durup cephe kurmak için ille dağ, tepe aramayacağız, elverişli bir yer bulmak için kilometrelerce geriye gitmeyeceğiz; beş yüz metre, bin metre geri çekilip yeniden cephe kuracağız ve aynı azimle savaşa devam edeceğiz." **stratejisini belirlemiştir.**

**Buna göre Mustafa Kemal, Sakarya Savaşı'nda aşağıdakilerden hangisini benimsemiştir?**

- A) Türk birliklerinin tutunabildikleri her noktayı savunmalarını  
B) Küçük kuvvetler ile düşmanın içine sızarak saldırmayı  
C) Sürekli taarruza geçerek düşmanı geri püskürtmeyi  
D) Düşman ordusunun en kuvvetli kısmına kesin bir darbe vurarak dağıtmayı

6. İstiklal Savaşı'mızın zaferle sonuçlanması üzerine İngiltere'de hükümet istifa etmiş, Yunanistan'da da Anadolu'daki başarısızlıktan sorumlu tutulan devlet adamları cezalandırılmışlardır.

**Bu durum, Kurtuluş Savaşı'nın hangi alan-daki etkilerine bir örnek oluşturur?**

- A) Kültürel  
B) Uluslararası  
C) Ekonomik  
D) Millî

7. "Sivrihisar yolunda en büyük köy Külk idi. Anadolu'da böyle bir köyün bulunduğunu akıldan geçirmezdim. Bağları, bahçeleri, iki üç katlı taş yapıları vardı. Bu sefer orası dinamitle yıkılmıştı. Kadınlar yıkıntılar arasında hasta çocuklarla dolaşıyorlardı. Yunanlılar en fazla burasını yakıp yıkmışlar, yaşama araçlarını ortadan kaldırmışlardı. Ne kimsenin başında bir adam ne hayvan ne yiyecek kalmıştı."

**Halide Edip Adıvar'ın "Türk'ün Ateşle İmtihanı" adlı romanından alınmış bu parçaya göre aşağıdakilerden hangisine ulaşamaz?**

- A) Yunanlıların halkın yaşam alanlarına zarar verdiğine  
B) Kadınların, çocukların mağdur olduğuna  
C) Savaşta bütün şehirlerin yok edildiğine  
D) Savaşta en çok etkilenen köylerden birinin Külk köyü olduğuna

8. 28 Ekim 1922 tarihinde Lozan'da barış konferansının toplanması kararlaştırıldı. Ancak İtilaf Devletleri konferansa TBMM Hükûmeti'nin yanında İstanbul Hükûmeti'ni de davet ederek ortaya çıkacak görüş ayrılıklarından faydalanmayı amaçlamıştır.

**Bu ikiliği önlemek isteyen TBMM aşağıdakilerden hangisini gerçekleştirmiştir?**

- A) Saltanatı kaldırmıştır.  
B) Cumhuriyeti ilan etmiştir.  
C) Kapitülasyonları kaldırmıştır.  
D) Maarif Kongresi'ni toplamıştır.

9. Hukuk alanında yapılan düzenlemelerle Müslüman ve gayrimüslim tüm vatandaşlarımızın aynı hukuk kurallarına uyması sağlanmıştır. Bu çerçevede, evlenme-boşanma, miras ve kadın-erkek eşitliği konularında çıkarılan kanunlarla hem hukuk hem de sosyal yaşamda önemli değişiklikler yapılmıştır.

**Buna göre;**

- I. Toplumda hukuk birliği sağlanmıştır.  
II. Müslümanlar ayrıcalıklı bir konuma gelmiştir.  
III. Medeni hayatta kadın-erkek eşitliği sağlanmıştır.

**yargılarından hangilerine ulaşılabilir?**

- A) Yalnız III  
B) I ve II.  
C) I ve III.  
D) I, II ve III.

10. Lozan Barış Konferansı'na katılacak olan Türk heyetinden, Doğu Anadolu'da kurulması düşünülen Ermeni Devleti meselesi ve kapitülasyonların kaldırılması konusunda kesinlikle taviz verilmemesi istenmiştir.

**Buna göre;**

- I. Toprak bütünlüğü  
II. Laik yönetim  
III. Çok partili sistem  
IV. Ekonomik bağımsızlık

**anlaşılarından hangilerine önem verildiği söylenebilir?**

- A) I ve II.  
B) I ve IV.  
C) II ve III.  
D) III ve IV.

11. Cumhuriyet Dönemi'nde yeni Türk harflerinin kabulü sonrasında yeni harflerin halka öğretilmesini sağlamak amacıyla 24 Kasım 1928'de Millet Mektepleri Talimatnamesi yürürlüğe konmuştur. Bu talimatname ile 16-45 yaş arasındaki kadın ve erkeklerin devam edeceği % 65'i köylerde olmak üzere 54.050 derslik açılmıştır.

**Bu çalışmalar ile aşağıdakilerden hangisinin amaçlandığı söylenemez?**

- A) Eğitimin yaygınlaşması  
B) Medreselerin kapatılması  
C) Kültürel hayatın canlanması  
D) Okuma-yazma oranının artması

12. • 1 Ocak 1926'dan itibaren miladi takvim kullanılmaya başlandı.  
• 20 Mayıs 1928'de uluslararası rakamlar kabul edildi.  
• 26 Mart 1931'de ağırlık ölçü birimi olarak kilogram, uzunluk ölçü birimi olarak metre kabul edildi.

**Ülkemizde yapılan bu yeniliklerin ortak amacı aşağıdakilerden hangisidir?**

- A) Yerli üretimi özendirmek  
B) Millî iradeyi gerçekleştirmek  
C) Laiklik anlayışını yerleştirmek  
D) Uluslararası ilişkileri kolaylaştırmak

13. “Millî his ile dil arasındaki bağ çok kuvvetlidir. Dilin millî ve zengin olması millî hissin gelişmesinde başlıca etkidir.”

**Atatürk’ün bu sözü doğrultusunda aşağıdakilerden hangisi gerçekleştirilmiştir?**

- A) Maarif Kongresi toplanmıştır.  
B) Türk Dil Kurumu kurulmuştur.  
C) Tekalifimillîye Emirleri yayımlanmıştır.  
D) Tevhid-i Tedrisat Kanunu kabul edilmiştir.

14. • 1924’te Türkiye, Paris Olimpiyat Oyunları’na katılmıştır.  
• 1926 yılında kurulmuş olan Gazi Terbiye Enstitüsünde resim bölümü açılmıştır.  
• 1936’da Ankara Devlet Konservatuarı kurulmuştur.

**Cumhuriyet Dönemi’ndeki bu gelişmeler Atatürk’ün aşağıdakilerden hangisine önem verdiğini gösterir?**

- A) Tarih ve dile  
B) Sanat ve spora  
C) Sağlık ve tarıma  
D) Bilim ve sanayiye

15. **Aşağıdakilerden hangisi “Atatürkçülük, millî egemenliğe dayalı bir devleti öngörür.” yargısını destekleyici niteliktedir?**

- A) Sanayileşmiş bir Türkiye’nin hedeflenmesi  
B) Kalkınma planlarının devlet eliyle yapılması  
C) Türk milletinin devlet yönetiminde söz sahibi olması  
D) Yurtta ve dünyada barışın korunmasının amaçlanması

16. “Bugünkü hükümetimiz, devlet teşkilatımız doğrudan doğruya milletin kendi kendine, kendiliğinden yaptığı bir devlet teşkilatı ve hükümettir ki onun ismi cumhuriyettir. Artık hükümet ile millet arasında geçmişteki ayrılık kalmamıştır. Hükümet millettir ve millet hükümettir. Artık hükümet ve hükümet üyeleri, kendilerinin millettan ayrı olmadıklarını ve milletin efendi olduğunu tamamen anlamışlardır.”

**Atatürk bu sözünde cumhuriyetin Türk milletine sağladığı aşağıdaki haklardan hangisini vurgulamaktadır?**

- A) Siyasi  
B) Mülkiyet  
C) Ekonomik  
D) Eğitim

17. 1 Temmuz 1926 tarihinde yürürlüğe giren Kabotaj Kanunu ile ülkemizin limanları arasında gemi işletme ve deniz taşımacılığı yapma hakkı Türk vatandaşlarına tanınmıştır.

**Bu durum Atatürk'ün hangi ilkesi ile doğrudan ilişkilidir?**

- A) Laiklik  
B) İnkılapçılık  
C) Cumhuriyetçilik  
D) Milliyetçilik

18. "Türkiye Cumhuriyeti Devleti, Türk vatanında asırlardan beri kişisel ve özel teşebbüslerle yapılamamış olan şeyleri bir an önce yapmak istedi. Kısa bir zamanda yapmayı da başardı."

**Atatürk bu sözle aşağıdaki ilkelerden hangisinin gerekliliğine dikkat çekmektedir?**

- A) Cumhuriyetçilik  
B) Milliyetçilik  
C) Devletçilik  
D) Laiklik

19. Atatürk'ün inkılapçılık anlayışı; toplumun ihtiyaçlarını karşılayamayan, zamana göre geri kalmış kurumların ortadan kaldırılması ve yerine ilerlemeyi, gelişmeyi kolaylaştıracak, toplumun ihtiyaçlarını karşılayacak kurumların kurulması esasına dayanır.

**Buna göre inkılapçılık anlayışı aşağıdakilerden hangisini savunmaz?**

- A) Toplumun ihtiyaçlarını karşılamak için çözümler üretilmesini  
B) Çağın şartlarına uygun kurumların oluşturulmasını  
C) İhtiyaca cevap vermeyen kurumların kaldırılmasını  
D) Verimli olmayan üretim yöntemlerinin devam ettirilmesini

20. "Dünyada ve dünya milletleri arasında sükün ve iyi geçim olmazsa bir millet kendisi için ne yaparsa yapsın huzurdan mahrumdur."

**Atatürk'ün bu sözü, Atatürk ilke ve inkılaplarını oluşturan aşağıdaki hangi temel esas ile ilişkilidir?**

- A) Yurt ve dünya barışı  
B) Vatan ve millet sevgisi  
C) Millî birlik ve beraberlik  
D) Egemenliğin millete ait olması

**21 MAYIS 2017 TARİHİNDE YAPILAN 8. SINIF 2. DÖNEM  
T.C İNKILAP TARİHİ VE ATATÜRKÇÜLÜK DERSİ (MAZERET) MERKEZİ ORTAK SINAVI  
“A” KİTAPÇIĞI CEVAP ANAHTARI**

**T.C İNKILAP TARİHİ VE ATATÜRKÇÜLÜK**

1. A
2. C
3. D
4. D
5. A
6. B
7. C
8. A
9. C
10. B
11. B
12. D
13. B
14. B
15. C
16. A
17. D
18. C
19. D
20. A



T.C.  
MİLLÎ EĞİTİM BAKANLIĞI  
ÖLÇME, DEĞERLENDİRME VE SINAV HİZMETLERİ GENEL MÜDÜRLÜĞÜ

8. SINIF 2. DÖNEM  
DİN KÜLTÜRÜ VE  
AHLAK BİLGİSİ DERSİ  
MERKEZİ ORTAK SINAVI  
(MAZERET)

20 MAYIS 2017

Saat: 11.20

**A**  
KİTAPÇIK TÜRÜ

SORU SAYISI : 20

SINAV SÜRESİ : 40 Dakika

Adı ve Soyadı : .....

Sınıfı : .....

Öğrenci Numarası : .....

### ÖĞRENCİLERİN DİKKATİNE!

1. Sınıf öğrenci yoklama listesinde belirtilen sınıfta ve sıra numarasında oturunuz.
2. Cevap kâğıdındaki kimlik bilgilerinin doğruluğunu kontrol ediniz. Bilgiler size ait değilse veya cevap kâğıdı kullanılmayacak durumdaysa sınav görevlilerine bildirin.
3. Kitapçık türünü cevap kâğıdındaki ilgili alana kodlayınız.
4. Cevap kâğıdı üzerindeki kodlamaları kurşun kalemle yapınız.

**SINAV BAŞLAMADAN ÖNCE  
KİTAPÇIĞIN ARKA KAPAĞINDAKİ  
UYARILARI MUTLAKA OKUYUNUZ.**

DİN KÜLTÜRÜ VE AHLAK BİLGİSİ 2017

## DİN KÜLTÜRÜ VE AHLAK BİLGİSİ

1. Bu testte 20 soru vardır.
2. Cevaplarınızı, cevap kâğıdına işaretleyiniz.

1. Aşağıdaki ifadelerden hangisi zekât ibadeti-  
nin toplumsal yönünü ortaya koymaktadır?

- A) Malın bereketlenmesi ve çoğalmasındır.
- B) Nimetlere karşı bir şükür ifadesidir.
- C) Yardımlaşma ve dayanışmayı yaygınlaştırır.
- D) Malın temizlenmesini sağlar.

2. Osmanlı Dönemi'nde inşa edilen bazı camilerin  
duvarlarında görseldeki gibi kuş evlerinin  
olduğu görülmektedir.



Osmanlı Dönemi'ndeki bu uygulamayı aşı-  
ğıdaki hadislerden hangisinin teşvik ettiği  
söylenebilir?

- A) Her canlıya yapılan iyilikte sevap vardır.
- B) Müslüman, elinden ve dilinden başkalarının  
güvende olduğu kimsedir.
- C) Sizin en hayırlınız insanlara faydalı olanı-  
nızdır.
- D) İşlerin en hayırlısı, az da olsa devamlı  
olanıdır.

3. “Şeytan, içki ve kumarla sizin aranızda düşmanlık  
ve kin sokmak ve sizi Allah’ı anmaktan alıkoymak  
ister. Artık bunlardan vazgeçtiniz değil mi?”  
(Mâide suresi, 91. ayet)

Bu ayetten içki ve kumar ile ilgili aşağıdaki-  
lerden hangisine ulaşamaz?

- A) İnsanların arasını bozabileceğine
- B) İnsanları ibadetlerden uzaklaştırabileceğine
- C) Şeytanın, insanları bu yollarla kötülüğe  
yöneltebileceğine
- D) İnsanların bu alışkanlıkları terk etmekte  
zorlanabileceğine

4. Hz. Yusuf’un hayat hikâyesine bakıldığında  
kardeşlerinin kendisini kıskanması, Mısır ve-  
zirine köle olarak satılması ve bir iftira sonucu  
hapse atılması gibi zor ve sıkıntılı olaylar  
yaşadığı görülmektedir. Bunca olumsuzluğa  
rağmen hayatı boyunca güzel ahlakını korudu-  
ğu bilinmektedir.

Aşağıdakilerden hangisi Hz. Yusuf’un bu  
şekilde davranmasının sebeplerinden biri  
olamaz?

- A) Allah’a olan güveni
- B) Hükümdar olma isteği
- C) İnsanlara duyduğu merhamet
- D) Olaylar karşısındaki sabrı

5. "...Kurbanlardan hem kendiniz yiyin hem de ihtiyacını gizleyen ve gizlemeyen fakirlere yedin..."

(Hac suresi, 36. ayet)

**Bu ayette aşağıdakilerden hangisi öğütlenmektedir?**

- A) Kurbanın bir bölümünün muhtaçlara dağıtılması  
B) Yardım edilen kişinin onurunu incitecek davranışlardan kaçınılması  
C) Hayvanların incitilmeden kurban edilmesi  
D) Kurban ibadetinin zenginler tarafından yerine getirilmesi

6. Hz. Muhammed (sav.) gözleri görmeyen Abdullah b. Ümmi Mektum'u diğer sahabelerden ayırmamıştır. Üstelik ona öğretmenlik görevi vermiş ve bir defasında sefere çıkarken şehirde kendi yerine onu vekil olarak bırakmıştır.

**Bu metinden Hz. Muhammed (sav.) ile ilgili aşağıdakilerin hangisine ulaşamaz?**

- A) Engelli insanlara değer verirdi.  
B) Eğitim ve öğretimi önemserdi.  
C) Gerektiğinde yerine yönetici görevlendirirdi.  
D) Sefere çıkma kararlarını danışarak alırdı.

7. Hz. Muhammed (sav.) önemli her meselede sahabelerin görüşlerine başvurmuştur. Hakkında vahiy bulunmayan konularda ashabının bilgi ve fikirlerinden yararlanmıştı. Pek çok meseleyi onların katkıları ile çözüme kavuşturmuştur. Sahabeler Hz. Peygamber'den daha fazla danışarak iş yapan birini görmediklerini belirtmişlerdir.

**Hz. Muhammed'in (sav.) bu tutumu aşağıdaki ayetlerden hangisi ile ilişkilendirilemez?**

- A) "...İş hakkında onlara danış. Kararını verdiğin zaman da artık Allah'a dayanıp güven..."  
(Âl-i İmrân suresi, 159. ayet)  
B) "...Onların işleri, aralarında danışma ile olur..."  
(Şûrâ suresi, 38. ayet)  
C) "...Sen çağrıya devam et ve emrolunduğun gibi dosdoğru ol..."  
(Şûrâ suresi, 15. ayet)  
D) "...Her ilim sahibinin üstünde daha iyi bilen birisi vardır."  
(Yûsuf suresi, 76. ayet)

8. **Aşağıdaki ayetlerden hangisi Kur'an'ın akli kullanmaya verdiği önemi göstermektedir?**

- A) "Sizden iyiliğe çağırın, doğruluğu emreden ve kötülükten alıkoyan bir topluluk bulunsun..."  
(Âl-i İmrân suresi, 104. ayet)  
B) "Sana bu mübarek kitabı, akıl sahipleri ayetlerini düşünüp öğüt alsınlar diye indirdik."  
(Sâd suresi, 29. ayet)  
C) "...Allah'a güven. Çünkü Allah, kendisine güvenenleri sever."  
(Âl-i İmrân suresi, 159. ayet)  
D) "O, kullarının tövbesini kabul eden, kötülükleri bağışlayan ve yaptıklarınızı bilendir."  
(Şûrâ suresi, 25. ayet)



9. Öğrenciler hac ile ilgili kavramlar hakkında bilmeceler sormaktadır:



**Buna göre aşağıdakilerden hangisi öğrencilerin sorduğu bilmecelerin cevaplarından biri değildir?**

- A) Vakfe                      B) Sa'y  
C) Tavaf                      D) İhram

10. • “Hiç bilenlerle bilmeyenler bir olur mu?”  
(Zümer suresi, 9. ayet)
- “Dünyayı isteyen ilme sarılsın, ahireti isteyen ilme sarılsın, hem dünyayı hem ahireti isteyen yine ilme sarılsın.”  
(Hadis-i Şerif)

**Bu ayet ve hadisten çıkarılacak ortak yargı aşağıdakilerden hangisidir?**

- A) Dünya hayatı bir imtihan alanıdır.  
B) Allah ve Resul'ü ahirete hazırlanmayı emretmektedir.  
C) İslam, öğrenmeyi ve bilimi teşvik eder.  
D) Akıl, Allah'ın insanlara verdiği en büyük nimetlerden biridir.

11. **Aşağıdaki ayetlerden hangisi evrensel bir yasa ile ilişkilendirilemez?**

- A) “Allah size kendi nefislerinizden eşler yarattı, eşlerinizden de sizler için oğullar ve torunlar yarattı ve sizi temiz gıdalarla rızıklandırdı...”  
(Nahl suresi, 72. ayet)
- B) “Güneş'i ışıklı, Ay'ı da parlak kılan, yılların sayısını ve hesabı bilmeniz için ona (Ay'a) birtakım menziller takdir eden O'dur...”  
(Yunus suresi, 5. ayet)
- C) “Bunlar yeryüzünde gezip de kendilerinden öncekilerin sonunun nasıl olduğunu görmediler mi?...”  
(Fâtır suresi, 44. ayet)
- D) “Kullarım sana, beni sorduğunda (söyle onlara): Ben çok yakınım. Bana dua ettiği vakit dua edenin dileğine karşılık veririm.”  
(Bakara suresi, 186. ayet)

12. Bir kişinin iyi Müslüman olduğunu gösteren işaretlere biri de onun lüzumsuz işlerden uzak durmasıdır.

**Hz. Peygamber bu hadis ile aşağıdakilerden hangisini tavsiye etmektedir?**

- A) Hakkı gözetmeyi  
B) Zamanı iyi değerlendirmeyi  
C) Doğru sözlü olmayı  
D) Danışarak iş yapmayı

13. Aşağıdaki ayetlerden hangisi kul hakkı ile ilgili değildir?

- A) "Ancak insanlara zulmedenlere ve yeryüzünde haksız yere taşkınlık edenlere ceza vardır. İşte acıklı azap bunlardır." (Şûrâ suresi, 42. ayet)
- B) "...Ana babaya, akrabaya, yetimlere, yoksullara, yakın komşuya, uzak komşuya ve yakın arkadaşına iyi davranın..." (Nisâ suresi, 36. ayet)
- C) "Muhakkak ki Allah adaleti, iyiliği, akrabaya yardım etmeyi emreder; çirkin işleri, kötülüğü ve azgınlığı yasaklar..." (Nahl suresi, 90. ayet)
- D) "Ey iman edenler! Sabrederek ve namaz kılarak Allah'tan yardım dileyin. Şüphe yok ki Allah sabredenlerle beraberdir." (Bakara suresi, 153. ayet)

14. Öğretmen, öğrencilerden çevre temizliğini ifade eden hadislerden birer afiş hazırlamalarını istemiştir. Aşağıda öğrencilerin hazırladığı afişler verilmiştir.

**Fatma**

Allah temizdir, temiz olanları sever. Öyleyse avlularınızı ve boş alanlarınızı temiz tutun.

**Osman**

Yoldan taş, diken ve kemik gibi rahatsız edici şeyleri uzaklaştırmak sadakadır.

**Betül**

Halkın gelip geçtiği yolları, gölgelendikleri yerleri ve su kaynaklarını kirletmekten sakının.

**Ali**

Allah sizin dış görünüşünüze ve yüzlerinize bakmaz; O, sizin kalplerinize bakar.

Buna göre hangi öğrencinin afişi istenen konu ile ilgili değildir?

- A) Fatma  
B) Osman  
C) Betül  
D) Ali

15. "Mallarını Allah yolunda harcıyıp da arkasından başa kakmayan, fakirlerin gönlünü kırmayan kimselerin Allah katında ödülleri vardır. Onlara korku yoktur ve onlar üzülmeyeceklerdir." (Bakara suresi, 262. ayet)

Zekât ile ilgili bu ayette aşağıdaki sorulardan hangisinin cevabı vardır?

- A) Zekâtı kimler vermelidir?  
B) Zekât nelerden verilmelidir?  
C) Zekât nasıl verilmelidir?  
D) Zekât hangi oranda verilmelidir?

16. Hz. Peygamber, Veda Hutbesi'nde "... Ey insanlar! Rabbiniz birdir, atanız da birdir, hepiniz Âdem'in çocuklarıdır. Âdem ise topraktır. Allah katında en kıymetli olanınız, O'ndan en çok sakınanınızdır. Arap'ın Arap olmayana bir üstünlüğü yoktur." buyurmuştur.

Bu metinden Hz. Peygamber'in aşağıdaki özelliklerinden hangisine ulaşamaz?

- A) Sabırlı olması  
B) İnsana değer vermesi  
C) Hakkı gözetmesi  
D) Uyarıcı olması

17. I. Hiç kimse kendi emeği ile kazandığından daha hayırlı bir lokma yemiştir.  
 II. Komşusu açken tok yatan bizden değildir.  
 III. Hiç kimseye sabırdan daha iyi bir özellik verilmemiştir.  
 IV. Sizden birinin sırtına bir bağ odun yükleyip pazarda satması, dilenmesinden daha hayırlıdır.

**Numaralanmış hadislerden hangileri çalışmanın önemiyle ilgilidir?**

- A) I ve III. B) I ve IV.  
 C) II ve III. D) II ve IV.

18. “Zekât, zenginleri sınamak ve fakirlere destek olmak için farz kılınmıştır. Eğer insanlar mallarının zekâtını verselerdi hiçbir Müslüman, fakir ve muhtaç kalmaz; Allah’ın farz kıldığı bu hakla o da ihtiyaçlarını gidermiş olurdu.”

(Caferi Sadık)

**Bu sözde, zekât ile ilgili aşağıdaki yargıların hangisine değinilmemiştir?**

- A) Allah’ın farz kıldığı bir ibadettir.  
 B) Zenginler için bir imtihandır.  
 C) Yoksulluğun önlenmesinde etkilidir.  
 D) Veren malını bereketlendirir.

19. Mehmet sınıf arkadaşlarına şunları söyledi: “Arkadaşlar, hafta sonu babamla çok güzel bir faaliyete katıldım. Muhtarımız öncülüğünde mahallemizdeki bir şehit ailesini ziyaret ettik. Şehidin yakınlarına hâl ve hatırlarını sorup az da olsa acılarını paylaşmaya çalıştık. Minnet duygumuzu da ifade ettik. Benim için inanılmaz bir tecrübe oldu, çok etkilendim. Bir insanın üzüntüsünü paylaşmanın ve onunla beraber olmanın önemini derinden hissettim. Bundan sonra okulumda ve mahallemde benzer sosyal sorumluluk projeleri hazırlayıp uygulamaya karar verdim. Aranızda bana destek vermek isteyen varsa çok memnun olurum!”

**Bu metinden Mehmet ile ilgili aşağıdakilerin hangisine ulaşılmaz?**

- A) Yardımlaşma konusunda arkadaşlarından katkı beklemektedir.  
 B) Toplumsal dayanışmayı arttıran faaliyetlerde bulunmayı istemektedir.  
 C) Anlaşmazlıkları ortadan kaldırmaya çalışmaktadır.  
 D) İnsanlara yardım etme sorumluluğu taşımaktadır.

20. “Biriniz bir kötülük ile karşılaştığında onu eliyle düzeltsin. Buna gücü yetmiyorsa diliyle düzeltsin. Buna da gücü yetmiyorsa kalbiyle reddetsin.” hadisi kötü alışkanlıkları önlemede öğüt olarak verilebilir.

**Bu metin ile aşağıdaki mesajlardan hangisine ulaşılabilir?**

- A) Kötü alışkanlıkları önlemede devlet gerekli tedbirleri almalıdır.  
 B) Kötü alışkanlıklar karşısında duyarlı olunmalıdır.  
 C) Kötü alışkanlıkları önlemek için iyi bir eğitim verilmelidir.  
 D) Kötü alışkanlıkların akıl ve iradeyi zayıflattığı bilinmelidir.

**TEST BİTTİ.**

**CEVAPLARINIZI KONTROL EDİNİZ.**

**20 MAYIS 2017 TARİHİNDE YAPILAN 8. SINIF 2. DÖNEM  
DİN KÜLTÜRÜ VE AHLAK BİLGİSİ DERSİ MERKEZİ ORTAK (MAZERET) SINAVI  
“A” KİTAPÇIĞI CEVAP ANAHTARI**

**DİN KÜLTÜRÜ VE AHLAK BİLGİSİ**

1. C
2. A
3. D
4. B
5. A
6. D
7. C
8. B
9. A
10. C
11. D
12. B
13. D
14. D
15. C
16. A
17. B
18. D
19. C
20. B



T.C.  
MİLLÎ EĞİTİM BAKANLIĞI  
ÖLÇME, DEĞERLENDİRME VE SINAV HİZMETLERİ GENEL MÜDÜRLÜĞÜ

8. SINIF 2. DÖNEM  
**İNGİLİZCE DERSİ**  
MERKEZİ ORTAK SINAVI  
(MAZERET)

21 MAYIS 2017 Saat: 11.20

**A**  
KİTAPÇIK TÜRÜ

SORU SAYISI : 20  
SINAV SÜRESİ : 40 Dakika

Adı ve Soyadı : .....  
Sınıfı : .....  
Öğrenci Numarası : .....

**ÖĞRENCİLERİN DİKKATİNE!**

1. Sınıf öğrenci yoklama listesinde belirtilen sınıfta ve sıra numarasında oturunuz.
2. Cevap kâğıdındaki kimlik bilgilerinin doğruluğunu kontrol ediniz. Bilgiler size ait değilse veya cevap kâğıdı kullanılmayacak durumdaysa sınav görevlilerine bildirin.
3. Kitapçık türünü cevap kâğıdındaki ilgili alana kodlayınız.
4. Cevap kâğıdı üzerindeki kodlamaları kurşun kalemle yapınız.

**SINAV BAŞLAMADAN ÖNCE  
KİTAPÇIĞIN ARKA KAPAĞINDAKİ  
UYARILARI MUTLAKA OKUYUNUZ.**

İNGİLİZCE 2017

## İNGİLİZCE

1. Bu testte 20 soru vardır.
2. Cevaplarınızı, cevap kâğıdına işaretleyiniz.

**1 - 10. sorularda boş bırakılan yere uygun gelen kelime ya da ifadeyi işaretleyiniz.**

1. **Larry** : Hi, Martin. How can I help you?  
**Martin** : Hi, could ----?  
**Larry** : Sorry. It is broken.

- A) I use your webcam
- B) I speak to Mr. White
- C) you ask him to call me
- D) you please repeat that

2. **Mary** : ----?  
**Linda** : She does all the chores alone.

- A) Who teaches English to your sister
- B) Who do you do your homework with
- C) Who sends the invitations for the party
- D) Who helps your mother with the housework

3. **Alex** : Why do people like extreme sports?  
**Sally** : I think people ----.

- A) often need first-aid kits
- B) like pushing themselves
- C) use appropriate footwear
- D) dislike testing themselves

4. **Amy** : What do you like doing most on your vacations?

**Jane** : I enjoy scuba diving most. I am good at this sport.

**Amy** : How did you learn it?

**Jane** : ----.

- A) I practiced it myself a lot
- B) I was interested in indoor sports
- C) My brother tried, but I didn't like it
- D) My friends weren't into scuba diving

5. **Akın** : My brother injured his foot while performing parkour running.

**Sam** : -----.

- A) That sounds like fun
- B) That is so impressive
- C) I hope to see you there
- D) I hope he feels better soon

7. **My friends love freedom and nature. That's why they -----.**

- A) would rather play chess
- B) prefer white-water rafting
- C) are afraid of rock climbing
- D) are interested in indoor sports

6. **Nilgün** : -----?

**Jane** : I bought souvenirs, tried local dishes and took lots of photographs.

- A) What did you do on your vacation
- B) Who did you go on vacation with
- C) How long did you stay in Ankara
- D) Where did you go last year

8. **Mel** : Can you give me your tablet for a minute? -----.

**Joel** : Of course.

**Mel** : Thank you.

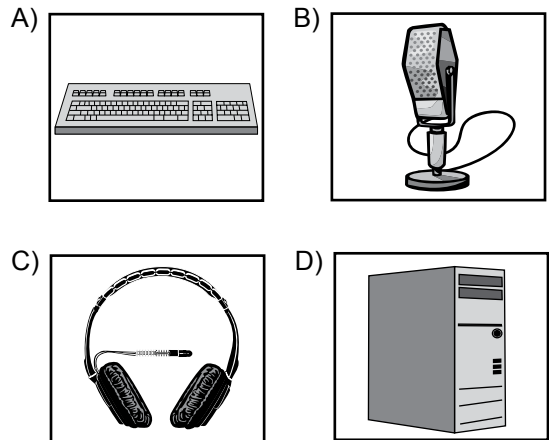
- A) I think it is boring
- B) I believe it is tasty
- C) I hate using your PC
- D) I need to send an email

9. **Tom** : Can I use your laptop? I have a problem with my PC.  
**Gizem** : - - - -. I'm checking my emails at the moment.
- A) Sure  
 B) That's right  
 C) Maybe later  
 D) Yes, you can

11. **Your aunt calls and after a short conversation with you, she wants to speak to your mother. You will get your mother, but she is in the kitchen. How do you tell your aunt to wait for a while on the phone?**
- A) Hold on a minute.  
 B) Pick up the phone.  
 C) Hang up the phone.  
 D) Try to call her again.


10. **Gale** : - - - -?  
**Nina** : I'm not interested in board games.
- A) Why don't you join the chess tournament  
 B) How can we go to the city stadium  
 C) How often do you play soccer  
 D) Why don't we try zorbing

12. "I can't hear well. There is a problem with my headphones." **ifadesindeki nesne aşağıdakilerden hangisidir?**

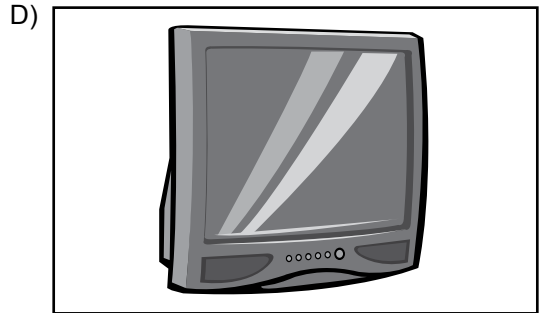






13. "I prefer a vacation at the seaside." ifadesini anlatan görsel aşağıdakilerden hangisidir?



14. "I think texting message is cheaper and faster than other ways of communication." Böyle düşünen bir kişi aşağıdakilerden hangisini tercih eder?



**15 - 17. soruları aşağıda verilen metne göre cevaplayınız.**

Hi! I'm David. Everyone has different responsibilities in my family. For example, I'm responsible for making my bed, taking out the garbage, tidying up my room and feeding the cat every day. But when I'm busy with my exams, my mother does these chores. My father always does the grocery shopping, sets the table and loads the dishwasher after dinner every day. On weekends, he also sweeps the leaves in the garden and waters the plants. My mother cooks the meals and cleans the house except on Saturday and Sunday nights because she watches her favorite TV serials on these days. In my opinion, family members should share their responsibilities because this will make our lives easier.

**15. David - - - - .**

- A) never helps his parents at home
- B) prefers cooking to making his bed
- C) has to water the plants on weekends
- D) thinks everyone should share the chores

**16. David's father - - - - .**

- A) sweeps the leaves in the garden every day
- B) hardly ever does the grocery shopping
- C) loads the dishwasher in the evenings
- D) never sets the table on weekdays

**17. David's mother - - - - .**

- A) does all the household chores alone
- B) does David's chores when he has exams
- C) watches her popular TV shows every day
- D) always takes the garbage out after dinner

**18 - 20. soruları aşağıda verilen metne göre cevaplayınız.**



Aylin

All my classmates are members of some social networking sites. They are usually online. They share some photos, check their messages and keep in touch with each other. These sites are sometimes good for communication but not always. My friends always forget their responsibilities because they spend lots of time on the Net and they argue with their parents and teachers. I don't use any social networking sites because I don't like them.

**18. Aylin - - - - .**

- A) dislikes using social networking sites
- B) has some problems with her parents
- C) always forgets doing her homework
- D) contacts her classmates on the Net

**19. Aylin's friends have some problems with their parents because they - - - - .**

- A) argue with their friends on the Net
- B) always know their responsibilities
- C) communicate with their teachers
- D) spend too much time on the Net

**20. Which one is TRUE about the text?**

- A) Aylin has some problems with her teachers.
- B) Aylin always shares photos on the Net.
- C) Aylin's friends forget doing their duties.
- D) Aylin's friends rarely access the Net.

**21 MAYIS 2017 TARİHİNDE YAPILAN 8. SINIF 2. DÖNEM  
İNGİLİZCE DERSİ MERKEZİ ORTAK SINAVI (MAZERET)  
“A” KİTAPÇIĞI CEVAP ANAHTARI**

**İNGİLİZCE**

1. A
2. D
3. B
4. A
5. D
6. A
7. B
8. D
9. C
10. A
11. A
12. C
13. B
14. C
15. D
16. C
17. B
18. A
19. D
20. C