



T.C.
MİLLÎ EĞİTİM BAKANLIĞI
ÖLÇME, DEĞERLENDİRME VE SINAV HİZMETLERİ GENEL MÜDÜRLÜĞÜ

8. SINIF 2. DÖNEM
TÜRKÇE DERSİ
MERKEZİ ORTAK SINAVI
26 NİSAN 2017 Saat: 09.00

A
KİTAPÇIK TÜRÜ

SORU SAYISI : 20
SINAV SÜRESİ : 40 Dakika

Adı ve Soyadı :
Sınıfı :
Öğrenci Numarası :

ÖĞRENCİLERİN DİKKATİNE!

1. Sınıf öğrenci yoklama listesinde belirtilen sınıfta ve sıra numarasında oturunuz.
2. Cevap kâğıdındaki kimlik bilgilerinin doğruluğunu kontrol ediniz. Bilgiler size ait değilse veya cevap kâğıdı kullanılmayacak durumdaysa sınav görevlilerine bildirin.
3. Kitapçık türünü cevap kâğıdındaki ilgili alana kodlayınız.
4. Cevap kâğıdı üzerindeki kodlamaları kurşun kalemle yapınız.

**SINAV BAŞLAMADAN ÖNCE
KİTAPÇIĞIN ARKA KAPAĞINDAKİ
UYARILARI MUTLAKA OKUYUNUZ.**

TÜRKÇE 2017

TÜRKÇE

1. Bu testte 20 soru vardır.
2. Cevaplarınızı, cevap kâğıdına işaretleyiniz.

1. “Bırakmak” sözcüğü aşağıdakilerin hangisinde “Bir işi başka zamana ertelemek” anlamında kullanılmıştır?

- A) Kazandığının bir kısmını kenara bırakırsan rahat edersin.
- B) Dünkü toplantıda, görevi kardeşine bıraktığını açıkladı.
- C) Yağmurdan dolayı, gezmeyi haftaya bıraktık.
- D) Yirmi üç yıldır yaptığı kuyumculuğu bıraktı.

2. Çocuk kitaplarına oldum olası meraklıydım. Çocukken meraklı olmam normaldi. Ancak yetişkinlik dönemlerimde de bu merak devam etti. Küçük zihinlerde büyük evrenler kuran bu kitapların kudretine inanarak onları okumayı sürdürdüm. Bu sayede kendimi bazen Ay’da bir konakta, bazen de Mars’ta bir çiftliğin ortasında bulurdum.

Bu metindeki altı çizili kelime grubuyla çocuk kitaplarının hangi yönü belirtilmiştir?

- A) Hayatı sevdirmesi
- B) Hayal dünyasını zenginleştirilmesi
- C) Öğreticilik yanının ağır basması
- D) Okuma isteğini artırması

3. Karşımda, bin metre aşağıda İskenderun Ovası, soluk almaya hâli ve niyeti olmadan güneş altında dümdüz yatıyor. Aşağısı bana bir seyahat romanındaki Afrika çölünü andırıyor.

Bu metinde aşağıdaki söz sanatlarından hangileri vardır?

- A) Konuşturma - Abartma
- B) Kişileştirme - Benzetme
- C) Abartma - Kişileştirme
- D) Benzetme - Konuşturma

4. Büyük yazarlar eserlerini okurlarına emanet bırakarak ayrılırlar dünyadan. Varlıklarını, eserlerinden yükselen sesleriyle sürdürürler. Asırları aşan bir eser her okunuşta yeni anlamlar kazanır, olgunlaşır, daha da büyür. Bir fidansa ağaca, ağaçsa ormana dönüşür zamanla.

Bu metindeki altı çizili cümleyle anlatılmak istenen aşağıdakilerden hangisidir?

- A) Uzun yıllar elden düşmeyen eserlerin çok değerli olduğu
- B) Edebî eserleri farklı bakış açılarıyla değerlendirmek gerektiği
- C) Bazı eserlerin anlatılmak istediklerinin sonradan anlaşıldığı
- D) Eserlerin, okurun elinde gün geçtikçe gelişip zenginleştiği

5. “İnsan dar yerde geniş düşünemez.” derler. Her kim söylediye doğru söylemiş. Belki de beton yapılar içinde renkli oyuncaklarla oynayan insanın hayal dünyası bu yüzden zengin değildir.

Bu metindeki altı çizili cümlede aşağıdaki anlam özelliklerinden hangisi vardır?

- A) Onaylama
B) Beklenti
C) Öneri
D) Karşılaştırma

6. (I) Çevremizde birçok ağaç var. (II) Dişbudak, meşe, yalancı akasya, ıhlamur, elma, erik, kiraz bunlardan bazıları. (III) Bu ağaçları özellikle sonbaharda incelemek ilginç olabilir. (IV) Sonbaharda ağaçlar rengârenktir çünkü. (V) Bu renk cümbüşü, doğayı keşfetmesi için insanı kendisine çeker.

Bu metinde numaralanmış cümlelerin hangisi kendisinden önceki cümlelerin gerekçesi durumundadır?

- A) II. B) III. C) IV. D) V.

7. Kapak resimleri kitabın ayrılmaz bir parçasıdır. Her kapak resminin söylediği bir şey vardır ve eserin iç dünyasına ait bir şeydir bu. Ayrıca kitabın kapağı, okur rafta kitabı ilk gördüğünde eline alıp incelemesi için onda dayanılmaz bir istek uyandırır. Çoğu okur, okuduğu kitabın yazarını hatırlamayabilir ama kapağı iyi tasarlanmış bir kitabı asla unutmaz. Bunlardan dolayı kapak resimlerinin iyi tasarlanması gerektiğine inanıyorum.

Bu metinden “kapak resimleri” ile ilgili aşağıdakilerden hangisi çıkarılamaz?

- A) Tasarlarken okurların fikirlerini dikkate almak gerektiği
B) İyi hazırlanmasının, kitabın akılda yer etmesini sağladığı
C) Kitabın içeriği ile ilgili ipuçları taşıdığı
D) Okuyucuyu kitaba yönlendiren önemli bir etken olduğu

8. Hayata bir ıslık çal, neşeli bir şarkı tut. Sen vazgeçmezsen vazgeçmez senden umut. Karanlıktan bakma hiç, güneş her gün doğuyor. Kalbin ısınsın diye bunca yolu yürüyor.

Bu dizelere hâkim olan duygu aşağıdakilerden hangisidir?

- A) Özlem
B) Yaşama sevinci
C) Doğa sevgisi
D) Sitem

9. (I) Bir eserden etkilenmemiz için yaratıcısının hayatta olması gerekmiyor. (II) Da Vinci çoktan aramızdan ayrılmış olsa bile ünlü tablosu "Mona Lisa" esrarlı gülümsemesiyle bize bakıyor hâlâ. (III) Torunlarımıza ve onların torunlarına da taşıyacak aynı ifadeyi. (IV) Ete kemiğe bürünüp Yunus diye görünen ulu ozanımızın sesinin Anadolu'yu dolaşmaya devam etmesi de bunun ispatıdır.

Bu metnin ana düşüncesi numaralanmış cümlelerin hangisinde verilmiştir?

- A) I. B) II. C) III. D) IV.

10. Türklerin bin üç yüz yıl önce yaşadığı muhteşem bir serüvenin tanığıydı Orhun Kitabeleri. Bilge bir kağanın ve güngörmüş bir vezirin, halkına ve gelecek kuşaklara çağrısıydı. "Türk" adının ilk kez kullanıldığı Türkçe metinlerdi bunlar ve Göktürlere ait bir alfabeyle yazılmıştı. Kitabelerin bulunması ve okunması, bozkır toplumları hakkında o güne dek bilinenleri altüst etti. Göçebelerin yazı kullanmadıkları ve dolayısıyla kültürel zenginliklerinin olmadığı inancı sarsıldı.

Bu metinde "Orhun Kitabeleri" ile ilgili aşağıdakilerden hangisine değinilmemiştir?

- A) Türklerin tarihine dair bilgiler verdiğine
B) Günümüzdeki durumuna
C) Yöneticilerin mesajlarını içerdiğine
D) Göçebelerle ilgili bilgileri değiştirdiğine

11. I. Çok uzaklarda bir orman vardı eskiden. Bu ormandaki koca koca ağaçlar en yüksek kuleleri, en yüksek gökdelenleri bile gölgede bırakırdı. Uçurtmalar bile aşamazdı boylarını, ağaçlar göğe kadar uzanır giderdi.
II. Uzaklardan bakan küçük çocuklar, bu ağaçların tepesine tırmananların, ellerini uzatınca yıldızları tutabileceklerini sanırlardı. Ama kimsecikler tırmanamazdı o ağaçlara.
III. Oysa ormanın içinde korkmadan dolaşan bir adam vardı; yıllardan beri burada yaşardı, alışmıştı. En sık ağaçların arasında bir kulübede otururdu.
IV. Ağaçlara tırmanmak şöyle dursun, ormana girmeyi bile göze alamazlardı. Bir ürperti sarardı her yanlarını, korkarlardı.

Numaralanmış parçalarla anlamlı bir metin oluşturmak için hangileri yer değiştirmelidir?

- A) I ve II. B) II ve III.
C) II ve IV. D) III ve IV.

12. Şimdiki kuşak gergin bir yaşam sürmeye çok mu fazla alıştı acaba? Bu sorunun cevabını ben de sizin kadar merak ediyorum. Birçok insan bu gerginliği hissetmezse kendisini mutlu saymıyor. Atalarımız ve babalarımız doğayla iç içe yaşadığı için gerginlikten uzaktı. Siz ne düşünürsünüz bilmem ama yeni kuşak bundan neredeyse hiç haz almıyor. Yaşam tempoları o kadar hızlı ki vücutlarını dinlendirip huzura kavuşmaya, sakinleşmeye vakit bulamıyor.

Bu metin aşağıdaki türlerden hangisine örnektir?

- A) Sohbet
B) Makale
C) Gezi yazısı
D) Anı

13. (I) Günümüzde karşılaştığımız birçok şey genleri değiştirilmiş bitki veya bakterilerden geliyor olabilir. (II) Hızla büyüyen somon balıkları, aşı üreten muzlar, karanlıkta parlayan kediler genleri değiştirilen canlılardan yalnızca birkaçı. (III) Şimdiye kadar canlıların genellikle bir veya iki geni değiştiriliyordu. (IV) Artık, bazı bilim insanları amaçlarına ulaşmak için büyük genetik değişimler yapmaya çalışıyor. (V) Yosunları otomobillere yakıt üretecek hâle getirmek gibi...

Bu metinde numaralanmış cümlelerin hangilerinde örneklemeye başvurulmuştur?

- A) I ve II. B) II ve V.
C) III ve IV. D) IV ve V.

14. Olduğum yerde duramıyordum. Dünya, gözlerimin önünde dönüyordu. Geminin gövdesine kırbaç gibi köpüre köpüre çarpan dalgalar yüzünden sallana sallana ilerliyorduk. Evet, artık iyi bir denizci sayılırdım ama böyle boş bir şişe gibi sallanmak hiç alışamadığım bir şeydi.

Bu metnin dil ve anlatımıyla ilgili aşağıdakilerden hangisi söylenemez?

- A) Kişileştirmeye başvurulmuştur.
B) Özne ifadelerden yararlanılmıştır.
C) Benzetmeler yapılmıştır.
D) İkilemelere yer verilmiştir.

15. **Aşağıdaki metinlerin hangisinde anlatım üçüncü kişi ağzıyla yapılmıştır?**

- A) Bütün gün ya bir köşede oturuyor yahut dalgın dalgın dolaşıyordum. Cansız ve neşesiz...
B) Rahmetli Üstat, basındaki hatta edebiyat dilindeki yanlışları acaba nasıl bir dehşetle karşılardı? Yazı masama oturmadan önce aklımı bu düşünce kurcalıyordu.
C) Aynaya sırtını döndü. Üzerindeki narçiçeği rengi ceketi çıkarıp sandalyenin arkasına geçirdi.
D) Ben her şeyi biliyordum. O zamanlar, karanlıkta sırtüstü yattığım anlarda, bütün bunları bir bir kendime mırıldandım.

16. **Aşağıdaki cümlelerin hangisinde yer tamlayıcısı vurgulanmıştır?**

- A) Söyleyecek sözü kalmayınca kimseye elveda demeden uzaklaştı.
B) Başımı yastığa her koyduğumda güzel hayaller düşünceme uğrar.
C) Güneş batıp akşam olunca evin yolunu kaybettiğimizi anladık.
D) Yalnızlığı seven insanlara bu şehir huzur veriyor.

17. Aşağıdakilerin hangisinde fiilin nesnesine göre çatı özelliği yay ayraç içinde yanlış verilmiştir?

- A) Ünlü sporcu, sosyal medya aracılığıyla mesajını binlerce kişiye iletti. (Geçişli)
- B) “Bir Tutam Mutluluk” adlı kitap, renkli ve eğlenceli kapağıyla beğeniliyor. (Geçişsiz)
- C) İnsanlar günümüzde başkalarına yardım etmekten korkuyor. (Geçişli)
- D) Takımımız, şampiyonluk yolunda emin adımlarla ilerliyor. (Geçişsiz)

18. Bu ay dergimizde yeni bir köşe var () Sihirli Salıncak () Çeşitli sorunların tartışılacağı bu köşede başlangıcı “Bir çocuk kitabı nasıl olmalı ()” gibi gayet riskli bir sorunun peşinden salıncağımıza binip kanatlarımızı açarak yapacağız ()

Bu metinde yay ayraçla gösterilen yerlere sırasıyla aşağıdaki noktalama işaretlerinden hangileri getirilmelidir?

- A) (;) (.) (...) (.)
- B) (;) (...) (...) (!)
- C) (;) (.) (?) (.)
- D) (;) (...) (?) (!)

19. (I) İçinden deniz geçiyorsa yüzlerce kez teşekkür etmelisiniz yaşadığınız şehre. (II) Bu teşekkürü en çok hak eden şehirlerden biri de İstanbul’dur. (III) Gün batımında kızıla boyanan Boğaz suları, İstanbul’u bir masal mekânına dönüştürür. (IV) Bu şehirde hayat bu yüzden çok güzeldir.

Bu metinde numaralanmış cümlelerle ilgili aşağıdakilerden hangisi yanlıştır?

- A) I. cümle devriktir.
- B) II. cümle isim cümlesidir.
- C) III. cümle içinde fiilimsi olan cümledir.
- D) IV. cümle birden çok yüklemlidir.

20. Aşağıdaki cümlelerin hangisinde yazım yanlışı yoktur?

- A) Kütahya’ya giderken yakıtı bittiği için yol da kaldı.
- B) Ya sunumunu hazırlarsın yada toplantıya katılamazsın.
- C) Bana kalırsa kardeşime yirmi lirada yeter.
- D) Aylarca sulamasan da bu çiçek yine solmaz.

TEST BİTTİ.

CEVAPLARINIZI KONTROL EDİNİZ.

**26 NİSAN 2017 TARİHİNDE YAPILAN 8. SINIF 2. DÖNEM
TÜRKÇE DERSİ MERKEZİ ORTAK SINAVI
“A” KİTAPÇIĞI CEVAP ANAHTARI**

TÜRKÇE

1. C
2. B
3. B
4. D
5. A
6. C
7. A
8. B
9. A
10. B
11. D
12. A
13. B
14. A
15. C
16. B
17. C
18. C
19. D
20. D



T.C.
MİLLÎ EĞİTİM BAKANLIĞI
ÖLÇME, DEĞERLENDİRME VE SINAV HİZMETLERİ GENEL MÜDÜRLÜĞÜ

8. SINIF 2. DÖNEM
MATEMATİK DERSİ
MERKEZİ ORTAK SINAVI
26 NİSAN 2017 Saat: 10.10

A
KİTAPÇIK TÜRÜ

SORU SAYISI : 20
SINAV SÜRESİ : 40 Dakika

Adı ve Soyadı :
Sınıfı :
Öğrenci Numarası :

ÖĞRENCİLERİN DİKKATİNE!

1. Sınıf öğrenci yoklama listesinde belirtilen sınıfta ve sıra numarasında oturunuz.
2. Cevap kâğıdındaki kimlik bilgilerinin doğruluğunu kontrol ediniz. Bilgiler size ait değilse veya cevap kâğıdı kullanılmayacak durumdaysa sınav görevlilerine bildirin.
3. Kitapçık türünü cevap kâğıdındaki ilgili alana kodlayınız.
4. Cevap kâğıdı üzerindeki kodlamaları kurşun kalemle yapınız.

**SINAV BAŞLAMADAN ÖNCE
KİTAPÇIĞIN ARKA KAPAĞINDAKİ
UYARILARI MUTLAKA OKUYUNUZ.**

MATEMATİK 2017

MATEMATİK

1. Bu testte 20 soru vardır.
2. Cevaplarınızı, cevap kâğıdına işaretleyiniz.

1. Aşağıdakilerden hangisi $6x^2 \cdot y$ cebirsel ifadesine özdeştir?

- A) $2y \cdot 4x$ B) $2x^2 \cdot 4y$
C) $2y^2 \cdot 3x$ D) $3x^2 \cdot 2y$

2. $a = 2$, $b = 3$ ve $c = 5$ olduğuna göre 180 sayısının a , b , c cinsinden ifadesi aşağıdakilerden hangisidir?

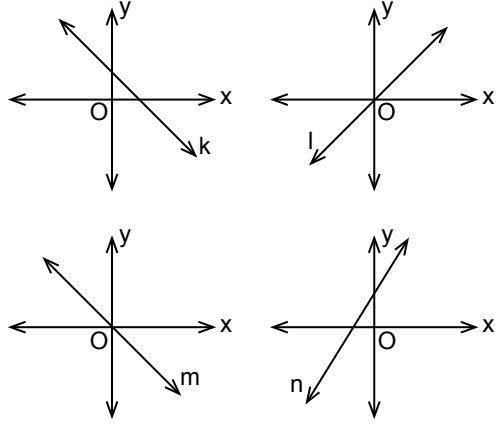
- A) $a^2 \cdot b^2 \cdot c$ B) $a \cdot b^2 \cdot c$
C) $a^2 \cdot b \cdot c$ D) $a^2 \cdot b^2 \cdot c^2$

3. Kenarlarından birinin uzunluğu $\sqrt{44}$ cm olan bir dikdörtgenin alanı santimetrekare cinsinden bir doğal sayıdır.

Buna göre bu dikdörtgenin diğer kenarının uzunluğu santimetre cinsinden aşağıdakilerden hangisi olamaz?

- A) $\sqrt{11}$ B) $\sqrt{33}$ C) $\sqrt{99}$ D) $\sqrt{176}$

4.



Yukarıda verilen doğrulardan hangilerinin eğimi negatiftir?

- A) k ve l B) l ve m
C) k ve m D) l, m ve n

5. Çevresi $\sqrt{162}$ cm olan bir üçgenin kenar uzunluklarından ikisi $\sqrt{8}$ cm ve $\sqrt{18}$ cm olduğuna göre diğer kenarının uzunluğu kaç santimetredir?

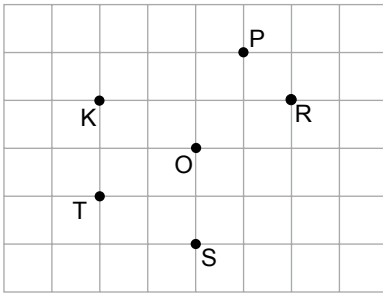
- A) $\sqrt{8}$ B) $\sqrt{32}$ C) $\sqrt{128}$ D) $\sqrt{136}$

6. Renkleri dışında aynı özelliklere sahip 12 top bir torbaya atılıyor.

Torbadan rastgele çekilen bir topun mavi olma olasılığı $\frac{1}{3}$ olduğuna göre bu torbada mavi renkte olmayan kaç top vardır?

- A) 2 B) 3 C) 6 D) 8

7.



Kareli kâğıt üzerinde verilen K noktasının, O noktası etrafında döndürülmesiyle oluşan görüntülerinden biri aşağıdakilerden hangisi olamaz?

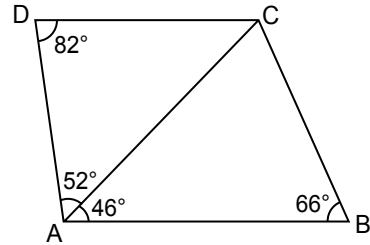
- A) P B) R C) S D) T

8. Renkleri dışında aynı özelliklere sahip 5 mavi, 6 beyaz, 3 turuncu ve 5 sarı bilyenin bulunduğu torbadan rastgele bir bilye çekilecektir.

Buna göre hangi renk bilyenin çekilme olasılığı en azdır?

- A) Mavi B) Turuncu
C) Beyaz D) Sarı

9.

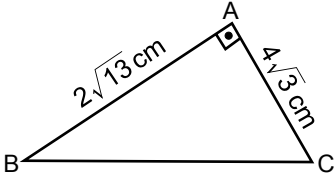


Şekildeki ABCD dörtgeninde; $m(\widehat{CAB}) = 46^\circ$, $m(\widehat{ABC}) = 66^\circ$, $m(\widehat{CDA}) = 82^\circ$ ve $m(\widehat{DAC}) = 52^\circ$ dir.

Buna göre aşağıdakilerin en uzun hangisidir?

- A) [AB] B) [BC] C) [CD] D) [DA]

10.



Şekilde verilen ABC dik üçgeninde $[AB] \perp [AC]$ 'tir.

$|AB| = 2\sqrt{13}$ cm ve $|AC| = 4\sqrt{3}$ cm olduğuna göre $|BC|$ kaç santimetredir?

- A) 2 B) $\sqrt{38}$ C) $2\sqrt{10}$ D) 10

11. $(3x + 7) \cdot (4x - 2)$ işleminin sonucu olan cebirsel ifadede x 'in katsayısı kaçtır?

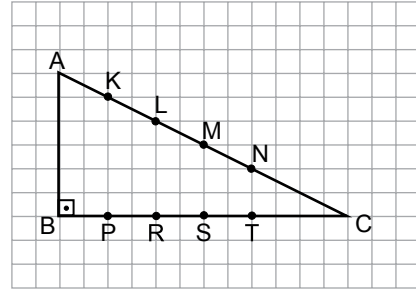
- A) -14 B) -12 C) 22 D) 34

12. $x^2 + ax + 64$ cebirsel ifadesi bir tam kare ifade olduğuna göre a aşağıdakilerden hangisi olabilir?

- A) 4 B) 8 C) 16 D) 32

ÖLÇME, DEĞERLENDİRME VE SINAV HİZMETLERİ GENEL MÜDÜRLÜĞÜ (ÖDSGM)

13.



Yukarıdaki kareli zeminde verilen K, L, M, N noktalarından biri ile P, R, S, T noktalarından birinin bir doğru parçası ile birleştirilmesi sonunda bir köşesi C olan üçgen elde ediliyor.

Aşağıdakilerin hangisinde verilen iki nokta birleştirildiğinde elde edilen üçgen ile ABC üçgeninin benzerlik oranı $\frac{2}{3}$ olur?

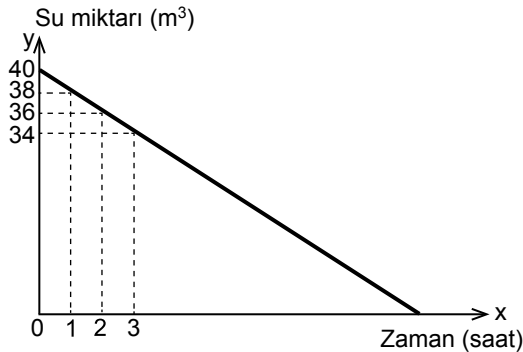
- A) K ile P B) L ile R
C) M ile S D) N ile T

14. Aşağıda denklemleri verilen doğrulardan hangisi, denklemleri $y = 3 - x$ olan doğru ile y eksenini üzerindeki bir noktada kesişir?

- A) $y = 3x + 3$ B) $y = 2 - 3x$
C) $y = 2x + 1$ D) $y = x + 2$

15. Tamamı dolu iken boşaltma musluğu açılan bir depoda bulunan su miktarının zamana göre değişimini gösteren grafik aşağıda verilmiştir.

Grafik: Depodaki Su Miktarının Zamana Göre Değişimi



Buna göre aşağıdaki ifadelerden hangisi yanlıştır?

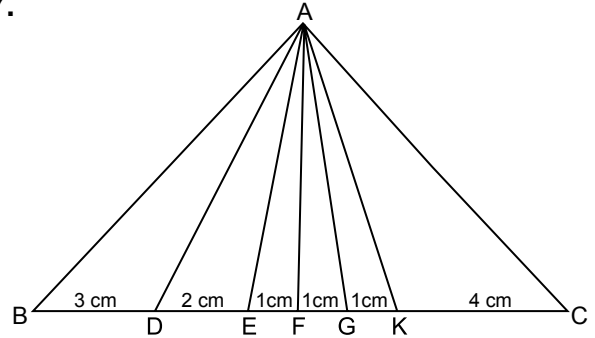
- A) Depo en fazla $40 m^3$ su almaktadır.
B) 10 saat sonunda depodaki suyun yarısı boşalır.
C) Grafik x eksenini kestiğinde depoda $2 m^3$ su kalır.
D) 13 saat sonunda depoda $14 m^3$ su kalır.

16.
$$\begin{cases} 2x + y = 3 \\ 3x + 2y = 6 \end{cases}$$
 denklemler sisteminin çözümü aşağıdakilerden hangisidir?

- A) (0,2) B) (1,1)
C) (4, -3) D) (0,3)

ÖLÇME, DEĞERLENDİRME VE SINAV HİZMETLERİ GENEL MÜDÜRLÜĞÜ (ÖDSGM)

- 17.



Yukarıdaki ABC üçgeninde BC kenarı üzerinde ayrılan parçaların uzunlukları verilmiştir.

$|AB| = |AC|$ olduğuna göre ABC üçgeninin BAC açısına ait açıortayı aşağıdakilerden hangisidir?

- A) [AE] B) [AF] C) [AG] D) [AK]

18. “Elif’in yaşının 3 katının 4 eksiği 26’dan küçüktür.”

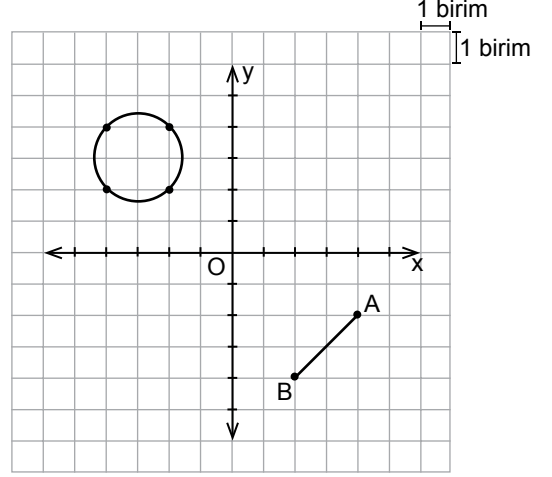
x, Elif’in yaşını göstermek üzere yukarıdaki ifadeye uygun eşitsizlik aşağıdakilerden hangisidir?

- A) $3x - 4 < 26$ B) $3x - 4 \leq 26$
C) $3x - 4 > 26$ D) $3x - 4 \geq 26$

19. $2y = -5x + 2$ denkleminde, **x değişkeninin y değişkeni cinsinden ifadesi aşağıdakilerden hangisidir?**

- A) $x = \frac{2y - 2}{5}$ B) $x = \frac{-2y + 2}{5}$
C) $x = -\frac{2y}{5} + 2$ D) $x = \frac{2y}{5} - 2$

20. Aşağıdaki koordinat sisteminde AB doğru parçası ile bir çember verilmiştir.



Buna göre AB doğru parçasına aşağıdakilerden hangisi uygulanırsa oluşacak görüntü, verilen çemberin çapı olur?

- A) x eksenine göre yansıtıp orijin etrafında saat yönünde 90° döndürme
B) Orijin etrafında saat yönünde 90° döndürüp y eksenine göre yansıtma
C) y eksenine göre yansıtıp 6 birim yukarı öteleme
D) 5 birim sola, 3 birim yukarı öteleme

**TEST BİTTİ.
CEVAPLARINIZI KONTROL EDİNİZ.**

**26 NİSAN 2017 TARİHİNDE YAPILAN 8. SINIF 2. DÖNEM
MATEMATİK DERSİ MERKEZİ ORTAK SINAVI
“A” KİTAPÇIĞI CEVAP ANAHTARI**

MATEMATİK

1. D
2. A
3. B
4. C
5. B
6. D
7. C
8. B
9. A
10. D
11. C
12. C
13. B
14. A
15. C
16. D
17. B
18. A
19. B
20. C



T.C.
MİLLÎ EĞİTİM BAKANLIĞI
ÖLÇME, DEĞERLENDİRME VE SINAV HİZMETLERİ GENEL MÜDÜRLÜĞÜ

8. SINIF 2. DÖNEM
FEN BİLİMLERİ DERSİ
MERKEZİ ORTAK SINAVI
27 NİSAN 2017 Saat: 09.00

A
KİTAPÇIK TÜRÜ

SORU SAYISI : 20
SINAV SÜRESİ : 40 Dakika

Adı ve Soyadı :
Sınıfı :
Öğrenci Numarası :

ÖĞRENCİLERİN DİKKATİNE!

1. Sınıf öğrenci yoklama listesinde belirtilen sınıfta ve sıra numarasında oturunuz.
2. Cevap kâğıdındaki kimlik bilgilerinin doğruluğunu kontrol ediniz. Bilgiler size ait değilse veya cevap kâğıdı kullanılmayacak durumdaysa sınav görevlilerine bildirin.
3. Kitapçık türünü cevap kâğıdındaki ilgili alana kodlayınız.
4. Cevap kâğıdı üzerindeki kodlamaları kurşun kalemle yapınız.

**SINAV BAŞLAMADAN ÖNCE
KİTAPÇIĞIN ARKA KAPAĞINDAKİ
UYARILARI MUTLAKA OKUYUNUZ.**

FEN BİLİMLERİ 2017

FEN BİLİMLERİ

1. Bu testte 20 soru vardır.
2. Cevaplarınızı, cevap kâğıdına işaretleyiniz.

1. Hücrelerde besinler parçalanarak enerji elde edilir.

Bu olay

- I. Bir hücreli canlılar
- II. Hayvanlar
- III. Bitkiler

gruplarından hangilerinde gerçekleştirilir?

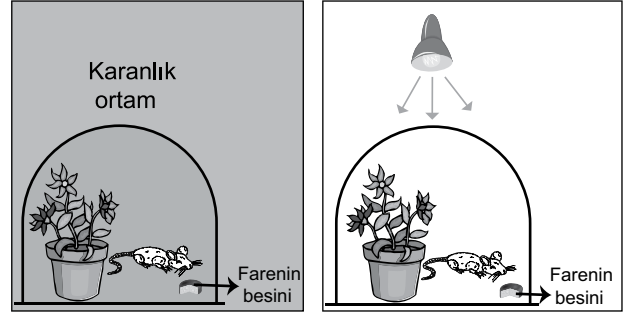
- A) Yalnız I B) Yalnız II
C) Yalnız III D) I, II ve III.

2. Fotosentez yapan su yosunlarının yer aldığı bir ekosistemde, somon balıkları su yosunlarıyla beslenen sinek larvalarını yemektedir. Bu ortamdaki canlıların atıkları ve ölü organizmaları bakteriler tarafından parçalanmaktadır.

Bu ekosistemdeki beslenme ilişkileri ile ilgili olarak aşağıdakilerden hangisi yanlıştır?

- A) Somon balıkları, ikincil tüketicidir.
B) Su yosunları, üretici basamağında yer alır.
C) Bakteriler, yalnızca su yosunlarıyla beslenmektedir.
D) Somon balıklarının artması, sinek larvalarının azalmasına neden olabilir.

3. Bir öğrenci cam fanus, bitki, fare ve besinler kullanarak karanlık ortamda hazırladığı aşağıdaki özdeş düzeneklerden birini lamba ile aydınlatıyor.



Aydınlık ortamdaki farenin daha uzun süre yaşadığını gözlemliyor.

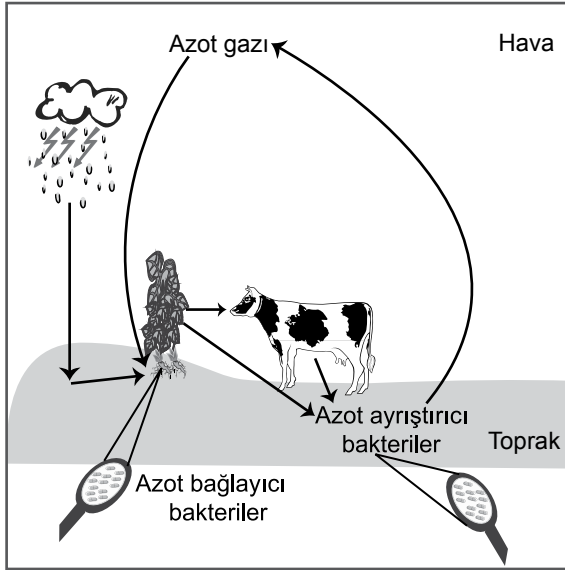
Öğrenci bu deneyle ilgili olarak

- I. Bitkiler karanlık ortamda solunum yapamaz.
- II. Bitkiler yapay ışıkta fotosentez yapabilir.
- III. Fotosentez sonucunda oksijen gazı oluşur.

çıkarımlarından hangilerine ulaşabilir?

- A) Yalnız I B) I ve II.
C) II ve III. D) I, II ve III.

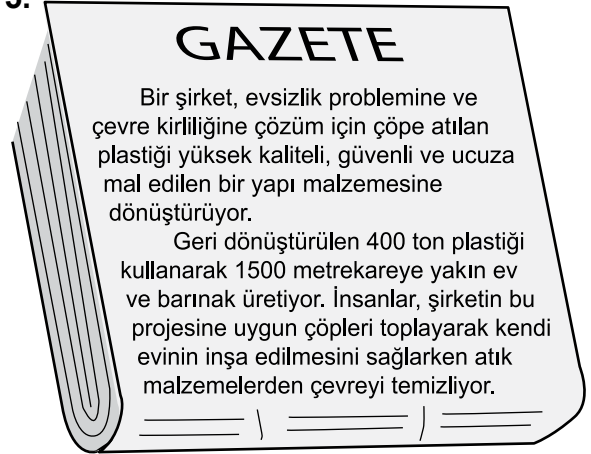
4. Doğadaki azot döngüsü şekilde gösterilmiştir.



Bu döngü ile ilgili olarak aşağıdakilerden hangisi yanlıştır?

- A) Azot bağlayıcı bakteriler, atmosferdeki serbest azotu bağlayarak azotlu bileşiklere dönüştürebilir.
- B) Şimşek ve yıldırım gibi bazı olaylar havadaki azotun, azotlu bileşiklere dönüştürülmesinde rol oynayabilir.
- C) Otçul beslenen canlı, azot ihtiyacını bitkilerden karşılar.
- D) Doğadaki tüm canlılar atmosfere azot gazı verir.

5.



Bu gazete haberine göre aşağıdakilerden hangisine ulaşamaz?

- A) Evsel atıkların tamamı kullanılarak daha dayanıklı ürünler elde edilmiştir.
- B) Çevre kirliliği engellenerek kaynaklar tasarruflu kullanılmıştır.
- C) Geri dönüşüm ile daha ucuz inşaat malzemeleri üretilmiştir.
- D) Plastik atıklar toplanarak geri dönüşüm yapılmıştır.

6. Birçok canlı türünde uygulanan biyoteknolojik yöntemlerle genetiği değiştirilmiş mısır tohumları elde edilmiştir. Bu tohumların yetiştirildiği yere yakın ortamlarda, bu uygulamanın yapılmadığı başka mısır bitkilerinden oluşan tohumların da genetiğinin değiştiği gözlenmiştir.

Bu açıklama doğrultusunda,

- I. Biyoteknoloji çalışmaları yalnızca mısır bitkisi üzerinde gerçekleştirilmektedir.
- II. Genetiği değiştirilmiş mısır bitkileri ile etrafındaki diğer mısır bitkileri arasında biyoteknolojik yöntem kullanılmadan da genetik madde aktarımı gerçekleşebilir.
- III. Genetiği değiştirilmiş canlılar, çevrelerindeki diğer canlı türlerinin genetik yapısını yalnızca beslenme yoluyla etkiler.

çıkarımlarından hangilerine ulaşılabilir?

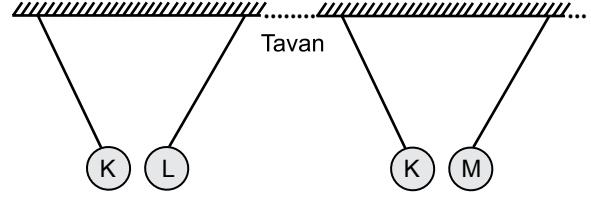
- A) Yalnız II
- B) Yalnız III
- C) I ve III.
- D) II ve III.

7. Bilim insanları, Güneş'te oluşan patlamaların ışığını gözleyebilirken patlamalarda ortaya çıkan sesleri duyamamaktadırlar.

Bu durumun nedeni aşağıdakilerden hangisidir?

- A) Ses bütün katılarda yayılırken ışık bazı katılarda yayılır.
B) Sesin yayılabilmesi için maddesel ortama ihtiyaç vardır.
C) Işık, sestten daha süratli yayılır.
D) Ses bir enerji türüdür.

9. Elektriklenmiş K, L ve M cisimlerinden, önce K ve L, sonra K ve M naylon iplerle tavana asıldığında şekillerdeki gibi dengede duruyor:



Buna göre K, L ve M cisimlerinin elektrik yükleri aşağıdakilerden hangisi gibi olabilir?

	K	L	M
A)	+	-	+
B)	+	+	-
C)	-	+	+
D)	-	-	+

8. Fen bilimleri dersinde öğretmen şu haberi okur: "Ormanlık alana atılan cam kırıkları, saydam maddeden yapılmış kaplar, su dolu cam ve pet şişelerin neden olduğu yangınlar çıktı."

Öğretmen, öğrencilerine bu atıkların neden yangın çıkardığını sorar.

Mert : Bu atıklar saydam maddeden yapıldığı için güneş ışınlarını kırıdıktan sonra dağıtmıştır.

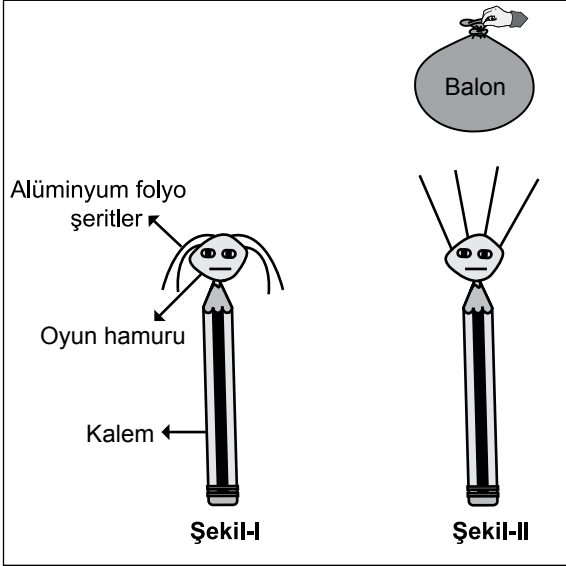
Fatma : Bu atıklar, ince kenarlı mercek görevi görmüştür.

Selma : Bu atıklar, üzerine düşen güneş ışınlarını kırarak bir noktada toplamıştır.

Buna göre hangi öğrencilerin cevabı doğrudur?

- A) Yalnız Mert
B) Yalnız Selma
C) Mert ve Fatma
D) Fatma ve Selma

10. Bir öğrenci, kalem, oyun hamuru ve alüminyum folyo şeritlerden oluşan şekil-I'deki modeli oluşturuyor.

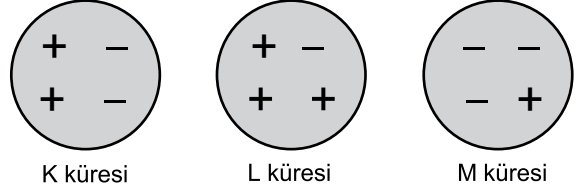


Daha sonra kazağına sürttüğü şişirilmiş balonu modele yaklaştırdığında şekil-II'deki durum gözleniyor.

Bu olayla ilgili olarak aşağıdakilerden hangisi doğrudur?

- A) Şekil-II'de balon ve folyo şeritler, aynı cins elektrik yüküyle yüklüdür.
 B) Balon ve kazak arasında etki ile elektriklenme olmuştur.
 C) Balon ve model arasında dokunma ile elektriklenme olmuştur.
 D) Balon, kazağa sürtülerek elektriklenmiştir.

11. K, L ve M iletken kürelerinin sahip oldukları elektrik yükleri sembolik olarak şekil üzerinde gösterilmiştir.



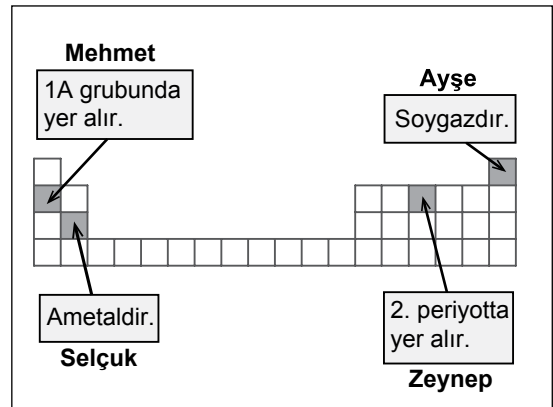
Buna göre

- I. K, L ve M kürelerinde pozitif yük bulunmaktadır.
 II. M küresi negatif yüklüdür.
 III. K küresi nötrdür.

yargılarından hangileri doğrudur?

- A) Yalnız I
 B) Yalnız II
 C) Yalnız III
 D) I, II ve III.

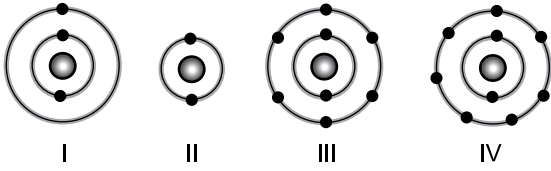
12. Öğretmen sınıftaki bir etkinlikte öğrencilerden elementlere ait bilgilerin yazılı olduğu kartları, bir bölümü verilen periyodik tabloda doğru yerlere yerleştirmelerini istiyor.



Buna göre hangi öğrenci, kartı yanlış yere yerleştirmiştir?

- A) Mehmet
 B) Ayşe
 C) Selçuk
 D) Zeynep

13. Aşağıda I, II, III ve IV numaralı atomlara ait elektron - katman ilişkisi verilmiştir:



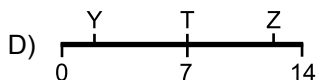
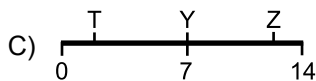
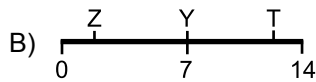
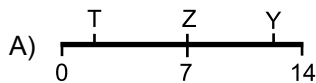
Buna göre hangi element atomları arasında oluşabilecek bağ doğru verilmiştir?

	Element atomları	Oluşabilecek bağ
A)	I - II	Kovalent bağ
B)	I - IV	İyonik bağ
C)	II - III	Kovalent bağ
D)	III - IV	İyonik bağ

14. Sofra tuzu, asit, bazın sulu çözeltileri olan T, Y, Z sıvıları ile ilgili bazı deneyler yapılarak şu sonuçlar elde ediliyor:

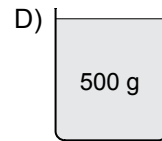
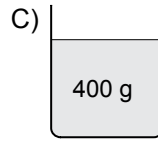
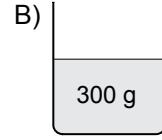
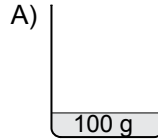
- T sıvısının içine atılan çinko parçalarında bir süre sonra aşınma gözleniyor.
- T ve Z sıvıları kırmızı turnusol kâğıdının rengini değiştirmiyor.
- Y sıvısı kırmızı turnusol kâğıdının rengini maviye çeviriyor.

Buna göre bu sıvıların pH ölçeğindeki yerleri aşağıdakilerden hangisi olabilir?



15. Özdeş kaplarda bulunan suların sıcaklığı 20 °C'tan 80 °C'a çıkarılmak isteniyor.

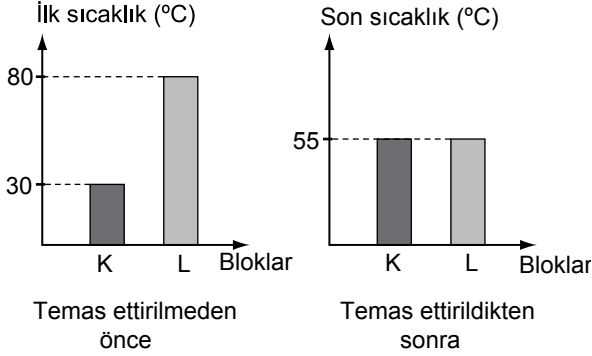
Aynı ortamda, bu özdeş kaplarda bulunan aşağıdaki sulardan hangisine en fazla ısı verilmelidir?



16. Kaynama sıcaklığı 80 °C olan saf bir sıvının sıcaklığını, 20 °C'tan 30 °C'a çıkarmak için gerekli ısı miktarı hesaplanırken aşağıdakilerden hangisi kullanılmaz?

- A) Sıvıdaki sıcaklık değişimi
- B) Sıvının donma ısısı
- C) Sıvının öz ısısı
- D) Sıvının kütlesi

17. K ve L bloklarının birbirine temas ettirilmeden önce ve temas ettirildikten sonraki sıcaklıkları grafiklerdeki gibidir:



Buna göre

- I. Isı akışı, K bloğundan L bloğuna doğrudur.
- II. K ve L bloklarının sıcaklık değişimleri birbirine eşittir.
- III. K bloğunun sıcaklığı artarken L bloğunun sıcaklığı azalmıştır.

yargılarından hangileri doğrudur?

- A) Yalnız II
B) I ve III.
C) II ve III.
D) I, II ve III.

18. Bir çocuk, elinde beklettiği buz parçasının küçüldüğünü görmüş; elinin ıslandığını ve üşüdüğünü hissetmiştir.

Bu durumla ilgili olarak

- I. Buz parçası, katı hâlden sıvı hâle geçerken ısı almıştır.
- II. Çocuğun eliyle buz parçası arasında ısı alışverişi olmuştur.
- III. Buz parçasının sıcaklığı azalmıştır.

yargılarından hangileri doğrudur?

- A) Yalnız I
B) I ve II.
C) II ve III.
D) I, II ve III.

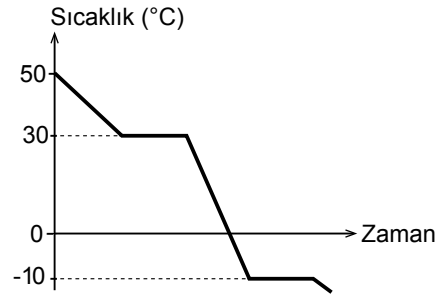
19. Kütleleri eşit olan saf K, L ve M sıvılarının ilk sıcaklıkları ve özdeş ısıtıcılarla eşit süre ısıtıldıktan sonraki son sıcaklıkları tabloya kaydediliyor.

Madde	İlk sıcaklık (°C)	Son sıcaklık (°C)
K	12	18
L	26	51
M	45	51

Bu deneyde K, L ve M sıvılarında hâl değişimi gözlenmediğine göre öz ısıları ile ilgili olarak aşağıdakilerden hangisi doğrudur?

- A) $K = M > L$
B) $K = L = M$
C) $L = M > K$
D) $K > L > M$

20. Saf bir maddeye ait sıcaklık - zaman grafiği şekildeki gibidir:



Grafiğe göre bu saf madde ile ilgili aşağıdakilerden hangisi yanlıştır?

- A) Maddenin soğuma grafiğidir.
B) Donma sıcaklığı -10°C 'tur.
C) Kaynama sıcaklığı 30°C 'tur.
D) Erime sıcaklığı 0°C 'tur.

TEST BİTTİ.

CEVAPLARINIZI KONTROL EDİNİZ.

**27 NİSAN 2017 TARİHİNDE YAPILAN 8. SINIF 2. DÖNEM
FEN BİLİMLERİ DERSİ MERKEZİ ORTAK SINAVI
“A” KİTAPÇIĞI CEVAP ANAHTARI**

FEN BİLİMLERİ

1. D
2. C
3. C
4. D
5. A
6. A
7. B
8. D
9. C
10. D
11. D
12. C
13. B
14. A
15. D
16. B
17. C
18. B
19. A
20. D



T.C.
MİLLÎ EĞİTİM BAKANLIĞI
ÖLÇME, DEĞERLENDİRME VE SINAV HİZMETLERİ GENEL MÜDÜRLÜĞÜ

8. SINIF 2. DÖNEM
T.C. İNKILAP TARİHİ VE
ATATÜRKÇÜLÜK DERSİ

MERKEZİ ORTAK SINAVI

27 NİSAN 2017

Saat: 10.10

A
KİTAPÇIK TÜRÜ

SORU SAYISI : 20

SINAV SÜRESİ : 40 Dakika

Adı ve Soyadı :

Sınıfı :

Öğrenci Numarası :

ÖĞRENCİLERİN DİKKATİNE!

1. Sınıf öğrenci yoklama listesinde belirtilen sınıfta ve sıra numarasında oturunuz.
2. Cevap kâğıdındaki kimlik bilgilerinin doğruluğunu kontrol ediniz. Bilgiler size ait değilse veya cevap kâğıdı kullanılmayacak durumdaysa sınav görevlilerine bildirin.
3. Kitapçık türünü cevap kâğıdındaki ilgili alana kodlayınız.
4. Cevap kâğıdı üzerindeki kodlamaları kurşun kalemle yapınız.

**SINAV BAŞLAMADAN ÖNCE
KİTAPÇIĞIN ARKA KAPAĞINDAKİ
UYARILARI MUTLAKA OKUYUNUZ.**

T.C. İNKILAP TARİHİ VE ATATÜRKÇÜLÜK 2017

T.C. İNKILAP TARİHİ VE ATATÜRKÇÜLÜK

1. Bu testte 20 soru vardır.
2. Cevaplarınızı, cevap kâğıdına işaretleyiniz.

1. Maraş'ın işgalinden sonra Fransızlar, Maraş Kalesi'ndeki Türk bayrağını indirip kendi bayraklarını çekmişlerdir. Maraş Ulu Cami İmamı Rıdvan Hoca'nın, cuma namazı için toplanan halka, kalelerinde hür bayrağı dalgalanmayan esir bir memlekette cuma namazı kılınmayacağını söylemesi halkı harekete geçirmiştir. Bunun üzerine Maraşlılar kaledeki Fransız bayrağını indirip yerine yeniden Türk bayrağını çekmişlerdir.

Bu olay, Maraş halkının aşağıdakilerden hangisine önem verdiğini gösterir?

- | | |
|-----------------|------------|
| A) Ekonomiye | B) Eğitime |
| C) Bağımsızlığa | D) Orduya |

2. I. İnönü Savaşı'nın kazanılması, İtilaf Devletleri'nin TBMM Hükümetini Londra Konferansı'na çağırmasını sağladı.

Bu bilgiye göre TBMM Hükümetinin Londra Konferansı'na çağırılmasında, aşağıdakilerden hangisi etkili olmuştur?

- | | |
|--------------------|------------------|
| A) Siyasi başarı | B) Askerî başarı |
| C) Ekonomik başarı | D) Hukuki başarı |

3. Kütahya - Eskişehir Savaşlarının ardından ordunun ihtiyaçlarını karşılamak için Tekâlifimilliyeye Emirleri yayımlanmış, Türk halkı elindeki gıda maddelerinin, giyim eşyalarının ve binek hayvanlarının bir kısmını Tekâlifimilliyeye Komisyonları'na teslim etmiştir.

Bu bilgiye göre aşağıdakilerden hangisi söylenemez?

- A) Türk halkı topyekûn seferber edilmiştir.
- B) Birlik ve beraberlik ruhu sağlanmıştır.
- C) Ülkenin askerî gücüne katkıda bulunulmuştur.
- D) Halkın yönetime katılımı sağlanmıştır.

4. **Aşağıdakilerden hangisi Sakarya Zaferi'nin uluslararası sonuçlarından biri değildir?**

- A) Güney Cephesi'ndeki askerî birliklerin Batı Cephesi'ne sevk edilmesi
- B) İtilaf Devletleri'nin TBMM'ye ateşkes teklifinde bulunması
- C) TBMM'nin Fransa ile Ankara Antlaşması'nı imzalaması
- D) TBMM'nin; Gürcistan, Azerbaycan ve Ermenistan'la Kars Antlaşması'nı imzalaması

5. Fatma Nine, “Ah evladım, bu köyün üç bin sığır ve koyunu vardı. Şimdi yaralı kocamla kızıma yedirecek yumurta bile bulamıyorum. Bir tek tavuk kalmadı. Tuz bile yok. Yaprakları, otları kaynatıp yerken insan içine bir parça tuz koyabilse.” dedi.

Halide Edip Adıvar’ın “Türk’ün Ateşle İmtihanı” adlı eserinden alınan bu metin Yunan işgalinin hangi alandaki etkisini vurgulamıştır?

- A) Kültürel B) Sanat
C) Ekonomik D) Eğitim

6. Yunanlılara karşı sekiz ayda dört savunma savaşı yapılmıştır. Ancak TBMM Hükümeti Sakarya Zaferi’nden sonra Büyük Taarruz için yaklaşık bir yıl beklemiştir.

Büyük Taarruz için bir yıl beklenmesinde;

- I. Ordunun eksiklerinin giderilmek istenmesi
II. Saltanatın kaldırılmak istenmesi
III. Orduya taarruz için eğitim verilmek istenmesi
IV. Kuvayımilliye’den düzenli orduya geçilmek istenmesi

nedenlerinden hangileri etkili olmuştur?

- A) I ve II. B) I ve III.
C) II ve IV. D) III ve IV.

7. **Kurtuluş Savaşı’nın Hazırlık Dönemi’nde alınan;**

- Milletin istiklalini yine milletin azim ve kararı kurtaracaktır.
- Kuvayımilliye’yi etkin ve millî iradeyi hâkim kılmak esastır.

kararları aşağıdakilerden hangisinin benimsendiğini gösterir?

- A) Millî egemenliğin B) Millî kültürün
C) Millî ekonominin D) Millî eğitimin

8. İzmir İktisat Kongresi’nde alınan kararlar ile bu kararlar doğrultusunda yapılan kalkınma hamleleri tabloda eşleştirilmiştir:

	İzmir İktisat Kongresi Kararları	Kalkınma Hamleleri
I	Ham maddesi yurt içinden temin edilen sanayi dalları kurulmalıdır.	Uşak Şeker Fabrikası açıldı.
II	İşletmelere kredi sağlayacak bankalar kurulmalıdır.	İş Bankası kuruldu.
III	Sanayi teşvik edilmiştir.	Teşvikisanayi Kanunu kabul edildi.
IV	Yerli malı kullanılması ve tasarruf özendirilmiştir.	Aşar vergisi kaldırıldı.

Bu tablodaki numaralanmış eşleştirmelerden hangisi yanlıştır?

- A) I. B) II. C) III. D) IV.

9. “Büyük Millet Meclisi’nde ve millet karşısında ulus işlerinin serbestçe tartışılması ve iyi niyet sahibi kişilerin ve partilerin özel görüşlerini ortaya koyarak milletin yüksek menfaatlerini aramaları benim gençliğimden beri âşık ve taraftar olduğum bir sistemdir.”

Atatürk’ün bu sözünün;

- I. Tek parti iktidarının sürdürülmesi
II. Mecliste muhalefetin oluşturulması
III. Farklı görüşlerin mecliste temsil edilmesi

durumlarından hangilerine yönelik olduğu savunulabilir?

- A) Yalnız II
B) I ve II.
C) II ve III.
D) I, II ve III.

10. Medeni Kanun ile Türk kadınına; boşanma, mirastan erkek ile aynı oranda hak elde etme, istediği mesleği seçme ve tanıklıkta erkek ile eşit olma hakları tanınmıştır.

Buna göre Medeni Kanun ile kadınların;

- I. sosyal
II. siyasi
III. ekonomi
IV. eğitim

alanlarından hangilerinde kazanımlar elde ettiği savunulabilir?

- A) I ve II.
B) I ve III.
C) II ve IV.
D) III ve IV.

11. • Türkiye’de ilk medeniyet kimler tarafından ve nasıl kurulmuştur?
• Türkiye’nin en eski halkını kimler oluşturmuştur?
• Türklerin dünya medeniyetindeki hizmetleri ve yeri nedir?

Bu soruların bilimsel yollarla araştırılması için Atatürk Dönemi’nde aşağıdaki çalışmalardan hangisi yapılmıştır?

- A) Türk Tarih Kurumunun kurulması
B) Türk Dil Kurumunun kurulması
C) Millet Mekteplerinin açılması
D) Harf İnkılabı’nın yapılması

12. “Memlekette sosyal ve siyasi büyük inkılaplar oldu. Darülfunun bunlara karşı tarafsız bir gözlemci gibi kaldı. Ekonomik alanda anlamlı hareketler oldu. Darülfunun bunlardan habersiz görüldü. Hukukta radikal değişiklikler oldu. Darülfunun yalnız yeni kanunları öğretim programına almakla yetindi. Harf Devrimi oldu. Öz dil hareketi başladı. Darülfunun bunu hiç önemsemedi.”

Dönemin Millî Eğitim Bakanı Reşit Galip’in bu sözlerinden hareketle Darülfunun ile ilgili aşağıdakilerden hangisine ulaşılabilir?

- A) Gerçekleştirilen inkılaplara duyarsız kalmıştır.
B) Toplumun gelişimi için beklenen katkıyı sağlamıştır.
C) İnkılapların toplumda yerleşmesinin takipçisi olmuştur.
D) Bilim ve teknolojinin gelişmesinde merkez olmuştur.

13.

Köyümüzden Mustafa oğlu Mehmet'in askerlik zamanı gelmişti. O kişiyi belirleyip askerlik şubesine göndermem istendi. Köyümüzde üç tane Mustafa oğlu Mehmet vardı. Bu nedenle bu kişiyi bulup askerlik şubesine göndermekte çok zorluk yaşadım.



Muhtar
Süleyman

Muhtar Süleyman'ın yaşadığı bu sorun, aşağıdaki yeniliklerden hangisinin yapılması ile çözüme kavuşmuştur?

- A) Türk Medeni Kanunu'nun kabulü
- B) Soyadı Kanunu'nun çıkarılması
- C) Hıfzıssıhha Müessesesinin kurulması
- D) Tevhid-i Tedrisat Kanunu'nun kabul edilmesi

14. • Ziya Gökalp, özellikle Türkçülük üzerine kaleme aldığı eserleri ile tanınmıştır.
• Namık Kemal, Türk edebiyatının öncü şairlerinden olup "vatan şairi" olarak anılır.

Ziya Gökalp ve Namık Kemal eserleriyle Atatürk'ü hangi alanda etkilemiştir?

- A) Cumhuriyetçilik
- B) Laiklik
- C) Devletçilik
- D) Milliyetçilik

15.

Cumhuriyetçilik, halkın kendisini yönetecek kişileri kendisinin seçmesini esas alan bir dü-şünce sistemidir.

Buna göre;

- I. TBMM'nin açılması
- II. Medeni Kanunun kabul edilmesi
- III. Saltanatın kaldırılması
- IV. Soyadı Kanunu'nun çıkarılması

gelişmelerinden hangileri cumhuriyetçilik ilkesiyle ilişkilidir?

- A) I ve II.
- B) I ve III.
- C) II ve IV.
- D) III ve IV.

16.

"Toplu bir milleti istila etmek darmadağınık bir milleti istila etmek gibi kolay değildir."

Atatürk bu sözyle aşağıdakilerden hangisinin önemini vurgulamıştır?

- A) Millî eğitimin
- B) Çağdaşlaşmanın
- C) Toplumsal eşitliğin
- D) Millî birlik ve beraberliğin

17. Halkçılık ilkesi, bütün bireylerin yasa önünde eşitliği esasına dayanır. Bu ilkede ayrıcalıklı bir sınıf kavramı yoktur ve olamaz. Herkes devlet hizmetlerinden yararlanma hakkına sahiptir.

Buna göre aşağıdakilerden hangisi Atatürk ilkelerinden halkçılık kapsamında değerlendirilemez?

- A) Hiçbir kişi veya zümreye ayrıcalık tanınmaması
B) Hak ve özgürlüklerden herkesin yararlanması
C) Tüm çalışanların eşit gelire sahip olması
D) Kadın-erkek eşitliğinin sağlanması

18. “Benim yaptığım bütün işler, biri ötekine gerekli ve zorunlu olan işlerdir.”

Atatürk’ün bu sözü Atatürk ilkelerinin ortak özelliklerinden hangisiyle ilişkilidir?

- A) Kaynağı Türk millî kültürüdür.
B) Birbiriyle uyumlu ve birbirlerini tamamlamaktadır.
C) Millî egemenlik ve bağımsızlık temeline dayanır.
D) Taklitçi değildir. Kabul edilmesinde dış baskı ve zorlama yoktur.

19. Atatürk ilke ve inkılaplarının dayandığı temel esaslar, milletimizin tam bağımsız olarak yaşaması, millî egemenliğin esas alınması, aklın ve bilimin öncülüğünde çağdaş uygarlık düzeyinin üstüne çıkılmasıdır. Ayrıca vatan ve millet sevgisinden alınan güçle millî birliğin ve ülke bütünlüğünün korunmasıdır.

Bu bilgide, Atatürk ilkelerinden hangisine vurgu yapılmamıştır?

- A) Cumhuriyetçilik
B) Milliyetçilik
C) Laiklik
D) Devletçilik

20. Atatürk, cumhuriyeti yeni nesillere emanet ederken “Milletin bağrından temiz bir nesil yetişiyor. Bu eseri ona bırakacağım ve gözüm arkada kalmayacak.” demiştir.

Atatürk, bu sözüyle aşağıdakilerden hangisini vurgulamıştır?

- A) Meclisin önemini
B) Ekonomik bağımsızlığı
C) Gençlere olan güvenini
D) Çok partili hayatın gerekliliğini

**27 NİSAN 2017 TARİHİNDE YAPILAN 8. SINIF 2. DÖNEM
T.C İNKILAP TARİHİ VE ATATÜRKÇÜLÜK DERSİ MERKEZİ ORTAK SINAVI
“A” KİTAPÇIĞI CEVAP ANAHTARI**

T.C İNKILAP TARİHİ VE ATATÜRKÇÜLÜK

1. C
2. B
3. D
4. A
5. C
6. B
7. A
8. D
9. C
10. B
11. A
12. A
13. B
14. D
15. B
16. D
17. C
18. B
19. D
20. C



T.C.

MİLLÎ EĞİTİM BAKANLIĞI

ÖLÇME, DEĞERLENDİRME VE SINAV HİZMETLERİ GENEL MÜDÜRLÜĞÜ

8. SINIF 2. DÖNEM
DİN KÜLTÜRÜ VE
AHLAK BİLGİSİ DERSİ

MERKEZİ ORTAK SINAVI

26 NİSAN 2017

Saat: 11.20

A
KİTAPÇIK TÜRÜ

SORU SAYISI : 20

SINAV SÜRESİ : 40 Dakika

Adı ve Soyadı :

Sınıfı :

Öğrenci Numarası :

ÖĞRENCİLERİN DİKKATİNE!

1. Sınıf öğrenci yoklama listesinde belirtilen sınıfta ve sıra numarasında oturunuz.
2. Cevap kâğıdındaki kimlik bilgilerinin doğruluğunu kontrol ediniz. Bilgiler size ait değilse veya cevap kâğıdı kullanılmayacak durumdaysa sınav görevlilerine bildirin.
3. Kitapçık türünü cevap kâğıdındaki ilgili alana kodlayınız.
4. Cevap kâğıdı üzerindeki kodlamaları kurşun kalemle yapınız.

**SINAV BAŞLAMADAN ÖNCE
KİTAPÇIĞIN ARKA KAPAĞINDAKİ
UYARILARI MUTLAKA OKUYUNUZ.**

DİN KÜLTÜRÜ VE AHLAK BİLGİSİ 2017

DİN KÜLTÜRÜ VE AHLAK BİLGİSİ

1. Bu testte 20 soru vardır.
2. Cevaplarınızı, cevap kâğıdına işaretleyiniz.

1. I. Akli kullanmak
II. Taklit etmek
III. Ön yargılı olmak
IV. Araştırma yapmak

Numaralanmış tutum ve davranışlardan hangileri kişinin taassuba düşmesine neden olur?

- A) I ve II. B) I ve IV.
C) II ve III. D) III ve IV.

2. Aşağıdakilerden hangisi İslam dinine göre alkol ve uyuşturucunun yasaklanma sebeplerinden biri değildir?

- A) Akli, sağlıklı kullanmayı engellemesi
B) Kişinin genel sağlığını bozması
C) Aile ve topluma zarar vermesi
D) Sağlık sektöründe kullanılması

3. “Mallarını Allah yolunda harcayıp da arkasından başa kakmayan, fakirlerin gönlünü kırmayan kimselerin Allah katında ödülleri vardır. Onlara korku yoktur ve onlar üzülmeyeceklerdir.”
(Bakara suresi, 262. ayet)

Zekât ile ilgili bu ayette verilmek istenen mesaj aşağıdakilerden hangisidir?

- A) Zekât alan kişiyi minnet altında bırakacak ve incitecek davranışlardan kaçınılmalıdır.
B) Zekât verirken akraba ve komşulardan ihtiyaç sahibi olanlara öncelik tanınmalıdır.
C) Bir maldan zekât verilebilmesi için o malın gelir getiren cinsten olması gereklidir.
D) Zekâtın bir ibadet olduğu unutulmamalı ve zekâta niyet edilmelidir.

4. Tay kabilesinin başkanı Adiy b.Hatim, Müslüman olmadan önce Medine'ye gelmişti. Hz. Peygamber'in yetişkinlere ve çocuklara davranışlarını gözlemledi. Onda diğer ülke liderlerinde bulunmayan bazı özellikler olduğunu fark etti. Yolda yaşlı bir kadını uzun müddet sabırla dinlediğine şahit oldu. “Bir devlet başkanı o kadar işinin arasında nasıl olur da yaşlı bir kadına bu kadar vakit ayırır?” diye düşündü. Daha sonra Hz. Peygamber'in evine gitti. Hz. Peygamber oturması için minderini ona verdi ve kendisi yere oturdu. Bu davranış karşısında çok etkilenen Adiy bin Hatim “Vallahi, bu bir kral değil.” diyerek Müslüman oldu.

Bu metne göre Adiy b. Hatim'in Müslüman olmasında Hz. Muhammed'in (sav.) hangi yönü etkili olmuştur?

- A) Güvenilir olması
B) İnsanlara değer vermesi
C) Zamanı iyi değerlendirmesi
D) Akrabalık ilişkilerini önemsemesi

5. • “Rabbim! Gerçekten bana hükümrânlık verdin ve bana sözlerin yorumunu öğrettin. Ey gökleri ve yeri yaratan! Dünyada ve ahirette sen benim velimsin. Benim canımı Müslüman olarak al ve beni iyilere kat.”
(Yûsuf suresi, 101. ayet)
- “...İşte böylece (Mısır’da adaletle hükmetmesini sağlamak) ve kendisine (rüyadaki) olayların yorumunu öğretmek için Yusuf’u oraya yerleştirdik...”
(Yûsuf suresi, 21. ayet)

Bu ayetlerde Hz. Yusuf ile ilgili aşağıdakilerin hangisine değinilmemiştir?

- A) Söz ve rüyaları yorumlama yeteneği verilmesine
B) Adaletle hükmetmesi için Mısır’a yerleştirilmesine
C) Allah’a güvenip yalnızca O’na inandığına
D) Kardeşleri tarafından kıskanılarak kuyuya atıldığına

6. Arkadaşı Tarık’ın düzenli olarak kan bağışında bulunduğunu öğrenen Semih, bunun hem sağlıklı yaşama katkı sağladığını hem de zor durumda olan insanlara destek olduğunu öğrenince kendisi de kan bağışı yapmaya karar verir.

Buna göre Semih’in aşağıdakilerin hangisine gitmesi uygun olur?

- A) Yeşilay B) Kızılay
C) Darülaceze D) TEMA

7.



İnsan, akıllı bir varlık olarak yaşadığı dünyayı gözlemlediğinde, dünyanın yaşam için uygun yaratıldığını, varlıkların dengeli ve uyumlu bir bütün oluşturduğunu ve hayatın belirli kurallar içerisinde devam ettiğini görecektir.

Ahmet Öğretmen bu bilgiler çerçevesinde öğrencilerden bir çıkarımda bulunmalarını istemiştir.

Buna göre hangi öğrencinin çıkarımı bu bilgilerle çelişir?

- A) Her şey bir ölçüye göre yaratılmıştır.
Seval
- B) Canlıların yaşamında denge vardır.
Sami
- C) Varlıkların oluşumunda tesadüfe rastlanmaktadır.
Kemal
- D) Allah her şeyi yerli yerince yaratmıştır.
Berna

8. Mekkeli müşrikler, Hz. Muhammed'i (sav.) İslam'ı anlatmaktan vazgeçirmesi için amcası Ebu Talip'e başvurular. Ebu Talip, Hz. Peygamber'e durumu bildirdi. Davasından vazgeçmesini, artık meselenin kendisinin de üstesinden gelemeyeceği bir noktaya ulaştığını söyledi. Çok sevdiği amcasının bu sözlerine üzülen Hz. Peygamber şöyle cevap verdi: "Allah'a yemin ederim ki tebliğ görevimi terk etmem için sağ elime Güneş'i, sol elime Ay'ı verseler, sen de beni terk etsen, onların bu dediklerini asla kabul etmem. Rabb'im Allah bana yeter!"

Hz. Muhammed'in (sav.) bu tavrı aşağıdaki ayetlerden hangisi ile doğrudan ilişkilendirilemez?

- A) "Ey iman edenler! Allah'ın ve Peygamber'inin önüne geçmeyin. Allah'a karşı gelmekten sakının..."
(Hucurât suresi, 1. ayet)
- B) "Nice peygamberler vardır ki... Allah yolunda başlarına gelenlerden dolayı gevşeklik ve zaaf göstermediler, boyun eğmediler. Allah sabredenleri sever."
(Âl-i İmrân suresi, 146. ayet)
- C) "Sana emrolunanı açıkça söyle ve Allah'a ortak koşanlardan yüz çevir."
(Hicr suresi, 94. ayet)
- D) "Kâfirlere ve münafıklara itaat etme! Onların eziyetlerine aldırma ve Allah'a tevekkül et. Vekil olarak Allah yeter."
(Ahzâb suresi, 48. ayet)

9. • "...Anlayan bir toplum için ayetleri ayrıntılı bir şekilde açıkladık."
(En'âm suresi, 98. ayet)
- "...Allah, insanlara düşünüp anlasınlar diye ayetlerini açıklar."
(Bakara suresi, 221. ayet)

Bu ayetlere göre insanların Kur'an-ı Kerim'e karşı sorumluluğu aşağıdakilerden hangisidir?

- A) Okuyup ezberlemek
B) Düşünüp anlamak
C) Okunuşunu öğretmek
D) Farklı dillere tercüme etmek

10. Şehrin sokaklarında her gece bir adam ihtiyaç sahiplerinin evlerine çuval içerisinde erzak bırakır ve kimseye de görünmezmiş. Yardım gören insanlar mutlu olur ve teşekkür etmek için bu iyiliği yapan kişiyi ararlar ama kim olduğunu bir türlü bulamazlarmış. Aradan zaman geçmiş ve bir gece yardımlar kesilmiş. İnsanlar ertesi gün Hz. Ali'nin torunu olan ve İmam Seccâd olarak da bilinen Zeynel Abidin'in öldüğünü ve sırtında çuval taşımaktan oluşan yaralar bulunduğunu öğrenmişler.

Bu metinden Zeynel Abidin ile ilgili aşağıdakilerden hangisine ulaşamaz?

- A) Yardımı gizli yapmayı önemsemiştir.
B) Yardım etmek için fedakârlıkta bulunmuştur.
C) Yardımı düzenli yapmaya özen göstermiştir.
D) Yardım etmeye ihtiyaç sahibi yakınlarından başlamıştır.

11. Müslümanların büyük bir sıkıntı içinde ve baskı altında oldukları bir dönemde sahabelerden bazıları Hz. Peygamber'e gelerek bu zulmü yapanlara beddua etmesini istedi. O ise: "Ben rahmet peygamberiyim, beddua etmek için gönderilmedim." buyurdular.

Bu olayda Hz. Muhammed'in (sav.) hangi özelliği öne çıkmaktadır?

- A) Merhameti B) Cesareti
C) Adaleti D) Kararlılığı

12. Hz. Peygamber, Müslümanlara karşı özel bir şefkat ve muhabbet beslemiştir. Yaşadığı süre içinde Müslümanların dertleriyle ilgilenmiş, üzüntülerine ortak olmuştur.

Hz. Peygamber'in metinde anlatılan bu tutumu, aşağıdaki ayetlerin hangisinde ifade edilmiştir?

- A) "Andolsun, Allah'ın Resulü'nde sizin için... güzel bir örnek vardır."
(Ahzâb suresi, 21. ayet)
- B) "Sen öğüt ver. Çünkü sen ancak öğüt vericisin. Onların üzerinde bir zorlayıcı değilsin."
(Gâşiye suresi, 21-22. ayetler)
- C) "Andolsun, size içinizden öyle bir peygamber geldi ki sizin sıkıntıya düşmeniz ona çok ağır gelir. Çünkü O, size çok düşkün, müminlere karşı çok şefkatli ve merhametlidir."
(Tevbe suresi, 128. ayet)
- D) "Muhammed yalnızca bir elçidir. O'ndan önce de elçiler gelip geçti. Şimdi O ölür veya öldürülürse gerisin geri dönecek misiniz?..."
(Âl-i İmrân suresi, 144. ayet)

13. Bir kadın, kumaş ticareti ile uğraşan Ebu Hanife'nin yanına gelir ve elindeki kumaşı ona yüz dirheme satmak ister. Fakat Ebu Hanife kumaşın daha değerli olduğunu söyleyerek fiyatı artırır. Bu fiyat artırma beş yüz dirheme kadar çıkar ve kumaşı bu fiyat üzerinden satın alır. Kadın bu durum karşısında şaşkınlık içinde kalır.

Ebu Hanife'nin bu davranışı aşağıdaki hadislerden hangisi ile ilişkilendirilebilir?

- A) Ne aldanan ne de aldatan ol.
B) Alışverişte çok yemin etmekten sakının.
C) Hiç kimseye sabırdan daha hayırlı bir özellik verilmemiştir.
D) Kimse kendi kazancından daha hayırlı bir rızık yememiştir.

ÖLÇME, DEĞERLENDİRME VE SINAV HİZMETLERİ GENEL MÜDÜRLÜĞÜ (ÖDSGM)

- 14.



Numaralanmış görsellerde hac ve umrede ortak yapılan ibadetler aşağıdakilerin hangisinde bir arada verilmiştir?

- A) I ve III. B) I ve IV.
C) II ve III. D) II ve IV.

15. Aşağıdakilerden hangisi sigaranın zararları arasında gösterilemez?

- A) Sağlık harcamalarının artmasına neden olması
- B) Çalışarak kazanmak yerine, tembelliğe teşvik etmesi
- C) Bireyde birçok sağlık problemine yol açması
- D) Hem içene hem de çevreye zarar vermesi

16. Hz. Peygamber arkadaşlarıyla yolda yürürken karşılarından gelen bir adam yere tükürdü. Hz. Muhammed'in (sav.) yüzü birdenbire kızardı ve olduğu yerde kalakaldı. Yanındakiler koşuşarak tükürüğün üstünü toprakla örttü. O da bundan sonra yoluna devam etti.

Bu metinde Hz. Muhammed (sav.) ile ilgili anlatılmak istenen aşağıdakilerden hangisidir?

- A) Kendisine yapılan kötülükleri affederdi.
- B) İnsanlarla beraber hareket ederdi.
- C) Çevrenin kirletilmesinden rahatsız olurdu.
- D) İnsanlara yardımcı olmayı severdi.

17. İslam dini, insan haklarına saygı göstermeyi, kul hakkını gözetmeyi emreder. Kul hakkını ihlal etmek, Allah'ın bağışlamadığı davranışlardandır. Hak ihlali yapan kimsenin öncelikle hak sahibini razı etmesi, daha sonra da Allah'tan af dilemesi gerekir.

Bu metinle aşağıdakilerden hangisi anlamca aynı doğrultudadır?

- A) "Göklerde ve yerde ne varsa hepsi Allah'ı tesbih eder..." (Teğâbün suresi, 1. ayet)
- B) "Birisinin hakkını alan kimse, ölmeden önce onunla helalleşsin." (Hadis-i Şerif)
- C) "Sizden iyiliğe çağırın, doğruluğu emreden ve fenalıktan alıkoyan bir topluluk bulunsun..." (Âl-i İmrân suresi, 104. ayet)
- D) "Kişi, kardeşine yardım ettiği sürece Allah da ona yardım eder." (Hadis-i Şerif)

18. Siyahi bir düşünür olan Malcolm X, hac ile ilgili anısında şöyle der: "Dünyanın her yerinden on binlerce hacı vardı. Mavi gözlüsünden siyahilerine kadar her renkten insan bulunmaktaydı. Beyaz tenli Müslümanların sözleri ve davranışlarında Gana, Sudan ve Nijerya Müslümanlarında hissettiğim samimiyeti gördüm. Müslüman kardeşlerimle birlikte ben de aynı ibadetleri yaptım ve aynı yerde buldum..."

Bu metinden haccın insan üzerindeki etkilerinden hangisine ulaşamaz?

- A) İnanca dayalı kardeşlik bağı kurulmasını sağlar.
- B) İnsanların eşit olduğu bilincini oluşturur.
- C) "Ben" duygusu yerine "biz" duygusunu kazandırır.
- D) Zorluklar karşısında sabırlı olmayı öğretir.

19. Kötü alışkanlıklar konusunda duyarsız kalınmaması gerektiğini düşünen Zeynep sigara içen, fal baktıran ve şans oyunları oynayan arkadaşlarını her fırsatta uyarmakta, bu davranışlarından vazgeçirmeye çalışmaktadır. Kimi zaman arkadaşları tarafından incitilmiş ancak bu sorumluluğunu yerine getirmeye devam etmiştir.

Zeynep'in bu davranışı aşağıdaki ayetlerden hangisi ile ilişkilidir?

- A) "Siz insanlar için ortaya çıkarılmış en hayırlı ümmetsiniz. İyiliği emredersiniz, kötülükten alıkoysunuz ve Allah'a inanırsınız..."
(Âl-i İmrân suresi, 110. ayet)
- B) "Ancak insanlara zulmedenlere ve yeryüzünde haksız yere taşkınlık yapanlara ceza vardır. İşte acıklı azap bunlardır."
(Şûrâ suresi, 42. ayet)
- C) "İnkâr edenlerin malları da çocukları da Allah'a karşı kendilerine hiçbir fayda sağlamayacaktır..."
(Âl-i İmrân suresi, 116. ayet)
- D) "Allah'ın lütfundan kendilerine verdiği nimette cimrilik gösterenler, sakın bunun kendileri için hayırlı olduğunu sanmasınlar, bilakis bu onlar için kötüdür..."
(Âl-i İmrân suresi, 180. ayet)

ÖLÇME, DEĞERLENDİRME VE SINAV HİZMETLERİ GENEL MÜDÜRLÜĞÜ (ÖDSGM)

20. Aşağıdakilerden hangisi kurban ibadetinin sosyal dayanışma yönünü vurgulamaktadır?

- A) Kurban edilecek hayvan belirli özelliklere sahip olmalıdır.
- B) Bu ibadet sırasında çevre temizliğine dikkat edilmelidir.
- C) Kurban etinin bir bölümü yoksullara, bir bölümü de gelen misafirlere ikram edilmelidir.
- D) Bu ibadet, Allah rızası gözetilerek samimiyetle yapılmalıdır.

TEST BİTTİ.

CEVAPLARINIZI KONTROL EDİNİZ.

**26 NİSAN 2017 TARİHİNDE YAPILAN 8. SINIF 2. DÖNEM
DİN KÜLTÜRÜ VE AHLAK BİLGİSİ DERSİ MERKEZİ ORTAK SINAVI
“A” KİTAPÇIĞI CEVAP ANAHTARI**

DİN KÜLTÜRÜ VE AHLAK BİLGİSİ

1. C
2. D
3. A
4. B
5. D
6. B
7. C
8. A
9. B
10. D
11. A
12. C
13. A
14. D
15. B
16. C
17. B
18. D
19. A
20. C



T.C.
MİLLÎ EĞİTİM BAKANLIĞI
ÖLÇME, DEĞERLENDİRME VE SINAV HİZMETLERİ GENEL MÜDÜRLÜĞÜ

8. SINIF 2. DÖNEM
İNGİLİZCE DERSİ
MERKEZİ ORTAK SINAVI
27 NİSAN 2017 Saat: 11.20

A
KİTAPÇIK TÜRÜ

SORU SAYISI : 20
SINAV SÜRESİ : 40 Dakika

Adı ve Soyadı :
Sınıfı :
Öğrenci Numarası :

ÖĞRENCİLERİN DİKKATİNE!

1. Sınıf öğrenci yoklama listesinde belirtilen sınıfta ve sıra numarasında oturunuz.
2. Cevap kâğıdındaki kimlik bilgilerinin doğruluğunu kontrol ediniz. Bilgiler size ait değilse veya cevap kâğıdı kullanılmayacak durumdaysa sınav görevlilerine bildirin.
3. Kitapçık türünü cevap kâğıdındaki ilgili alana kodlayınız.
4. Cevap kâğıdı üzerindeki kodlamaları kurşun kalemle yapınız.

**SINAV BAŞLAMADAN ÖNCE
KİTAPÇIĞIN ARKA KAPAĞINDAKİ
UYARILARI MUTLAKA OKUYUNUZ.**

İNGİLİZCE 2017

İNGİLİZCE

1. Bu testte 20 soru vardır.
2. Cevaplarınızı, cevap kâğıdına işaretleyiniz.

1 - 9. sorularda boş bırakılan yere uygun gelen kelime ya da ifadeyi işaretleyiniz.

1.



- A) I'm sorry
B) Of course
C) That's OK
D) No problem

2. **Jill** : Hello, Jill speaking.
Adam : Hi, Jill. This is Adam. ----?
Jill : Good, thanks.

- A) Why do you ask
B) What about you
C) How are things
D) Who is calling

3. **Derek** : ----?**Kevin** : At about 10 p.m.

- A) What do you usually do on the Net
B) What time do you usually go online
C) How often do you check your emails
D) How many hours do you spend on the Net

4. **Öykü** : ----?**Nina** : It is cheaper and faster.

- A) Who uses the Net most in your family
B) How does your father access the Internet
C) When do you usually contact your friends
D) Why do you prefer sending text messages

5. **Tracy** : I have two tickets for the rock concert tonight. Shall we go together?

Susan : Yeah, that would be great. - - - -. What time does it start?

- A) I think it's unbearable
- B) I actually dislike music
- C) I have nothing better to do
- D) I hope you feel better soon

7. **Gary** : I want to visit Mardin. What's the weather like there in summer?

Erdal : - - - -.

- A) The temperature goes up to 40°C
- B) Its population is approximately 800000
- C) It is located in the Southeastern Anatolia
- D) Mardin is a center of attraction for tourists

6. **Akın** : Hi! James, this is Akın. I'm going to go to the museum. Would you like to come with me?

James : Sure. - - - -?

Akın : Tomorrow.

- A) When will you go there
- B) What time is it going to open
- C) Who is interested in history
- D) Why do you enjoy visiting museums

8. **Kate** : Why are some people into extreme sports?

Sinan : Because they love adrenalin and - - - -.

- A) think these sports are boring
- B) prefer playing board games
- C) like testing themselves
- D) want to protect nature

9. Sean : Where were you on your last vacation?
Cindy : - - - -. I made lots of friends there.
- A) We were in the wonderful city of Paris
B) People weren't friendly in New York
C) I didn't spend my vacation there
D) Our relatives came to visit us

11.



Verilen görsele göre boş bırakılan yere aşağıdakilerden hangisi getirilmelidir?

My grandmother still writes - - - - to communicate with her friends.

- A) emails
B) letters
C) voicemails
D) text messages

10.

CLASSROOM RULES
<ul style="list-style-type: none"> • - - - -. • Clean your desk. • Listen to your teacher. • Raise your hand to speak.

Panoda verilen kurallara göre boş bırakılan yere aşağıdakilerden hangisi getirilmelidir?

- A) Don't come home late
B) Be nice to your parents
C) Keep your bedroom tidy
D) Don't eat during the lesson

12.

BURJ DUBAI
<ul style="list-style-type: none"> • It is 829,8 meters. • The date of its construction is 2010. • It is located in the United Arab Emirates.
THE TOWER OF PISA
<ul style="list-style-type: none"> • It is 56 meters. • The date of its construction is 1090. • It is located in Italy.


Bu tabloya göre aşağıdakilerden hangisi doğrudur?

- A) Burj Dubai is located in the South of Italy.
B) Burj Dubai is older than the Tower of Pisa.
C) The Tower of Pisa is shorter than Burj Dubai.
D) The Tower of Pisa is truly a modern structure.

13. "As an adrenalin seeker, I enjoy extreme sports and rafting is my favorite." ifadesini anlatan görsel aşağıdakilerden hangisidir?



14. "We all have responsibilities at home and hanging out the washing is my duty." ifadesini anlatan görsel aşağıdakilerden hangisidir?



15 - 17. soruları aşağıda verilen metinlere göre cevaplayınız.



Melis

I am an adrenalin seeker. I enjoy extreme sports like bungee jumping and caving, but my favorite one is parachute diving. I think it is more challenging and entertaining than others. I really enjoy testing myself against air.



Molly

I don't think of myself as an adrenalin seeker. I'm not into extreme sports. I like trekking. I really enjoy freedom and being in nature alone. In my opinion, trekking isn't dangerous like extreme sports.



Ben

I really like pushing myself. To me, extreme sports are better than sports like football, volleyball and basketball. I don't prefer doing them because they are not adventurous.

15. Melis - - - - .

- A) hates all extreme sports
- B) dislikes bungee jumping
- C) believes caving is boring
- D) enjoys parachute diving most

16. Molly - - - - .

- A) is truly an adrenalin seeker
- B) is interested in all kinds of sports
- C) loves being in nature with her friends
- D) thinks extreme sports are dangerous

17. Ben - - - - .

- A) likes football most
- B) is good at volleyball
- C) prefers extreme sports to others
- D) thinks basketball is adventurous

18 - 20. soruları aşağıda verilen metinlere göre cevaplayınız.



Frank

I have a PC and I'm always online. I use the Net to keep in touch with my friends. I spend most of my time in social networking sites and I have many Internet friends from all around the world.



Sally

I always prefer meeting my friends from school in person and I never use the Net to make Internet friends. I only use the Net as a translator for my English homework.



Denis

I use my mobile phone to speak with my classmates. I use my PC only when I watch films and play online games, because I think they are entertaining.

18. Frank - - - - .

- A) never keeps in touch with his friends
- B) is connected to the Net all the time
- C) always meets his friends in person
- D) hates social networking sites

19. Sally - - - - .

- A) likes making new Internet friends
- B) never uses the Net as a translator
- C) has friends from all over the world
- D) prefers face-to-face communication

20. Denis uses his PC to - - - - .

- A) have fun
- B) translate texts
- C) talk to his friends
- D) do his homework

TEST BİTTİ.

CEVAPLARINIZI KONTROL EDİNİZ.

**27 NİSAN 2017 TARİHİNDE YAPILAN 8. SINIF 2. DÖNEM
İNGİLİZCE DERSİ MERKEZİ ORTAK SINAVI
“A” KİTAPÇIĞI CEVAP ANAHTARI**

İNGİLİZCE

1. A
2. C
3. B
4. D
5. C
6. A
7. A
8. C
9. A
10. D
11. B
12. C
13. A
14. B
15. D
16. D
17. C
18. B
19. D
20. A