



T.C.  
MİLLÎ EĞİTİM BAKANLIĞI  
ÖLÇME, DEĞERLENDİRME VE SINAV HİZMETLERİ GENEL MÜDÜRLÜĞÜ

8. SINIF 1. DÖNEM  
TÜRKÇE DERSİ  
MERKEZİ ORTAK SINAVI  
23 KASIM 2016 Saat: 09.00

A  
KİTAPÇIK TÜRÜ

SORU SAYISI : 20  
SINAV SÜRESİ : 40 Dakika

Adı ve Soyadı : .....  
Sınıfı : .....  
Öğrenci Numarası : .....

**ÖĞRENCİLERİN DİKKATİNE!**

1. Sınıf öğrenci yoklama listesinde belirtilen sınıfta ve sıra numarasında oturunuz.
2. Cevap kâğıdındaki kimlik bilgilerinin doğruluğunu kontrol ediniz. Bilgiler size ait değilse veya cevap kâğıdı kullanılmayacak durumdaysa sınav görevlilerine bildirin.
3. Kitapçık türünü cevap kâğıdındaki ilgili alana kodlayınız.
4. Cevap kâğıdı üzerindeki kodlamaları kurşun kalemle yapınız.

**SINAV BAŞLAMADAN ÖNCE  
KİTAPÇIĞIN ARKA KAPAĞINDAKİ  
UYARILARI MUTLAKA OKUYUNUZ.**

TÜRKÇE 2016

## TÜRKÇE

1. Bu testte 20 soru vardır.
2. Cevaplarınızı, cevap kâğıdına işaretleyiniz.

1. I. Bana verdiğin kitabı metroda unutmuşum.  
II. Yoğunluktan dolayı kitap okumayı da unuttuk.  
III. Şimdiye kadar biz senin ne haylazlıklarını unuttuk.

“Unutmak” kelimesi, numaralanmış cümlelerde aşağıdaki anlamlarından hangisiyle kullanılmamıştır?

- A) Hatırlamamak
- B) Bağışlamak
- C) Bir şeyi dalgınlıkla bir yerde bırakmak
- D) Bir şeyi yapamaz duruma gelmek

2. Aşağıdaki dizelerin hangisinde karşıt anlamlı kelimeler birlikte kullanılmıştır?

- A) Hapsolmuş bir şafak gibi derinde  
Zamana gülecek hüznün ve neşen
- B) İnsan yaşamaktan bıkar, usanır,  
Hülyaya dalmaktan usanmaz.
- C) Biri hareketsiz, cansız yatıyor;  
Birinin dinmeyen gözyaşları var.
- D) Nasıl hatırlamazsın o türküyü  
Gök parçası, dal demeti, kuş tüyü

3. Picasso her dalından başka bir meyve sarkan büyük bir ressamdı. Öğleye kadar portre; öğleden sonra beş gözlü, dokuz kollu bir insan resmi çizerdi. Ertesi gün çini fırınının başında çalışırdı. Sonraki gün heykel yontardı.

Bu metindeki altı çizili sözle Picasso'nun hangi özelliği vurgulanmaktadır?

- A) Alışılmadık resimler çizmesi
- B) Dünyaca tanınması
- C) Diğer sanatçıları etkilemesi
- D) Farklı sanat dallarında eser vermesi

4. Dünya medeniyet tarihinin en eski ve gelişmiş medeniyetlerinden biri olan Hititlerin, Anadolu'nun bağrında bıraktığı eserler hâlâ görkemini korumaktadır.

Bu cümleden “Hititler” ile ilgili aşağıdaki yargılardan hangisi kesin olarak çıkarılır?

- A) Anadolu'ya nereden geldikleri bilinmektedir.
- B) Anadolu tarihinin bilinen ilk uygarlığıdır.
- C) Anadolu'nun kültürel varlığına katkı sağlamışlardır.
- D) Bıraktıkları eserler, dünyadaki uygarlıklar üzerinde belirleyici olmuştur.

5. Düşünce şüpheyile başlar, kendisine zıt olanlarla gelişir; bu yüzden zıt düşüncelere kulaklarımızı tıkamak, düşünce ufukumuzu yok eder.

**Aşağıdakilerden hangisi bu cümleyle anlamca çelişir?**

- A) Farklı görüşler, düşüncenin olgunlaşmasını sağlar.  
 B) Düşüncelerine körü körüne bağlananlar yenileşmeye kapalıdır.  
 C) Gelişime açık olmak için sabit fikirlerden sakınmak gerekir.  
 D) Karşıt görüşler ilerlemenin önündeki en büyük engeldir.

6. (I) Ömründe hiç olmadığı kadar bitkindi. (II) Yorgunluktan neredeyse bir adım sonra yere düşüp oracıkta uyuyacaktı. (III) Attığı her adımda düşmemek için kendisini biraz daha zorluyordu. (IV) Ama ayakları birbirine dolaşıyor, sağa sola yalpalyordu.

**Bu metinde numaralanmış cümlelerin hangisinde amaç-sonuç ilişkisi vardır?**

- A) I.      B) II.      C) III.      D) IV.

7. (I) Çocuk kitaplarının eğitici olması gerektiğini düşünenler, çocukların sevdiği kitapların büyük bir kısmını saçma sapanlıkla suçluyor. (II) Oysa öncelikli olan ne tür olursa olsun çocuğun bir kitabı isteyerek ve zevkle okuması, “O yazarın başka kitabı var mı?” diye merak etmesidir. (III) Ancak birisi çıkıp ona “Niye saçma sapan kitaplar okuyorsun?” diyerek onun kitap okuma sevgisini baltalıyor. (IV) Bu tür yanlış söylemler ancak “Çocuğu Kitap Okumaktan Soğutmanın On Yolu” isimli bir makalede yer alabilir.

**Bu metinde numaralanmış cümlelerle ilgili aşağıdakilerden hangisi söylenemez?**

- A) I. cümlede bazı kişilerin, eğitici olmayan çocuk kitaplarını gereksiz gördüğü dile getirilmiştir.  
 B) II. cümlede asıl önemli olanın çocukların kitap okuması olduğu belirtilmiştir.  
 C) III. cümlede çocuklara kitap okuma sevgisi kazandırma yolları üzerinde durulmuştur.  
 D) IV. cümlede yanlış yaklaşımların, çocukları kitap okumaktan uzaklaştıracağı anlatılmıştır.

8. Ben İstanbul şarkılarıyla büyüdüm. Dedem ud çalar, ninem şarkı söylerdi. “Üsküdar’a gider iken aldı da bir yağmur.” derdi mesela, ben o yağmurla ıslanırdım. “Gel ey denizin nazlı kıızı!” derdi, denizden çıkıp geliveren nazlı bir kız olurdum.

**Bu metinde yazarın asıl anlatmak istediği aşağıdakilerden hangisidir?**

- A) Dedesi ve ninesinin sanata ilgi duyduğu  
 B) Kendisini İstanbul şarkılarıyla bütünleştirdiği  
 C) Kendisinin, İstanbul şarkılarını sürekli tekrarladığı  
 D) Dedesi ve ninesinin, İstanbul şarkılarını çok sevdiği

9. (I) Ülkemizde kuşkusuz iyi denemecilerimiz yetişti. (II) Türkçenin bütün tatlarını veren doyumsuz denemeler yazıldı. (III) Buna karşılık öyle zamanlar oldu ki herhangi bir türe dâhil edilemeyen melez yazılar, deneme diye okurun önüne sürüldü. (IV) Kimileri denemenin, içi boş yani fikirsiz ve süslü yazılar olduğunu zannetti. (V) Bu yüzden deneme kitapları, çoğu zaman edebiyat eseri sayılmadı.

**Bu metinde numaralanmış cümlelerin hangisinden itibaren düşüncenin yönü değişmiştir?**

- A) II.      B) III.      C) IV.      D) V.

10. Sanatı tarif edecek olsam “Oyundur.” derim ama bir kişiyle oynanan en güç, en belalı, en tatlı, en güzel oyun. Bir oyun ki sahnesi dünyanın her yerindedir. Bir oyun ki sahnesinde her zaman tek kişi; seyircileri arasında gelmiş, geçmiş ve gelecek nesiller bulunmaktadır. Bir oyun ki su ile ekmeğin yanı başında yerini alır.

**Bu metinden “sanat” ile ilgili aşağıdakilerin hangisi çıkarılamaz?**

- A) Güzelliği ve faydası kişiden kişiye değişir.  
B) Dinleyicisi, izleyicisi tüm insanlıktır.  
C) İnsan için temel ihtiyaç maddeleri kadar önemlidir.  
D) Hem kendi çağına hem de sonraki çağlara seslenir.

11. Bir otomobil kazası düşünelim. Kazayı kaldırımda yürüyen dört kişi, bir polis, tesadüfen oradan geçen bir kameraman ve kazanın olduğu yerin üstünde uçan bir helikopter pilotu görmüş olsun. Böyle bir olayı yedi ayrı bakış açısıyla aktarmak mümkündür. Kazayı gören bu kişilerin anlattıkları birbirinden farklı olacaktır. - - - -

**Bu metnin sonuna düşüncenin akışına göre aşağıdakilerden hangisi getirilmelidir?**

- A) Burada olduğu gibi hikâyeci de olayları daha canlı anlatmayı bilmelidir.  
B) Hikâyeci ise tüm bunların dışındadır, o sadece ele alacağı konuya odaklanır.  
C) Hikâyede de durum böyledir, aynı konuyu her hikâyeci kendi gözünden anlatır.  
D) Hikâyeci de kendi kafasında bir dünya çizer; bu dünyada istediği kahramana can verir, istediğini öldürür.

12. (I) Yıllarca yaşadığım kasabadan ayrılmak için istasyona geldim. (II) Kasabadan yarım saat uzakta, sık bir ağaçlık arasında kaybolmuş küçük bir istasyon... (III) Neredeyse karşı tepelerde tan atacak. (IV) Bir tren, tiz düdüğüyle karanlığı yırtarak istasyona yanaşiyor.

**Bu metinde numaralanmış cümlelerde hikâye unsurlarıyla ilgili aşağıdakilerden hangisi söylenemez?**

- A) I. cümle bir olayı ifade etmektedir.  
B) II. cümlede mekân betimlenmektedir.  
C) III. cümlede zaman bildirilmektedir.  
D) IV. cümlede kişi belirtilmektedir.

13. Hayat tren gibidir, geçip gider. Ama bazen de tren; sen hiç yokmuşsun, isteklerin, hayallerin hiç var olmamış gibi geçip gitmesin diye raylara oturur ve kesersin trenin yolunu. İşte şu sıralar okuduğum kitap böyle bir direnişin hikâyesi. Aynı zamanda mahalle yaşamının, komşulukların, anılara ve geleceğe sahip çıkmanın hikâyesi.

**Bu metinde sözü edilen eserin hangi yönü üzerinde durulmuştur?**

- A) Üslubu  
B) İçeriği  
C) Hedeflediği kitle  
D) Yazılış süreci

14. Tanımadığımız bir dünyaya uyandık. Böyle miydik dün sabah? İçine deliğinden sızan ışınlar bir ışıldak keskinliğiyle doldurmuştu odayı. Oysa her şeyin rengi çekilmiş bugün. Karşıkı terasın kızıl tentesi solmuş, yandaki evin yeşil camları donuk. Bir kamp çadırı var sanki üzerimizde. Yamalı yer yer, kül rengi. Denize moloz dökülmüş sanki.

**Bu metnin dil ve anlatımıyla ilgili aşağıdakilerden hangisi söylenemez?**

- A) Kişileştirmeye başvurulmuştur.  
B) Karşılaştırma yapılmıştır.  
C) Benzetmeye yer verilmiştir.  
D) Betimlemeden yararlanılmıştır.

15. Babası Dacat Bey'in ecza deposu vardır, gayet varlıklı bir ailede büyür Ara Güler. Pangaltı Lisesi, Galatasaray Lisesi, ardından da Ermeni Lisesine gider. Ancak babası kendisinin hayal ettiği gibi onun doktor ya da eczacı olmayacağını anlamıştır. Çünkü Ara Güler en çok sinemaya ilgi duyar. Babasının yılbaşında hediye ettiği film gösterme makinesiyle yazlık evlerinin alt katını sinema salonuna dönüştürür. Arkadaşlarını toplar, onlara bedava film izletir. Tek sorunu makinesinin, filmleri sessiz oynatmasıdır.

**Bu parça aşağıdaki metin türlerinden hangisine örnektir?**

- A) Anıya  
B) Günlüğe  
C) Biyografiye  
D) Otobiyografiye

16. **Aşağıdaki cümlelerin hangisinde yazım yanlışı vardır?**

- A) Genç, tıp dergisini alıp bir kaç makale okudu.  
B) Orhan Kemal, 15 Eylül 1914'te dünyaya gelmiştir.  
C) Bu çiçekler yalnızca dağ eteklerinde yetişir.  
D) Son yıllarda THY'nin yolcu sayısı çok arttı.

17. Bir giysiyi dikmek için terzilerin yaptığı pek çok iş var ( ) ölçü almak, kalıp çıkarmak, kumaşları kesmek ( ) Bu nedenle terzilere dikiş makinesi, ütü, metre, makas gibi aletler ( ) kumaş, iplik, düğme gibi malzemeler gereklidir ( )

**Bu metinde yay ayraçla gösterilen yerlere aşağıdakilerin hangisinde verilen noktalamaya işaretleri sırasıyla getirilmelidir?**

- A) (;) (.) (;) (!)  
B) (;) (...) (,) (.)  
C) (;) (.) (,) (.)  
D) (;) (...) (;) (.)

18. (I) Yatağımdan doğruldum ve çatlamaş dudaklarımı dilimle ıslattım. (II) Masadan, içi yarısına kadar dolu bardağı alıp üç dört yudum su içtim. (III) Pencereden sızan gün ışığı içimi mutlulukla doldurdu. (IV) Dudaklarımdaki gülümseme tüm yüzüme yayıldı.

**Bu metinde numaralanmış cümlelerin hangilerinde aynı tür fiilimsi kullanılmıştır?**

- A) I ve III.                      B) I ve IV.  
C) II ve III.                     D) II ve IV.

19. Yazar, doğup büyüdüğü coğrafyada yaşananları canlı bir atmosfer içinde anlatmış.

**Bu cümlenin öge dizilişini aşağıdakilerin hangisinde verilmiştir?**

- A) Özne - Yer tamlayıcısı - Zarf tamlayıcısı - Yüklem  
B) Özne - Nesne - Zarf tamlayıcısı - Yüklem  
C) Nesne - Zarf tamlayıcısı - Yer tamlayıcısı - Yüklem  
D) Yer tamlayıcısı - Nesne - Yer tamlayıcısı - Yüklem

20. I. Ay'ın atmosferi gündüz vakti mavi gözükür.  
II. Uluslararası Tenis Federasyonu her sene dört büyük tenis turnuvası düzenliyor.  
III. Mısırlılar, Keops Piramidi'ni yaparken 2,5 milyon parça taş kullanmıştır.  
IV. CD kutularını kullanarak evinizde saksı yapabilirsiniz.

**Numaralanmış cümlelerden hangilerinin öge dizilişini aynıdır?**

- A) I ve III.                      B) I ve IV.  
C) II ve III.                     D) II ve IV.

**TEST BİTTİ.  
CEVAPLARINIZI KONTROL EDİNİZ.**

**23 KASIM 2016 TARİHİNDE YAPILAN 8. SINIF 1. DÖNEM  
TÜRKÇE DERSİ MERKEZİ ORTAK SINAVI  
“A” KİTAPÇIĞI CEVAP ANAHTARI**

**TÜRKÇE**

1. A
2. A
3. D
4. C
5. D
6. C
7. C
8. B
9. B
10. A
11. C
12. D
13. B
14. A
15. C
16. A
17. D
18. A
19. B
20. C



T.C.  
MİLLÎ EĞİTİM BAKANLIĞI  
ÖLÇME, DEĞERLENDİRME VE SINAV HİZMETLERİ GENEL MÜDÜRLÜĞÜ

8. SINIF 1. DÖNEM  
**MATEMATİK DERSİ**  
MERKEZİ ORTAK SINAVI  
23 KASIM 2016 Saat: 10.10

**A**  
KİTAPÇIK TÜRÜ

SORU SAYISI : 20  
SINAV SÜRESİ : 40 Dakika

Adı ve Soyadı : .....  
Sınıfı : .....  
Öğrenci Numarası : .....

**ÖĞRENCİLERİN DİKKATİNE!**

1. Sınıf öğrenci yoklama listesinde belirtilen sınıfta ve sıra numarasında oturunuz.
2. Cevap kâğıdındaki kimlik bilgilerinin doğruluğunu kontrol ediniz. Bilgiler size ait değilse veya cevap kâğıdı kullanılmayacak durumdaysa sınav görevlilerine bildirin.
3. Kitapçık türünü cevap kâğıdındaki ilgili alana kodlayınız.
4. Cevap kâğıdı üzerindeki kodlamaları kurşun kalemle yapınız.

**SINAV BAŞLAMADAN ÖNCE  
KİTAPÇIĞIN ARKA KAPAĞINDAKİ  
UYARILARI MUTLAKA OKUYUNUZ.**

MATEMATİK 2016



## MATEMATİK

- Bu testte 20 soru vardır.
- Cevaplarınızı, cevap kâğıdına işaretleyiniz.

1.  $12 \cdot 12 \cdot 12 \cdot 12$  çarpımı aşağıdakilerden hangisine eşittir?

- A)  $4 \cdot 12$     B)  $12^4$     C)  $4^{12}$     D)  $12^{12}$

2. Aşağıdaki ondalık gösterimlerden hangisinin çözümlenmiş biçiminde  $5 \times 10^{-3}$  ifadesi bulunur?

- A) 32,305    B) 47,502  
C) 568,04    D) 5017,2

3. Aşağıdaki sayılardan hangisinin asal çarpanları 2, 3 ve 5'tir?

- A) 110    B) 100    C) 90    D) 72

4. Altuğ'un aklından tuttuğu sayının asal çarpanlarının en küçüğü 5, en büyüğü 11'dir.

Buna göre Altuğ'un aklından tuttuğu sayı aşağıdakilerden hangisi olabilir?

- A) 110    B) 165    C) 180    D) 275

5. Bir merdivenin basamakları üçer üçer veya dörder dörder inildiğinde her seferinde 1 basamak artıyor.

Buna göre bu merdiven en az kaç basamaklıdır?

- A) 11    B) 13    C) 23    D) 25

6.  $A = 2^4 \cdot 3^3 \cdot 5^2$   
 $B = 2^3 \cdot 3^2 \cdot 5^2 \cdot 7$

Yukarıda üslü biçimde ifade edilen A ve B sayılarının en küçük ortak katının, en büyük ortak bölenine oranı kaçtır?

- A) 7    B) 21    C) 42    D) 210

7. Bir toplantıya  $5^3$  ülkenin her birinden eşit sayıda kişi katılmıştır. Bu kişiler, bir otelin  $5^4$  odasının her birinde 5 kişi kalacak biçimde odalara yerleştirilmiştir.

**Buna göre bu toplantıya bir ülkeden kaç kişi katılmıştır?**

- A)  $5^8$     B)  $5^6$     C)  $5^4$     D)  $5^2$

8. Aralarında asal iki doğal sayının toplamı 15'tir. **Buna göre bu sayıların çarpımı aşağıdakilerden hangisi olamaz?**

- A) 26    B) 44    C) 54    D) 56

9.  $a = 2^4$  ve  $b = 5^4$  olduğuna göre  $a \cdot b$  işleminin sonucu aşağıdakilerden hangisine eşittir?

- A)  $7^4$     B)  $10^4$     C)  $10^8$     D)  $10^{16}$

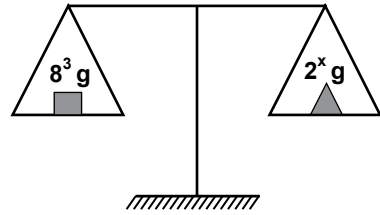
10. Aşağıdaki eşitliklerden hangisi doğrudur?

- A)  $1672 \times 10^{18} = 1,672 \times 10^{15}$   
 B)  $16,72 \times 10^{18} = 167,2 \times 10^{17}$   
 C)  $1,672 \times 10^{15} = 16,72 \times 10^{16}$   
 D)  $0,1672 \times 10^{14} = 167,2 \times 10^{17}$

11. Bir basamaklı en büyük tam kare sayı ile üç basamaklı en küçük tam kare sayının toplamı kaçtır?

- A) 130    B) 125    C) 116    D) 109

- 12.



Şekildeki eşit kollu terazi dengededir. Terazinin bir kefesinde  $8^3$  gramlık bir kütle, diğerinde  $2^x$  gramlık bir kütle bulunmaktadır.

**Buna göre x kaçtır?**

- A) 3    B) 6    C) 9    D) 12

13.  $\sqrt{18}$  sayısı aşağıdaki sayılardan hangisi ile çarpılırsa sonuç bir doğal sayı olur?

- A)  $\sqrt{15}$  B)  $\sqrt{27}$  C)  $\sqrt{48}$  D)  $\sqrt{50}$

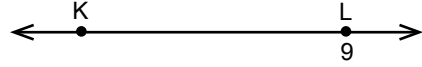
14. Alanı  $64 \text{ cm}^2$  ile  $144 \text{ cm}^2$  arasında olan bir karenin çevresi santimetre cinsinden aşağıdakilerden hangisi olabilir?

- A) 28 B) 43 C) 51 D) 56

15.  $m\sqrt{11} = \sqrt{99}$  ve  $n\sqrt{10} = \sqrt{1000}$  olduğuna göre  $m + n$  kaçtır?

- A) 13 B) 19 C) 103 D) 109

16.



Şekildeki sayı doğrusunda L noktasına karşılık gelen sayı 9'dur.

K ile L noktaları arasındaki uzaklık  $\sqrt{27}$  birim olduğuna göre K noktasına karşılık gelen sayı aşağıdaki hangi iki sayı arasındadır?

- A) 2 ile 3 B) 3 ile 4 C) 4 ile 5 D) 5 ile 6

17.  $3,\overline{45}$  devirli ondalık gösterimine eşit olan rasyonel sayı aşağıdakilerden hangisidir?

- A)  $\frac{100}{33}$  B)  $\frac{340}{99}$  C)  $\frac{38}{11}$  D)  $\frac{345}{99}$

18. 0,00000002 sayısının bilimsel gösterimi  $a \times 10^n$  dir.

Buna göre  $a \times n$  kaçtır?

- A) -18 B) -16 C) 16 D) 18

19. Kenarlarının uzunlukları  $3\sqrt{6}$  metre ve  $2\sqrt{3}$  metre olan dikdörtgen şeklindeki bir bahçenin 1 metrekaresi sulanırken bir yılda  $\sqrt{2}$  metreküp su kullanılmaktadır.

**Buna göre bu bahçenin tamamını sulamak için bir yılda kaç metreküp su gerekir?**

- A)  $36\sqrt{2}$    B) 36   C)  $18\sqrt{6}$    D) 18

20.  $\frac{\sqrt{27}}{\sqrt{12}} \div \frac{\sqrt{18}}{\sqrt{32}}$  işleminin sonucu kaçtır?

- A) 2   B)  $2\sqrt{2}$    C)  $2\sqrt{3}$    D) 4

**23 KASIM 2016 TARİHİNDE YAPILAN 8. SINIF 1. DÖNEM  
MATEMATİK DERSİ MERKEZİ ORTAK SINAVI  
“A” KİTAPÇIĞI CEVAP ANAHTARI**

**MATEMATİK**

1. B
2. A
3. C
4. D
5. B
6. C
7. D
8. C
9. B
10. B
11. D
12. C
13. D
14. B
15. A
16. B
17. C
18. A
19. B
20. A



T.C.  
MİLLÎ EĞİTİM BAKANLIĞI  
ÖLÇME, DEĞERLENDİRME VE SINAV HİZMETLERİ GENEL MÜDÜRLÜĞÜ

8. SINIF 1. DÖNEM  
**FEN BİLİMLERİ DERSİ**

MERKEZİ ORTAK SINAVI

24 KASIM 2016

Saat: 09.00

**A**  
KİTAPÇIK TÜRÜ

SORU SAYISI : 20

SINAV SÜRESİ : 40 Dakika

Adı ve Soyadı : .....

Sınıfı : .....

Öğrenci Numarası : .....

**ÖĞRENCİLERİN DİKKATİNE!**

1. Sınıf öğrenci yoklama listesinde belirtilen sınıfta ve sıra numarasında oturunuz.
2. Cevap kâğıdındaki kimlik bilgilerinin doğruluğunu kontrol ediniz. Bilgiler size ait değilse veya cevap kâğıdı kullanılmayacak durumdaysa sınav görevlilerine bildirin.
3. Kitapçık türünü cevap kâğıdındaki ilgili alana kodlayınız.
4. Cevap kâğıdı üzerindeki kodlamaları kurşun kalemle yapınız.

**SINAV BAŞLAMADAN ÖNCE  
KİTAPÇIĞIN ARKA KAPAĞINDAKİ  
UYARILARI MUTLAKA OKUYUNUZ.**

FEN BİLİMLERİ 2016

## FEN BİLİMLERİ

1. Bu testte 20 soru vardır.
2. Cevaplarınızı, cevap kâğıdına işaretleyiniz.

1.

I İkili sarmaldır yapım.  
Kromozomlardır yerim.  
Hücre bölünmeden önce  
kendimi eşlerim.

II Bir fosfor, bir şeker, bir de  
organik bazdan oluşur yapım.  
Organik bazlardan hangisini içerirsem  
onunla anılır adım.

I ve II numaralı şiirlerde özellikleri anlatılan yapılar aşağıdakilerin hangisinde verilmiştir?

I	II
A) Nükleotid	Gen
B) DNA	Nükleotid
C) DNA	Gen
D) Kromozom	DNA

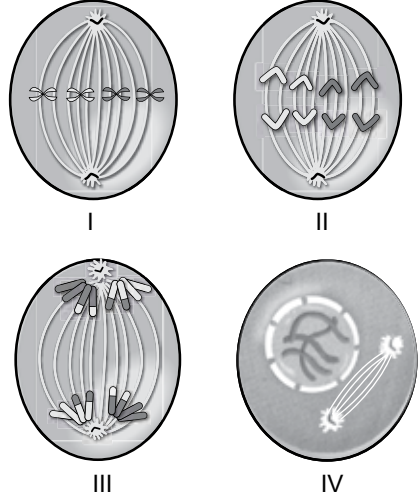
2. Öğretmen, öğrencilerden anlattığı konuya örnek vermelerini istemiştir.



Öğrencilerin bu konuyla ilgili verdikleri örnekler doğru olduğuna göre öğretmenin anlattığı konu aşağıdakilerden hangisidir?

- A) Mitozun büyüme ve gelişmeyle ilişkisi
- B) Mayozun üremeye ilişkisi
- C) Canlıların üremesi
- D) Eşeyli üreme

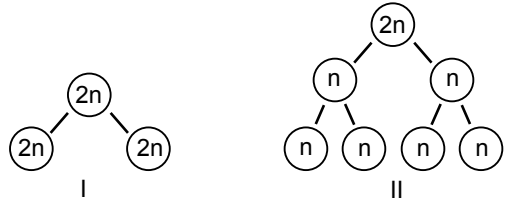
3. Bir öğretmen sınıfa hücre bölünmelerinin dört farklı evresine ait posterler getirmiş ve öğrencilerden mitozla ilgili olanları seçmelerini istemiştir.



Buna göre öğrencilerin numaralanmış posterlerden hangisini seçmeleri beklenmez?

- A) I.
- B) II.
- C) III.
- D) IV.

4. Canlılardaki hücre bölünmesinin iki farklı tipi numaralanmış modellerle gösterilmiştir.



Bu bölünme tipleri ile ilgili olarak aşağıdakilerden hangisi yanlıştır?

- A) I'deki bölünmeyle bazı canlılar üreyebilir.
- B) I'deki bölünmeyle vücutta onarım sağlanabilir.
- C) II'deki bölünme tipi eşeyli üreyen canlılarda görülür.
- D) II'deki bölünme sonunda oluşan hücrelerin genetik yapısı birbirinin aynısıdır.

5. İnsanda sperm ana hücrelerinde ve zigotta kromozom sayısı aşağıdakilerin hangisinde doğru verilmiştir?

	Sperm ana hücresi	Zigot
A)	2n	2n
B)	2n	n
C)	n	2n
D)	n	n

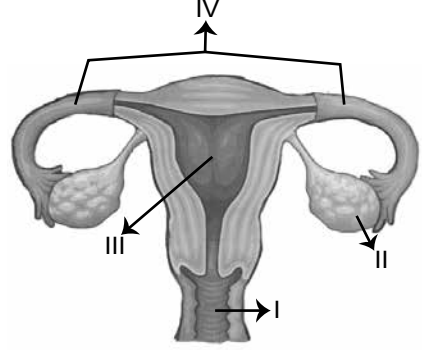
6. Bir grup öğrenci ergenlik döneminde bireylerde görülen değişimlerle ilgili aşağıdaki numaralanmış afişleri hazırlıyor.

- I
- Yumurta oluşumu başlaması
  - Âdet görme
  - Vücut hatlarının belirginleşmesi
- II
- Sperm oluşumu başlaması
  - Sakal bıyık çıkması
  - Sesin kalınlaşması
- III
- Duygusal dalgalanmalar
  - Utangaçlığın artması
  - Kendini yalnız hissetme
- IV
- Boy ve kilo artışı
  - Sivilce oluşumu
  - Koltuk altı vb. bölgelerin kıllanması

Numaralanmış afişlerin hangileri hem kız hem de erkek bireylerde görülen değişimlerle ilgilidir?

- A) Yalnız I  
B) Yalnız IV  
C) II ve III.  
D) III ve IV.

7. Şekilde insandaki dişi üreme yapı ve organları gösterilmiştir.



Bu şekildeki numaralanmış bölümler ile ilgili aşağıda verilen bilgilerden hangisi doğrudur?

- A) I, dişi üreme hücresinin oluştuğu bölümdür.  
B) II, döllenmenin meydana geldiği bölümdür.  
C) III, dişi üreme organının dışarıya açıldığı bölümdür.  
D) IV, yumurtayı döl yatağına taşıyan bölümdür.

8. Ergenlik döneminde yapılması gerekenlerle ilgili olarak öğrenciler önerilerini aşağıdaki gibi ifade etmişlerdir:

Ayşe

Kötü alışkanlık edinmenin normal olduğu, etkili bir şekilde anlatılmalıdır.

Mert

Hızlı büyüme ve değişim olduğundan bireyler dengeli beslenme konusunda bilgilendirilmelidir.

Gönül

Bireylerin meslek seçimlerine ve gelecekle ilgili planlamalarına yönelik rehberlik edilmelidir.

Ali

Grup etkinliklerine katılmayıp tüm zamanını yalnız geçirmesi sağlanmalıdır.

Bu öğrencilerden hangilerinin önerileri doğrudur?

- A) Yalnız Gönül  
B) Mert ve Ali  
C) Gönül ve Mert  
D) Ayşe ve Ali

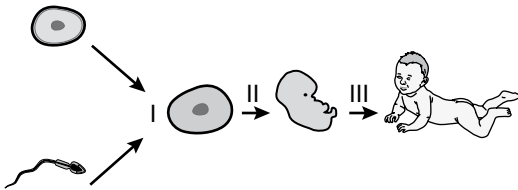


9. Anne adayı olduğunu öğrenen Nilgün Hanım, karnındaki embriyonun sağlıklı gelişmesi için alınması gereken tedbirleri doktoruna danışmaya karar verir.

**Aşağıdakilerin hangisi doktorun Nilgün Hanım'a vereceği tavsiyelerden biri olamaz?**

- A) Sigara, alkol ve uyuşturucu gibi maddelerden kesinlikle uzak durmalısın.  
B) Her türlü sağlık probleminde ilaç kullanmalısın.  
C) Fiziksel aktivitelerine dikkat etmelisin.  
D) Sağlıklı ve dengeli beslenmelisin.

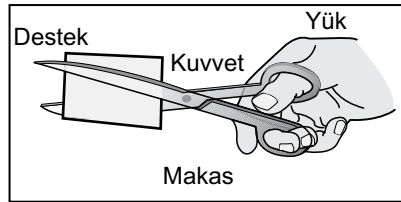
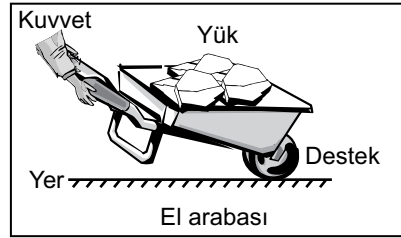
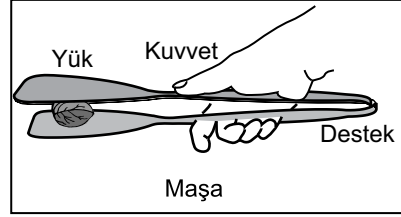
10. Bir öğrenci, insanın gelişimine ait verilen şemayı inceliyor.



**Bu şemaya göre aşağıdakilerden hangisi söylenemez?**

- A) I. evrede döllenme gerçekleşir.  
B) II. evrede mayoz gerçekleşir.  
C) III. evre normal olarak yaklaşık 9 ay sürer.  
D) III. evrede mitoz bölünmeler gerçekleşir.

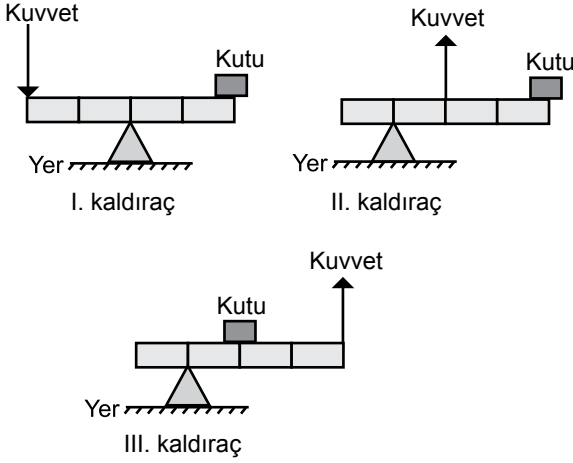
11. Üzerinde kuvvet, yük ve destek noktaları gösterilmiş olan basit makinelerin amaçlarına uygun kullanımı şekillerdeki gibidir.



**Buna göre hangi basit makinelerin üzerindeki kuvvet, yük ve destek noktaları yanlış gösterilmiştir?**


- A) Yalnız makasın  
B) Yalnız el arabasının  
C) Maşa ve el arabasının  
D) Maşa, el arabası ve makasın

12. Aşağıda bazı kaldıraç örnekleri verilmiştir.



**Bu kaldıraçların hangilerinde kuvvetten kazanç vardır?** (Kaldıraç çubukları özdeş ve eşit bölmeli olup ağırlıkları önemsenmeyecektir.)

- A) Yalnız I  
B) Yalnız III  
C) I ve II.  
D) II ve III.
13. Ahmet Ayşe'yi taşımak için el arabasını şekildedeki gibi kaldırıyor.



**Ayşe el arabasında aşağıdaki durumların hangisindeki gibi oturursa, Ahmet Ayşe'yi diğer durumlardakine göre daha az kuvvet uygulayarak kaldırabilir?**

- A) Mümkün olduğu kadar tekerleğe yakın  
B) Ahmet'in tuttuğu yer ile tekerleğin tam ortasına  
C) Mümkün olduğu kadar Ahmet'in tuttuğu yere yakın  
D) Arabanın herhangi bir yerine oturması uygulanan kuvveti değiştirmez.

14. Bir fındık kıracağı kullanarak fındıkların kırılmasını isteyen öğretmen öğrencilerine "Siz olsaydınız fındık kıracağı aynı yerden tutarak K ve L şekillerinden hangisindeki gibi kırardınız?" diye sorar.



K şekli



L şekli

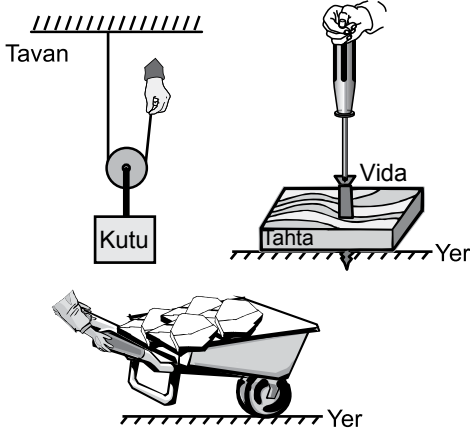
Öğrenciler,

- I. K'yi tercih ederdim. Çünkü kuvvetten kazanç L'ye göre daha fazladır.  
II. L'yi tercih ederdim. Çünkü yük kolu K'ye göre daha kısadır.  
III. L'yi tercih ederdim. Çünkü işten kazanç K'ye göre daha fazladır.
- cevaplarını veririrler.

**Buna göre öğrencilerin cevaplarından hangileri doğrudur?**

- A) Yalnız I  
B) Yalnız II  
C) Yalnız III  
D) II ve III.

15. Birer basit makine olan; hareketli makara, torna-vida ve el arabası şekillerde verilmiştir.



**Bu basit makineler amaçlarına uygun kullanıldıklarında,**

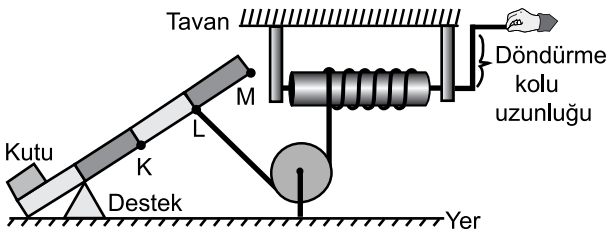
- I. Uygulanan kuvvetin yönünü değiştirmek
- II. Yoldan kazanç sağlamak
- III. Kuvvetten kazanç sağlamak

**faidelerinden hangileri ortaktır?**

(Makara ve ipin ağırlığı ile sürtünmeler önemsenmeyecektir.)

- A) Yalnız I
- B) Yalnız II
- C) Yalnız III
- D) I ve II.

16. Öğrenciler kutuyu belli bir yüksekliğe çıkarmak için şekildeki gibi düzenek tasarlamışlardır.

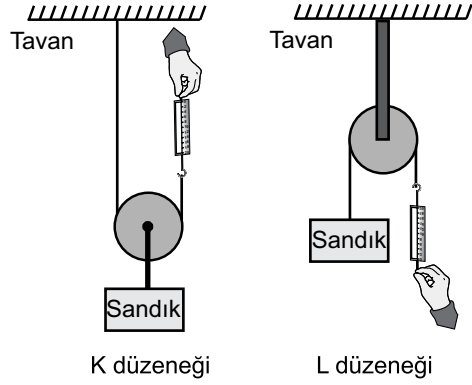


**Bu düzende kuvvet kazancını arttırmak için aşağıdakilerden hangisi yapılmalıdır?**

(Kaldıraç çubuğu eşit bölmeli olup ağırlığı önemsenmeyecektir.)

- A) Destek K noktasına yerleştirilmelidir.
- B) İp, L noktasından alınıp K noktasına bağlanmalıdır.
- C) Silindirin döndürme kolunun uzunluğu azaltılmalıdır.
- D) İp, L noktasından alınıp M noktasına bağlanmalıdır.

17. Bir öğrenci, aynı sandığı şekildeki gibi havada asılı tutup dinamometrenin gösterdiği değerleri okuyor.



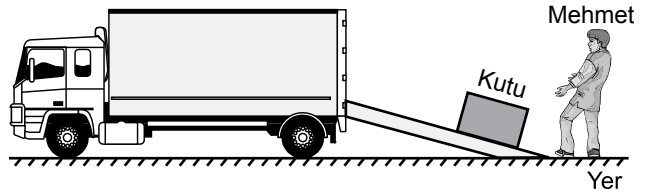
**Makaralar ve iplerin ağırlıkları ile sürtünmeler önemsenmediğine göre;**

- I. K düzeneğinde dinamometreden okunan değer, L düzeneğindeki dinamometreden okunan değerden daha küçüktür.
- II. L düzeneğinde kuvvetten kazanç yoktur.
- III. L düzeneğinde dinamometreden okunan değer sandığın ağırlığından küçüktür.

**yargılarından hangileri doğrudur?**

- A) Yalnız I
- B) I ve II.
- C) II ve III.
- D) I, II ve III.

18. Mehmet, kaldırarak kamyonla yüklemeye kuvvetinin yetmediği kutuyu şekildeki gibi eğik düzlem üzerinde iterek yüklemiştir.



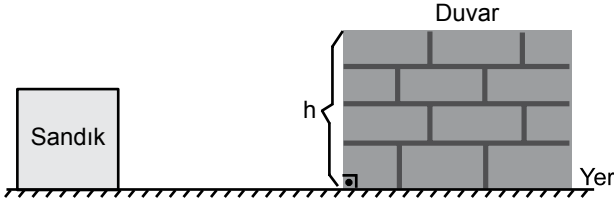
**Mehmet'in kullanmış olduğu bu düzende ilgili olarak,**

- I. Kuvvetten kazanç sağlanmıştır.
- II. Yoldan kazanç sağlanmıştır.
- III. İş kolaylığı sağlanmıştır.

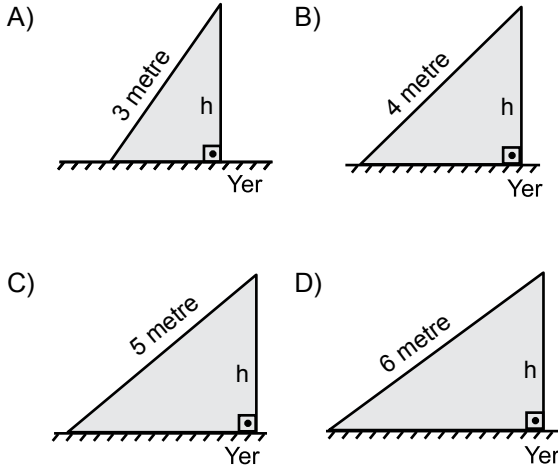
**yargılarından hangileri doğrudur?**

- A) Yalnız I
- B) Yalnız II
- C) I ve III.
- D) I, II ve III.

19. Bir inşaat firması çalışanları, içinde tuğla bulunan sandığı en az kuvvetle eğik düzlemde iterek şekildeki duvarın üzerine çıkarmak istiyor.



Buna göre firma çalışanları aşağıdaki eğik düzlemlerden hangisini kullanmalıdır?  
(Sürtünmeler önemsenmeyecektir.)



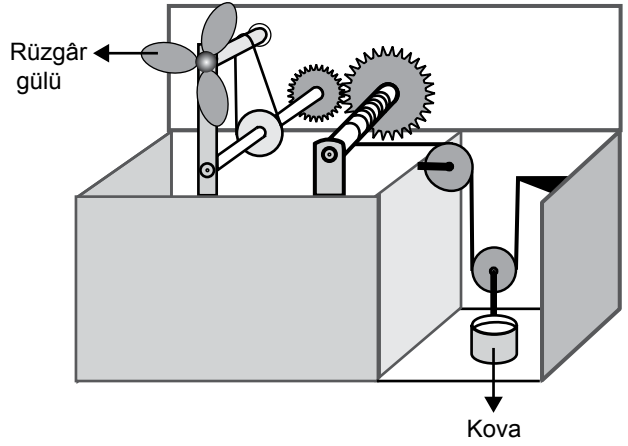
20. Bir öğrenci, rüzgâr gülü ve ipler kullanarak kuyudan su çıkarmak için tasarladığı şekildeki basit makine sistemini sınıfa getiriyor. Rüzgâr gülü döndüğünde içinde su bulunan kovanın yukarı doğru hareket ettiği görülüyor.

Bu sistemle ilgili bazı öğrenciler aşağıdaki yorumları yapıyor:

**Ömer** : Sistemde kasnak ve dişli çark vardır.

**Fatma** : Sistemde sabit makara ve hareketli makara vardır.

**Mehmet** : Sistemde kuyudan su çekerken işten kazanç sağlanır.



Ömer, Fatma ve Mehmet'in ifadelerinden hangileri doğrudur?

- A) Yalnız Ömer  
B) Yalnız Fatma  
C) Ömer ve Fatma  
D) Ömer, Fatma ve Mehmet

TEST BİTTİ.

CEVAPLARINIZI KONTROL EDİNİZ.

**24 KASIM 2016 TARİHİNDE YAPILAN 8. SINIF 1. DÖNEM  
FEN BİLİMLERİ DERSİ MERKEZİ ORTAK SINAVI  
“A” KİTAPÇIĞI CEVAP ANAHTARI**

**FEN BİLİMLERİ**

1. B
2. A
3. C
4. D
5. A
6. D
7. D
8. C
9. B
10. B
11. A
12. B
13. A
14. A
15. C
16. D
17. B
18. C
19. D
20. C



T.C.  
MİLLÎ EĞİTİM BAKANLIĞI  
ÖLÇME, DEĞERLENDİRME VE SINAV HİZMETLERİ GENEL MÜDÜRLÜĞÜ

8. SINIF 1. DÖNEM  
T.C. İNKILAP TARİHİ VE  
ATATÜRKÇÜLÜK DERSİ

MERKEZİ ORTAK SINAVI

24 KASIM 2016

Saat: 10.10

**A**  
KİTAPÇIK TÜRÜ

SORU SAYISI : 20

SINAV SÜRESİ : 40 Dakika

Adı ve Soyadı : .....

Sınıfı : .....

Öğrenci Numarası : .....

### ÖĞRENCİLERİN DİKKATİNE!

1. Sınıf öğrenci yoklama listesinde belirtilen sınıfta ve sıra numarasında oturunuz.
2. Cevap kâğıdındaki kimlik bilgilerinin doğruluğunu kontrol ediniz. Bilgiler size ait değilse veya cevap kâğıdı kullanılmayacak durumdaysa sınav görevlilerine bildirin.
3. Kitapçık türünü cevap kâğıdındaki ilgili alana kodlayınız.
4. Cevap kâğıdı üzerindeki kodlamaları kurşun kalemle yapınız.

**SINAV BAŞLAMADAN ÖNCE  
KİTAPÇIĞIN ARKA KAPAĞINDAKİ  
UYARILARI MUTLAKA OKUYUNUZ.**

T.C. İNKILAP TARİHİ VE ATATÜRKÇÜLÜK 2016

## T.C. İNKILAP TARİHİ VE ATATÜRKÇÜLÜK

1. Bu testte 20 soru vardır.
2. Cevaplarınızı, cevap kâğıdına işaretleyiniz.

1. Atatürk'ün çocukluk döneminde Selanik'te farklı inanç ve milletler bir arada yaşamaktaydı.

**Bu bilgide Selanik şehrinin,**

- I. Dinî
- II. İktisadi
- III. Askerî
- IV. Sosyal

**özelliklerinden hangileri vurgulanmıştır?**

- |               |              |
|---------------|--------------|
| A) I ve II.   | B) I ve IV.  |
| C) II ve III. | D) II ve IV. |

2. Mustafa Kemal, Şemsi Efendi Mektebinden sonra bir süre Selanik Mülkiye Rüştiyesine devam etmiştir. Ancak daha sonra kendi iradesi ile Askerî Rüştiye sınavlarına girmiş ve başarılı olmuştur.

**Bu bilgi Mustafa Kemal'in, aşağıdaki özelliklerinden hangisine örnek gösterilir?**

- A) Karar alma ve uygulamasına
- B) Çevresinin etkisinde kalmasına
- C) Ülkesinin geleceğini düşünmesine
- D) Başkalarının fikirlerine saygı göstermesine

3. Mustafa Kemal, 22 Eylül 1909'da İttihat ve Terakki Cemiyetinin ikinci kongresine katılır. Ve bu kongrede düşüncelerini şu sözlerle açıklar: "Ordu mensupları cemiyet içinde kaldıkça hem parti kuramayacağız hem de ordumuz olmayacaktır..."

**Mustafa Kemal bu açıklamasıyla aşağıdaki düşüncelerden hangisini savunmaktadır?**

- A) Ordu mensupları cemiyette aktif görev almalıdır.
- B) İttihat ve Terakki Cemiyeti yöneticileri ordu komutanlarından atanmalıdır.
- C) İttihat ve Terakki Cemiyeti kapatılmalıdır.
- D) Ordu ve siyaset birbirinden ayrılmalıdır.

4. Mustafa Kemal'in yaşadığı şehirler ve bu şehirlerdeki bazı faaliyetleri aşağıda verilmiştir.

**Selanik:** Buradaki zengin kültürel birikimden faydalanmış, kente ulaşan yayınları takip etmiştir.

**Manastır:** Bu şehirde Avrupalı düşünürlerin kitaplarını okumaya başlamış; onların hürriyet, özgürlük, cumhuriyet ile ilgili düşüncelerinden etkilenmiştir.

**İstanbul:** Burada ülke sorunları üzerine arkadaşlarıyla toplantılar yapmış, günlük gazeteleri takip etmiştir.

**Sofya:** Bu şehirde Avrupa devletlerinin temsilcileriyle görüşmüş, bölgede yaşayan Türklerin sorunlarıyla yakından ilgilenmiştir.

**Buna göre Mustafa Kemal bu şehirlerin hangisinde diplomatik faaliyetlerde bulunmuştur?**

- |             |             |
|-------------|-------------|
| A) Selanik  | B) Manastır |
| C) İstanbul | D) Sofya    |

5. Yarbay Mustafa Kemal, 2 Şubat 1915'te 19. Tümen Komutanlığına atanmış ve bu tümenle düşmanın iki büyük saldırısını başarısızlığa uğratmıştı. Böylece Çanakkale'de İtilaf Devletleri'nin bozguna uğramasında büyük bir rol üstlenmişti.

**Mustafa Kemal'in bu görevde kazandığı tecrübe Millî Mücadele liderliğinde ona hangi açıdan katkı sağlamıştır?**

- A) Başarılı bir dış politika yürütmek  
B) Ülke ekonomisini güçlendirmek  
C) Orduyu savaşta iyi yönetmek  
D) Kültürel yenilikler yapmak

6. Osmanlı Devleti'nin I. Dünya Savaşı öncesinde izlemiş olduğu aşağıdaki politikalarından hangisi siyasi yalnızlıktan kurtulmayı amaçladığını göstermektedir?

- A) Kapitülasyonları kaldırmaya çalışması  
B) Bazı devletlerle ittifak arayışına girmesi  
C) Son zamanlarda kaybettiği toprakları geri almak istemesi  
D) Ordusunu yeniden yapılandırmaya gitmesi

7. Mustafa Kemal'in askerî faaliyetleri ile kişilik özellikleri aşağıdaki tabloda eşleştirilmiştir.

	Askerî Faaliyetleri	Kişilik Özellikleri
I.	7. Ordu Komutanlığı görevine yeniden dönen Mustafa Kemal, eskiye göre daha kötü durumla karşılaştı. Üstün İtilaf kuvvetlerinin Kudüs'ü alarak Suriye'ye doğru saldırıya geçmesi karşısında Mustafa Kemal birliklerini Halep'e kadar geri çekti. Burada kuvvetlerini yeniden düzenleyerek Halep'in kuzeyinde düşmanı yenilgiye uğrattı.	Askerî yeteneklilik
II.	Trablusgarp'ta yerli halkı örgütleyerek İtalyanlara karşı mücadele etti.	Teşkilatçılık
III.	Çanakkale Cephesi'nde düşmanın çıkarma yapacağı yeri tahmin edip gerekli hazırlıkları yaparak başarı elde etti.	İleri görüşlülük
IV.	Suriye Cephesi'nde Alman komutanla fikir ayrılığına düşmesi sonucunda komutanlığın yabancılardan alınmasını savundu.	İnkılapçılık

**Bu tablodaki numaralanmış eşleştirmelerden hangisi yanlıştır?**

- A) I.      B) II.      C) III.      D) IV.

8. "Kuvayimillîye birlikleri yöresel kuvvetler olduğu için sadece kendi bölgelerinde etkili oluyorlardı." diyen bir kişi, bu kuvvetlerin hangi yönünü eleştirmiştir?

- A) Ülke genelini savunamayışlarını  
B) Gönüllü halk hareketi oluşlarını  
C) Emir komuta zincirine göre hareket etmeyişlerini  
D) Askerî disiplinden yoksun oluşlarını



9.

**DAYANAK**

30 Ekim 1918  
Mondros Ateşkes Antlaşması  
**7. Madde:** İtilaf Devletleri güvenliklerini tehdit edecek bir durum ortaya çıkması hâlinde herhangi bir stratejik yeri işgal etme hakkına sahip olacaktır.

**GELİŞMELER**

- 15 Mayıs 1919'da İtilaf Devletleri'nin korumasında Yunanlılar İzmir'i işgal etti.
- 16 Mart 1920'de İtilaf Devletleri İstanbul'u işgal etti.

**Bu dayanak ve gelişmeler ilişkilendirildiğinde İtilaf Devletleri ile ilgili aşağıdaki yargılardan hangisine ulaşamaz?**

- A) İşgal bölgelerinde asayiş sağlamışlardır.
- B) Yapacakları işgallere zemin hazırlamışlardır.
- C) Osmanlı topraklarını parçalamayı amaçlamışlardır.
- D) Osmanlı Devleti'ne karşı ortak hareket etmişlerdir.

10. "... Yabancı bir milletin himaye ve efendiliğini kabul etmek, insanlık vasıflarından yoksunluğu, acizlik ve miskinliği itiraftan başka bir şey değildir."

ATATÜRK

**Atatürk bu sözyle aşağıdakilerin hangisinden ödün verilmesini eleştirmektedir?**

- A) Çağdaşlık
- B) Bağımsızlık
- C) Batıcılık
- D) Laiklik

11. Mondros Ateşkes Antlaşması'ndan sonra ülkenin içinde bulunduğu kötü durumdan kurtarılması için bazı kurtuluş çareleri ortaya atılarak çalışmalar yapılmıştır.

**Bu doğrultuda kurulan**

- İngiliz Muhipleri
- Wilson Prensipleri
- Kilikyalılar
- Doğu Anadolu Müdafaa-i Hukuk

**cemiyetlerinin amaçları arasında aşağıdaki kurtuluş çarelerinden hangisi yoktur?**

- A) İngiliz himayesine girmek
- B) Amerikan mandasını istemek
- C) Topyekûn millî mücadeleye girişmek
- D) Bölgesel kurtuluş çarelerine başvurmak

12. Mustafa Kemal'in şiddetle karşı çıktığı Sevr Barış Antlaşması'nın kararlarından bazıları şunlardır:

- Boğazlar Bölgesi, bayrağı ve bütçesi olan uluslararası bir komisyonun denetimine bırakılacaktır.
- Boğazlar savaşta ve barışta bütün devletlerin gemilerine açık olacaktır.

**Bu kararların,**

- I. Bağımsızlık
- II. Ülke bütünlüğü
- III. Egemen devlet
- IV. Millî eğitim

**anlayışlarından hangilerine aykırı olması, Mustafa Kemal'in antlaşmaya karşı çıkışında etkili olmuştur?**

- A) Yalnız II
- B) II ve IV.
- C) I, II ve III.
- D) I, II, III ve IV.

13. Erzurum Kongresi'nin kararlarından bazıları şunlardır:
- Millî sınırlar içinde vatan bir bütündür parçalanamaz.
  - Kuvayimilliyeyi tek kuvvet olarak tanımak ve millî iradeyi hâkim kılmak esastır.
  - Manda ve himaye kabul olunamaz.

**Kongre'nin bu kararlarıyla aşağıdakilerden hangisi amaçlanmamıştır?**

- A) Millî bağımsızlığın kazanılması  
B) Toplumsal eşitliğin sağlanması  
C) Toprak bütünlüğünün korunması  
D) Millî egemenliğin gerçekleştirilmesi

14. Misakımillî'nin kabulü ile millî ve bölünmez Türk ülkesinin sınırları çizilmiş, her türlü baskı ve kısıtlamalar reddedilmiştir.

**Buna göre Misakımillî ile**

- I. Ulusal egemenlik  
II. Tam bağımsızlık  
III. Vatanın bütünlüğü  
IV. Çağdaşlık

**anlayışlarından hangilerinin benimsendiği söylenir?**

- A) Yalnız I  
B) I ve IV.  
C) II ve III.  
D) III ve IV.

15. Büyük Millet Meclisinin açılışından sonra Anadolu'nun çeşitli yerlerinde Meclise karşı ayaklanmalar çıkmıştır. Meclis, bu ayaklanmaları bastırmak için Hıyanetivatanıye Kanunu'nu çıkarmış ve İstiklal Mahkemelerini kurmuştur.

**Bu bilgiye göre meclisin ayaklanmaları önlemede aşağıdaki ilkelerden hangisine göre hareket ettiği söylenebilir?**

- A) Eşitlik  
B) Bağımsızlık  
C) Barışçılık  
D) Hukukun üstünlüğü

16. **Aşağıdaki cemiyetlerden hangisinin kuruluş amacı Mustafa Kemal'in topyekûn mücadele fikrine uygundur?**

- A) **Trakya Paşaeli Cemiyeti:** Trakya'nın Yunanlılar tarafından işgalini önlemek amacıyla kurulmuştur.  
B) **Kilikyalılar Cemiyeti:** Çukurova Bölgesi'nin Fransızlar ve Ermeniler tarafından işgalini önlemeyi amaçlamıştır.  
C) **Millî Kongre Cemiyeti:** Türklere yönelik gerçek dışı yayınlara belgelerle cevap vermeyi ve millî kuvvetleri bir çatı altında toplamayı hedeflemiştir.  
D) **İzmir Redd-i İlhak Cemiyeti:** İzmir'in Yunanlılar tarafından haksız işgaline karşı silahlı direnişi örgütlemiştir.

17. • Meclisi Mebusan dağıtılınca Büyük Millet Meclisi açılmıştır.  
• Büyük Millet Meclisine karşı çıkan ayaklanmaları bastırmak için Hıyanetivatanıye Kanunu kabul edilmiştir.  
• Millî Mücadele'ye karşı yürütülen olumsuz propagandaları önlemek amacıyla Hâkimiyet-i Milliye gazetesi çıkarılmıştır.

**Bu bilgilerden hareketle Millî Mücadele Dönemi ile ilgili çıkarılacak en kapsamlı sonuç aşağıdakilerden hangisidir?**

- A) Yaşanan sorunlara çözüm yolları bulunmuştur.  
B) Ortaya çıkan sorunlar mücadeleyi yavaşlatmıştır.  
C) Düzenli orduya önem verilmiştir.  
D) Pek çok sorunla karşılaşmıştır.

18. TBMM, Sevr Antlaşması'na şiddetle karşı çıkmış ve bu antlaşmayı yok sayarak tanımadığını ilan etmiştir.

**TBMM'nin Sovyetler Birliği ile imzaladığı Moskova Antlaşması'nın aşağıdaki maddelerinden hangisi, Sovyetlerin Sevr Antlaşması konusunda TBMM ile aynı düşüncede olduğunu göstermektedir?**

- A) Sovyetler Birliği, Batum'un Gürcistan'a bırakılması şartıyla TBMM'nin Gürcistan ve Ermenistan ile imzaladığı antlaşmaları tanıyacaktır.  
B) Sovyetler Birliği elinde bulunan bütün esirleri üç ay içerisinde iade edecektir.  
C) Taraflar arasında ekonomik ve kültürel ilişkiler sıklaştırılacaktır.  
D) İki taraftan birinin tanımadığı uluslararası bir antlaşmayı, diğeri de tanımayacaktır.

19. Kuvayımilliyeye birlikleri tek merkezden yönetilmeyen, dağınık halk hareketidir.

**Aşağıdakilerden hangisi Kuvayımilliyenin bu özelliğini değiştirmeye yönelik bir faaliyettir?**

- A) Burdur Askerlik Şubesi başkanının, halkı silahlandırarak Kuvayımilliyeye birliği oluşturmak için izin istemesi  
B) Erkan-ı Harp Başkanı Cevat Paşa'nın hazırladığı raporda "Kuvayımilliyeye kurulmalıdır." önerisinde bulunması  
C) Ali Fuat Paşa'nın, Batı Anadolu Kuvayımilliyeye Genel Komutanlığına atanması  
D) Yörük Ali Efe'nin, Aydın'da ilk Kuvayımilliyeye birliğini kurması

20. I. İnönü Zaferi'nden sonra Mehmet Akif Ersoy'un Türk ordusuna ithafen yazdığı İstiklal Marşı, TBMM'de ulusal marş olarak kabul edilmiştir.

**Bu durum, TBMM'de aşağıdakilerden hangisinin gerçekleşeceğine olan inancın güçlendiğini göstermektedir?**

- A) Demokrasinin  
B) Bağımsızlığın  
C) Akılcılığın  
D) Eşitliğin

**24 KASIM 2016 TARİHİNDE YAPILAN 8. SINIF 1. DÖNEM  
T.C İNKILAP TARİHİ VE ATATÜRKÇÜLÜK DERSİ MERKEZİ ORTAK SINAVI  
“A” KİTAPÇIĞI CEVAP ANAHTARI**

**T.C İNKILAP TARİHİ VE ATATÜRKÇÜLÜK**

1. B
2. A
3. D
4. D
5. C
6. B
7. D
8. A
9. A
10. B
11. C
12. C
13. B
14. C
15. D
16. C
17. A
18. D
19. C
20. B



T.C.  
MİLLÎ EĞİTİM BAKANLIĞI  
ÖLÇME, DEĞERLENDİRME VE SINAV HİZMETLERİ GENEL MÜDÜRLÜĞÜ

8. SINIF 1. DÖNEM  
**İNGİLİZCE DERSİ**  
MERKEZİ ORTAK SINAVI  
24 KASIM 2016 Saat: 11.20

**A**  
KİTAPÇIK TÜRÜ

SORU SAYISI : 20  
SINAV SÜRESİ : 40 Dakika

Adı ve Soyadı : .....  
Sınıfı : .....  
Öğrenci Numarası : .....

### ÖĞRENCİLERİN DİKKATİNE!

1. Sınıf öğrenci yoklama listesinde belirtilen sınıfta ve sıra numarasında oturunuz.
2. Cevap kâğıdındaki kimlik bilgilerinin doğruluğunu kontrol ediniz. Bilgiler size ait değilse veya cevap kâğıdı kullanılmayacak durumdaysa sınav görevlilerine bildirin.
3. Kitapçık türünü cevap kâğıdındaki ilgili alana kodlayınız.
4. Cevap kâğıdı üzerindeki kodlamaları kurşun kalemle yapınız.

**SINAV BAŞLAMADAN ÖNCE  
KİTAPÇIĞIN ARKA KAPAĞINDAKİ  
UYARILARI MUTLAKA OKUYUNUZ.**

İNGİLİZCE 2016


## İNGİLİZCE

1. Bu testte 20 soru vardır.
2. Cevaplarınızı, cevap kâğıdına işaretleyiniz.

**1-11. sorularda boş bırakılan yere uygun gelen kelime ya da ifadeyi işaretleyiniz.**

1. **Sally** : Do you like eating French toast?  
**Jeremy** : ----- . I think it is not tasty.
- A) That's better                      B) No problem  
 C) Not really                         D) Sounds great

2.



- A) I have no time to fix the brakes  
 B) I am very good at fixing bikes  
 C) I know how to fix the brakes  
 D) I really love fixing bikes

3. **Kate** : -----?**Sam** : They are delicious.

- A) Why do teens prefer playing soccer  
 B) Why are pizza and chips so popular  
 C) What kind of music are you listening to  
 D) What do people like eating in your country

4. **Ekin** : We're going to watch a thriller tonight.  
 Would you like to come?  
**Terry** : I'm not into thrillers because they are unbearable.  
**Ekin** : What do you enjoy watching then?  
**Terry** : ----- . They are great fun.

- A) I enjoy watching a movie alone  
 B) I dislike going to the movies  
 C) I prefer watching comedies  
 D) I never watch a sci-fi movie


5. **Adam** : Can I invite my friends to our house tonight?

**Mother** : - - - -. Your father doesn't feel well today and wants to rest for a while.

**Adam** : OK. We will meet at a café then.

- A) Yes, you can                      B) Great idea  
C) That's right                      D) I'm sorry

7.



- A) Where do you eat with your buddies  
B) What do you think about true friends  
C) What do you do with your true friends  
D) Where do you hang out with your buddies

6. **Wendy** : - - - -?

**Robin** : Twice a day.

- A) How often do you brush your teeth  
B) What time are you going to pick me up  
C) When does your geography lesson start  
D) Where would you like to go with your family

8. **Anna** : - - - -?

**Arda** : By bus.

- A) When does he start work  
B) Why does she go to work  
C) Where does his brother work  
D) How does she usually go to work

9. **Karl** : Would you like to study with me at my place this evening?  
**Brad** : Sure. What time shall we meet?  
**Karl** : ----.  
**Brad** : Got it. See you then.
- A) Every day                      B) At 7.30 p.m  
 C) On Wednesday              D) On 12<sup>th</sup> December

11.

Wait for 5 minutes until it boils.  
 Then, turn down the ---- to  
 a low heat.



- A) jug                                      B) bowl  
 C) cooker                                D) knife



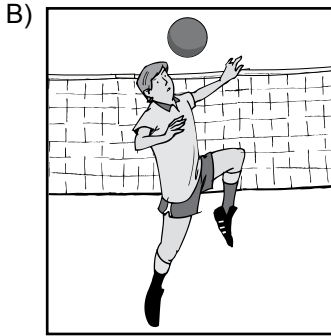
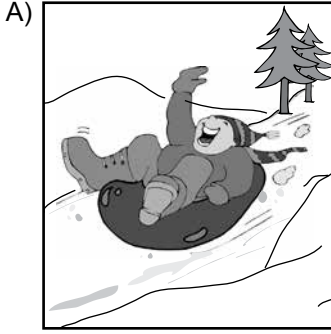
10. **Elif** : ----?  
**Edd** : I am! I'm going to play the guitar at the party.
- A) Does your sister like jazz music  
 B) What kind of music are you into  
 C) Do you often listen to pop music  
 D) Who is responsible for the music

12. **Your friends invite you to watch an action movie. But you don't like watching them. What do you say to refuse the invitation?**

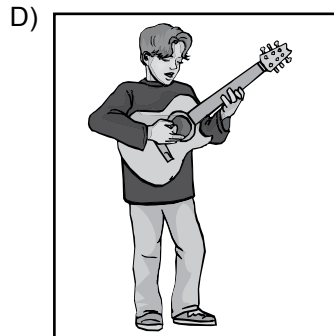

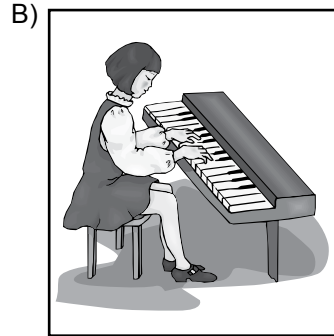
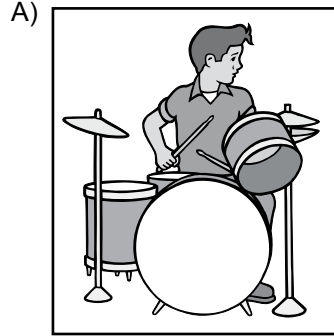
- A) It's a bad idea. I dislike action movies.  
 B) Sure. Action movies are my favorite.  
 C) Sounds good. I love action movies.  
 D) I'd like to. I'm into action movies.



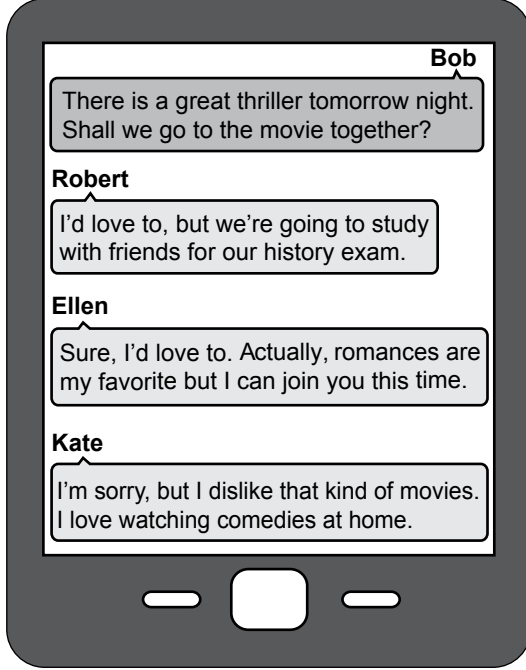
13. “Selim prefers snowshoeing. It is his favorite activity” ifadesini anlatan görsel aşağıdakilerden hangisidir?



14. “Music is my life. I practice the drums every day.” ifadesini anlatan görsel aşağıdakilerden hangisidir?



15-17. soruları aşağıda verilen mesajlaşma-ya göre cevaplayınız.



15. Robert refuses Bob's offer because he - - - -.

- A) is not into romances
- B) does not like thrillers
- C) dislikes seeing movies
- D) has another plan with friends

16. Ellen - - - -.

- A) is busy that night
- B) accepts her friend's offer
- C) never watches romances
- D) prefers watching movies at home

17. Kate - - - -.

- A) enjoys watching something fun
- B) always watches thrillers at home
- C) never refuses her friends' invitations
- D) prefers studying at home with friends

18-20. soruları aşağıda verilen metne göre cevaplayınız.

Hi, I'm Joyce. I dislike eating meat so I always prefer vegetables. My favorite dish is vegetable pizza. It is very easy to make. If you don't like eating meat like me, here is my recipe:

- First, cut and slice the vegetables.
- Then, put all the vegetables in a frying pan and fry them for 10-15 minutes.
- After that, put all the cheese and the fried vegetables on the top of the pizza bread.
- Finally, bake the pizza in an oven for about 5 minutes.

It's OK. I'm sure you will all like it. Enjoy your delicious pizza.

18. Joyce - - - -.

- A) always enjoys eating meat like others
- B) hardly ever eats vegetables in a dish
- C) says the recipe is difficult to make
- D) thinks people will enjoy the pizza

19. Before putting the vegetables in a frying pan, you - - - -.

- A) should keep them in an oven
- B) steam them for 10-15 minutes
- C) have to put them on the pizza bread
- D) need to cut and slice the vegetables

20. After baking the pizza in an oven for 5 minutes, - - - -.

- A) your pizza is ready to eat
- B) you can fry the vegetables
- C) your meat is ready to serve
- D) you can prepare the ingredients

**TEST BİTTİ.  
CEVAPLARINIZI KONTROL EDİNİZ.**

**24 KASIM 2016 TARİHİNDE YAPILAN 8. SINIF 1. DÖNEM  
İNGİLİZCE DERSİ MERKEZİ ORTAK SINAVI  
“A” KİTAPÇIĞI CEVAP ANAHTARI**

**İNGİLİZCE**

1. C
2. A
3. B
4. C
5. D
6. A
7. B
8. D
9. B
10. D
11. C
12. A
13. C
14. A
15. D
16. B
17. A
18. D
19. D
20. A



T.C.

MİLLÎ EĞİTİM BAKANLIĞI

ÖLÇME, DEĞERLENDİRME VE SINAV HİZMETLERİ GENEL MÜDÜRLÜĞÜ

DİN KÜLTÜRÜ VE AHLAK BİLGİSİ 2016

**8. SINIF 1. DÖNEM**  
**DİN KÜLTÜRÜ VE**  
**AHLAK BİLGİSİ DERSİ**

**MERKEZİ ORTAK SINAVI**

**23 KASIM 2016**

**Saat: 11.20**

**A**  
KİTAPÇIK TÜRÜ

**SORU SAYISI : 20**

**SINAV SÜRESİ : 40 Dakika**

**Adı ve Soyadı** : .....

**Sınıfı** : .....

**Öğrenci Numarası** : .....

**ÖĞRENCİLERİN DİKKATİNE!**

1. Sınıf öğrenci yoklama listesinde belirtilen sınıfta ve sıra numarasında oturunuz.
2. Cevap kâğıdındaki kimlik bilgilerinin doğruluğunu kontrol ediniz. Bilgiler size ait değilse veya cevap kâğıdı kullanılmayacak durumdaysa sınav görevlilerine bildirin.
3. Kitapçık türünü cevap kâğıdındaki ilgili alana kodlayınız.
4. Cevap kâğıdı üzerindeki kodlamaları kurşun kalemle yapınız.

**SINAV BAŞLAMADAN ÖNCE**  
**KİTAPÇIĞIN ARKA KAPAĞINDAKİ**  
**UYARILARI MUTLAKA OKUYUNUZ.**

## DİN KÜLTÜRÜ VE AHLAK BİLGİSİ

1. Bu testte 20 soru vardır.
2. Cevaplarınızı, cevap kâğıdına işaretleyiniz.

1. I. Başarı  
II. Akıl  
III. Tevekkül  
IV. İrade

**İnsan, davranışlarından sorumlu tutulabilmesi için bunlardan hangilerine öncelikle sahip olmalıdır?**

- A) I ve III.                      B) I ve IV.  
C) II ve III.                     D) II ve IV.

2. I. Evrende bütün cisimler birbirini çeker. Cismin kütlesi ne kadar büyük olursa çekimin kuvveti de o derece fazladır. Cisimler arasındaki uzaklık arttıkça çekim kuvveti de azalır.  
II. Bireyler kendi davranışlarını düzelttiklerinde bu durum topluma da yansır. Toplamların refah ve huzuru, kişilerin davranış biçimleriyle yakından ilişkilidir.  
III. Canlılar enerji ihtiyaçlarını beslenme yoluyla sağlar. Beslenme ihtiyacını karşılayan pek çok ürün toprakta yetişir. Bitkiler büyüyüp, gelişip, ürün vererek diğer canlıların yaşamını devam ettirmesine katkı sağlar.

**Numaralanmış cümlelerde örnekleri verilen yasalar aşağıdakilerden hangisinde doğru olarak verilmiştir?**

	I.	II.	III.
A)	Biyolojik	Fiziksel	Toplumsal
B)	Fiziksel	Toplumsal	Biyolojik
C)	Biyolojik	Toplumsal	Fiziksel
D)	Fiziksel	Biyolojik	Toplumsal

3. • “Göğü yükseltti ve dengeyi O koydu.”  
(Rahmân suresi, 7. ayet)  
• “Yeri uzatıp yaydık, orada sabit dağlar yerleştirdik, yine orada miktar ve ölçüsü belirli olan şeyleri bitirdik.”  
(Hicr suresi, 19. ayet)  
• “Güneş ve Ay bir hesaba göre hareket etmektedir.”  
(Rahmân suresi, 5. ayet)

**Bu ayetlerde vurgulanan ortak nokta aşağıdakilerden hangisidir?**

- A) Yeryüzündeki her şey insanlar için yaratılmıştır.  
B) Dünya ve Ay, Güneş'in yörüngesinde hareket eder.  
C) Evren bir ölçü ve düzene göre yaratılmıştır.  
D) Dağlar yeryüzünü dengede tutmaktadır.

4. “Bunlara kendilerinden öncekilerin, Nûh, Âd ve Semûd toplumlarının, İbrahim'in kavminin, Medyen halkının ve yıkılıp giden beldeler ahalisinin haberleri gelmemiş miydi? Onlara peygamberleri apaçık delillerle geldiler. Demek ki Allah onlara zulmetmiş değildi, asıl onlar kendilerine zulmetmişlerdi.”  
(Tevbe suresi, 70. ayet)

**Bu ayet aşağıdakilerden hangisi için örnek oluşturur?**





- A) Toplumsal yasalar  
B) Emek ve rızık  
C) Biyolojik yasalar  
D) Sabır ve tevekkül

5. "... O her şeyi yaratmış ve yarattığı şeyleri bir ölçüye göre takdir etmiştir."  
(Furkân suresi, 2. ayet)

**Aşağıdaki sözlerden hangisi bu ayet ile çelişmektedir?**

- A) Evrenin en ufak sayısal değişikliklere karşı bile oldukça hassas olan mevcut yapısının bilinçli bir tasarım neticesi olduğu izlenimine kapılmamak son derece güç.
- B) İsrarla her şeyde kasıt aramaya meyilli olan insanın, amaçsız bir evren tarafından rastgele yaratılmış olması kulağa fazlaca garip gelmiyor mu?
- C) İnsan, sonuçların nereye varacağı hakkında bir tahmini olmayan sebeplerin ürünüdür. Kökeni, gelişmesi, umutları gibi insanla ilgili her şey atomların tesadüfen bir araya gelmesinin sonucudur.
- D) Eğer evren en hassas şekilde yaratılmamış olsaydı, bizler asla var olamazdık. Benim görüşüme göre bu şartlar evrenin, içinde insanın yaşaması için yaratıldığını göstermektedir.

6. Aşağıdaki öğrencilerden hangisinin söylediği, İslam'ın "emek ve rızık" anlayışına ters düşer?

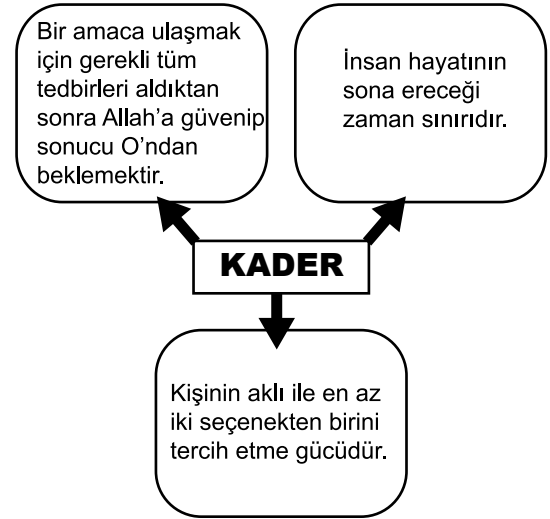
- A)  Allah rızık yaratır, kul gayretiyle kazanır.  
Alperen
- B)  Çalışanın yardımcısı Allah'tır, yatarak bekleyen pişmandır.  
Furkan
- C)  Çalış! Durma, sebat et, tarladan ürünü hasat et.  
Nur
- D)  Çalış çabala nereye kadar, gelecektir rızkın ayağına kadar.  
Mine

7. Bir aile, televizyonda savaştan ve kıtlıktan dolayı aç kalan çocuklarla ilgili belgeseli izlerken minik kızları, elindeki yiyeceğini ekrana doğru uzatıp çocuklara vermek ister. Bunu başaramayınca da çaresizlik içinde ve üzüntüyle ailesine bakar.

**Bu olaydan çıkarılacak sonuç aşağıdakilerden hangisidir?**

- A) İslam dini paylaşma ve yardımlaşmaya önem verir.
- B) Paylaşma duygusu insanın doğasında vardır.
- C) Zenginlerin mallarında yoksulların da hakkı bulunur.
- D) Yardımlaşmada öncelik yakın akrabandır.

- 8.



**Bu açıklamalarda kaderle ilgili aşağıdaki kavramlardan hangisinin tanımı yapılmıştır?**

- A) Tevekkül  
C) Ecel
- B) İrade  
D) Kaza

9. Halil, ülkesinin karanlık güçler tarafından işgal edilmek üzere olduğunu anladığında bunu engellemek için bir şeyler yapması gerektiğini düşündü. Çünkü adaletin olmadığı topluluklar yok olmaya, zulme rıza gösteren halklar rezil olmaya mahkûmdu. Bu yüzden vatanını korumak için elinden geleni yapmaya karar verdi. Duasını edip, ailesi ile helalleşip Allah'a sığınarak evden ayrıldı.

**Bu metinde aşağıdaki kavramlardan hangisine örnek bir durum yoktur?**

- A) Rızık  
B) Tevekkül  
C) Toplumsal yasa  
D) İrade ve sorumluluk

10. • Trafik kurallarına dikkat eden bir kimsenin yola çıkarken Allah'a sığınması  
• Dürüst ve çalışkan bir esnafın maddi durumu kötüleşince Allah'a güvenerek isyan etmemesi  
• Gerekli tüm hazırlıkları yapan bir öğrencinin sınav öncesi başarı için dua etmesi

**Bu durumların tamamı aşağıdaki kavramların hangisine örnek gösterilebilir?**

- A) İrade  
B) Sorumluluk  
C) Tevekkül  
D) Sabır

11. Adamın biri bir meyve bahçesine girer. Bahçe sahibi onu görür ve ona kızar. Bunun üzerine adam bahçe sahibine şöyle der: "Allah'ın kulu, Allah'ın bahçesinde, O'nun başısladığı yiyecekleri yiyor. Ne var bunda?" Bahçe sahibi de ona bir ders vermek ister ve onu bir ağaca bağlar. Adam itiraz edip kızarken bahçe sahibi, "Allah'ın kulu, başka bir kulunu, Allah'ın ipiyle, Allah'ın ağacına bağlıyor. Ne var bunda?" diye karşılık verir.

**Bu hikâyede anlatılmak istenen aşağıdaki-lerden hangisidir?**

- A) Yoksul insanların hakları gözetilmelidir.  
B) İnsan, irade ve sorumluluk sahibi olduğuna bilmelidir.  
C) Rızık Allah'tan geldiği bilinerek hareket edilmelidir.  
D) Sorunlar sevgi ve hoşgörü ile çözümlenmelidir.

12. "Her can ölümü tadacaktır. Sonra bize döndürüleceksiniz."  
(Ankebût suresi, 57. ayet)

**Aşağıdaki dizelerden hangisi bu ayetle ilişkilendirilemez?**

- A) Biter, her şey biter; ses, şekil ve renk,  
Kokular biter.  
Kabir sualiyle kapanır kepenk,  
Sorgular biter.  
B) İş bu söze Hak tanıktır,  
Bu can bu gövdeye konuktur,  
Bir gün ola, çıka gide  
Kafesten kuş uçmuş gibi  
C) Nerde ecdat nerde ata  
Hakk'a karşı yapma hata  
Tabut denen cansız ata  
Binmemeye çaren mi var?  
D) Hak, şerleri hayreyler  
Zannetme ki gayreyler  
Arif onu seyreyler  
Mevla görelim neyler  
Neylerse güzel eyler

13. Bir zamanlar talihi ile meşhur bir balıkçı varmış. Balığın çok az tutulduğu kıyılarda bile ne zaman balığa çıksa boş dönmez, sepetler dolusu balık getirmiş. Bu yüzden şanslı da dillere destan olmuş. Hatta halk arasında birinin ne kadar şanslı olduğunu anlatmak için bu adam örnek verilirmiş. Günün birinde balıkçı ölmüş. Cenaze için gelenler adamın evinde balık ve su ile ilgili zengin bir kütüphane olduğunu görüp hayret etmişler.

**Bu hikâyede vurgulanan düşünce aşağıdakilerden hangisidir?**

- A) İnsan yalnızca çalışmasının karşılığını alır.  
B) Yalnızca Allah'tan yardım beklenmelidir.  
C) Her canlının rızıkı Allah'ın üzerinedir.  
D) Her canlı ölümü tadacaktır.

14.

Sosyal medya üzerinden düzenlenen "Şehit Ailelerine Yardım" kampanyası için pek çok insan verilen banka hesap numaralarına bağışta bulunmuştur. Küçük desteklerle başlayan bu güzel kampanyaya zamanla büyük bağışlar da yapılmıştır. Tüm bu iyi niyetli insanlar arasındaki ortak nokta, yardım alanın incinmemesi için kimliklerini gizlemeleri olmuştur.

**Aşağıdaki ayetlerden hangisi bu haber ile ilişkilendirilemez?**

- A) "Onlar ... kendilerine verdiğimiz mallardan Allah yolunda harcarlar."  
(Bakara suresi, 3. ayet)  
B) "Ey iman edenler! Size verdiğimiz rızıkların temiz olanlarından yiyin, eğer siz yalnız Allah'a kulluk ediyorsanız O'na şükredin."  
(Bakara suresi, 172. ayet)  
C) "Mallarını Allah yolunda harcayan sonra da harcadıklarının peşinden (bunları) başa kakmayan ve gönül incitmeyenlerin, Rabb'leri katında mükâfatları vardır..."  
(Bakara suresi, 262. ayet)  
D) "Sadakaları açıktan verirseniz ne güzel. Fakat onları gizleyerek fakirlere verirseniz bu sizin için daha hayırlıdır..."  
(Bakara suresi, 271. ayet)

15. (I) Yüce Allah insanı akıl ve irade sahibi olarak yaratmıştır. (II) İnsan, iradesiyle dilediği her şeyi değiştirebilir. (III) İnsandan istenen Allah'ın kendisine verdiği yetenekleri amacına uygun olarak kullanmasıdır. (IV) Aksi takdirde yaptığı her şeyin bir bedeli ve sonucu olacağını unutmamalıdır.

**Bu metinde insan iradesi ve kader ilişkisi bakımından numaralanmış cümlelerin hangisinde bilgi yanlışı vardır?**

- A) I. B) II. C) III. D) IV.

16. **Aşağıdaki cümlelerden hangisi Ayet'el-Kürsi'nin anlamı içerisinde yer almaz?**

- A) "Allah, kendisinden başka hiçbir ilah olmayandır..."  
B) "... Göklerdeki her şey, yerdeki her şey O'nundur..."  
C) "... O, kulların önlerindeki ve arkalarındaki (yaptıklarını ve yapacaklarını) bilir..."  
D) "... Biz onları sana, doğru olarak anlatıyoruz. Şüphesiz sen, gönderilen resullerdensin."



17. Hz. Peygamber bir seferden döndüğünde Medine halkı onu karşılamaya gelmişti. Tokalaştığı bir adamın elinin nasırlı olduğunu fark etti. Ona ne iş yapmakta olduğunu sordu. Adam, "Hurma işiyle uğraşılıyor, toprağı kazıyordum; sizin geldiğinizi duyunca karşılamaya geldim ya Resulallah." dedi. Bunun üzerine Allah Resulü adamın ellerini havaya kaldırdı ve "Bu ellere hiçbir zaman cehennem ateşi değmeyecektir." dedi.

**Bu metinde Hz. Peygamber'in övdüğü davranış aşağıdakilerden hangisidir?**

- A) Mesleğini severek yapmak  
B) Günah işlemekten kaçınmak  
C) İnsanlara karşı alçak gönüllü olmak  
D) Rızık için emek ve gayret sarf etmek

18. Neşe, Kur'an-ı Kerim'de " ...Rahman olan Allah'ın yaratışında hiçbir uygunsuzluk göremezsin. Gözünü çevir de bir bak! Bir bozukluk görebiliyor musun?" (Mülk suresi, 3. ayet) ayetini okuyunca "Ama insanlar hormonlu yiyecekler yüzünden kanser oluyor. Hayvanların nesli tükendiği için tabiatta dengesizlik oluşuyor. Güneş'in zararlı ışınları cilt hastalıklarına sebebiyet veriyor." diye düşündü. Fakat daha sonra - - - - ayetini okuyunca zihnindeki bu tür sorular cevabını buldu.

**Bu parçada boş bırakılan yere aşağıdaki ayetlerden hangisi getirilmelidir?**

- A) "İnsanların bizzat işledikleri yüzünden karada ve denizde düzen bozuldu..."  
(Rûm suresi, 41. ayet)  
B) "O Rab ki, yeri sizin için bir döşek, göğü de (kubbemsi) bir tavan yaptı..."  
(Bakara suresi, 22. ayet)  
C) "Yeryüzünde yürüyen hayvanlar ve iki kanadıyla uçan kuşlardan ne varsa hepsi ancak sizin gibi topluluklardır..."  
(En'âm suresi, 38. ayet)  
D) "İyi bilin ki göklerde ve yerde ne varsa yalnız Allah'ındır..."  
(Yûnus suresi, 66. ayet)

19. "Evladım! Kaderden yine kaderle kaçılır. Hastalık mı geldi tedavi olursun, başarısızlık mı çalışırsın, cahillik mi okursun. Elimden bir şey gelmez demekle Müslüman oturup kalmaz!" diye cevap verdi babaannesine Merve'ye.

**Buna göre Merve, babaannesine aşağıdaki sorulardan hangisini yöneltmiş olamaz?**

- A) Kader nasıl anlaşılmalıdır?  
B) İnsan, davranışlarından niçin sorumludur?  
C) Tevekkül anlayışımız nasıl olmalıdır?  
D) İnsan iradesi, kader üzerinde etkili midir?

20. Bir adam, ansızın yıkılan evinin karşısına geçmiş; bir yandan ağlıyor, diğer yandan "Ah evim! Çökmeden önce haber verseydin de tedbir alsaydım!" diye sızlanıyormuş. Yıkılan evden bir ses, "Be adam! Sana çatlayan duvarlarım, dökülen sıvalarımla haber göndermedim mi? Sen ise her defasında bir avuç toprakla verdiğim haberi ağzıma tıkadın. Sen uyarımı duymak istemedin, ben ne yapayım?" demiş.

**Bu hikâyedeki adamın tevekkül konusundaki hatalı tutumu aşağıdakilerden hangisidir?**

- A) Kaderine rıza göstermemesi  
B) Allah'a yeterince güvenmemesi  
C) Gerekli ve yeterli önlemleri almaması  
D) Her varlığın bir sonu olduğunu hesap etmemesi

**TEST BİTTİ.  
CEVAPLARINIZI KONTROL EDİNİZ.**

**23 KASIM 2016 TARİHİNDE YAPILAN 8. SINIF 1. DÖNEM  
DİN KÜLTÜRÜ VE AHLAK BİLGİSİ DERSİ MERKEZİ ORTAK SINAVI  
“A” KİTAPÇIĞI CEVAP ANAHTARI**

**DİN KÜLTÜRÜ VE AHLAK BİLGİSİ**

1. D
2. B
3. C
4. A
5. C
6. D
7. B
8. D
9. A
10. C
11. B
12. D
13. A
14. B
15. B
16. D
17. D
18. A
19. B
20. C