



**A**  
KİTAPÇIK TÜRÜ

T.C.  
MİLLÎ EĞİTİM BAKANLIĞI  
ÖLÇME, DEĞERLENDİRME VE SINAV HİZMETLERİ GENEL MÜDÜRLÜĞÜ

**8. SINIF 2. DÖNEM**  
**TÜRKÇE DERSİ**  
**MERKEZİ ORTAK SINAVI (MAZERET)**  
14 MAYIS 2016 Saat: 09.00

Adı ve Soyadı : .....  
Sınıfı : .....  
Öğrenci Numarası : .....

**SORU SAYISI** : 20  
**SINAV SÜRESİ** : 40 Dakika

**ÖĞRENCİLERİN DİKKATİNE!**

1. Sınıf öğrenci yoklama listesinde belirtilen sınıfta ve sıra numarasında oturunuz.
2. Cevap kâğıdındaki kimlik bilgilerinin doğruluğunu kontrol ediniz.
3. Kitapçık türünü cevap kâğıdındaki ilgili alana kodlayınız.
4. Cevap kâğıdı üzerindeki kodlamaları kurşun kalemle yapınız.

**SINAV BAŞLAMADAN ÖNCE**  
**KİTAPÇIĞIN ARKA KAPAĞINDAKİ UYARILARI MUTLAKA OKUYUNUZ.**

8. SINIF TÜRKÇE 2016

## TÜRKÇE

1. Bu testte 20 soru vardır.
2. Cevaplarınızı, cevap kâğıdına işaretleyiniz.

1. **Aşağıdaki cümlelerin hangisinde “bir eşyanın, nesnenin yıprandığını” anlatan bir söz kullanılmamıştır?**

- A) Arada sırada eski mahallemize gidip arkadaşlarımı görüyordum.
- B) Kış aylarında kabak lastiklerle yola çıkanlar kazalara sebep oluyor.
- C) Kimse ilgilenmediği için dedemlerin evi harabeye dönmüştü.
- D) Külüstür bir kamyona eşyaları yükleyip erkenden yola çıkmışlardı.

2. **Aşağıdaki cümlelerin hangisinde “telaşlanmak” anlamında bir deyim kullanılmamıştır?**

- A) Onca zamandan sonra onu karşımda görünce elim ayağıma dolaştı.
- B) Ardından atlı kovalıyor sanki, niye bu acele anlayamadım.
- C) Üniversiteye kaydını son güne bırakınca etekleri tutuştu.
- D) Sen de bizimle gelmek istiyorsan elini çabuk tutmalısın.

3. Öğretmen olarak gittiğim köylerde düzenlediğim şiir dinletileri, tiyatro gösterileri ve öğrencilere okuduğum kitaplarla onların zihin dünyalarında farklı iklimler oluşturmaya çalıştım.

**Bu cümleye altı çizili kelime grubunun kattığı anlam aşağıdakilerden hangisi olamaz?**

- A) Hayal güçlerini geliştirmek
- B) Sosyalleşmelerine katkıda bulunmak
- C) Yeni bakış açıları kazandırmak
- D) Değişik yaklaşımlarla karşılaştırmak

4. Hiç, çoban koyunu güder mi dağda, Olmasa gözleri süt, yoğurt, yağda?

**Bu dizelerle anlatılmak istenen aşağıdakilerden hangisidir?**

- A) Yapılan iyilikler hiçbir zaman unutulmaz.
- B) Zararla sonuçlanacak durumlardan uzak durmak gerekir.
- C) Toplumsal fayda söz konusu olduğunda bireysellik ortadan kalkar.
- D) İnsanlar bir işi yaparken kendilerini düşünürler.

5. I. Başkarakterin çocuk olduğu bu filmlerden aklımda kalan tipik sahne, piknik yapan bir ailenin resmedildiği sahnedir.  
II. Çünkü biz biliriz ki köpekler filmlerde de gerçek hayatta da bizim dostumuzdur.  
III. Ben çocukken her pazar sabahı televizyonda film saati olurdu.  
IV. O resmin olmazsa olmazı, çocuğun yanından bir dakika bile ayrılmayan sevimli bir köpekti.

**Numaralanmış cümlelerle mantık akışına göre anlamlı bir metin oluşturulduğunda sıralama aşağıdakilerden hangisi olur?**

- A) III - I - IV - II
- B) III - II - I - IV
- C) III - II - IV - I
- D) III - IV - I - II

6. (I) Çocuklar için çalışan bir sivil toplum örgütü, harika bir sandalet geliştirmiş. (II) Sıcak iklimlerde giyilmek üzere tasarlanan sandalet, sahibinin ayağı büyüdükçe büyüyor. (III) Sandaletin ön ve arka tarafında tabanın uzamasını sağlayan, ayarlanabilen bantlar; yan taraflarında genişlemesini sağlayan çitçitler bulunuyor. (IV) Böylece beş numara büyüeyebilen sandalet yaklaşık beş yıl boyunca kullanılabilir.

**Bu metinde numaralanmış cümlelerle ilgili aşağıdakilerden hangisi doğrudur?**

- A) I. cümlede beğeni dile getirilmiştir.  
B) II. cümlede şaşırma anlamı vardır.  
C) III. cümlede yakınma anlamı vardır.  
D) IV. cümle pişmanlık bildirmektedir.

7. Öğretmenlerin, anne ve babaların çocuklara şiir okuma alışkanlığı kazandırabilmek için yayımlanmış bütün şiir kitaplarını sağlamaları güçtür. Bu ihtiyacı en kısa yoldan karşılayacak eserler ise özel olarak düzenlenmiş şiir antolojileridir. Antolojiler, birçok şiir örneğini bir arada sunduğu için çocukların farklı şiirlere tek kitap üzerinden ulaşmasına imkân sağlamaktadır. Böylece çocuklar beğendikleri bir şiirle ve şairle karşılaştıkları için şiire daha çabuk ısınırlar.

**Bu metnin konusu aşağıdakilerden hangisidir?**

- A) Çocuklara şiir okuma alışkanlığı kazandırmanın faydaları  
B) Çocukların hayal dünyasını geliştirecek şiirlerin taşıdığı nitelikler  
C) Çocuklara şiir okuma alışkanlığı kazandırmada antolojilerin önemi  
D) Antolojilerin hazırlanmasında dikkat edilecek hususlar

8. Bundan yıllar önce Batılı alışveriş merkezlerinin ilklerinden Paris pasajları hakkında yazan düşünür Walter Benjamin (Vultur Benjamin), onları "endüstriyel lüksün bir buluşu" olarak tanımladı. Çünkü endüstriyel üretimin tüketiciye ulaştırılması gerekiyordu. Ne var ki o zamanlar toplum yapısı hâlen üretim üzerine kuruluydu. Bugün ise Türkiye'nin herhangi bir yerinde açılan alışveriş merkezlerinin var olma sebebi, dünyadaki örneklerinden farklı değil. Alışveriş merkezleri artık, tüketim temelli ekonominin bir buluşu hâline geldi.

**Bu metne göre alışveriş merkezlerinin ortaya çıkış sebebi aşağıdakilerden hangisidir?**

- A) İnsanlara yeni iş olanakları sunması  
B) Endüstriyel ürünlerin tüketiciye ulaştırılması  
C) İnsanların boş zamanlarını değerlendirmesi  
D) Üretim merkezi olarak kullanılması

9. Aletli dalış için ülkemizde oldukça farklı seçenekler var. Antalya'nın Kaş ve Kemer ilçeleri birçok dalış okuluyla aletli dalışın önemli merkezleri. Aletli dalış en fazla Ege ve Akdeniz'de yapılıyor. Bunun nedeni bu bölgelerin su altı doğasının muhteşem olmasının yanı sıra buralarda önemli tarihî batıkların bulunması. Antalya Limanı girişinde 30 metre derinlikte yatan Fransız Societe (Sosyete) savaş gemisi, Kemer Marinası açıklarındaki Paris Batığı, Kaş açıklarındaki Uluburun Batığı'nın bulunduğu yer bunlardan sadece bazıları. Aletli dalış yapanlar için önemli bir dalış sebebi de deniz dibi mağaraları ile deniz canlılarının en güzel olduğu noktaları gözlemlemektir.

**Bu metinde "aletli dalış" ile ilgili aşağıdakilerden hangisine değinilmemiştir?**

- A) Ülkemizde bu sporun yapılacağı alanların olduğuna  
B) Bazı yerlerin daha fazla tercih edildiğine  
C) Birçok su altı zenginliğinin bu sayede keşfedildiğine  
D) Bu alanda eğitim veren kurumların olduğuna

10. Aldığım şeylerin parasını ödemekten haz duyarım; omuzlarımdan bir yük atmış, bir çeşit kölelikten kurtulmuş gibi olurum. Ama hesap kitap, pazarlık isteyen alışverişe yanaşmam. Yaradılışıma çok aykırı gelen o sıkıcı konuşmalara düşmekten se pazarlık ortamını bırakır kaçırım. - - - -

**Bu metin aşağıdaki cümlelerden hangisiyle tamamlanırsa düşüncenin yönü değişir?**

- A) Böylelikle özenle koruduğum saygınlığımı yitirmemiş olurum.  
B) Ne var ki kısa bir süre sonra yine sevmediğim bir pazarlık ortamında bulurum kendimi.  
C) Gelgelelim çevremdekiler bu huyumu pek beğenmezler.  
D) Öte yandan pazarlığın insan ilişkilerini geliştirdiğini de bilirim.

11. **Aşağıdakilerin hangisinde metnin sonunda yay ayrıç içinde verilen hikâye unsuru yoktur?**

- A) Sabah olmuştu. Kapının aralıklarında bembeyaz ışık çizgileri parlıyordu. O hiç böyle dalıp kalmaz, güneş doğmadan uyanırdı. Doğrudu. Sedirden atladi, ayakbabiları olmadan yürüdü. Bu saatte evde olmaması gerekirdi. (Yer)  
B) En kalın, en katı demirleri mısır yaprağı gibi incelten, kâğıt gibi yumuşatan Koca Ali, sanatını kimseden değil; kendi kendine öğrenmişti. Artık kasabanın en iyi demircisi olmuştu. (Kişi)  
C) İki bin kişilik kuşatma ordusunun çadırları, kaleye giren geniş yolun sağındaki büyük dişbudak ağaçlarının etrafına kurulmuştu. Yerlere kazıklanmış kır atlar, yabancı kokular duyuyor gibi sık sık başlarını kaldırarak kişniyor; tırnaklarıyla toprağı kazıyordu. (Zaman)  
D) Şiddetini arttıran fırtınayla birlikte dalgalar geminin gövdesini dövüyordu. Gemi alabora olmak üzereydi. Kaptan, limanın buralarda bir yerde olduğunu biliyor ama pusulaları bozulduğı için karanlıkta yönünü tam olarak bulamıyordu. (Olay)

12. **Aşağıdaki metinlerden hangisi “Siz öykülerinizi nasıl oluşturuyorsunuz?” sorusuna yanıt olarak söylenmiştir?**

- A) Bir defa öykü yazmanın öykü anlatma yeteneğiyle birlikte doğduğunu ancak yazmanın başka bir tekniğı olduğunu da düşünüyorum. Bence bu durum göz ardı edilemez.  
B) Yaşamım boyunca her zaman öykü düşündüğümü söyleyebilirim. Onu düşünerek biçimlendirmeye ve olgunlaştırmaya çalışırım. Bu, biraz zaman alır; hazır olduğunu düşündüğümde yazarım öykümü.  
C) Öykünün bendeki karşılığını şöyle açıklayabilirim: Öykü türü insanı artılarıyla, eksileriyle en yoğun olduğu zamanlarda yakalayıp yine yoğun bir anlatımla dar hacimde sunabilen bir türdür.  
D) Bu soruyla karşılaştığımda her defasında ben de kendimde yeni bir şeyler keşfediyorum galiba. Geriye dönüp baktığımda şunu söyleyebilirim: Ben öykü yazmaya sadece öykü yazmak için başlamışım.

13. Hizmete yeni açılan Ali Kuşçu Uzay Evi, uzaya ve bilime meraklı çocuklara gök bilim alanında erken yaşta eğitim imkânı sağlıyor. Alibeyköy Osmanlı Parkı'nda bulunan bu merkez, ismini uzay alanında yaptığı araştırmalarla bilinen en ünlü gök bilimci Ali Kuşçu'dan alıyor. Merkezde çocuklara uzayı ve uzay araştırmalarını öğretmek için etkileşimli bir eğitim ortamı sunuluyor.

**Bu metin dil ve anlatımı yönünden incelendiğinde;**

- I. Olay örgüsüne dayanmaktadır.  
II. Açıklamaya başvurulmuştur.  
III. Karşılaştırma yapılmıştır.  
IV. Benzetmeye yer verilmiştir.

**yargılarından hangisi söylenemez?**

- A) I ve II. B) I ve IV.  
C) II ve III. D) III ve IV.

14. Aşağıdaki metinlerden hangisi sonunda yay  
ayraç içinde verilen türe örnek gösterilemez?

- A) Cemil Kavukçu'nun 2009'da yayımlanan "Selo'nun Kuşları" adlı kitabı oldukça içten ve yalın öykülerden oluşuyor. Hayvanlarla insanlar arasındaki iletişimi ortaya koyarak hayvanlar dünyasına başarıyla eğiliyor. (Eleştiri)
- B) İzmir'den yola erken çıktığımız için şehirde hayat canlanmadan Manisa'ya vardık. İlk bakışta Manisa'dan çok etkilendiğimi rahatlıkla söyleyebilirim. Şehzadeler şehri olan bu diyarda birçok tarihî yapıya rastlamak mümkün. (Gezi yazısı)
- C) Saç dökülmesinin nedenleri kalıtsal ve geçici olarak iki ana grupta toplanmaktadır. Saç dökülmelerine karşı alınan önlemler, daha çok çevresel faktörlere karşı etkili olmaktadır. Genetik faktörlere karşı henüz bir çözüm bulunamamıştır. (Deneme)
- D) O gece İstanbul'da üçüncü gecesiydi. Ertesi gün bu dünya güzeli şehirden ayrılacak olmanın hüznü yüreğine çöreklenmişti. Bu yüzden bütün gece uyuyamadı. (Öykü)

15. Aşağıdaki dizelerin hangisinde yay ayraç  
içinde verilen söz sanatı yoktur?

- A) Niçin bu derenin suları kara  
Niçin böyle hırçın akıyor dere?  
(Kişileştirme)
- B) Gönlüm, benim gönlüm, o bir rüzgârdır  
Sonsuz denizlerin ufkunda eser  
(Benzetme)
- C) Gözlerinden akan her damlada  
Okyanuslar kadar derinlik gördüm  
(Abartma)
- D) Güneşin ışıktan kollarını yakalıyor gök  
Ağır ağır çekiyor dağın sırtına  
(Konuşturma)

16.

		Öznesine göre		Nesnesine göre	
		Et-ken	Edil-gen	Ge-çişli	Ge-çişsiz
I.	Ödül töreninde isimlerimiz tek tek okundu.		X		X
II.	Yeşil fasulyelerin kılçıklarını ayıklamaktan bıktım.	X			X
III.	Bu tablo uzun yıllar evimizin duvarını süsledi.		X	X	
IV.	Babam, aracı yavaş kullanmamız konusunda bizi uyardı.	X		X	

Tablodaki cümleler çatı özelliklerine göre incelenmiştir.

**Bu tabloda numaralı cümlelerden hangisinin çatı özelliği yanlış işaretlenmiştir?**

- A) I.      B) II.      C) III.      D) IV.

17. (I) Yanan odunların sesini ninni gibi algılamakla geçti çocukluğum. (II) Özellikle geceleri sobanın küçük deliklerinden tavana ateşin dansı yansır. (III) Aynı noktaya biraz fazla baktığımda gördüklerimi insan figürüne benzetirdim. (IV) Eğilip kalkan, hoplayıp zıplayan ateş insanlar olurdu tavanda.

**Bu metinde numaralanmış cümlelerin hangisinde tek yargı vardır?**

- A) I.      B) II.      C) III.      D) IV.

18. Aşağıdaki cümlelerin hangisi sadece özne ve yüklemden oluşmuştur?

- A) Sakız ağaçları, doğanın insana sunduğu en lezzetli armağanlardan biridir.
- B) Hava iyice kararınca yıldızlar fenerimiz oluyordu.
- C) Karadeniz'in batı kıyıcığında cana yakın bir memleket vardır.
- D) Yemyeşil yosunların üzerinden akan su, güzel görüntüler sunuyor.

19. TÜBİTAK'ın katkılarıyla kurulan

I  
Kocaeli Bilim Merkezi, 18 Nisan 2015'de açıldı.

II  
Burada iki yüze yakın deney düzeneği bulunuyor.

IV  
Bu metinde numaralanmış sözlerin hangisinde yazım yanlışı yapılmıştır?

- A) I.      B) II.      C) III.      D) IV.

20. Aşağıdaki cümlelerin hangisinde kısa çizgi (-) yanlış kullanılmıştır?

- A) Bence şairler içinde şiire en tutkun şair -yaşayanları kastediyorum- odur.
- B) O sıralar -on on beş yıl önce- pek fazla önemsememiştim bu olayları.
- C) Jürinin seçme mantığını -ben hiç anlam verememiştim- herkes beğenmişti.
- D) Bu da onları -güldürü için güldürü- gibi bir kısır döngünün içine atmıştır.

TEST BİTTİ.  
CEVAPLARINIZI KONTROL EDİNİZ.

**14 MAYIS 2016 TARİHİNDE YAPILAN 8. SINIF II. DÖNEM  
TÜRKÇE DERSİ MERKEZİ ORTAK SINAVI (MAZERET)  
“A” KİTAPÇIĞI CEVAP ANAHTARI**

**TÜRKÇE**

---

1. A
2. D
3. B
4. D
5. A
6. A
7. C
8. B
9. C
10. D
11. C
12. B
13. B
14. C
15. D
16. C
17. B
18. A
19. C
20. D



# A

KİTAPÇIK TÜRÜ

T.C.  
MİLLÎ EĞİTİM BAKANLIĞI  
ÖLÇME, DEĞERLENDİRME VE SINAV HİZMETLERİ GENEL MÜDÜRLÜĞÜ

**8. SINIF 2. DÖNEM**  
**MATEMATİK DERSİ**  
**MERKEZİ ORTAK SINAVI (MAZERET)**  
**14 MAYIS 2016**      **Saat: 10.10**

Adı ve Soyadı : .....

Sınıfı : .....

Öğrenci Numarası : .....

**SORU SAYISI** : 20  
**SINAV SÜRESİ** : 40 Dakika

## ÖĞRENCİLERİN DİKKATİNE!

1. Sınıf öğrenci yoklama listesinde belirtilen sınıfta ve sıra numarasında oturunuz.
2. Cevap kâğıdındaki kimlik bilgilerinin doğruluğunu kontrol ediniz.
3. Kitapçık türünü cevap kâğıdındaki ilgili alana kodlayınız.
4. Cevap kâğıdı üzerindeki kodlamaları kurşun kalemle yapınız.

**SINAV BAŞLAMADAN ÖNCE**  
**KİTAPÇIĞIN ARKA KAPAĞINDAKİ UYARILARI MUTLAKA OKUYUNUZ.**



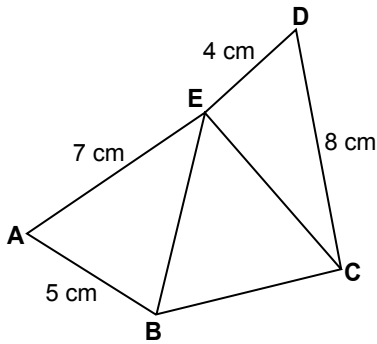
**MATEMATİK**

- Bu testte 20 soru vardır.
- Cevaplarınızı, cevap kâğıdına işaretleyiniz.

1.  $2^{-3} + 2^{-4}$  işleminin sonucu kaçtır?

- A)  $\frac{1}{2}$       B)  $\frac{1}{12}$       C)  $\frac{7}{24}$       D)  $\frac{3}{16}$

2.



Şekilde verilen ABE ve CDE üçgenlerinde  $|AB| = 5$  cm,  $|CD| = 8$  cm,  $|DE| = 4$  cm,  $|EA| = 7$  cm'dir.

**BCE üçgeninin kenar uzunlukları santimetre cinsinden birer tam sayı olduğuna göre bu üçgenin çevresi en az kaç santimetredir?**

- A) 13      B) 12      C) 11      D) 10

3. I)  $\sqrt{0,12} : \sqrt{0,03}$

II)  $\sqrt{0,5} \cdot \sqrt{4}$

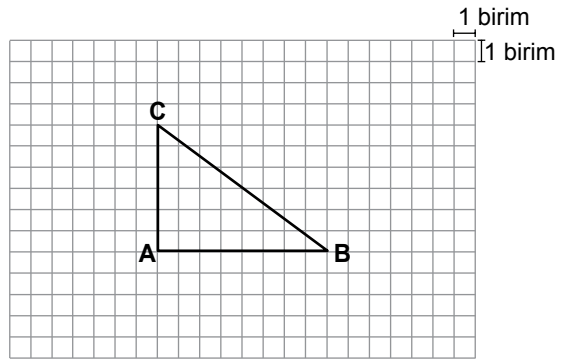
III)  $\sqrt{1,6} \cdot \sqrt{10}$

IV)  $\sqrt{20} : \sqrt{5}$

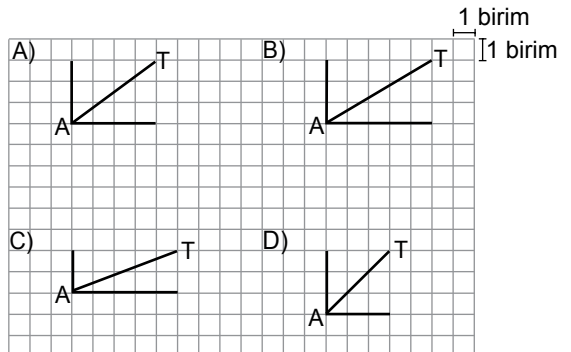
**Yukarıdaki işlemlerden hangilerinin sonucu birbirine eşittir?**

- A) I ve II.      B) I ve IV.  
C) II ve III.      D) III ve IV.

4.



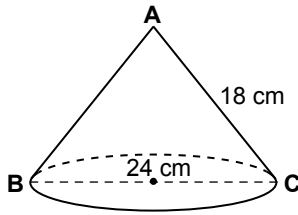
**Aşağıdakilerin hangisinde [AT], şekildeki ABC üçgeninin [BC] kenarına ait kenarortaydır?**



5. Tüm iç açılarının ölçüleri derece cinsinden birer tam sayı olan ABC üçgeninde  $|AC| < |AB| < |BC|$  ise  $m(\widehat{ABC})$  en fazla kaç derece olabilir?

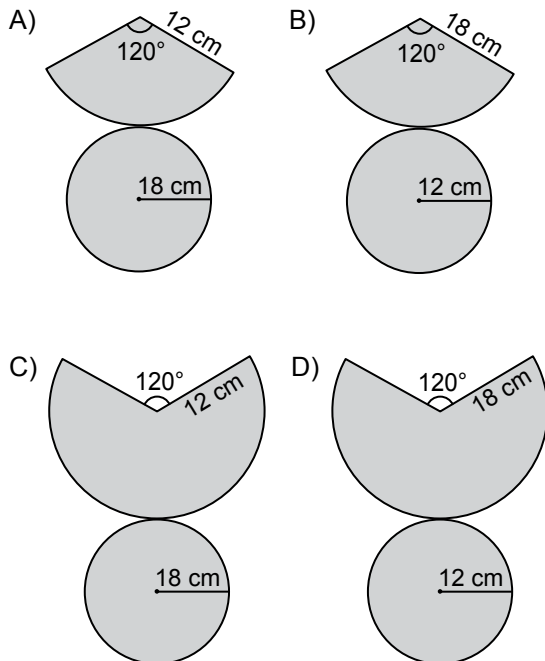
A) 58      B) 59      C) 60      D) 61

6.



Şekildeki dik koninin taban çapının uzunluğu 24 cm ve  $|AC| = 18$  cm'dir.

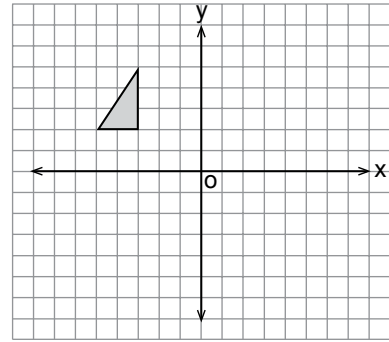
Buna göre bu koninin açılımı aşağıdakilerden hangisidir?



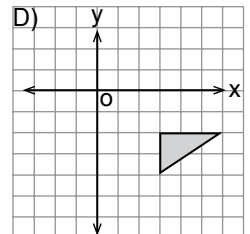
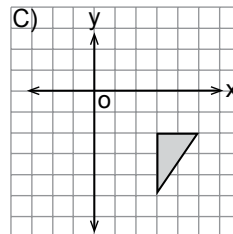
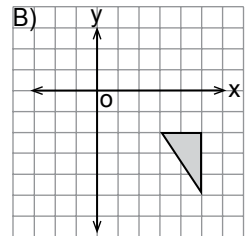
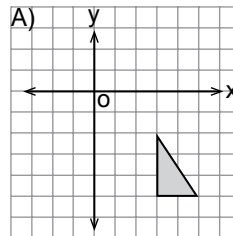
7.  $a = 2 - \sqrt{7}$  ve  $b = 2 + \sqrt{7}$  olduğuna göre  $a^2 + b^2 - 2ab$  ifadesinin değeri kaçtır?

A) 22      B) 28      C) 34      D) 40

8.



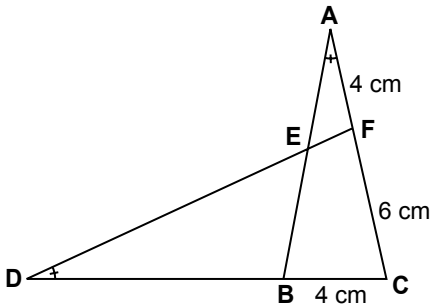
Koordinat düzleminde verilen şeklin orijin etrafında saat yönünde  $180^\circ$  döndürülmesiyle oluşan görüntüsü aşağıdakilerden hangisidir?



9.  $\frac{x^2 - mx + 12}{x^2 - 2x - 3}$  ifadesi sadeleştirilebilir bir rasyonel ifade olduğuna göre  $m$ 'nin alabileceği tam sayı değerlerinin toplamı kaçtır?

A) 11      B) 9      C) -6      D) -15

10.

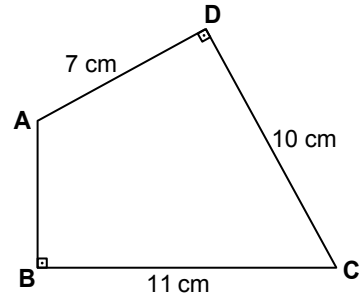


Şekildeki ABC ve FDC üçgenlerinde  $m(\widehat{BAC}) = m(\widehat{CDF})$ 'tir.

$|AF| = |BC| = 4$  cm ve  $|FC| = 6$  cm olduğuna göre  $|DB|$  kaç santimetredir?

A) 6      B) 7      C) 10      D) 11

11.

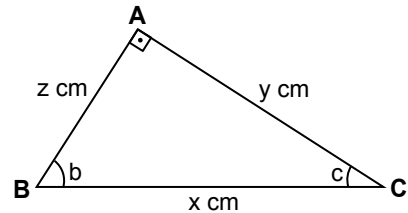


Şekildeki ABCD dörtgeninde  $[AB] \perp [BC]$  ve  $[AD] \perp [DC]$ 'tir.

$|AD| = 7$  cm,  $|DC| = 10$  cm ve  $|CB| = 11$  cm olduğuna göre  $|AB|$  kaç santimetredir?

A)  $2\sqrt{7}$       B) 6      C) 8      D)  $4\sqrt{7}$

12.



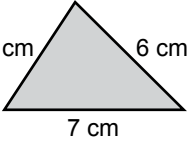
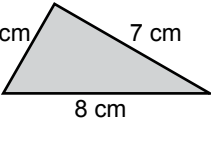
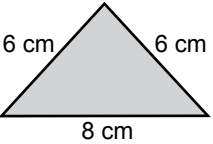
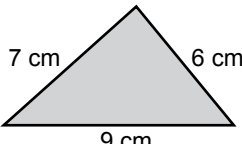
Şekildeki çeşitkenar ABC üçgeninde  $m(\widehat{A}) = 90^\circ$ ,  $m(\widehat{B}) = b$ ,  $m(\widehat{C}) = c$ 'dir.

$|AB| = z$  cm,  $|BC| = x$  cm ve  $|CA| = y$  cm olduğuna göre  $\sin c \cdot \cos b$  aşağıdakilerden hangisine eşittir?

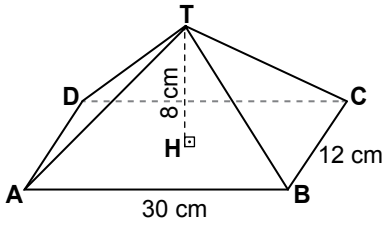
A)  $\frac{y \cdot z}{x^2}$       B)  $\frac{y^2}{x^2}$       C)  $\frac{z^2}{x^2}$       D) 1

13. Bir üçgen dik prizmanın yan yüzlerinin alanları toplamı  $108 \text{ cm}^2$  dir.

**Bu prizmanın yüksekliği 6 cm olduğuna göre tabanlarından biri aşağıdakilerden hangisi olabilir?**

- A)  B) 
- C)  D) 

- 14.

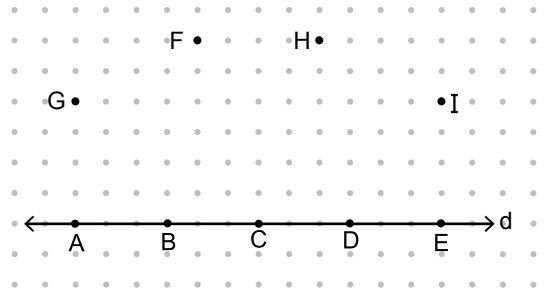


Şekildeki dikdörtgen dik piramidin yüksekliği 8 cm,  $|AB| = 30 \text{ cm}$  ve  $|BC| = 12 \text{ cm}$ 'dir.

**Buna göre bu piramidin yüzey alanı kaç santimetrekaredir?**

- A) 810 B) 824 C) 840 D) 864

- 15.

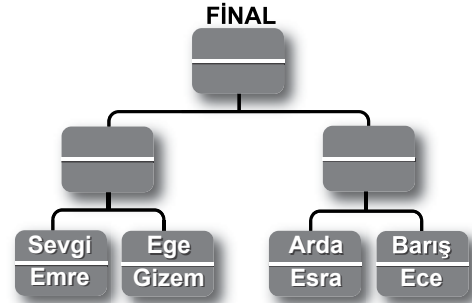


Şekilde verilen dokuz noktadan A, B, C, D, E noktaları d doğrusu üzerindedir.

**Köşeleri bu dokuz noktadan herhangi üçü olacak biçimde kaç farklı üçgen çizilebilir?**

- A) 69 B) 74 C) 79 D) 84

- 16.



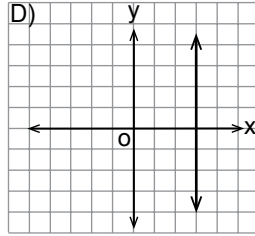
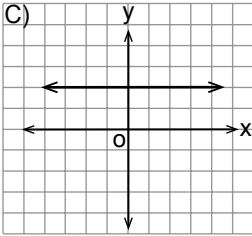
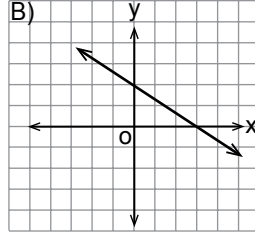
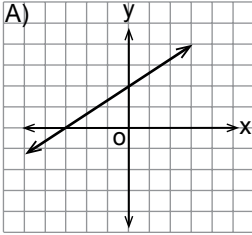
Yukarıdaki şekilde, satranç turnuvasına katılan ve kazanma olasılıkları birbirine eşit olan 8 öğrencinin karşılaşma tablosu verilmiştir.

**Yenilenin elendiği turnuvanın finalinde Sevgi ile Barış'ın karşılaşma olasılığı kaçtır?**

- A)  $\frac{1}{4}$  B)  $\frac{1}{16}$  C)  $\frac{1}{32}$  D)  $\frac{1}{64}$



17.  $a > 0$  ve  $b < 0$  olduğuna göre denklemin  $ax + by + c = 0$  olan doğrunun grafiği aşağıdakilerden hangisi olabilir?



18. Altı parasının  $\frac{1}{3}$ 'ü ile bir kalem,  $\frac{2}{5}$ 'si ile bir defter satın alıyor.

Geriye 4 lirası kaldığına göre defterin fiyatı kaç liradır?

- A) 12      B) 9      C) 8      D) 6

19.  $\begin{cases} ax + by = 9 \\ ax - by = 3 \end{cases}$  denklem sistemini sağlayan  $(x, y)$  sıralı ikilisi  $(3, 1)$  olduğuna göre  $a + b$  kaçtır?

- A) 3      B) 4      C) 5      D) 6

20.  $x$  tam sayısı,  $y$  tam sayısının 2 katının 10 eksiğine eşittir. 8-A sınıfının mevcudu  $\frac{3}{2}x - 9$  ve 8-B sınıfının mevcudu  $y$ 'dir.

8-A sınıfının mevcudu 8-B sınıfının mevcudundan fazla olduğuna göre 8-B sınıfının mevcudu en az kaçtır?

- A) 16      B) 13      C) 10      D) 9

**14 MAYIS 2016 TARİHİNDE YAPILAN 8. SINIF 2. DÖNEM  
MATEMATİK DERSİ MERKEZİ ORTAK (MAZERET) SINAVI  
“A” KİTAPÇIĞI CEVAP ANAHTARI**

**MATEMATİK**

---

1. D
2. C
3. B
4. A
5. B
6. D
7. B
8. C
9. C
10. D
11. A
12. C
13. A
14. D
15. B
16. B
17. A
18. D
19. C
20. B



**A**  
KİTAPÇIK TÜRÜ

T.C.  
MİLLÎ EĞİTİM BAKANLIĞI  
ÖLÇME, DEĞERLENDİRME VE SINAV HİZMETLERİ GENEL MÜDÜRLÜĞÜ

**8. SINIF 2. DÖNEM**  
**FEN VE TEKNOLOJİ DERSİ**  
**MERKEZİ ORTAK SINAVI (MAZERET)**  
**15 MAYIS 2016 Saat: 09.00**

Adı ve Soyadı : .....  
Sınıfı : .....  
Öğrenci Numarası : .....

**SORU SAYISI** : 20  
**SINAV SÜRESİ** : 40 Dakika

**ÖĞRENCİLERİN DİKKATİNE!**

1. Sınıf öğrenci yoklama listesinde belirtilen sınıfta ve sıra numarasında oturunuz.
2. Cevap kâğıdındaki kimlik bilgilerinin doğruluğunu kontrol ediniz.
3. Kitapçık türünü cevap kâğıdındaki ilgili alana kodlayınız.
4. Cevap kâğıdı üzerindeki kodlamaları kurşun kalemle yapınız.

**SINAV BAŞLAMADAN ÖNCE**  
**KİTAPÇIĞIN ARKA KAPAĞINDAKİ UYARILARI MUTLAKA OKUYUNUZ.**

## FEN VE TEKNOLOJİ

1. Bu testte 20 soru vardır.
2. Cevaplarınızı, cevap kâğıdına işaretleyiniz.

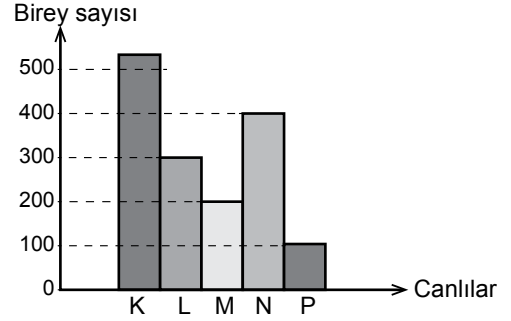
### 1. Menekşe bitkisiyle aşağıdaki gözlemler yapılmıştır:

- Menekşe bitkisi, karanlık ortama alındığında zamanla yeşil yaprakların sarardığı, yeni çıkan yaprakların ise açık sarı veya renksiz olduğu gözlenmiştir.
- Bu bitki karanlık ortamdan, güneş ışığı alan ortama alındığında ise açık sarı ve renksiz yaprakların zamanla yeşil renk aldığı, yeni çıkan yaprakların da yeşil renkli olduğu gözlenmiştir.

#### Buna göre aşağıdaki yargılardan hangisi doğrudur?

- A) Canlılarda fenotipin ortaya çıkmasında genler etkili değildir.
- B) Çevrenin etkisiyle ortaya çıkan bazı özellikler kalıtsal değildir.
- C) Çevre etkenleri canlılarda her zaman zararlı değişimlere yol açar.
- D) Çevre etkenleri canlılarda her zaman yeni türlerin oluşmasına yol açar.

### 2. Bir besin zincirinde yer alan canlı türlerine ait birey sayıları aşağıda verilen grafikteki gibidir.

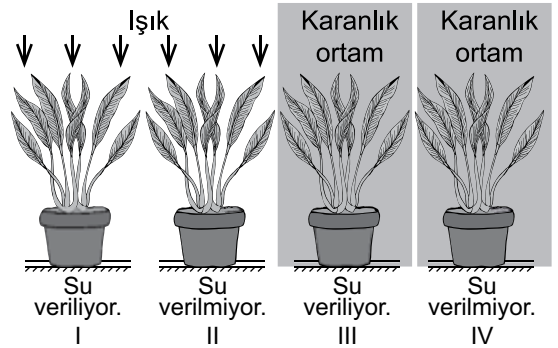


Bu besin zincirinde üreticiden son tüketiciye doğru gidildikçe birey sayısının azaldığı bilinmektedir. P türünün birey sayısı insanlar tarafından bilinçsizce avlandığı için hızla azalmıştır.

#### Bu durumdan öncelikle hangi canlı türünün etkilenmesi beklenir?

- A) K
- B) L
- C) M
- D) N

### 3. Öğretmen, öğrencilerinden "Fotosentez için ışık gereklidir." bilgisini aşağıdaki düzeneklerden yararlanarak göstermelerini istiyor. Bu düzeneklerdeki saksı bitkileri, toprak özellikleri ve miktarları özdeş olup ortam sıcaklıkları aynıdır.

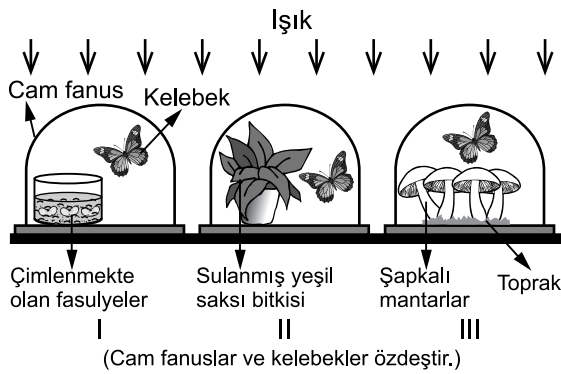


#### Buna göre öğrenciler hangi iki deney düzenliğini seçerse bu amaca ulaşabilirler?

- A) I ve II.
- B) I ve III.
- C) II ve III.
- D) I ve IV.



4.

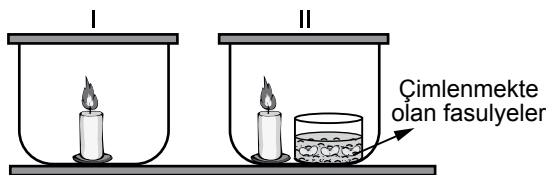


Sınıfta yapılmak üzere şekildeki deney düzeni hazırlanmıştır. Deney sırasında öğretmen: “Düzenekte, hangi fanustaki kelebeğin daha uzun süre yaşaması beklenir?” sorusunu öğrencilere soruyor.

**Öğrencilerin bu soruyla ilgili aşağıdaki açıklamalarından hangisi doğrudur?**

- A) Yalnız I'deki çünkü çimlenen tohumlar da solunum yapar.
- B) Yalnız II'deki çünkü yeşil bitki fotosentez yaparak oksijen üretmektedir.
- C) Yalnız III'teki çünkü şapkalı mantarlar topraktan gerekli besleyici maddeleri alabilir.
- D) Üç fanustaki kelebekler de aynı süre yaşar çünkü bütün canlılar solunum yapar.

5.

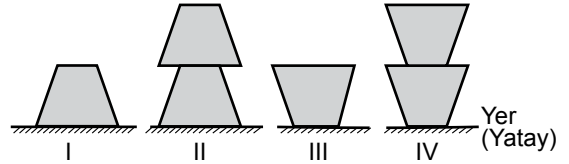


**Bir deney için özdeş metal kapaklı cam kaplar ve mumlarla hazırlanan yukarıdaki düzeneklerde hangi değişiklik yapılırsa, hem yanma sonucu hem de oksijenli solunum sonucu karbondioksit açığa çıktığı gözlenir?**

- A) II.'den mum çıkarılıp, her iki kaba özdeş cam bardaklarla karbondioksitli ortamda bulunan kireç suyu konulursa
- B) I.'den mum çıkarılıp, her iki kaba fare konulursa
- C) Her iki kaptan mumlar çıkarılıp yerlerine özdeş cam bardaklarla karbondioksitli ortamda bulunan kireç suyu konulursa
- D) Her iki kaptan mumlar çıkarılıp, I.'ye de çimlenmekte olan fasulyeler konulursa

6.

Katılarda basıncın hangi etmenlere bağlı olduğunu anlatmak isteyen bir öğretmen özdeş cisimlerle şekildeki düzenekleri kuruyor.



**Buna göre öğretmen basıncın ağırlık ve yüzey alanına bağlılığını incelemek için aşağıdaki düzenek gruplarından hangisini kullanmalıdır?**

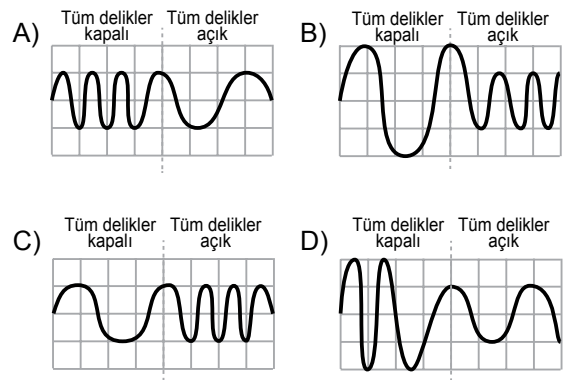
	Basıncın ağırlığa bağlılığının incelenmesi	Basıncın yüzey alanına bağlılığının incelenmesi
A)	I ve II.	I ve III.
B)	I ve III.	II ve IV.
C)	III ve IV.	I ve II.
D)	III ve IV.	II ve III.

7.

Bir öğrenci müzik dersinde flütü, tüm delikleri kapalı olarak çalarken birden tüm delikleri açık aynı şiddette çalmaya devam ediyor.

**Buna göre üretilen ses dalgalarının gösterimi hangisi gibi olabilir?**

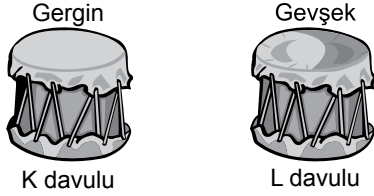
(Tüm birim kareler eşit bölmelendirilmiştir.)



8. Ahmet ve Ayşe, şekildeki özdeş fakat gerginlikleri farklı K ve L davullarından aşağıdaki sesleri çıkarmak istiyor.

Ahmet : İnce ve şiddetli ses

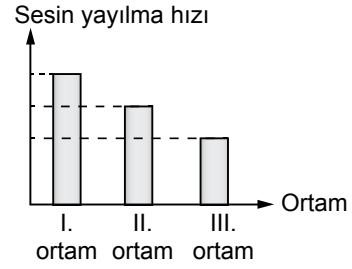
Ayşe : Kalın ve zayıf ses















Buna göre, Ahmet ve Ayşe hangi davula nasıl vurmalıdır?

	Ahmet	Ayşe
A)	K davuluna kuvvetli	L davuluna hafif
B)	K davuluna kuvvetli	L davuluna kuvvetli
C)	L davuluna kuvvetli	K davuluna kuvvetli
D)	K davuluna hafif	L davuluna hafif

9. Sesin üç farklı ortamda yayılma hızları grafikte verilmiştir.



Buna göre, taneciklerinin büyüklükleri aynı olan bu ortamların, birim alandaki tanecik modelleri aşağıdakilerden hangisi gibi olabilir?

	I. ortam	II. ortam	III. ortam
A)			
B)			
C)			
D)			

10. Tabloda elementlerin adları ve bu elementlere ait proton sayıları verilmiştir.

Elementin adı	Hidrojen	Helyum	Lityum	Neon	Sodyum	Alüminyum	Kükürt
Proton sayısı	1	2	3	10	11	13	16

Aşağıda belirtilen özelliklere göre yapılan gruplandırmalardan hangisi bu tabloya göre **yanlıştır**?

- A) Oda sıcaklığında gaz hâlde bulunanlar B) Elektron alışverişinde bulunmayanlar

Helyum  
Neon  
Hidrojen

Helyum  
Neon

- C) İyon olduğunda sadece pozitif yük taşıyanlar D) Metal olanlar

Kükürt  
Hidrojen  
Helyum

Lityum  
Alüminyum  
Sodyum

11. Bir öğretmen öğrencilerine laboratuvarında yapacak bir deneyi aşamalar hâlinde vermiştir. Bu aşamalar şu şekildedir:

- Deney tüpüne bir miktar hidroklorik asit çözeltisi koyunuz.
- Bu deney tüpünün içine kalsiyum parçaları atınız.
- Kimyasal tepkime sırasında hidrojen gazı çıkışını gözlemleyiniz.

Öğrencilerin yapacağı bu deneyin denklemlerini gösterimi aşağıdakilerden hangisidir?

- A)  $\text{HCl}_{(suda)} + \text{K}_{(k)} \longrightarrow \text{KCl}_{(suda)} + \frac{1}{2}\text{H}_{2(g)}$   
 B)  $2\text{HCl}_{(suda)} + \text{Ca}_{(k)} \longrightarrow \text{CaCl}_{2(suda)} + \text{H}_{2(g)}$   
 C)  $\text{HCl}_{(suda)} + \text{KOH}_{(k)} \longrightarrow \text{KCl}_{(suda)} + \text{H}_2\text{O}_{(s)}$   
 D)  $2\text{HCl}_{(suda)} + \text{Ca(OH)}_{2(k)} \longrightarrow \text{CaCl}_{2(suda)} + 2\text{H}_2\text{O}_{(s)}$

12. Öğrencilerden, verilen karttaki elementler ve bunların oluşturduğu bileşikler hakkında yorum yapmaları istenmiştir.

${}^8\text{O}$	${}^{13}\text{Al}$
${}^{11}\text{Na}$	${}^{16}\text{S}$
${}^{12}\text{Mg}$	${}^{17}\text{Cl}$

Buna göre aşağıdaki öğrencilerden hangisinin yorumu **yanlıştır**?

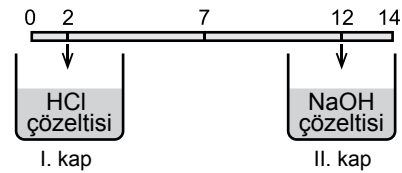
- A) Ayşe  $\text{Al}_2\text{O}_3$  bileşiği kovalent bağ içerir.

- B) Ahmet Na ve Mg arasında bileşik oluşmaz.

- C) Zeynep  $\text{SO}_2$  bileşiği kovalent bağ içerir.

- D) Mehmet  $\text{MgCl}_2$  bileşiği iyonik bağ içerir.

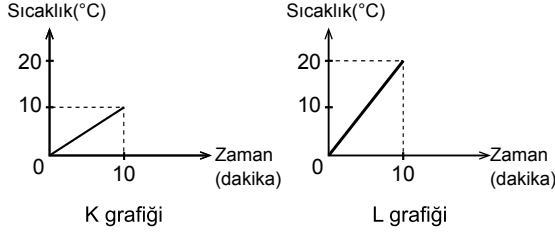
13. Sıcaklık ve miktarları aynı olan asit ve baz çözeltilerinin pH ölçeğindeki pH değerleri şekilde gösterilmiştir.



I. kaptaki çözeltinin yarısı II. kaba eklendikten sonra kaplardaki çözeltilerin pH değerleri için aşağıdakilerden hangisi söylenebilir?

- A) Her ikisinin de pH'sı 7 olur.  
 B) I.'deki çözeltinin pH'sı 6 - 8 arasında, II.'deki çözeltinin ise 12 - 14 arasında olur.  
 C) I.'deki çözeltinin pH'sı değişmez, II.'deki çözeltinin ise 14'e yakın olur.  
 D) I.'deki çözeltinin pH'sı değişmez, II.'deki çözeltinin ise 7'ye yaklaşır.

14. Bir deneyde başlangıç sıcaklıkları aynı, kütleleri farklı olan aynı saf maddeler, hâl değişimi olmaksızın özdeş ısıtıcılarla ısıtılmaktadır. Deney sırasında aşağıdaki grafikler çizilmiştir.



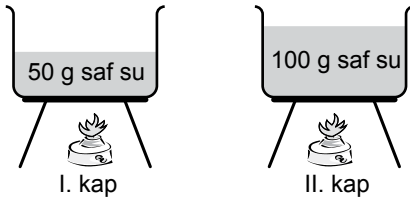
Buna göre;

- I. K grafiğindeki maddenin kütlesi L'dekinden daha fazladır.
- II. Maddelerin sıcaklığını  $50^{\circ}\text{C}$ 'a çıkarmak için K grafiğindeki maddeye daha fazla ısı verilmelidir.
- III. L grafiğindeki madde,  $50^{\circ}\text{C}$  sıcaklığa K'dekinden daha uzun sürede ulaşır.

İfadelerinden hangileri doğrudur?

- A) Yalnız I.                      B) I ve II.  
C) II ve III.                      D) I, II ve III.

15. Aynı ortamda bulunan şekildeki özdeş kaplardan birincisinde 50 g, ikincisinde 100 g saf su bulunmaktadır. Başlangıçta içerisinde  $10^{\circ}\text{C}$ 'ta su bulunan kaplar, özdeş ısıtıcılarla sıcaklıkları  $50^{\circ}\text{C}$  olana kadar ısıtılıyor.



Gerçekleştirilen bu deneyle ilgili aşağıdaki yorumlardan hangisi doğrudur?

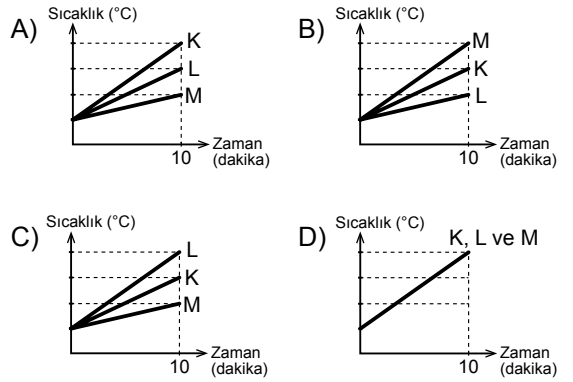
- A) Her iki kaptaki sıvıya verilen enerji miktarları eşittir.  
B) Kaplardaki suyun sıcaklığının  $50^{\circ}\text{C}$ 'a çıkması, eşit sürede gerçekleşmiştir.  
C) Son durumda her iki kaptaki moleküllerin ortalama hareket enerjileri eşittir.  
D) I. kaba, II. kaptan daha fazla ısı verilmiştir.

16. Tabloda saf K, L ve M sıvılarının öz ısıları verilmiştir.

Madde	Öz ısı ( $\text{J/g}^{\circ}\text{C}$ )
K	2,50
L	2,00
M	4,18

Başlangıç sıcaklıkları aynı olan bu sıvılardan eşit kütlelerde alınıp özdeş ısıtıcılarla hâl değişimi gözlenmeksizin 10 dakika ısıtılıyor.

Buna göre sıvılara ait sıcaklık - zaman grafiği aşağıdakilerden hangisi gibi olur?



17. Bir maddenin fiziksel hâlinin bazı özellikleri aşağıda verilmiştir.

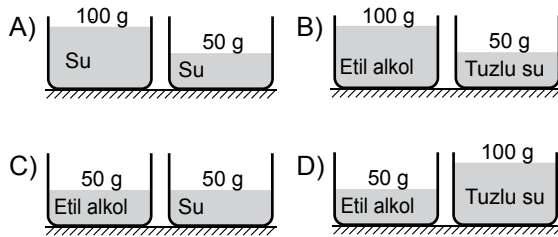
- Tanecikleri arasındaki çekim kuvveti çok fazladır.
- Taneciklerinin hareket enerjisi çok az olup tanecikleri sadece titreşim hareketi yaparlar.

Bu maddenin tanecikleri arasındaki çekim kuvvetini azaltmak ve taneciklerinin hareket enerjisini arttırmak için aşağıdakilerden hangisi yapılmalıdır?

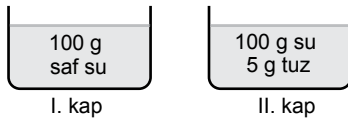
- A) Maddenin kütlesi artırılmalı  
B) Maddenin kütlesi azaltılmalı  
C) Madde dışarıya ısı vermeli  
D) Madde dışarıdan ısı almalı

18. Bir öğrenci yaptığı deneyin sonunda aşağıdaki raporu yazmıştır:  
“Aynı ortamda bulunan, başlangıç sıcaklıkları aynı olan iki farklı saf maddeyi özdeş ısıtıcılarla eşit süre ısıttım. Maddelerin öz ısılarının farklı olması nedeniyle maddelerde farklı sıcaklık artışları gözledim.”

**Bu rapor doğru olduğuna göre öğrenci, aşağıdaki düzeneklerden hangisini deneyinde kullanmıştır?**



19.



Bir öğrenci aynı ortamda, şekildeki kaplarda bulunan maddeleri soğutarak, donmaya başladığı sıcaklıkları termometre yardımıyla ölçüyor.

- I. kaptaki suyun  $0^{\circ}\text{C}$ 'ta,
- II. kaptaki tuzlu su çözeltisinin  $-2^{\circ}\text{C}$ 'ta donduğunu gözlemliyor.

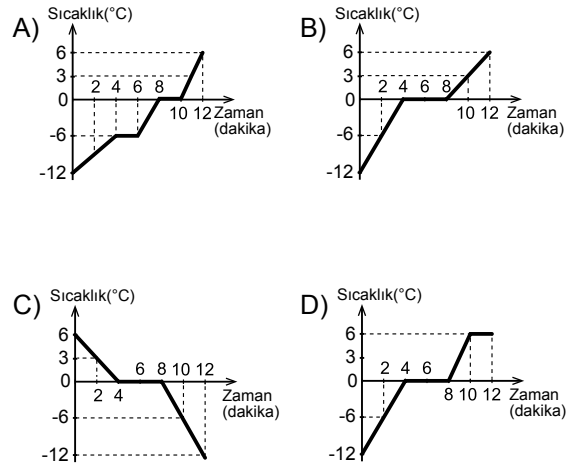
**Bu durumun nedeni aşağıdakilerden hangisiyle açıklanır?**

- A) Saf suya tuz eklendiğinde oluşan çözeltinin donma noktası değişmez.  
B) Saf suya eklenen tuz, saf suyun donma noktasını yükseltir.  
C) Saf suya eklenen tuz miktarı sürekli arttırılırsa oluşan çözeltinin donma noktası da sürekli artar.  
D) Saf suya tuz eklendiğinde oluşan çözeltinin donma noktası, saf suyunkinden daha düşük olur.

20. Saf bir katının ısınmasına ait sıcaklık - zaman çizelgesi aşağıdaki gibidir.

Sıcaklık ( $^{\circ}\text{C}$ )	-12	-6	0	0	0	3	6
Zaman (dk)	0	2	4	6	8	10	12

**Çizelgeye göre aşağıdakilerden hangisi bu maddeye ait sıcaklık - zaman grafiğini gösterir?**



**TEST BİTTİ.  
CEVAPLARINIZI KONTROL EDİNİZ.**

**15 MAYIS 2016 TARİHİNDE YAPILAN 8. SINIF 2. DÖNEM  
FEN VE TEKNOLOJİ DERSİ MERKEZİ ORTAK (MAZERET) SINAVI  
“A” KİTAPÇIĞI CEVAP ANAHTARI**

**FEN VE TEKNOLOJİ**

---

1. B
2. C
3. B
4. B
5. A
6. A
7. C
8. A
9. D
10. C
11. B
12. A
13. D
14. B
15. C
16. C
17. D
18. C
19. D
20. B



**A**  
KİTAPÇIK TÜRÜ

T.C.  
MİLLÎ EĞİTİM BAKANLIĞI  
ÖLÇME, DEĞERLENDİRME VE SINAV HİZMETLERİ GENEL MÜDÜRLÜĞÜ

**8. SINIF 2. DÖNEM**  
**T.C. İNKILAP TARİHİ VE ATATÜRKÇÜLÜK DERSİ**  
**MERKEZİ ORTAK SINAVI (MAZERET)**

15 MAYIS 2016 Saat: 10.10

Adı ve Soyadı : .....  
Sınıfı : .....  
Öğrenci Numarası : .....

**SORU SAYISI** : 20  
**SINAV SÜRESİ** : 40 Dakika

**ÖĞRENCİLERİN DİKKATİNE!**

1. Sınıf öğrenci yoklama listesinde belirtilen sınıfta ve sıra numarasında oturunuz.
2. Cevap kâğıdındaki kimlik bilgilerinin doğruluğunu kontrol ediniz.
3. Kitapçık türünü cevap kâğıdındaki ilgili alana kodlayınız.
4. Cevap kâğıdı üzerindeki kodlamaları kurşun kalemle yapınız.

**SINAV BAŞLAMADAN ÖNCE**  
**KİTAPÇIĞIN ARKA KAPAĞINDAKİ UYARILARI MUTLAKA OKUYUNUZ.**

## T.C. İNKILAP TARİHİ VE ATATÜRKÇÜLÜK

1. Bu testte 20 soru vardır.
2. Cevaplarınızı, cevap kâğıdına işaretleyiniz.

1. Mustafa Kemal, Sofya'da Osmanlı elçiliğinde görevli iken I. Dünya Savaşı ile ilgili gelişmeleri takip ediyor, Osmanlı Devleti'nin savaşa girmemesi gerektiğini ve savaşın başlangıcında Almanya'nın yenileceğini çevresindekilere söylüyordu. Savaş sonuçlandığında Mustafa Kemal bu görüşlerinde haklı çıkmıştı.

**Bu metinde Mustafa Kemal'in aşağıdaki kişilik özelliklerinden hangisi vurgulanmaktadır?**

- A) Kararlılığı  
B) Bütünleştiriciliği  
C) İdealistliği  
D) İleri görüşlülüğü

2. Mustafa Kemal ile Salih Paşa arasında imzalanan Amasya Protokolü'yle Mebusan Meclisinin toplanması kararlaştırıldı.

**Bu karar, Erzurum Kongresi'nin aşağıdaki maddelerinden hangisini gerçekleştirmeye yöneliktir?**

- A) Millî Meclisin derhâl toplanması ve hükûmet işlerinin Meclis tarafından denetlenmesi için çalışılacaktır.  
B) Azınlıklara siyasi ve sosyal dengeyi bozacak haklar verilemez.  
C) Vatanın bağımsızlığını korumayı İstanbul Hükûmeti sağlayamadığı takdirde, geçici bir hükûmet kurulacaktır.  
D) Yabancı işgal ve müdahalesine karşı İstanbul Hükûmetinin dağılması hâlinde, millet hep birlikte vatani savunacak ve direnecektir.

3. Kurtuluş Savaşı'nın Güney Cephesi yerel kahramanların başarılarıyla doludur. Asıl adı Mehmet Said olan Antepli Şahin Bey, Fransızların ihtiyaçlarını sağlamaları açısından önem taşıyan Kilis - Antep yolunun kapanması için görev almıştır. O, düşmanı kesin olarak bu yoldan geçirmemek için en son mermiyi atıncaya kadar direnme kararını vererek "Düşman buradan geçerse, ben Antep'e ne yüzle dönerim, düşman ancak benim vücudumun üzerinden geçebilir." demiştir.

**Antepli Şahin Bey'in bu sözleri, aşağıdaki kavramların hangisiyle ilişkilendirilebilir?**

- A) Adaletlilik  
B) Vatanseverlik  
C) Millî egemenlik  
D) İleri görüşlülük

4. Kuvayimillîye güçleri, Yunanlılarla yaptığı Gediz Muharebesi'ni kaybetmiştir. Bu yenilgi üzerine Mustafa Kemal Paşa "Dalgalı ve düzensiz ve komutasız bazı savaşımlardan sonra bildiğiniz üzere Gediz'de yenildik." demiştir.

**Bu sözle Mustafa Kemal Paşa aşağıdakilerden hangisinin gerekliliğine işaret etmiştir?**

- A) İstanbul Hükûmeti ile ortak hareket edilmesinin  
B) Tekâlifimillîye Emirleri'nin yayımlanmasının  
C) Kuvayimillîye birliklerinin güçlendirilmesinin  
D) Düzenli ordunun kurulmasının



5. • İlk ve ortaöğretim, kesinlikle insanlığın ve uygarlığın gerektirdiği bilimi ve tekniği vermelidir.  
• Çocuklarımız ve gençlerimiz yetiştirilirken millî düşünceleri boğmaya çalışan her karşı fikre şiddetle karşı koyma gereği onlara öğretilmelidir.

**Mustafa Kemal bu sözleriyle eğitimin hangi özelliklere sahip olmasını istemektedir?**

- A) Çağdaş - Ulusal  
B) Laik - Demokratik  
C) Eşitlikçi - Yenilikçi  
D) Bilimsel - Geleneksel

6. Veriyoruz paşam, ben Nevşehir çarşısından  
Gelme bir çarığım, giysin beni piyade.  
O giydikçe ısınır toprak, ayaklarım üşümez,  
Al benim son çarığımı.

Çıkardım gömleğimi veriyorum,  
Kılıç salsın giyende süvariler.  
Yaz sıcağında ağustos güneşinin ellerinden  
Terlerini alsın.

**Bu dizeler, aşağıdakilerden hangisinin uygulanmasıyla ilgilidir?**

- A) Takrir-i Sükûn Kanunu'nun  
B) Tekâlifimillîye Emirleri'nin  
C) Şapka ve kıyafet inkılabının  
D) Hıyanet-i Vataniye Kanunu'nun

7. Büyük Taarruz'la İzmir'in kurtarılmasından sonra, İtilaf Devletleri'nden ateşkes teklifi gelmiş ve 11 Ekim 1922 tarihinde de Mudanya Ateşkes Antlaşması imzalanmıştır.

**Bu antlaşmaya göre;**

- Türkiye ile Yunanistan arasındaki silahlı çatışmalara son verilecek,
- İstanbul ve Boğazlar, TBMM Hükûmeti yönetimine bırakılacak ancak İtilaf Devletleri barış antlaşması imzalanana kadar buralarda kuvvet bulundurmaya devam edeceklerdi.

**Bu bilgilerden aşağıdakilerden hangisi çıkarılamaz?**

- A) Boğazlar sorunu sona ermiştir.  
B) Türk - Yunan savaşı son bulmuştur.  
C) Askerî başarı siyasi gelişmelere neden olmuştur.  
D) İtilaf Devletleri Ankara Hükûmetini, Türk milletinin temsilcisi olarak görmüştür.

8. Sevr Antlaşması'nın "Azınlıklara geniş haklar verilecektir." kararı, Lozan Antlaşması ile "Ülkede yaşayan tüm azınlıklar Türk vatandaşı kabul edilecektir." şeklinde değiştirilmiştir.

**Bu değişiklikle aşağıdaki kazanımlardan hangisinin elde edildiği söylenemez?**

- A) İç işlerimize karışılmasının önlenmesi  
B) Sevr kararının geçersiz kılınması  
C) Toplumsal eşitliğin sağlanması  
D) Ülke sınırlarının genişlemesi

9. İzmir İktisat Kongresi'nde alınan kararlardan bazıları şunlardır:
- Ham maddesi yurt içinde yetişen sanayi dalları kurulmalı.
  - Yabancıların kurdukları tekellerden kaçınılmalı.
  - Sanayinin teşviki ve millî bankaların kurulması sağlanmalı.

**Bu kararlarla aşağıdakilerden hangisi amaçlanmıştır olamaz?**

- A) Ekonomik kalkınmada dış sermaye desteğinin alınması
- B) Kendi öz kaynaklarımızla kalkınmanın sağlanması
- C) Ekonomide dışa bağımlılığın önlenmesi
- D) Millî ekonominin temellerinin atılması

10. "Osmanlı Devleti'nden kalma eğitim kurumları incelendiğinde dinî eğitim veren medreseler, Batı tarzında eğitim veren mektepler ve azınlıklar ile yabancılara ait okullar bir arada bulunmaktaydı. Eğitimdeki bu çok başlılık nedeniyle öğrenciler farklı dünya görüşlerine sahip kişiler olarak yetişiyorlardı."

**Bu bilgi aşağıdaki sorulardan hangisinin cevabıdır?**

- A) Kabotaj Kanunu'nun millî egemenlik haklarımız açısından önemini açıklayınız?
- B) Medeni Kanun'un çıkarılma gerekçeleri nelerdir?
- C) Tevhid-i Tedrisat Kanunu neden kabul edildi?
- D) Harf inkılabı niçin yapıldı?

11. Türk Medeni Kanunu'nun kabulüyle dinî inancına bakılmaksızın her Türk vatandaşı aynı hukuka tabi oldu.

**Bu bilgiye göre Medeni Kanun'la ilgili olarak aşağıdakilerden hangisi söylenemez?**

- A) Laik özellik taşımaktadır.
- B) Hukuk birliğini sağlamıştır.
- C) Üstünlük anlayışına göre düzenlenmiştir.
- D) Millî birliğin gerçekleşmesine katkıda bulunmuştur.

12. 13 Şubat 1925'te çıkan Şeyh Sait İsyanı;
- I. Ülke ekonomisinin olumsuz etkilenmesine,
  - II. Güvenlik ve asayiş sorunu yaşanmasına,
  - III. Takrir-i Sükûn Kanunu'nun çıkarılmasına,
  - IV. Musul Meselesi'nin Türkiye aleyhine sonuçlanmasına

neden olmuştur.

**Yukarıda numaralanmış sonuçlardan hangileri, isyanın Türk dış politikasını olumsuz etkilediğini göstermektedir?**

- A) Yalnız III.
- B) Yalnız IV.
- C) I ve II.
- D) I, III ve IV.

13. 21 Haziran 1934 tarihinde kabul edilen Soyadı Kanunu ile her vatandaşın adından başka bir soyadı taşıması zorunlu kılındı. Soyadları Türkçe olacak ve ahlaka aykırı olmayacak; rütbe, makam, ırk, millet belirten tanımlar içermeyecekti.

**Bu bilgiye göre soyadı belirlenirken Atatürk'ün;**

- I. Milliyetçilik
- II. Laiklik
- III. Halkçılık
- IV. Devletçilik

**ilkelerinden hangilerine göre hareket edildiği söylenebilir?**

- A) I ve IV.
- B) II ve III.
- C) I ve III.
- D) II ve IV.

14. Türk kadını 1930'da belediye seçimlerine katılma, 1934'te milletvekili seçme ve seçilme hakkını elde etti. 1935 yılında yapılan milletvekili genel seçimlerinde TBMM'ye 18 kadın milletvekili girdi.

**Buna göre;**

- I. Kadınlar siyasal haklarına kavuşmuştur.
- II. Kadınlar siyasal haklarını erkeklerden önce elde etmiştir.
- III. Kadınların ülke yönetimine katılımları sağlanmıştır.
- IV. Millî egemenlik ilkesi güçlenmiştir.

**yargılarından hangilerine ulaşılabilir?**

- A) Yalnız I.
- B) I ve II.
- C) II, III ve IV.
- D) I, III ve IV.

15. Atatürk'ün aşağıdaki sözlerinden hangisi Atatürkçülüğün akılcılık özelliğini vurgulamaktadır?

- A) Dünyada her şey için en hakiki yol gösterici ilimdir, fendir.
- B) Yurt toprağı! Her şey sana feda olsun. Kutlu olan sensin. Hepimiz senin için fedaiyiz.
- C) Biz, millî sınırlarımız içinde özgür ve bağımsız yaşamaktan başka bir şey istemiyoruz.
- D) Millî egemenlik öyle bir nurdur ki, onun karşısında zincirler erir, taç ve tahtlar yanar yok olur.

16. Atatürk'ün milliyetçilik anlayışı birleştirici, kaynaştırıcı ve eşitlikçidir. Toplum içinde sınıf ve zümre ayrımına karşı çıkar. Dil, din, ırk farkı gözetmeksizin vatandaşların eşit haklara sahip olduklarını savunur.

**Buna göre Atatürk milliyetçiliği aşağıdakilerden hangisini sağlamaya yöneliktir?**

- A) Din birliğini
- B) Millî egemenliği
- C) Üstün millet anlayışını
- D) Millî birlik ve beraberliği

17. Halkçılık ilkesine göre tüm vatandaşlar kanun önünde eşittir. Hiç kimseye, aileye, gruba ayrıcalık tanınmaz.

**Buna göre aşağıdakilerden hangisi halkçılık ilkesi ile bağdaşmaz?**

- A) Kadınların istediği mesleği seçebilmesi  
B) Zorunlu eğitimin herkes için parasız olması  
C) "Efendi", "Paşa", "Bey" gibi unvanların kullanılması  
D) Tüm vatandaşların devlet hizmetlerinden yararlanabilmesi

18. Devletçilik ilkesi ekonominin yanı sıra sosyal ve kültürel alanlardaki gelişmeleri destekleyerek devlete bu alanda da görevler vermiştir.

**Buna göre aşağıdakilerden hangisi devletçilik ilkesi gereği sosyal ve kültürel alanda yapılmış faaliyetlerden biridir?**

- A) Etibankın kurulması  
B) Devlet tiyatrolarının açılması  
C) Gölcük Tersanesinin inşa edilmesi  
D) Karabük Demir - Çelik fabrikasının açılması

19. Türk Medeni Kanunu'nun kabul edilmesi laiklik ilkesi doğrultusunda yapılan bir inkılaptır. Bu inkılapla aile ve toplum hayatında kadın ile erkek aynı haklara sahip olmuştur. Dinî kuralların etkili olduğu daha önceki medenî hukukun yerini çağdaş ilkelere dayanan Medeni Kanun almıştır.

**Bu bilgiye göre laiklik ilkesinin hukuk sisteminde meydana getirdiği değişim, bu ilkenin aşağıdaki esaslarından hangisiyle ilgili değildir?**

- A) Akılcılık  
B) Millî egemenlik  
C) Eşitlik  
D) Bilimsellik

20. Atatürk'ün inkılapçılık anlayışı, zamana göre geri kalmış kurumların kaldırılarak yerine ilerlemeyi ve gelişmeyi kolaylaştıracak kurumların konması esasına dayanır. Dünyadaki gelişmeleri izleyerek daima ileri gitmeyi ön görür.

**Buna göre inkılapçılık ilkesi ile aşağıdakilerden hangisi amaçlanmıştır?**

- A) Dayanışma  
B) Paylaşma  
C) Çağdaşlaşma  
D) Kaynaştırma

**15 MAYIS 2016 TARİHİNDE YAPILAN 8. SINIF 2. DÖNEM  
T.C. İNKILAP TARİHİ VE ATATÜRKÇÜLÜK DERSİ MERKEZİ ORTAK SINAVI  
(MAZERET) "A" KİTAPÇIĞI CEVAP ANAHTARI**

**T.C. İNKILAP TARİHİ VE ATATÜRKÇÜLÜK**

1. D
2. A
3. B
4. D
5. A
6. B
7. A
8. D
9. A
10. C
11. C
12. B
13. C
14. D
15. A
16. D
17. C
18. B
19. B
20. C



**A**  
KİTAPÇIK TÜRÜ

T.C.  
MİLLÎ EĞİTİM BAKANLIĞI  
ÖLÇME, DEĞERLENDİRME VE SINAV HİZMETLERİ GENEL MÜDÜRLÜĞÜ

**8. SINIF 2. DÖNEM**  
**DİN KÜLTÜRÜ VE AHLAK BİLGİSİ DERSİ**  
**MERKEZİ ORTAK SINAVI (MAZERET)**

14 MAYIS 2016 Saat: 11.20

Adı ve Soyadı : .....  
Sınıfı : .....  
Öğrenci Numarası : .....

**SORU SAYISI** : 20  
**SINAV SÜRESİ** : 40 Dakika

**ÖĞRENCİLERİN DİKKATİNE!**

1. Sınıf öğrenci yoklama listesinde belirtilen sınıfta ve sıra numarasında oturunuz.
2. Cevap kâğıdındaki kimlik bilgilerinin doğruluğunu kontrol ediniz.
3. Kitapçık türünü cevap kâğıdındaki ilgili alana kodlayınız.
4. Cevap kâğıdı üzerindeki kodlamaları kurşun kalemle yapınız.

**SINAV BAŞLAMADAN ÖNCE**  
**KİTAPÇIĞIN ARKA KAPAĞINDAKİ UYARILARI MUTLAKA OKUYUNUZ.**

## DİN KÜLTÜRÜ VE AHLAK BİLGİSİ

1. Bu testte 20 soru vardır.
2. Cevaplarınızı, cevap kâğıdına işaretleyiniz.

1. • Çalışarak kazanmak yerine tembelliği ve hileyi teşvik eder.  
• Ruh sağlığını bozar ve zaman israfına neden olur.  
• Aileleri ekonomik sıkıntıya düşürür.

**Bu bilgiler aşağıdaki sorulardan hangisine cevap oluşturur?**

- A) Kumarın zararları nelerdir?
- B) Taassubun sonuçları nelerdir?
- C) Kötü alışkanlıklardan korunma yolları nelerdir?
- D) Kötü alışkanlıklara başlama sebepleri nelerdir?

2. Hz. Muhammed (sav.); selamlaşmak, davet edildiğinde katılmak, öğüt isteyeneye öğüt vermek, aksırana "Allah sağlık ve afiyet versin" demek, hastayı ziyaret etmek ve cenazeye katılmak gibi davranışların, Müslüman'ın Müslüman'a karşı görevleri arasında olduğunu bildirmiştir.

**Hız. Muhammed (sav.) bu öğütleri ile Müslümanlar arasında aşağıdaki davranışlardan hangisini yerleştirmeyi amaçlamıştır?**

- A) İlimi yaygınlaştırmayı
- B) Maddi yardımı artırmayı
- C) Doğaya karşı duyarlı olmayı
- D) Dayanışma bilincini geliştirmeyi

3. Sınıftan bir miktar paranın kaybolduğunu duyan İhsan bu paranın nasıl bulunabileceğini düşünürken teneffüste bir arkadaşının diğer öğrencilere bir şeyler ısmarladığını görür ve hemen öğretmenine koşarak kaybolan paradan bu arkadaşının sorumlu olabileceğini söyler. Öğretmen de İhsan'a İslam'ın aceleci davranmamayı tavsiye ettiğini ve yanılıyor olabileceğini belirterek bir ayeti hatırlatır.

**Buna göre öğretmenin hatırlattığı ayet aşağıdakilerden hangisi olabilir?**

- A) "Ey iman edenler! Yapmayacağınız şeyleri niçin söylüyorsunuz?"  
(Sâff suresi, 2. ayet)
- B) "Çirkin bir iş işledikleri vakit 'Biz atalarımızdan böyle gördük ve bize bunu Allah emretti' derler..."  
(A'râf suresi, 28. ayet)
- C) "Hakkında kesin bilgi sahibi olmadığın şeyin peşine düşme. Çünkü kulak, göz ve kalp bunların hepsi ondan sorumludur."  
(İsrâ suresi, 36. ayet)
- D) "Bunlara, 'Yeryüzünde fesat çıkarmayın' denildiğinde 'Biz ancak ıslah edicileriz' derler."  
(Bakara suresi, 11. ayet)

- 4.

	Zekât Verilecek Mallar	Oranlar
I.	Siğır ve manda	1/5
II.	Toprak ürünleri	1/10
III.	Altın, gümüş	1/30
IV.	Koyun ve keçi	1/40

**Tabloda zekât verilen mallar ve oranları ile ilgili numaralanmış bilgilerden hangileri doğrudur?**

- A) I ve III.
- B) I ve IV.
- C) II ve III.
- D) II ve IV.

5. Hz. Muhammed (sav.) Miraç'ta yaşadıklarını amcasının kızına anlattı. O da bu olanları halka anlatmamasını yoksa onların kendisine inanmayıp, zorluklar çıkaracaklarını söyledi. Fakat Peygamberimiz bu durumu ne olursa olsun saklamayacağını, insanlara duyuracağını belirtti.

**Bu olaydan Hz. Muhammed'in (sav.) aşağıdaki özelliklerinden hangisine ulaşamaz?**

- A) Doğruluk  
B) Merhamet  
C) Kararlılık  
D) Cesaret

6. Peygamberliğinin başlangıcından itibaren ilme önem veren Hz. Muhammed (sav.), Hicret'ten sonra Medine'de bir mescit yaptırmış ve burada ilim için Suffe adı verilen bir bölüm ayırmıştır. Böylece gençlerin ilimle meşgul olmasını sağlamış ve onlara özel bir kıymet vermiştir.

**Bu metinde Hz. Muhammed (sav.) ile ilgili aşağıdakilerden hangisine ulaşamaz?**

- A) Mescidi hem ibadet hem de ilim yeri olarak kullanmıştır.  
B) İlimi ve ilimle uğraşanları önemsemiştir.  
C) İlim öğretmeye Suffe ile başlamıştır.  
D) Gençlerin ilim öğrenmesi için imkânlar oluşturmuştur.

7. Hz. Muhammed (sav.) karar alırken pek çok konuda insanlara fikirlerini sorar, onların görüşlerini alırdı.

**Hz. Muhammed (sav.) bu şekilde davranmakla aşağıdakilerden hangisini amaçlamış olamaz?**

- A) Sorumluluktan kaçınmayı  
B) Hata yapma ihtimalini azaltmayı  
C) Konulara farklı bakış açıları kazandırmayı  
D) Birlikte hareket etme bilinci kazandırmayı

- 8.

Hz. Muhammed'in (sav.)	
Davranışları	Hadisleri
<ul style="list-style-type: none"> <li>• İnsanların fikirlerine başvurması</li> <li>• Sabırlı ve kararlı olması</li> <li>• Merhametli ve hoşgörülü olması</li> </ul>	I. Güneş'i sağ elime Ay'ı sol elime koysalar yine de yolumdan dönmem.
	II. Yetimi sevindirmek kalbi yumuşatır.
	III. Güçsüzün incindiği ve hakkını alamadığı bir toplum yücelemez.
	IV. Bir millet işlerini danışma ile yürüttüğü sürece sıkıntıya düşmez.

**Tabloda verilen davranışlar ile numaralanmış hadisler eşleştirildiğinde hangi hadis dışarıda kalır?**

- A) I.      B) II.      C) III.      D) IV.



9.

	Kâbe'de Yapılan İbadetler	Arafat'ta Yapılan İbadetler
I.	Vakfe	Sa'y
II.	Tavaf	Kurban
III.	Vakfe	Şeytan Taşlama
IV.	Tavaf	Vakfe

**Bu tabloya göre hem Kâbe'de hem Arafat'ta yapılan ibadetler numaralanmış satırların hangisinde doğru verilmiştir?**

- A) I.      B) II.      C) III.      D) IV.

- 10.** İki kişinin arasını bulup barıştırmak sadakadır. Bir kişiye bineğine binmesinde veya eşyasını taşımasında yardım etmek sadakadır. Güzel söz sadakadır. Namaza gitmek için atılan her adım sadakadır. Yoldaki rahatsızlık veren şeyleri kaldırmak da bir sadakadır.

**Bu hadisten çıkarılacak en kapsamlı sonuç aşağıdakilerden hangisidir?**

- A) Namazlar cemaatle kılınmalıdır.  
 B) Her güzel davranış sadaka hükmündedir.  
 C) İnsanlara güzel sözlerle hitap edilmelidir.  
 D) Yaşlılara yardım etmek sadaka kapsamına girer.

- 11.** Zekâti verilen mal budanan ağaç gibidir. Budandıkça daha da gürleşir ve fazla meyve verir.

**Bu açıklama aşağıdaki ayetlerden hangisi ile doğrudan ilişkilidir?**

- A) "Eğer sadakaları (zekât ve benzeri hayırları) açıktan verirsiniz ne güzel! Eğer onu fakirlere gizlice verirsiniz, işte bu sizin için daha hayırlıdır..."  
 (Bakara suresi, 271. ayet)
- B) "...De ki: Harcadığınız her şey; ana baba, yakınlar, öksüzler, yoksullar ve yolda kalmışlar içindir. Allah yapacağınız her hayrı (iyiliği) bilir."  
 (Bakara suresi, 215. ayet)
- C) "Mallar ve evlatlar dünya hayatının süsüdür; ölümsüz olan iyi işler ise Rabb'inin katında hem sevapça daha hayırlı hem de ümit bağlamaya daha lâyıktır."  
 (Kehf suresi, 46. ayet)
- D) "Mallarını Allah yolunda harcayanların durumu, her başağında yüz dane olmak üzere, yedi başak veren danenin durumu gibidir. Allah dilediğine kat kat verir. Allah'ın lütfü geniştir. (O) bilendir."  
 (Bakara suresi, 261. ayet)

- 12.** Taassup ile ilgili aşağıdaki bilgilerden hangisi yanlıştır?

- A) Yenilikleri daha kolay kabullenmeye yol açar.  
 B) İnsanlar arasındaki sevgiyi ve hoşgörüyü engeller.  
 C) Farklı inanç ve görüşlere tahammülsüzlük doğurur.  
 D) Kişiyi araştırma yapmaktan ve kendini geliştirmekten uzaklaştırır.

13. (I) Hac yılın belirli günlerinde dinimizce önemli sayılan Kâbe ve çevresindeki yerlerin ibadet niyetiyle ziyaret edilmesidir. (II) Sağlığı yerinde ve maddi imkânları uygun olan her Müslümanın ömründe bir kez hacca gitmesi farzdır. (III) Hac ibadeti bireyin ahlakî duyarlılığını geliştirmenin yanı sıra Müslümanların kaynaşmasını da sağlar. (IV) Bu ibadeti hakkıyla yerine getirenin günahlarının affolunacağı bildirilmiştir.

**Bu metinde numaralanmış cümlelerin hangisinde haccın birey ve toplum üzerindeki etkisi birlikte vurgulanmıştır?**

- A) I.      B) II.      C) III.      D) IV.

14. 8. sınıf öğrencisi Eylül, arkadaşı Meryem'in masayı karaladığını görünce, onu uyarmak istedi. Fakat "Arkadaşıma uyarıda bulunursam belki bana kızar, benimle bir daha konuşmak istemez; en iyisi aramızı bozmayalım. Ne yaparsa yapsın." diyerek uyarmaktan vazgeçti.

**Eylül'ün bu davranışı aşağıdaki ayetlerden hangisinin mesajı ile çelişir?**

- A) "Onlar... iyiliği emreder, kötülükten alıkoyarlar. Hayırlı işlere koşuşurlar..."  
(Âl-i İmrân suresi, 114. ayet)
- B) "Onlar gayba inanırlar, namaz kılarlar, kendilerine verdiğimiz mallardan Allah yolunda harcarlar."  
(Bakara suresi, 3. ayet)
- C) "Rabbin dileyeydi yeryüzünde bulunanların hepsi inanırdı..."  
(Yûnus suresi, 99. ayet)
- D) "Mallarınız ve çocuklarınız ancak bir imtihandır; Allah katında ise büyük bir mükâfat vardır."  
(Teğâbun suresi, 15. ayet)

15. I. İhrama girmek  
II. Vakfe yapmak  
III. Şeytan taşlamak  
IV. Tavaf yapmak

**Bu ibadetlerden hangileri umrenin şartlarından değildir?**

- A) I ve III.      B) I ve IV.  
C) II ve III.      D) II ve IV.

16. Hz. Muhammed (sav.) Mekke'yi fethettiğinde kendisine zulmetmiş olan Mekkelilere şöyle seslenmiştir: "Ben size Yusuf'un (as.) kardeşlerine söylediklerini tekrarlıyorum. Bugün size kınama yoktur. Allah sizi bağışlasın. Çünkü O, merhametlilerin en merhametlisidir."

**Bu metinde Hz. Muhammed (sav.) ve Hz. Yusuf'un (as.) aşağıdaki ortak özelliklerinden hangisi vurgulanmıştır?**

- A) İffete önem verme  
B) Merhametli ve affedici olma  
C) Verdikleri sözü yerine getirme  
D) Aile büyüklerine saygılı davranma

17. Hz. Muhammed (sav.) vefatından kısa bir süre önce arkadaşlarını toplayarak onlara “Şayet birinize karşı bir hatam varsa, kimi incittiysem, kimin malına veya canına herhangi bir biçimde zararım dokunmuşsa gelsin benden hakkını alsın.” demişti.

**Hz. Muhammed (sav.) bu davranışı ile hangi ahlakî değere verdiği önemi göstermiştir?**

- A) Affedicilik  
B) Hoşgörü  
C) Cesaret  
D) Hakkı gözetmek

18. “Allah’tan başka ilah yoktur. O, daima diridir (hayy), bütün varlığın idaresini yürütendir (kayyum). O’nu ne uyuklama tutar ne de uyku. Göklerde ve yerdekilerin hepsi O’nundur. İzni olmadan katında şefaata edebilecek olan kimdir? O, kullarının yaptıklarını ve yapacaklarını bilir. İnsanlar ise O’nun bildirdiklerinin dışında ilminden hiçbir şeyi tam olarak kavrayamazlar. O’nun sonsuz kudreti (kürsüsü) gökleri ve yeri kuşatmıştır. Onları koruyup gözetmek O’na zor gelmez. O yücedir, büyüktür.”

(Bakara suresi, 255. ayet)

**Bu ayetten Allah ile ilgili aşağıdaki bilgilerden hangisine ulaşamaz?**

- A) İyilikleri asla karşılıksız bırakmaz.  
B) Evreni yönetmekten aciz değildir.  
C) Eşi ve benzeri yoktur.  
D) İlmine sınır getirilemez.

19. Aşağıdaki ibadetlerin hangisinin yapılışında zaman ve miktar şartı aranmaz?

- A) Zekât  
B) Hac  
C) Fitre  
D) Sadaka

20. Yavuz Öğretmen öğrencilerinden Allah’ın yasakladığı kötü alışkanlıkların sonuçlarına örnekler vermelerini istemiştir.

**Buna göre hangi öğrencinin verdiği örnek yanlıştır?**

- A) Uyuşturucu, insanın sağlıklı karar vermesini engeller.



Reyhan

- B) Kendini kanıtlama isteği kötü alışkanlıklar edinmede etkilidir.



Meryem

- C) Trafik kazalarında alkolün etkisi büyüktür.



İbrahim

- D) Sigara içmek sağlık sorunlarına yol açar.



Harun

**14 MAYIS 2016 TARİHİNDE YAPILAN 8. SINIF 2. DÖNEM  
DİN KÜLTÜRÜ VE AHLAK BİLGİSİ DERSİ MERKEZİ ORTAK (MAZERET) SINAVI  
“A” KİTAPÇIĞI CEVAP ANAHTARI**

**DİN KÜLTÜRÜ VE AHLAK BİLGİSİ**

1. A
2. D
3. C
4. D
5. B
6. C
7. A
8. C
9. D
10. B
11. D
12. A
13. C
14. A
15. C
16. B
17. D
18. A
19. D
20. B



**A**  
KİTAPÇIK TÜRÜ

T.C.  
MİLLÎ EĞİTİM BAKANLIĞI  
ÖLÇME, DEĞERLENDİRME VE SINAV HİZMETLERİ GENEL MÜDÜRLÜĞÜ

**8. SINIF 2. DÖNEM**  
**İNGİLİZCE DERSİ**  
**MERKEZİ ORTAK SINAVI (MAZERET)**  
15 MAYIS 2016 Saat: 11.20

Adı ve Soyadı : .....  
Sınıfı : .....  
Öğrenci Numarası : .....

**SORU SAYISI** : 20  
**SINAV SÜRESİ** : 40 Dakika

**ÖĞRENCİLERİN DİKKATİNE!**

1. Sınıf öğrenci yoklama listesinde belirtilen sınıfta ve sıra numarasında oturunuz.
2. Cevap kâğıdındaki kimlik bilgilerinin doğruluğunu kontrol ediniz.
3. Kitapçık türünü cevap kâğıdındaki ilgili alana kodlayınız.
4. Cevap kâğıdı üzerindeki kodlamaları kurşun kalemle yapınız.

**SINAV BAŞLAMADAN ÖNCE**  
**KİTAPÇIĞIN ARKA KAPAĞINDAKİ UYARILARI MUTLAKA OKUYUNUZ.**

## İNGİLİZCE

1. Bu testte 20 soru vardır.
2. Cevaplarınızı, cevap kâğıdına işaretleyiniz.

1-10. sorularda boş bırakılan yere uygun gelen kelime ya da ifadeyi işaretleyiniz.

1. **Nadia** : What a nice day! Would you like to hang out?

**Ruth** : - - - - but I can't refuse this invitation.

- A) I'm busy                      B) That's great  
C) Sounds good                D) Enjoy yourself

2. **Rosa** : I want to cook something different for dinner tonight. Do you have any special recipe?

**Susan**: Yes, I have. - - - - .

- A) You must add sugar to the mixture  
B) You can set the table for lunch  
C) You should definitely try it  
D) You may have a drink

3. **Lucy** : I was in Uludağ last Saturday.

**Gizem** : - - - - ?

**Lucy** : Well, I tried many activities such as snowshoeing and snow tubing.

- A) What did you buy  
B) How did you go there  
C) How long did you stay  
D) What did you do there

4. **Eric** : What is the problem?

**Robert**: I can't listen to music because I'm having problems with my - - - - .

- A) speakers                      B) printer  
C) webcam                        D) microphone

5. **Mike** : - - - - ?

**Rosa** : I practice English and do online shopping on the Net.

- A) When do you usually access the Net  
B) What do you usually do on the Net  
C) Who likes playing online games  
D) How often do you chat online

6. **Carol** : - - - - ?

**Arthur**: Yes. I tried it several times last summer.

- A) Did you do parachute diving  
B) Where did you do shopping  
C) Who did you go there with  
D) Did you like its climate

7. **Robert** : Can I use your laptop to do online shopping?

**George**: - - - - . I am not using it now.

- A) I'm sorry                      B) I need it  
C) Sure                              D) Thanks anyway

8. Jane : - - - - ?  
Sue : **Afghanistan and Turkmenistan.**

- A) Which countries do these dishes belong to  
B) How can I find accommodation in the city  
C) When did you visit these countries  
D) Who will she spend her time with

9. I enjoy heart-stopping activities. That's why I prefer rafting to bowling because - - - - .

- A) wearing helmet is important  
B) a first-aid kit can save lives  
C) it's a fantastic structure  
D) it's more challenging

10. Nancy : **My grandfather still writes letters to contact his friends.**

Nurcan: **Why not?** - - - - .

- A) I think it is lovely  
B) I believe it is boring  
C) To me, it is unbearable  
D) In my opinion, it is ridiculous

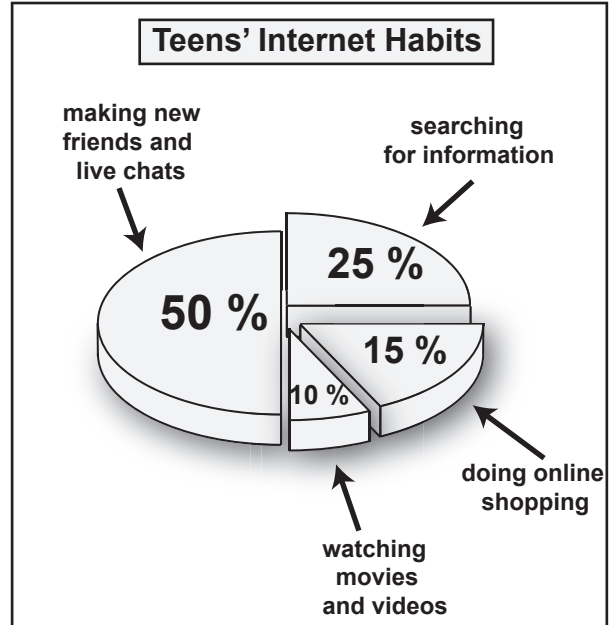
11. I. Sorry, she isn't available now. Would you like to leave a message?  
II. Hello, Adam speaking.  
III. Sure, could you tell her to contact me soon?  
IV. Hi, this is Robert. Is Mrs. Curtis in?

Yukarıda bir telefon konuşması karışık olarak verilmiştir.

**Anlamalı bir diyalog oluşturmak için numaralanmış cümleler nasıl sıralanmalıdır?**

- A) II, III, IV, I                      B) II, IV, I, III  
C) IV, III, II, I                      D) IV, III, I, II

- 12.




**Verilen grafiğe göre aşağıdakilerden hangisi doğrudur?**

- A) All teens use the Net to research a topic.  
B) Most of the teens do shopping on the Net.  
C) Teens never watch movies and videos on the Net.  
D) Half of the teens prefer communicating with people on the Net.

13. "I dislike talking on mobile phones so I usually keep in touch with friends by sending emails."  
ifadesini anlatan görsel aşağıdakilerden hangisidir?

A)



B)



C)



D)



14. "Raise your hand before speaking."  
ifadesini anlatan görsel aşağıdakilerden hangisidir?

A)



B)



C)



D)





**15-17. soruları aşağıda verilen metne göre cevaplayınız.**

Hi, my name is Adeline. My family members are responsible for different chores. We live in a big house together so we share many chores. I always make my own bed. Also, I like helping my mother with cooking and setting the table. My father is responsible for washing the car and going shopping. My brother, Frank feeds the dog every day. My sister, Judy takes care of Frank, helps his homework and she weeds the garden once a week.

**15. All the family members help each other - - - - .**

- A) and Adeline washes the car
- B) so Judy takes care of the dog
- C) that's why Frank's mother goes shopping
- D) because they live in a big house together

**16. Adeline - - - - .**

- A) never does her duties
- B) loves helping her mom
- C) enjoys feeding the dog
- D) takes care of her brother

**17. Which one is TRUE about the text?**

- A) Frank is responsible for making his own bed.
- B) Judy often helps her mother with cooking.
- C) Adeline's father always cleans their car.
- D) The house is small and has a garden.

**18-20. soruları aşağıda verilen metinlere göre cevaplayınız.**



**Rosa**

Istanbul is well-known for its historic places because it is the crossroad of many cultures, religions and civilizations. I like visiting these kinds of cities. It is warm in summers and I prefer travelling in warm days. That's why I decided to visit Istanbul next summer.



**Tina**

I like winter sports. So, Bursa is a good choice for me with its many ski resorts. I visited Bursa to experience some winter sports last year. Also, I tried various traditional dishes and I loved them. So, I'm planning to go there for my vacation next winter.



**Martin**

Antalya has many historic mosques, churches and museums. It also has sandy beaches and green mountains. Cities like that are my favorite tourist destinations. The weather there is fine the year around, too. So, I prefer Antalya for my summer holiday.

**18. Rosa - - - - .**

- A) is not going to visit any places next year
- B) prefers historic cities for holiday
- C) likes travelling in cold weather
- D) is not interested in culture

**19. Tina -----.**

- A) is not into winter sports
- B) stayed at a hostel last year
- C) didn't like the meals in Bursa
- D) is going to visit Bursa next winter

**20. Which one is TRUE about the last text?**

- A) Antalya is quite cold even in summers.
- B) Martin wants to visit Antalya in winter.
- C) Antalya has many tourist attractions.
- D) Martin dislikes green mountains.

**TEST BİTTİ.  
CEVAPLARINIZI KONTROL EDİNİZ.**

**15 MAYIS 2016 TARİHİNDE YAPILAN 8. SINIF 2. DÖNEM  
İNGİLİZCE DERSİ MERKEZİ ORTAK SINAVI (MAZERET)  
“A” KİTAPÇIĞI CEVAP ANAHTARI**

**İNGİLİZCE**

---

- 1. A**
- 2. C**
- 3. D**
- 4. A**
- 5. B**
- 6. A**
- 7. C**
- 8. A**
- 9. D**
- 10. A**
- 11. B**
- 12. D**
- 13. D**
- 14. A**
- 15. D**
- 16. B**
- 17. C**
- 18. B**
- 19. D**
- 20. C**