



**A**  
KİTAPÇIK TÜRÜ

T.C.  
MİLLÎ EĞİTİM BAKANLIĞI  
ÖLÇME, DEĞERLENDİRME VE SINAV HİZMETLERİ GENEL MÜDÜRLÜĞÜ

**8. SINIF 2. DÖNEM**  
**TÜRKÇE DERSİ**  
**MERKEZİ ORTAK SINAVI**  
27 NİSAN 2016 Saat: 09.00

Adı ve Soyadı : .....  
Sınıfı : .....  
Öğrenci Numarası : .....

**SORU SAYISI** : 20  
**SINAV SÜRESİ** : 40 Dakika

### ÖĞRENCİLERİN DİKKATİNE!

1. Sınıf öğrenci yoklama listesinde belirtilen sınıfta ve sıra numarasında oturunuz.
2. Cevap kâğıdındaki kimlik bilgilerinin doğruluğunu kontrol ediniz.
3. Kitapçık türünü cevap kâğıdındaki ilgili alana kodlayınız.
4. Cevap kâğıdı üzerindeki kodlamaları kurşun kalemle yapınız.

**SINAV BAŞLAMADAN ÖNCE**  
**KİTAPÇIĞIN ARKA KAPAĞINDAKİ UYARILARI MUTLAKA OKUYUNUZ.**

1. Bu testte 20 soru vardır.
2. Cevaplarınızı, cevap kağıdına işaretleyiniz.

1. Kapadokya sadece toprağıyla değil mikroklima özellikleriyle de ön planda oldu. Bu sayede, köklü bir geçmişe sahip Kapadokya bağları hem Kızılırmak'ın yumuşatıcı etkisini hem de 900 ile 950 metre arasındaki rakımın yaz serinliğini bir araya getiriyor. Yaz güneşini iyi alan bu bağlarda kalitesi yüksek üzümler yetiştiriliyor.

**Terimler sözlüğü oluşturulmak istenirse bu metindeki terim anlamlı kelimelerden hangilerine sözlükte yer verilmelidir?**

- A) metre - mikroklima - rakım
- B) metre - rakım - serinlik
- C) güneş - mikroklima - toprak
- D) güneş - serinlik - toprak

2. Bursa'da bir eski cami avlusu,  
I  
Küçük şadırvanda şakırdayan su;  
Orhan zamanından kalma bir duvar...  
II  
Onunla bir yaşta ihtiyar çınar  
III  
Eliyor dört yana sakin bir günü.  
IV

**Bu dizelerde numaralanmış kelimelerden hangisi diğerlerinden farklı bir anlamda kullanılmıştır?**

- A) I.
- B) II.
- C) III.
- D) IV.

3. Gerçek dostluğun ne olduğunu bilirim, bildiğim için de - - - -

**Bu cümlelerin "özveri" anlamı taşıması için aşağıdakilerin hangisiyle tamamlanması gerekir?**

- A) dostumun beni hiç yargılamadan dinlemesini beklerim.
- B) dostlarımla kötü günler yaşamasını hiç istemem.
- C) yeri geldiğinde kendi isteklerimden onun için vazgeçerim.
- D) "dost" diyebileceğim insanı seçerken uzun süre düşünürüm.

4. (I) Anneannem sadece biz çocuklar için değil mahallenin büyükleri için de ayrı bir anlama sahipti. (II) Arka bahçede, hemen hemen her hafta cuma günleri yer ocağında pelit odunu ateşinde yufka ekmeği ve bazlamalar yapardı. (III) Kokusu gitmiştir diye tüm komşulara da dağıtırdı. (IV) Dumanı üstünde yufka ekmeği ve bazlamaları görünce komşuların yüzüne sıcak bir tebessüm yerleşirdi.

**Bu metinde numaralanmış cümlelerin hangilerinde neden-sonuç ilişkisi vardır?**

- A) I ve II.
- B) I ve IV.
- C) II ve III.
- D) III ve IV.

5. Bizde bisikletin bir spor aracı olarak kullanılması, dünyada ilk bisiklet yarışmasının yapılmasından kırk yıl sonra 1910'da başladı; ülkemize bisikleti ilk sokan kişi ise 1880'li yıllarda Amerikalı bir gezgindi.

**Bu cümleden aşağıdaki yargılardan hangisi kesin olarak çıkarılır?**

- A) Dünyada bisiklet ilk kez yarışlarda kullanılmıştır.  
B) Bisiklet, spor dışında da kullanılan bir araçtır.  
C) Bisikleti dünyaya Amerikalılar tanıtmıştır.  
D) Bisiklet sporu günümüzde ilgi gören bir spor dalıdır.

6. Anadolu toprağı Türkler yerleşmeden önce boş değildi. Anadolu toprağının özelliğı şudur ki çok insan harman olmuştur bu topraklarda. Nice dil alışverişi, nice gül alışverişi, nice gönül alışverişi olmuştur. Doğudan, batıdan; İran halkı, Roma halkı kavuşmuşlardır ırmak boylarında, ovalarda, dağ eteklerinde. Almışlardır, vermişlerdir. Bu yüzden Anadolu insanı insanlığın has gülüdür.

**Bu metinde Anadolu'nun hangi özelliğı vurgulanmıştır?**

- A) Birçok kültürün buluşma noktası olması  
B) Nüfusunun her dönemde yoğun olması  
C) Her dönemde önemli bir ticaret merkezi olması  
D) Coğrafyasının insan ilişkilerini sarsması

7. Çocuğa güzellik, insanlık duyguları ile ulus ve yurt sevgisi kazandırmada şiirin etkisi çok önemlidir. Ana dilini sevdirmeye ve onun zenginliğini tanıtmayı sağlar. Bir duygu, düşünce ve izlenimin sanatlı biçimde nasıl anlatılabileceğini öğretmesi bakımından da şiirin, çocukların eğitiminde büyük bir işlevi vardır.

**Bu metinde şiirin aşağıdaki işlevlerinin hangisinden söz edilmemiştir?**

- A) İnsani değerleri aşılması  
B) Ezber gücünü artırması  
C) Dil zevki vermesi  
D) Millî kimliğı benimsetmesi

8. (I) "Denizineğı" olarak bilinen manatiler, genellikle vakitlerini su altındaki bitki örtüsünde otlayarak geçirir. (II) Sıcak kıyıların sığ sularında yaşar. (III) Vücutlarını suyun üzerinde ilerletebilmek için kürek şeklindeki kuyruklarını yukarı, aşağı hareket ettirir. (IV) Hantal görünüşlerine rağmen manatiler, usta yüzücüdür.

**Bu metinde numaralanmış cümlelerin hangisinden sonra "Öyle ki saatte 25 km hızla bile yüzebilir." cümlesinin getirilmesi en uygundur?**

- A) I. B) II. C) III. D) IV.

9. Nasrettin Hoca eşeğinden düşer ve acıyla kıvrılır. Başına toplananlar, “Hemen bir doktor çağırın!” diye bağırırken Hoca, “Bana doktor değil, eşekten düşmüş birini bulun!” der. Buradan da anlaşılıyor ki - - - -

**Bu metin düşüncenin akışına göre aşağıdakilerden hangisiyle tamamlanmalıdır?**

- A) bir işi en iyi o alanın uzmanı yapar.  
B) insanın başına her an her şey gelebilir.  
C) bazen insan çaresiz kaldığında ne söylediğini bilemez.  
D) aynı duyguyu yaşayanlar birbirini daha iyi anlar.

10. Evet, isterseniz bununla ilgili bir anımı paylaşayım. Jules Verne’in (Jul Vern) “Dünya’dan Ay’a Yolculuk” kitabı vardır. Hiç unutmuyorum, babam bana bu kitabı karne hediyesi olarak almıştı. Sekiz yaşındaydım. Oradan Jules Verne’in adını silmişim, kendime yazar olarak koyduğum “Turna” ismini tükenmez kalemle yazmışım. Yani bu kitabı ben yazdım anlamında... İyi bir okurdum çocukken ve yazmaya da hevesliydim anlayacağınız.

**Bu metin aşağıdakilerden hangisine yanıt olarak söylenmiştir?**

- A) Yazarlık hayatınız ne zaman ve nasıl başladı?  
B) Çocukluğunuzda yazar olmaya yönelik bir isteğiniz var mıydı?  
C) Çocukluğunuzda kimleri okuyup ben de yazar olsam, derdiniz?  
D) Kendinize örnek aldığınız bir kitap oldu mu hiç?

11. İnsanın yaşamını yönlendiren en büyük güç olmuştur söz ve sözcükler. Yaşam gerçeklerinin ayırımına varmayı, onlara karşı direnmeyi kazandırmış insanoğluna. Bunu şöyle belirtiyor Tolstoy: “Sözcüklere dökülebilen, onlarla biçimlendirilen gerçek; insan yaşamını besleyen, zenginleştirip güzelleştiren en büyük güçtür.” İnsanoğlunun yaşamı algılamasında, ona yeni boyutlar kazandırmasında söz ve sözcükler en temel öge olmuştur.

**Bu metinde yazar, ana fikri desteklemek için aşağıdakilerden hangisine başvurmuştur?**

- A) Bir kavramın niteliklerini eksiksiz olarak belirtmeye ve açıklamaya  
B) Anlatılanları okuyucunun zihninde canlandırmaya  
C) Bir konuyu daha ayrıntılı anlatmak için örneklendirmeye  
D) Öne sürdüğü düşünceyi başkalarının görüşleriyle desteklemeye

12. İhtiyarlar ne yaparlar? Başlarından geçenleri yazarlar. Ben de bunu yapıyorum. Yazmaya başladığımda 82 yaşındaydım. Bu işi tamamlamaya ömrüm yeter mi bilemem. Ama bunu deneyeceğim mutlaka. Çünkü belleksiz bir toplum olmamızı önlemek için herkesin yazmasını yararlı buluyorum. Köşedeki bakkal gördüklerini günü güne kaydetse, sokağındaki evlerin nasıl apartmanlaştığını, orada oturanların ne gibi değişimlere uğradığını kronolojik bir şekilde anlatsa bunlar bile ilginç olur bana kalırsa.

**Bu metinde yazar, aşağıdaki metin türlerinden hangisine ait eserler verilmesini önermektedir?**

- A) Deneme  
B) Öykü  
C) Günlük  
D) Biyografi

13. Yunus Emre, tasavvuf edebiyatının en büyük şairlerinden biridir. O, insanlara engin bir sevgiyle bağlıdır. Onun insan sevgisinin temelinde Allah sevgisi vardır. Şiirlerinde Allah aşkı ve insan sevgisi konularını duygulu bir şekilde işlemiştir. O; duygu, düşünce ve inanışlarını büyük bir sadelikle şiirleştirmiştir.

**Bu metne göre aşağıdaki dörtlülüklerden hangisi Yunus Emre'ye ait olamaz?**

- A) Ne varlığa sevinirim  
Ne yokluğa yerinirim  
Aşkın ile avunurum  
Bana seni gerek seni
- B) Bizim yaylanın başına  
Can dayanmaz ötüşüne  
Serin yaylalar başına  
Kuraydım otağı şimdi
- C) Gelin tanış olalım  
İşi kolay kılalım  
Sevelim, sevilelim  
Dünya kimseye kalmaz
- D) Gökyüzünde İsa ile  
Tur Dağı'nda Musa ile  
Elimdeki asa ile  
Çağırayım Mevla'm seni

14. (I) Akdeniz Bölgesi genellikle yaz mevsiminin hâkimiyet alanı gibi düşünülse de Davraz bu inancı tersine çeviriyor bence. (II) Isparta Davraz Kayak Merkezi her yıl birçok kayak meraklısına hizmet veriyor. (III) Eğirdir Gölü'ne yakınlığı ile kış sporları dışında doğa yürüyüşlerine de imkân tanıyan Davraz Kayak Tesisinde 12 adet pist bulunuyor. (IV) Tehlikesiz rotaları sayesinde amatörler için ideal çalışma ortamı sağlayan Davraz, ziyaretçilerini bekliyor.

**Bu metinde numaralanmış cümlelerle ilgili aşağıdakilerden hangisi doğrudur?**

- A) I. cümle öznel bir yargıdır.  
B) II. cümlede karşılaştırmaya yer verilmiştir.  
C) III. cümle tanım cümlesidir.  
D) IV. cümlede benzetme yapılmıştır.

15. (I) Yenilenebilen ve ses yalıtımı sağlayan saman balyası en ucuz doğal malzemelerden biridir. (II) Ayrıca saman balyasından yapılan ev, ısı kaybını önlemesi nedeniyle enerji verimliliği sağlıyor. (III) Malzemenin kolay temin edilmesi ve evin kolaylıkla inşa edilmesi de tercih nedenlerinden biri. (IV) Saman balyası evlerle Türkiye yeni yeni tanışıyor. (V) Bu tanışma Buğday Ekolojik Yaşamı Destekleme Derneğinin, yirmi gönüllüyle 100 m<sup>2</sup> bir ev inşa etmesiyle gerçekleşti. (VI) Amaçları Kuzey Amerika, İngiltere ve İskandinav ülkelerinde kullanılan bu evleri Türkiye'de de yaygınlaştırmak.

**Bu metin iki paragrafa bölünmek istenirse ikinci paragraf numaralanmış cümlelerin hangisiyle başlar?**

- A) III.      B) IV.      C) V.      D) VI.

16. I. Dünyanın en ünlü balinası kara sularımızda görüldü. (Edilgen)  
II. Uzun yıllar sonra memleketine dönmüştü. (Etken)  
III. Geçmiş, tatlı bir çocukluk masalı gibi anımsarız. (Edilgen)  
IV. Bu şehirde gece gündüz düdük sesi duyuluyor. (Edilgen)

**Numaralanmış cümlelerin hangisinde çatı özelliği yay ayraç içinde yanlış verilmiştir?**

- A) I.      B) II.      C) III.      D) IV.

17. (I) Köyde dedemin keçileri, tavukları ve birkaç ineği bulunuyordu. (II) Burada minicik oğlaklara elimle kepek yedirmek çok hoşuma giderdi. (III) Ninemle küçük evin arkasındaki bahçeye giderdik sık sık. (IV) Ninem fideleri çapalardı, ben ağaçların altında oynardım.

**Bu metinde numaralanmış cümlelerle ilgili aşağıdakilerden hangisi söylenemez?**

- A) I. cümle fiil cümlesidir.  
B) II. cümle fiilimsi bulunan cümledir.  
C) III. cümle devrik cümledir.  
D) IV. cümle ortak ögeli bir cümledir.

18. Azim ve kararlılıkla yapılan çalışmalar insanı her zaman mutluluğa ulaştırır.

**Bu cümlede vurgulanan öge aşağıdakilerden hangisidir?**

- A) Yer tamlayıcısı  
B) Zarf tamlayıcısı  
C) Özne  
D) Belirtili nesne

19. Gölün kuzeyinde o kadar su birikmiş ki aradan  
I II  
bir hafta geçmesine rağmen ay çiçekleri hâlâ  
III  
sular altında. Bir ağaç, suyun üstünde doğal köprü rolünü üstlenmiş durumda ama geçmek çok da kolay değil.

IV

**Bu metindeki altı çizili sözlerin hangisinde yazım yanlışı vardır?**

- A) I. B) II. C) III. D) IV.

20. “Sizce mutluluk nedir ( )” diye soran birine on beş yıl önce şöyle demiştim ( ) Mutluluk insanın içini ısıtan ( ) aydınlatan bir şeydir ( )

**Bu metinde yay ayrıçla gösterilen yerlere aşağıdakilerin hangisinde verilen noktalama işaretleri sırasıyla getirilmelidir?**

- A) (?) (.) (,) (!)  
B) (?) (:) (,) (.)  
C) (.) (:) (;) (.)  
D) (,) (!) (,) (...)

**TEST BİTTİ.**

**CEVAPLARINIZI KONTROL EDİNİZ.**

27 NİSAN 2016 TARİHİNDE YAPILAN 8. SINIF 2. DÖNEM  
TÜRKÇE DERSİ MERKEZİ ORTAK SINAVI  
“A” KİTAPÇIĞI CEVAP ANAHTARI

TÜRKÇE

---

1. A
2. C
3. C
4. D
5. B
6. A
7. B
8. D
9. D
10. B
11. D
12. C
13. B
14. A
15. B
16. C
17. D
18. A
19. C
20. B



**A**  
KİTAPÇIK TÜRÜ

T.C.  
MİLLÎ EĞİTİM BAKANLIĞI  
ÖLÇME, DEĞERLENDİRME VE SINAV HİZMETLERİ GENEL MÜDÜRLÜĞÜ

**8. SINIF 2. DÖNEM**  
**MATEMATİK DERSİ**  
**MERKEZİ ORTAK SINAVI**  
27 NİSAN 2016 Saat: 10.10

Adı ve Soyadı : .....  
Sınıfı : .....  
Öğrenci Numarası : .....

**SORU SAYISI** : 20  
**SINAV SÜRESİ** : 40 Dakika

### ÖĞRENCİLERİN DİKKATİNE!

1. Sınıf öğrenci yoklama listesinde belirtilen sınıfta ve sıra numarasında oturunuz.
2. Cevap kâğıdındaki kimlik bilgilerinin doğruluğunu kontrol ediniz.
3. Kitapçık türünü cevap kâğıdındaki ilgili alana kodlayınız.
4. Cevap kâğıdı üzerindeki kodlamaları kurşun kalemle yapınız.

**SINAV BAŞLAMADAN ÖNCE**  
**KİTAPÇIĞIN ARKA KAPAĞINDAKİ UYARILARI MUTLAKA OKUYUNUZ.**



## MATEMATİK

1. Bu testte 20 soru vardır.
2. Cevaplarınızı, cevap kağıdına işaretleyiniz.

1.  $\left(\frac{3}{7}\right)^3$  sayısı aşağıdakilerden hangisine eşittir?

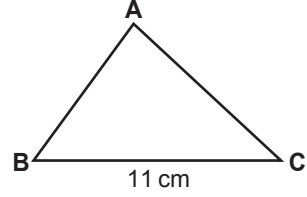
- A)  $\frac{27}{7}$                       B)  $\frac{9}{21}$   
C)  $\frac{27}{343}$                       D)  $\frac{33}{343}$

2. a ve b birer rakamdır.

$\sqrt{0,ab}$  bir rasyonel sayı olduğuna göre a aşağıdakilerden hangisi olamaz?

- A) 5                      B) 3                      C) 2                      D) 0

3.

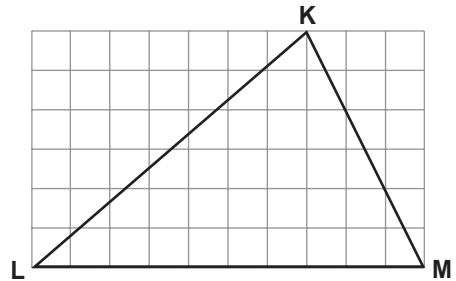


Şekildeki ABC üçgeninin çevresi santimetre cinsinden bir tam sayı ve  $|BC| = 11$  cm'dir.

Buna göre ABC üçgeninin çevresi en az kaç santimetredir?

- A) 13                      B) 14                      C) 21                      D) 23

4.

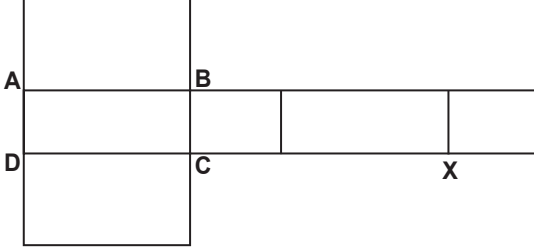
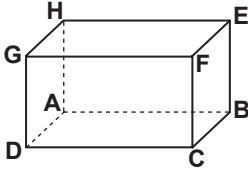


Kareli zeminde verilen KLM üçgeninde  $[LM]$  kenarına ait kenarortayın ve yüksekliğin  $[LM]$  kenarını kestiği noktalar arasındaki uzaklık 12 cm'dir.

Buna göre  $|LM|$  kaç santimetredir?

- A) 48                      B) 60                      C) 72                      D) 84

5.



Yukarıdaki şekilde bir dikdörtgenler prizması ve bu prizmanın açılımı verilmiştir.

**Buna göre açınımdaki X noktası dikdörtgenler prizmasının hangi köşesidir?**

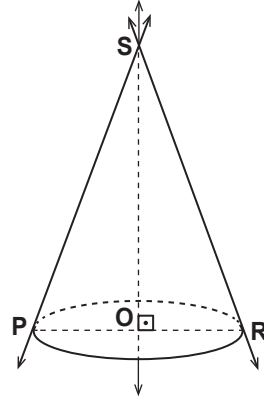
- A) G      B) F      C) E      D) H

6. DEF üçgeninin çevresinin ABC üçgeninin çevresine oranı  $\frac{2}{3}$ 'tür.

$\widehat{DEF} \sim \widehat{ABC}$  ve  $|BC| = 24$  cm olduğuna göre  $|EF|$  kaç santimetredir?

- A) 12      B) 16      C) 32      D) 36

7.



**Şekilde verilen dik koni ile ilgili;**

- I. Tepe noktası O noktasıdır.  
 II.  $[SO]$  yüksekliğidir.  
 III. Açınımı bir üçgen ve bir daireden oluşur.  
 IV. Ana doğrularından biri PS doğrusudur.

**ifadelerinden hangileri doğrudur?**

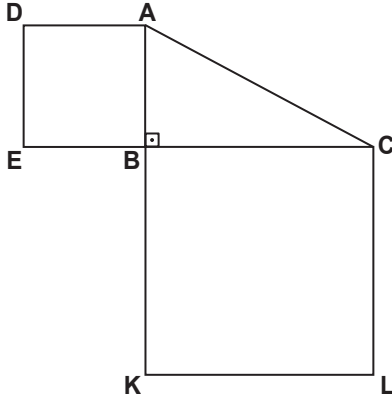
- A) I. ve II.      B) II. ve III.  
 C) II. ve IV.      D) III. ve IV.

8. Tabanı düzgün çokgen olan bir dik piramidin 7 köşesi vardır. Bu piramidin yan yüzlerinin alanları toplamı  $120 \text{ cm}^2$  ve tabanının çevresi  $24 \text{ cm}$ 'dir.

**Buna göre bu piramidin yan yüz yüksekliği kaç santimetredir?**

- A) 16      B) 15      C) 12      D) 10

9.

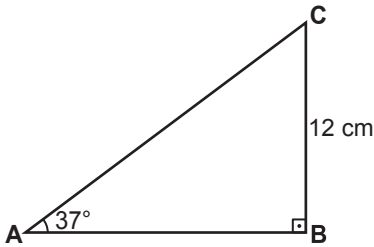


Şekildeki EBAD ve KLCB karelerinin alanları sırasıyla  $64 \text{ cm}^2$  ve  $225 \text{ cm}^2$  dir.

$[EC] \perp [AK]$  olduğuna göre  $|AC|$  kaç santimetredir?

- A) 15      B) 17      C) 21      D) 23

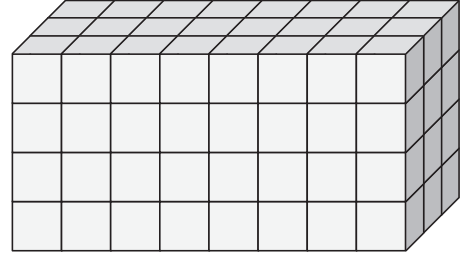
10.



Şekildeki ABC üçgeninde  $[AB] \perp [BC]$ ,  $m(\widehat{CAB}) = 37^\circ$  ve  $|CB| = 12 \text{ cm}$  olduğuna göre  $|AC|$  kaç santimetredir?  
( $\cos 53^\circ = 0,6$  kabul ediniz.)

- A) 15      B) 16      C) 20      D) 24

11.



96 birim küpten oluşan şekildeki dikdörtgenler prizmasının tüm yüzeyi boyanıyor.

**En az bir yüzü boyalı birim küpler atıldıktan sonra geriye kaç tane birim küp kalır?**

- A) 6      B) 12      C) 15      D) 16

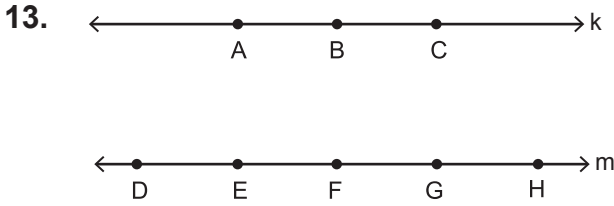
ÖLÇME, DEĞERLENDİRME VE SINAV HİZMETLERİ GENEL MÜDÜRLÜĞÜ

12.

Üç kutunun her birinde aynı özelliğe sahip, 1 ve 2 sayılarının yazılı olduğu ikişer kart vardır.

**Bu kutuların her birinden rastgele birer kart alındığında, alınan bu kartların üzerinde yazılı olan sayıların toplamının 5 olma olasılığı kaçtır?**

- A)  $\frac{1}{4}$       B)  $\frac{3}{8}$       C)  $\frac{1}{2}$       D)  $\frac{5}{8}$



Yukarıda verilen k ve m doğruları paraleldir. k doğrusu üzerinde A, B, C noktaları ve m doğrusu üzerinde D, E, F, G, H noktaları bulunmaktadır.

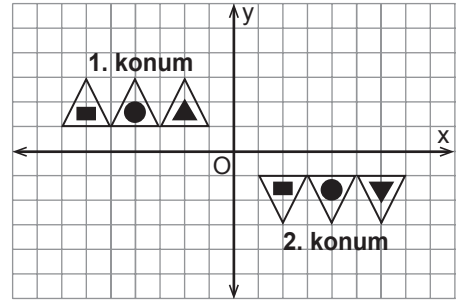
Buna göre köşeleri bu sekiz noktadan dördü olacak şekilde kaç farklı dörtgen çizilebilir?

- A) 30      B) 35      C) 60      D) 65

14. Aşağıdakilerden hangisi  $x^2 + 6y - xy - 6x$  ifadesinin çarpanlarından biridir?

- A)  $y + 6$       B)  $y - 6$   
C)  $x + 6$       D)  $x - 6$

15.



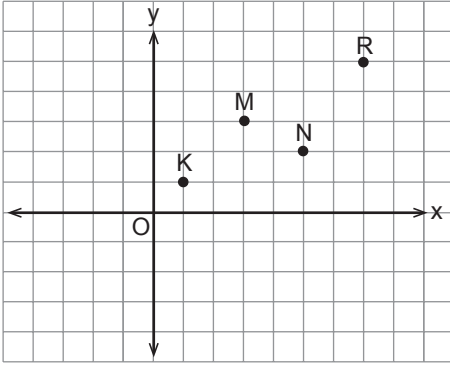
Koordinat düzleminde 1. konumdaki şeklin 2. konuma geçişi aşağıda verilen hangi iki hareket sonucu oluşmuş olabilir?

- A) x eksenine göre yansıma ve orijin etrafında saat yönünde  $180^\circ$  dönme  
B) x eksenine paralel öteleme ve x eksenine göre yansıma  
C) y eksenine göre yansıma ve x eksenine göre yansıma  
D) y eksenine paralel öteleme ve orijin etrafında saat yönünde  $180^\circ$  dönme

16.  $\frac{x^2 + x - 20}{x^2 - 16}$  cebirsel ifadesi aşağıdakilerden hangisine eşittir?

- A)  $\frac{x-5}{x+4}$       B)  $\frac{x+5}{x-4}$   
C)  $\frac{x+5}{x+4}$       D)  $\frac{x+4}{x-4}$

17.



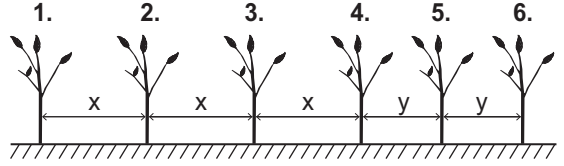
Yukarıdaki koordinat düzleminde verilen hangi iki noktadan geçen doğrunun eğimi  $\frac{1}{2}$ 'dir?

- A) R ile M                      B) M ile K  
C) R ile N                      D) N ile K

18.  $\frac{3x}{2} + \frac{5}{4} = \frac{1}{2} + \frac{x}{2}$  denklemini sağlayan x sayısı kaçtır?

- A)  $\frac{3}{4}$               B)  $\frac{1}{4}$               C)  $-\frac{1}{4}$               D)  $-\frac{3}{4}$

19.



Doğrusal bir yol boyunca şekildeki gibi 6 tane fidan dikilmiştir. Bu fidanlar arasındaki ilk üç aralığın her biri x metre, son iki aralığın her biri y metredir.

x sayısı, y sayısından 2 fazla ve 2. fidan ile 5. fidan arasındaki aralıkların uzunlukları toplamı 22 metre olduğuna göre x sayısı kaçtır?

- A) 4              B) 5              C) 7              D) 8

20.

Bozuk bir baskül, üzerindeki bir kütleyi gerçek kütesinden 2 kilograma kadar daha fazla veya 5 kilograma kadar daha az gösterebilmektedir. Bu baskülün 70 kilogram gösterdiği bir kişinin gerçek kütesi x kilogramdır.

Buna göre x'in değer alabileceği en geniş aralık aşağıdaki eşitsizliklerin hangisinde verilmiştir?

- A)  $62 \leq x \leq 65$                       B)  $65 \leq x \leq 68$   
C)  $68 \leq x \leq 75$                       D)  $72 \leq x \leq 75$

**27 NİSAN 2016 TARİHİNDE YAPILAN 8. SINIF 2. DÖNEM  
MATEMATİK DERSİ MERKEZİ ORTAK SINAVI  
“A” KİTAPÇIĞI CEVAP ANAHTARI**

**MATEMATİK**

---

1. C
2. A
3. D
4. B
5. A
6. B
7. C
8. D
9. B
10. C
11. B
12. B
13. A
14. D
15. B
16. C
17. A
18. D
19. D
20. C



**A**  
KİTAPÇIK TÜRÜ

T.C.  
MİLLÎ EĞİTİM BAKANLIĞI  
ÖLÇME, DEĞERLENDİRME VE SINAV HİZMETLERİ GENEL MÜDÜRLÜĞÜ

**8. SINIF 2. DÖNEM**  
**FEN VE TEKNOLOJİ DERSİ**  
**MERKEZİ ORTAK SINAVI**  
28 NİSAN 2016 Saat: 09.00

Adı ve Soyadı : .....  
Sınıfı : .....  
Öğrenci Numarası : .....

**SORU SAYISI** : 20  
**SINAV SÜRESİ** : 40 Dakika

**ÖĞRENCİLERİN DİKKATİNE!**

1. Sınıf öğrenci yoklama listesinde belirtilen sınıfta ve sıra numarasında oturunuz.
2. Cevap kâğıdındaki kimlik bilgilerinin doğruluğunu kontrol ediniz.
3. Kitapçık türünü cevap kâğıdındaki ilgili alana kodlayınız.
4. Cevap kâğıdı üzerindeki kodlamaları kurşun kalemle yapınız.

**SINAV BAŞLAMADAN ÖNCE**  
**KİTAPÇIĞIN ARKA KAPAĞINDAKİ UYARILARI MUTLAKA OKUYUNUZ.**

## FEN VE TEKNOLOJİ

1. Bu testte 20 soru vardır.
2. Cevaplarınızı, cevap kağıdına işaretleyiniz.

1.

2015 Nobel Kimya Ödülü bilim insanımız Prof. Dr. Aziz Sancar'a, DNA onarım mekanizmalarıyla ilgili yaptığı çalışmalarından dolayı verilmiştir.



Prof. Dr. Sancar, DNA üzerinde zararlı mutasyonların oluşmaması için;

- Dengeli beslenme
- Düzenli spor yapma
- Sigara ve alkolden kaçınma
- Uyku düzenini koruma
- Ultraviyole gibi zararlı ışıklardan korunma


şeklindeki faktörlerin, DNA onarımını düzenleyen ve kontrol eden maddelerin üretimini artırdığını belirlemiştir.

**Bir dergide Prof. Dr. Aziz Sancar'ın çalışmalarıyla ilgili olarak verilen bu bilgiye göre aşağıdaki yorumlardan hangisi yanlıştır?**

- A) Çevresel faktörlere bağlı olarak DNA yapısında zararlı mutasyon ortaya çıkabilir.
- B) DNA onarımını düzenleyen ve kontrol eden maddelerin üretimi artırılabilir.
- C) İnsanlar yaşam koşullarını ve alışkanlıklarını düzenleyerek zararlı mutasyon oluşmasını önleyebilir.
- D) DNA üzerinde çoğunlukla yararlı mutasyonlar meydana gelir.

2.

Bir öğrenci bitkilerin gelişimine etki eden bazı koşulları araştırmak için aşağıdaki düzenekleri hazırlıyor. Düzeneklerde saksı bitkileri, toprak özellikleri ve miktarları özdeş olup hepsine aynı miktarda su verilmektedir.



**Öğrenci bu düzenekleri kullanarak bu bitki türünün gelişiminde,**

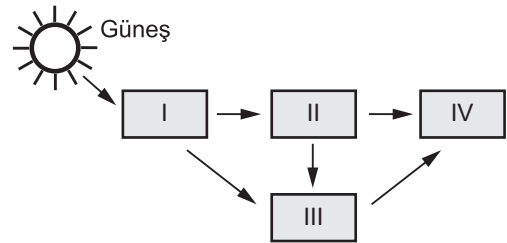
- I. Işık
- II. Sıcaklık
- III. Su

**faktörlerinden hangilerinin etkilerini araştırabilir?**

- A) Yalnız I.
- B) I ve II.
- C) II ve III.
- D) I, II ve III.

3.

Şemada bir besin ağında yer alan canlıların yeri numaralı kartlarla belirtilmiştir. Bu canlıların besin ağındaki rolü kartlara yazılacaktır.

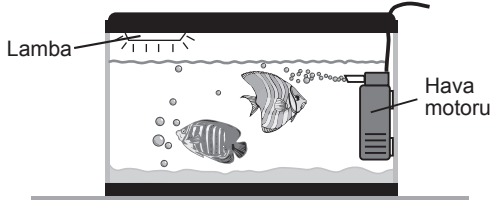


**Buna göre, "Enerji ihtiyacını sadece üreticiden karşılamaktadır." ifadesi kaç numaralı karta yazılmalıdır?**

- A) I.
- B) II.
- C) III.
- D) IV.



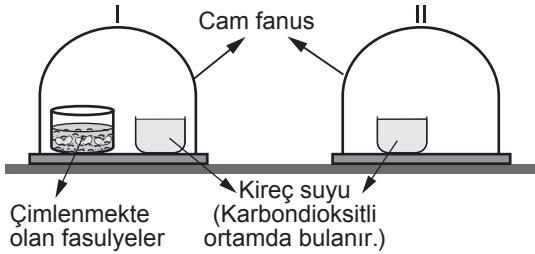
4. Mehmet, ışığı sürekli yanan akvaryumunda balık beslemektedir. Bir gün, dışarıdaki havayı akvaryumdaki suya püskürten hava motoru bozulur.



Buna göre yaşadıkları ortamda sürekli oksijene ihtiyacı olan bu balıkların yaşamına devam edebilmesi için, Mehmet aşağıdakilerden hangisini yapmalıdır?

- A) Akvaryuma su bitkileri ve alg koymalıdır.  
B) Akvaryumdaki balık sayısını artırmalıdır.  
C) Akvaryuma su salyangozları koymalıdır.  
D) Akvaryuma kurbağa koymalıdır.

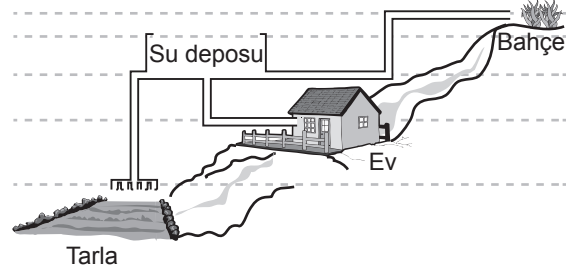
5. Bir deney için özdeş cam fanuslar ve kireç suları ile şekildedeki düzenek hazırlanmıştır.



Bu deneyle ilgili aşağıdaki ifadelerden hangisi doğrudur?

- A) Her iki fanusa birer fare konursa I.'de oluşan karbondioksitin kaynağı anlaşılır, II.'de oluşan karbondioksitin kaynağı anlaşılmaz.  
B) Düzenek fotosentezde karbondioksit kullanıldığını gözlemlemek için hazırlanmış olup güneş ışığı alan ortama konulmalıdır.  
C) I. fanus fotosentezde gaz çıkışını, II. fanus solunumda gaz çıkışını gözlemlemek için hazırlanmıştır.  
D) Düzenek canlının solunum sırasında ortamda karbondioksit verdiğini gözlemlemek için hazırlanmıştır.

6. Bir çiftçi yağmur suyunu depolayarak tarlasında, evinde ve bahçesinde kullanmak üzere şekilde görüldüğü gibi bir düzenek tasarlıyor.



Buna göre çiftçi depoladığı yağmur suyunu başka bir malzeme kullanmadan sadece tasarladığı bu düzenekle aşağıdakilerin hangilerinde kullanabilir?

- A) Yalnız tarla  
B) Bahçe ve ev  
C) Tarla ve ev  
D) Tarla, ev ve bahçe

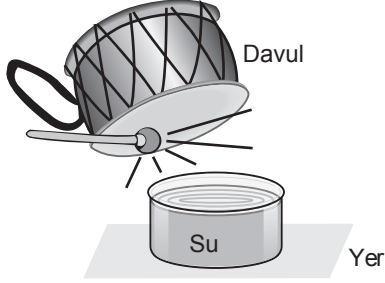
7. Aşağıda öğrencilerin günlük hayatta kullandıkları ifadeler verilmiştir.



Bu öğrencilerin ifadelerinde sesin şiddet ve yükseklik özelliklerinden hangileri vurgulanmıştır?

- |              | <u>Zeynep</u> | <u>Önder</u> | <u>Emel</u> |
|--------------|---------------|--------------|-------------|
| A) Şiddet    | Şiddet        | Yükseklik    | Yükseklik   |
| B) Şiddet    | Yükseklik     | Yükseklik    | Yükseklik   |
| C) Yükseklik | Şiddet        | Yükseklik    | Yükseklik   |
| D) Şiddet    | Yükseklik     | Şiddet       | Şiddet      |

8. Kap içerisindeki suya davul yaklaştırılarak şekilde gösterildiği gibi tokmakla vuruluyor. Ortaya çıkan sesin etkisiyle suyun titreştiği gözleniyor.



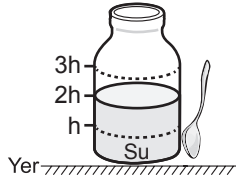
**Yalnızca** bu gözlemden yola çıkılarak;

- I. Ses, katılarda sıvılara göre daha hızlı yayılır.
- II. Ses bir enerji türüdür.
- III. Ses, maddesiz ortamda yayılmaz.

**yargılarından hangilerine ulaşılabilir?**

- A) Yalnız I.
- B) Yalnız II.
- C) I ve III.
- D) I, II ve III.

9. Bir öğrenci, içinde 2h yüksekliğinde su bulunan ağız açık cam şişeye şekildeki gibi çay kaşığı ile vurup çıkan sesi dinliyor.

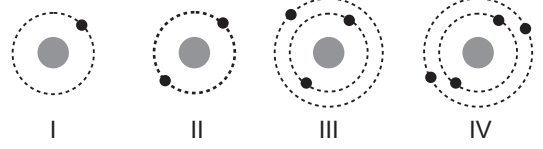


Öğrenci şişeye aynı noktadan vurarak duyduğu sesin hem frekansını hem de genliğini arttırmak istiyor.

**Buna göre aşağıdakilerden hangisini yapması uygun olur?**

- A) Şişeye 3h yüksekliğine kadar su ekleyip daha kuvvetli vurmali
- B) Şişeye 3h yüksekliğine kadar su ekleyip daha zayıf vurmali
- C) Şişedeki su miktarını h yüksekliğine kadar azaltıp daha kuvvetli vurmali
- D) Şişedeki su miktarını h yüksekliğine kadar azaltıp daha zayıf vurmali

10. Aşağıdaki şekillerde nötr hâlde dört farklı element atomunun katman - elektron dizilimleri verilmiştir.



**Bu elementlerden hangileri periyodik tabloda aynı grupta yer alır?**

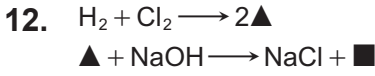
- A) I ve II.
- B) I ve III.
- C) II ve IV.
- D) III ve IV.

11. Tabloda X, Y, Z ve T elementlerinin son katmanlarındaki elektron sayıları ve bileşiklerinde yaptıkları bağ türleri verilmiştir.

Element	Son katmanındaki elektron sayısı	Yaptığı bağ türü
$_{12}\text{X}$	2	İyonik
$_{13}\text{Y}$	3	İyonik
$_{8}\text{Z}$	6	İyonik veya kovalent
$_{17}\text{T}$	7	İyonik veya kovalent

**Buna göre hangi iki element arasında bileşik oluşmaz?**

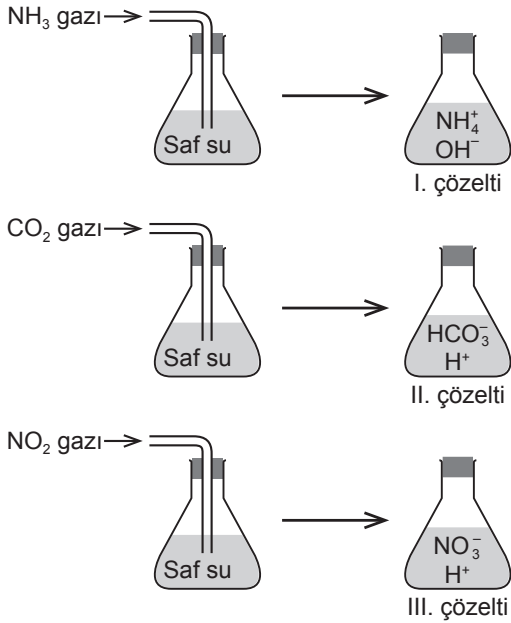
- A) Z ile T
- B) Z ile Y
- C) X ile T
- D) X ile Y



Verilen denkleştirilmiş tepkime denklemlerinde  $\blacktriangle$  ve  $\blacksquare$  yerine aşağıdakilerin hangisinde verilenler yazılmalıdır?

- | $\blacktriangle$                  | $\blacksquare$                |
|-----------------------------------|-------------------------------|
| A) HCl                            | H <sub>2</sub> O              |
| B) HCl                            | H <sub>2</sub> O <sub>2</sub> |
| C) H <sub>2</sub> Cl <sub>2</sub> | H <sub>2</sub> O <sub>2</sub> |
| D) H <sub>2</sub> Cl <sub>2</sub> | H <sub>2</sub> O              |

13. İçlerinde eşit miktarda ve aynı sıcaklıkta saf su bulunan özdeş kaplara şekillerdeki gazlar gönderilerek farklı çözeltiler oluşturuluyor.

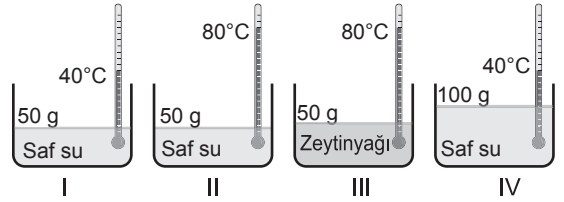


Aynı sıcaklıkta oluşan bu çözeltilerle ilgili olarak aşağıdakilerden hangisi doğrudur?

- A) II. çözelti ele kayganlık hissi verir.  
 B) III. çözelti kırmızı turnusol kâğıdını maviye çevirir.  
 C) I. çözeltinin pH değeri diğerlerinden daha büyüktür.  
 D) II ve III. çözeltiler karıştırılırsa nötrleşme tepkimesi gerçekleşir.

14. Bilgi: Aynı ortamdaki başlangıç sıcaklıkları aynı olan saf bir maddenin farklı miktarlarını ısıtarak son sıcaklıklarını da eşitlemek için kütlesi büyük olana daha fazla ısı verilmesi gerekir.

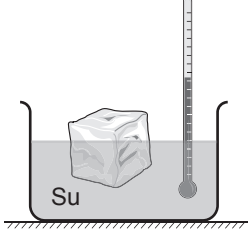
Zeynep bu durumu gözlemlemek için özdeş kap ve termometreler kullanarak şekildeki gibi dört farklı düzenek hazırlıyor.



Zeynep bu bilgiyi doğrulamak için aşağıdaki deneylerden hangisini yapmalıdır?

- A) I ve IV. düzenekleri birer adet özdeş ısıtıcıyla 80°C'a kadar ısıtıp geçen süreleri karşılaştırmalıdır.  
 B) II. düzeneği iki, IV. düzeneği bir adet özdeş ısıtıcı ile eşit süre ısıtıp sıvıların son sıcaklıklarını karşılaştırmalıdır.  
 C) I. düzeneği bir, II. düzeneği iki adet özdeş ısıtıcı ile eşit süre ısıtıp sıvıların son sıcaklıklarını karşılaştırmalıdır.  
 D) II ve III. düzenekleri birer adet özdeş ısıtıcıyla 100°C'a kadar ısıtıp geçen süreleri karşılaştırmalıdır.

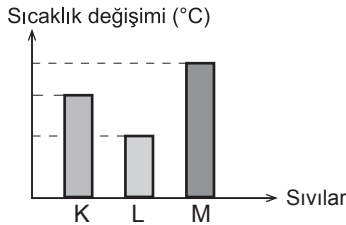
15. Bir öğrenci yaptığı deneyde sıcaklığı  $0^{\circ}\text{C}$  olan buz parçasını şekildeki gibi  $50^{\circ}\text{C}$ 'daki suyun içerisine bırakıyor. Birer dakika arayla suyun sıcaklığını ölçüyor ve gözlemlerini kaydediyor.



10. dakika sonunda öğrencinin aşağıdaki durumlardan hangisini gözlemlene ihtimali yoktur?

- A) Buzun tamamen erimesi, termometrenin  $10^{\circ}\text{C}$ 'u göstermesi  
 B) Buzun bir kısmının erimesi, termometrenin  $30^{\circ}\text{C}$ 'u göstermesi  
 C) Buzun bir kısmının erimesi, termometrenin  $40^{\circ}\text{C}$ 'u göstermesi  
 D) Buzun tamamen erimesi, termometrenin  $50^{\circ}\text{C}$ 'u göstermesi

16. Başlangıç sıcaklıkları ve miktarları aynı olan saf K, L, M sıvıları özdeş kaplara konularak özdeş ısıtıcılarla eşit süre ısıtılıyor. Aynı ortamdaki bu sıvıların sıcaklık değişimleri grafikteki gibidir.



Buna göre aşağıdaki ifadelerden hangisi doğrudur?

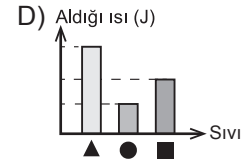
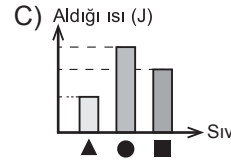
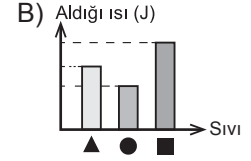
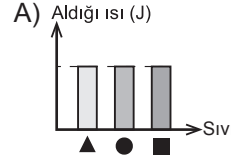
- A) Sıvıların kaynama noktaları aynıdır.  
 B) K, L, M aynı maddelerdir.  
 C) M'nin öz ısısı K'den azdır.  
 D) Öz ısısı en az olan L'dir.

17. Saf ▲, ●, ■ sıvılarının buharlaşma ısıları tablodaki gibidir.

Sıvı	Buharlaşma ısısı (J/g)
▲	2257,00
●	520,41
■	854,97

Aynı ortamda bulunan özdeş kaplardaki bu sıvıların eşit miktarları kaynamaya başladıkları andan itibaren tamamen buharlaşmaya kadar ısıtılıyor.

Bu işlem tamamlanmaya kadar sıvıların alacakları ısı miktarları ile ilgili grafik aşağıdaki-lerden hangisi olabilir?



18. Aynı ortamda aşağıdaki özdeş kaplarda bulunan saf sulardan bazılarına, belirtilen miktarlarda yemek tuzu ekleniyor. Eklenen tuzların tamamen çözünmesi sağlanıyor.

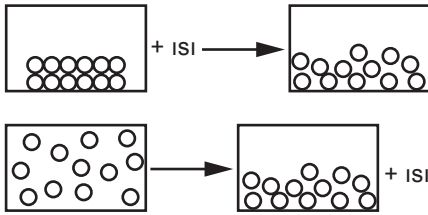
A) 5 g yemek tuzu  
40 g saf su

B) 10 g yemek tuzu  
40 g saf su

C) 20 g saf su

D) 3 g yemek tuzu  
20 g saf su

19. Bir maddenin hâl değişimi şekillerde gösterilmiştir.



Bu madde ile ilgili aşağıda verilen;

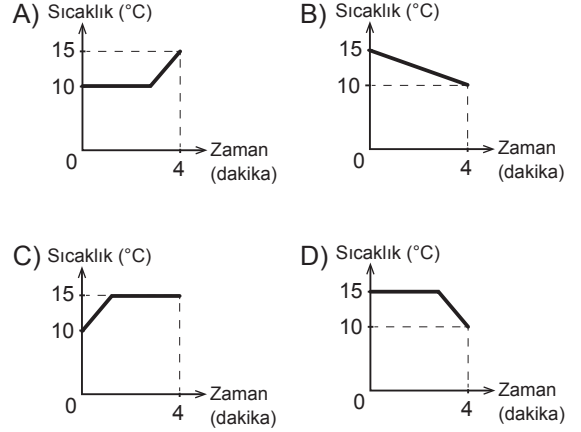
- I. Madde katı hâlden sıvı hâle geçerken ısı almıştır.
- II. Isı alan maddenin tanecikler arası bağları zayıflamıştır.
- III. Isı veren maddenin tanecikleri arası çekim kuvveti azalmıştır.

bilgilerinden hangileri doğrudur?

- A) Yalnız I.                      B) I ve II.  
C) II ve III.                      D) I, II ve III.

20. Saf K maddesinin  $10^{\circ}\text{C}$ 'ta erimeye başladığı bilinmektedir. Madde katı hâlde ve ilk sıcaklığı  $10^{\circ}\text{C}$  iken ısıtılmaya başlandıktan 4 dakika sonra maddenin sıcaklığı  $15^{\circ}\text{C}$ 'a ulaşıyor.

K maddesinin ısıtılmaya başlandığı andan itibaren geçen 4 dakika için çizilecek sıcaklık - zaman grafiği aşağıdakilerden hangisi gibi olabilir?



TEST BİTTİ.  
CEVAPLARINIZI KONTROL EDİNİZ.

**28 NİSAN 2016 TARİHİNDE YAPILAN 8. SINIF 2. DÖNEM  
FEN VE TEKNOLOJİ DERSİ MERKEZİ ORTAK SINAVI  
“A” KİTAPÇIĞI CEVAP ANAHTARI**

**FEN VE TEKNOLOJİ**

---

1. D
2. B
3. B
4. A
5. D
6. C
7. A
8. B
9. C
10. B
11. D
12. A
13. C
14. A
15. D
16. C
17. D
18. C
19. B
20. A



**A**  
KİTAPÇIK TÜRÜ

T.C.  
MİLLÎ EĞİTİM BAKANLIĞI  
ÖLÇME, DEĞERLENDİRME VE SINAV HİZMETLERİ GENEL MÜDÜRLÜĞÜ

**8. SINIF 2. DÖNEM**  
**T.C. İNKILAP TARİHİ VE ATATÜRKÇÜLÜK DERSİ**  
**MERKEZİ ORTAK SINAVI**  
**28 NİSAN 2016 Saat: 10.10**

Adı ve Soyadı : .....  
Sınıfı : .....  
Öğrenci Numarası : .....

**SORU SAYISI** : 20  
**SINAV SÜRESİ** : 40 Dakika

**ÖĞRENCİLERİN DİKKATİNE!**

1. Sınıf öğrenci yoklama listesinde belirtilen sınıfta ve sıra numarasında oturunuz.
2. Cevap kâğıdındaki kimlik bilgilerinin doğruluğunu kontrol ediniz.
3. Kitapçık türünü cevap kâğıdındaki ilgili alana kodlayınız.
4. Cevap kâğıdı üzerindeki kodlamaları kurşun kalemle yapınız.

**SINAV BAŞLAMADAN ÖNCE**  
**KİTAPÇIĞIN ARKA KAPAĞINDAKİ UYARILARI MUTLAKA OKUYUNUZ.**

## T.C. İNKILAP TARİHİ VE ATATÜRKÇÜLÜK

1. Bu testte 20 soru vardır.
2. Cevaplarınızı, cevap kağıdına işaretleyiniz.

**1. Atatürk'ün çocukluk dönemini yaşadığı Selanik'in taşıdığı özelliklerden bazıları şunlardır:**

- I. Farklı milletler bir arada yaşamıştır.
- II. Önemli fikir akımlarının etkisindedir.
- III. Zengin bir basın-yayın hayatı vardır.
- IV. Çok uluslu bir yapıya sahiptir.

**Bu bilgilerin sosyal ve kültürel özellikler olarak sınıflandırılması aşağıdakilerin hangisinde doğru yapılmıştır?**

	SOSYAL	KÜLTÜREL
A)	I ve II.	III ve IV.
B)	I ve IV.	II ve III.
C)	II ve III.	I ve IV.
D)	II ve IV.	I ve III.

**2. Kurtuluş Savaşı'nın Hazırlık Dönemi'nde alınan aşağıdaki kararların hangisinde, Millî Mücadele'nin millet iradesiyle kazanılacağı vurgulanmıştır?**

- A) Vatanın bütünlüğü, milletin bağımsızlığı tehlikededir.
- B) Millî sınırlar içinde vatan bir bütündür, parçalanamaz.
- C) Milletin bağımsızlığını yine milletin azim ve kararı kurtaracaktır.
- D) Azınlıklara siyasi hâkimiyet ve sosyal dengeyi bozacak haklar verilemez.

**3. Fransa, Ankara Antlaşması'nı imzalayarak TBMM'yi resmen tanımıştır. Bunun sonucu olarak Güney Cephesi kapanmış, bu bölgedeki kaynaklar Batı Cephesi'ne kaydırılmıştır.**

**Buna göre aşağıdakilerden hangisi söyle-nemez?**

- A) Millî Mücadele'deki cephe sayısı azalmıştır.
- B) Yunanlılar mücadeleden vazgeçmiştir.
- C) Batı Cephesi güçlenmiştir.
- D) TBMM itibar kazanmıştır.

**4. Mustafa Kemal, Kurtuluş Savaşı'nın en buhranlı günlerinde düzenlenen Maarif Kongresi'ndeki konuşmasında "... eğitim programımız eski devrin saçma sapan ve yaratılış özelliklerimizle hiç de ilgisi olmayan yabancı düşüncelerden, Doğu'dan ve Batı'dan gelebilen etkilerden uzak, tarihî karakterimize uygun olmalıdır..." demiştir.**

**Mustafa Kemal bu sözleriyle eğitimin, aşağıdaki özelliklerden hangisine sahip olması gerektiğini vurgulamıştır?**

- A) Millî
- B) Karma
- C) Dinî
- D) Uygulamalı



5. Mustafa Kemal Paşa, Başkomutanlık Yasası'nın kendisine verdiği yetkiye dayanarak yayımladığı Tekâlifimillîye Emirleri'yle, ordunun ihtiyaçlarını karşılamayı amaçlamıştır. Halkımız da tüm yoksulluğuna rağmen bu emirlere gönülden uyarak orduyu desteklemiştir.

**Bu durum Türk milletinin;**

- I. Millî birlik ve beraberlik
- II. Yardımlaşma
- III. Dayanışma
- IV. Millî egemenlik

**anlayışlarından hangilerine sahip olduğunu gösterir?**

- A) Yalnız I.
- B) I ve IV.
- C) III ve IV.
- D) I, II ve III.

6. Sakarya Savaşı'nda "Başkomutan" olarak ordunun başında bulunan Mustafa Kemal Paşa, savaş sırasında orduya verdiği "Savunma hattı yoktur, savunma sathı vardır. O satıh, bütün vatandır. Vatanın her karış toprağı vatandaşın kanıyla ıslanmadıkça terk olunamaz." emriyle dünya askerlik literatürüne "Topyekûn Savaş" kavramını kazandırmıştır.

**Mustafa Kemal Paşa'nın savaşın kazanılmasında etkili olan bu emri, onun aşağıdaki özelliklerinden hangisini yansıtmaz?**

- A) Yaratıcı düşüncesini
- B) Askerî dehasını
- C) Çağdaşlığını
- D) Kararlılığını

7. • I. İnönü Zaferi'nden sonra Büyük Millet Meclisi İtilaf Devletleri tarafından Londra Konferansı'na davet edilmiştir. Sovyet Rusya'yla da Moskova Antlaşması imzalanmıştır.
- Sakarya Savaşı'nın kazanılmasından sonra Büyük Millet Meclisi ile Fransa arasında Ankara Antlaşması yapılmıştır.

**Bu bilgilerden çıkarılabilecek en kapsamlı sonuç aşağıdakilerden hangisidir?**

- A) Büyük Millet Meclisinin dış politikasını ekonomik gelişmeler belirlemiştir.
- B) Askerî başarılar Büyük Millet Meclisinin uluslararası alanda itibarını artırmıştır.
- C) I. İnönü Savaşı, Sovyet Rusya'nın Büyük Millet Meclisi ile siyasi ilişkisini etkilemiştir.
- D) Sakarya Savaşı, Büyük Millet Meclisinin Fransa tarafından tanınmasında etkili olmuştur.

8. • TBMM'nin açılması
- Saltanatın kaldırılması
- Cumhuriyetin ilan edilmesi

**Verilenler, aşağıdaki vecizelerden hangisinin başlığı altında toplanabilir?**

- A) Hayatta en hakiki mürşit ilimdir.
- B) Cumhuriyetin temeli millî kültürdür.
- C) Egemenlik kayıtsız şartsız milletindir.
- D) Öğretmenler yeni nesil sizin eseriniz olacaktır.

9. Sevr Antlaşması'nın, Türk milletinin ekonomik bağımsızlığını elinden alan kararları, Lozan Antlaşması ile ortadan kaldırılmaya çalışılmıştır.

**Lozan Antlaşması'nın aşağıdaki kararlarından hangisi bunun bir göstergesidir?**

- A) Türkiye-Yunanistan sınırı Meriç Nehri kabul edilecek.
- B) Boğazların her iki yakası askerden arındırılacak.
- C) Gayrimüslimler Türk vatandaşı sayılacak.
- D) Kapitülasyonlar kesin olarak kaldırılacak.

10. 17 Şubat 1923 tarihinde toplanan İzmir İktisat Kongresi'nde;

- Yabancı şirketlerin elindeki işletmeler devlet tarafından satın alınmalıdır.
- Ham maddesi yurt içinde bulunan sanayi dalları kurulmalıdır.

**kararlarının alınmasıyla aşağıdakilerden hangisi amaçlanmıştır?**

- A) Millî ve bağımsız ekonominin kurulması
- B) Millî eğitimin gerçekleştirilmesi
- C) Millî egemenliğin sağlanması
- D) Millî kültürün geliştirilmesi

11. Ankara, Anadolu'nun merkezinde yer alması, ulaşım yolları üzerinde bulunması ve savunmaya elverişli olması nedeniyle başkent yapıldı.

**Bu bilgiye göre Ankara'nın başkent yapılmasında;**

- I. Askerî
- II. Tarihî
- III. Coğrafi

**nedenlerden hangilerinin etkili olduğu söylenebilir?**

- A) Yalnız I.
- B) I ve II.
- C) I ve III.
- D) I, II ve III.

12. "Eğitim öğretimde birlik olmadıkça aynı fikirde, aynı düşünüş biçiminde bireylerden oluşmuş bir millet yapmaya imkân aramak boş şeylerle uğraşmak olmaz mıydı?"

**Mustafa Kemal Paşa bu ifadesiyle aşağıdaki inkılaplardan hangisinin gerekçesini belirtmiştir?**

- A) Tevhid-i Tedrisat Kanunu'nun çıkarılmasının
- B) Yeni Türk harflerinin kabul edilmesinin
- C) Türk Tarih Kurumunun açılmasının
- D) Türk Dil Kurumunun kurulmasının

**13. Türk Medenî Kanunu'na göre;**

- Evlenme yalnız erkeğin değil, kadının da onayı alınarak gerçekleşecek ve ailede kadın ile erkeğin hakları eşit olacak,
- Mirastan pay alma ve mahkemelerde tanıklık yapma konularında kadınlar erkeklerle eşit olacak,
- Kadınların istediği alanda eğitim alma, erkeklerle aynı işlerde çalışma ve eşit ücret alma hakkı olacaktı.

**Bu bilgiden Medenî Kanun'la kadınların hangi alanda hak elde ettiği çıkarılamaz?**

- A) Ekonomik                      B) Sosyal  
C) Hukuksal                      D) Siyasal

**14. 1 Ocak 1935'te yürürlüğe giren Soyadı Kanunu'na göre;**

- Her Türk vatandaşı bütün uygar toplumlar da olduğu gibi öz adından başka bir soyadı alacaktır.
- Seçilecek soyadın Türkçe olmasına dikkat edilecek; rütbe, makam, yabancı ırk ve millet belirten tanımlamalar içermeyecektir.

**Verilen bilgiye göre Soyadı Kanunu'yla aşağıdakilerden hangisi amaçlanmamıştır?**

- A) Millî egemenlik              B) Millî kimlik  
C) Toplumsal eşitlik         D) Çağdaşlık

**15. "Başladığımız inkılap ve yenilik bir an bile durmayacaktır, bizden sonraki devirlerde de böyle olacaktır."**

**Atatürk'ün bu sözü Atatürkçü düşünce sisteminin hangi yönünü vurgulamaktadır?**

- A) Ulusallığını                      B) Dinamikliğini  
C) Demokratikliğini                D) Bilimselliğini

**16. Osmanlı Devleti, 18. yüzyılda İngiltere'de buhar makinesinin icadıyla ortaya çıkan Sanayi İnkılabı'na ayak uyduramadığından Avrupa ülkelerinin açık pazarı hâline gelmişti. Ticari hayatı da azınlıkların ve yabancı ülke vatandaşlarının eline geçmişti.**

**Bu durum Atatürkçü düşünce sistemindeki;**

- I. Çağdaşlaşma  
II. Millî ekonomi  
III. Millî egemenlik  
IV. Millî birlik ve beraberlik

**anlayışlarından hangilerinin oluşumunda rol oynamıştır?**

- A) Yalnız I.                              B) I ve II.  
C) II ve III.                              D) III ve IV.

**17. Cumhuriyetçilik ilkesinin gereği olarak;**

- Saltanat kaldırılmış,
- Cumhuriyet ilan edilmiş,
- Vatandaş seçme ve seçilme hakkı tanınmıştır.

**Bu yeniliklerden hareketle cumhuriyetçilik ilkesi Türk toplumuna aşağıdakilerden hangisini sağlamıştır?**

- A) Millî eğitimde birliği
- B) Din ve vicdan hürriyetini
- C) Gelir dağılımında eşitliği
- D) Yönetimde söz sahibi olmayı

**18. Atatürk'ün "Türkiye Cumhuriyeti'ni kuran Türkiye halkına Türk milleti denir." sözü, milliyetçilik ilkesinin aşağıdaki özelliklerinden hangisiyle ilgilidir?**

- A) Birleştirici
- B) Akılcı
- C) Çağdaş
- D) Özgürlükçü

**19. Gelir düzeyi ne olursa olsun herkesin aynı eğitim fırsatlarına sahip olması, aşağıdaki Atatürk ilkelerinden hangisiyle ilişkilidir?**

- A) Devletçilik
- B) Laiklik
- C) Halkçılık
- D) Cumhuriyetçilik

**20. Laiklik ilkesi doğrultusunda yapılan inkılaplardan bazıları şunlardır:**

- Saltanata son verilmesi
- Halifeliğin kaldırılması
- Tevhid-i Tedrisat Kanunu'nun kabul edilmesi

**Buna göre "Laiklik" ilkesinin;**

- I. Ekonomi
- II. Siyaset
- III. Eğitim
- IV. Yönetim

**alanlarının hangilerinde bir değişim meydana getirdiği söylenebilir?**

- A) Yalnız II.
- B) I ve III.
- C) I ve IV.
- D) II, III ve IV.

**TEST BİTTİ.**

**CEVAPLARINIZI KONTROL EDİNİZ.**

**28 NİSAN 2016 TARİHİNDE YAPILAN 8. SINIF 2. DÖNEM  
T.C İNKILAP TARİHİ VE ATATÜRKÇÜLÜK DERSİ MERKEZİ ORTAK SINAVI  
“A” KİTAPÇIĞI CEVAP ANAHTARI**

**T.C İNKILAP TARİHİ VE ATATÜRKÇÜLÜK**

1. B
2. C
3. B
4. A
5. D
6. C
7. B
8. C
9. D
10. A
11. C
12. A
13. D
14. A
15. B
16. B
17. D
18. A
19. C
20. D



**A**  
KİTAPÇIK TÜRÜ

T.C.  
MİLLÎ EĞİTİM BAKANLIĞI  
ÖLÇME, DEĞERLENDİRME VE SINAV HİZMETLERİ GENEL MÜDÜRLÜĞÜ

**8. SINIF 2. DÖNEM**  
**DİN KÜLTÜRÜ VE AHLAK BİLGİSİ DERSİ**  
**MERKEZİ ORTAK SINAVI**  
27 NİSAN 2016 Saat: 11.20

Adı ve Soyadı : .....  
Sınıfı : .....  
Öğrenci Numarası : .....

**SORU SAYISI** : 20  
**SINAV SÜRESİ** : 40 Dakika

**ÖĞRENCİLERİN DİKKATİNE!**

1. Sınıf öğrenci yoklama listesinde belirtilen sınıfta ve sıra numarasında oturunuz.
2. Cevap kâğıdındaki kimlik bilgilerinin doğruluğunu kontrol ediniz.
3. Kitapçık türünü cevap kâğıdındaki ilgili alana kodlayınız.
4. Cevap kâğıdı üzerindeki kodlamaları kurşun kalemle yapınız.

**SINAV BAŞLAMADAN ÖNCE**  
**KİTAPÇIĞIN ARKA KAPAĞINDAKİ UYARILARI MUTLAKA OKUYUNUZ.**

## DİN KÜLTÜRÜ VE AHLAK BİLGİSİ

1. Bu testte 20 soru vardır.
2. Cevaplarınızı, cevap kağıdına işaretleyiniz.

1. “Bir genç, ihtiyar bir kimseye yaşı sebebiyle ikramda bulunursa Allah yaşlılığında ona ikram edecek kimseleri mutlaka takdir eder.”

**Bu hadiste verilen mesaj aşağıdaki ayetlerin hangisinde vurgulanmaktadır?**

- A) “O gün, ne mal fayda verir ne de evlat.”  
(Şu’arâ suresi, 88. ayet)
- B) “İyilik ederseniz kendinize iyilik etmiş olursunuz...”  
(İsrâ suresi, 7. ayet)
- C) “Güzel söz ve bağışlama, arkasından incitme gelen sadakadan daha iyidir...”  
(Bakara suresi, 263. ayet)
- D) “Ey iman edenler! Allah’ın size helâl kıldığı iyi ve temiz nimetleri (kendinize) haram etmeyin...”  
(Mâide suresi, 87. ayet)

2. I. Bilginin doğruluğuna önem vermek  
II. Atalarından gördüğünü aynen yapmak  
III. Yaratılış amacını düşünmek  
IV. Duyduklarını sorgulamadan kabullenmek

**Yukarıda numaralanmış ifadelerden hangileri Kur’an’ın akli kullanmaya yönelik tavsiyelerine uygundur?**

- A) I ve III.                      B) I ve IV.  
C) II ve III.                     D) II ve IV.

3. **Aşağıdakilerden hangisi kurbanın sosyal dayanışma yönü ile ilgili değildir?**

- A) Fakirler ile paylaşılması  
B) Misafirlere ikram edilmesi  
C) Eziyet edilmeden kurban edilmesi  
D) Derisinin hayır kurumlarına bağışlanması

4. Bilge bir kişi vezire giderek kötü alışkanlıkların yaygınlaşıp ahlaki yapının bozulduğunu dile getirir ve bu konuda tedbir alınmasını ister. Vezir ise her koyunun kendi bacağından asılacağını ve bu işe karışmamasını söyler. Bilge kişi de bir koyunu keserek vezirin evinin karşısındaki ağaca asar. Koyun zamanla kokmaya başlar ve kokusu vezire kadar ulaşır. Bunu, bilge kişinin yaptığını öğrenen vezir hatasını anlar.

**Buna göre bilge kişinin verdiği mesaj aşağıdakilerden hangisidir?**

- A) Kötü alışkanlıkları önlemek için iyi örnekler oluşturulmalıdır.  
B) Vezirler, halka karşı fedakarca davranmalıdır.  
C) Aileler kötü alışkanlıklara yönelik tedbir almalıdır.  
D) Kötülüğün bireye olduğu kadar topluma da zararı dokunacağı bilinmelidir.

5. Ayşe Öğretmen derste kul hakkı konusunu işlemiştir. Anlatılanlardan çok etkilenen Bahadır, bu konuda hatalı olduğunu fark ettiği bazı davranışlarını düzeltme ve hayatında birtakım değişiklikler yapma kararı alır. Ve kendi kendine şöyle söz verir: - - - -

**Bu metin anlam bütünlüğü dikkate alındığında aşağıdakilerden hangisiyle bitirilemez?**

- A) Kantinde sıra beklerken başkalarının önüne geçmeyeceğim.  
B) Televizyon karşısında daha az vakit geçireceğim.  
C) Arkadaşlarıma kötü lakap takmayacağım.  
D) Sıraya yazdığım yazıları temizleyeceğim.

6. Bir gün adamın biri Hz. Peygamber'in huzuruna geldi ve kendisinden bir binek hayvanı istedi. Hz. Muhammed (sav.) de ona, "Peki, sana bir dişi deve yavrusu vereyim mi?" diye takıldı. Adamcağız, "Ey Allah'ın Resülü, ben sizden bir binek istiyorum, dişi deve yavrusunu ne yapayım?" dedi. Hz. Peygamber gülerek "Bütün develer, dişi develerin yavrusu değil midir?" diye açıkladıktan sonra adama yardımcı oldu.

**Bu metinden Hz. Muhammed (sav.) ile ilgili aşağıdakilerden hangisine ulaşamaz?**

- A) İnsanlara değer verirdi.  
B) Şaka yaparken bile yalandan kaçınırdı.  
C) İnsanların ihtiyaçlarını karşılamayı severdi.  
D) Kendisine yapılan kaba davranışları affederdi.

7. İnsan aklıyla düşünerek iyiyi kötüyü ve doğruyla yanlış ayırt edebilir. Bu nedenle İslam dini sadece akîl dengesi yerinde olanları Allah'ın emir ve yasaklarından sorumlu tutmuştur.

**Buna göre aşağıdaki ayetlerden hangisi konuyla ilgili değildir?**

- A) "(Resulüm!) Sana bu Mübarek Kitab'ı, ayetlerini düşünsünler ve akli olanlar öğüt alsınlar diye indirdik."  
(Sâd suresi, 29. ayet)  
B) "Şüphesiz yerde ve gökte Allah'a hiçbir şey gizli kalmaz."  
(Âl-i İmrân suresi, 5. ayet)  
C) "... Doğrusu ancak akıl sahipleri öğüt alır."  
(Zümer suresi, 9. ayet)  
D) "... İşte size Allah bunu emretti ki aklınızı kullanasınız."  
(En'âm suresi, 151. ayet)

- 8.

Evrensel Yasalar	Ayetler
• Fiziksel	I. "Hiçbir şey O'na denk ve benzer değildir." (İhlâs suresi, 4. ayet)
	II. "Güneş ve Ay bir hesaba göre hareket etmektedir." (Rahmân suresi, 5. ayet)
• Biyolojik	III. "Onlar yeryüzünde gezip kendilerinden öncekilerin sonunun nasıl olduğuna bakmazlar mı?..." (Fâtır suresi, 44. ayet)
• Toplumsal	IV. "O, insanı alaktan (embriyodan) yarattı." (Alak suresi, 2. ayet)

**Tabloda verilen evrensel yasalar ile ayetler eşleştirildiğinde numaralanmış ayetlerden hangisi dışarıda kalır?**

- A) I.      B) II.      C) III.      D) IV.



9. Hac ve umre ile ilgili aşağıdaki bilgilerden hangisi yanlıştır?

- A) Umre ibadeti sünnettir.
- B) Hac yılda bir defa yapılabilir.
- C) Vakfe, umrenin şartlarından biridir.
- D) Hac ve umrenin şartlarından biri ihrama girmektir.

10. Hz. Muhammed (sav.), mescitte arkadaşlarıyla oturuyordu. Biraz sonra bir arkadaşının oğlu babasının yanına geldi. Adam, oğlunu öpüp dizine oturttu. Bir süre sonra bu kez adamın kızı geldi. Onu ise hemen yanında bir yere oturttu. Bunun üzerine Hz. Muhammed (sav.) "Çocuklarının ikisini bir tutsana." buyurarak onu uyardı.

**Bu olayda Hz. Muhammed'in (sav.) tavsiye ettiği değer aşağıdakilerden hangisidir?**

- A) Sabır
- B) Adalet
- C) Güven
- D) Hoşgörü

11. Doğru bilgi; gerçek, güvenilir ve kesin olmalıdır. Zan ve tahmine dayalı olmamalıdır.

**Bu ifadeye göre aşağıdaki davranışlardan hangisi yanlıştır?**

- A) Sosyal medyada okuduğu bir haberin doğruluğunu araştırmak
- B) Hakkında, mahkeme tarafından karar verilmiş bir zanlıyı suçlu kabul etmemek
- C) Bir tartışmada, her iki tarafı ve şahitleri dinleyerek karar vermek
- D) Oturduğu apartmanın önünde bulunduğu paranın kendisine ait olduğunu düşünerek sahiplenmek

12. Hz. Ali şöyle bir olay anlatır: "Hz. Peygamber bize ziyarete gelmişti. O gece bizde kaldı. Hasan ve Hüseyin de uyuyorlardı. Bir ara Hasan uyanıp su istedi. Hz. Peygamber hemen kalktı ve su kabından bir bardak su aldı. Hasan'a vermek için getirmişti ki Hüseyin de uyandı. Hüseyin bardağa uzandı ve su içmek istedi. Hz. Peygamber ise suyu Hüseyin'e değil önce Hasan'a verdi. Bunun üzerine Hz. Fatma 'Babacığım Hasan'ı Hüseyin'den çok seviyorsunuz herhâlde.' dedi. Hz. Peygamber 'Hayır, suyu önce Hasan istedi.' buyurdu."

**Bu olaydan Hz. Muhammed (sav.) ile ilgili aşağıdakilerden hangisine ulaşamaz?**

- A) Danışarak iş yapardı.
- B) Ailesiyle yakından ilgilenirdi.
- C) Çocuklara karşı merhametliydi.
- D) Davranışlarında adaletten ayrılmazdı.

13. İnsan, hayatı boyunca birçok şeyle karşılaşır. Bunlardan bazıları kendi iradesiyle bazıları ise başka sebeplerle gerçekleşir. İnsan, gücü oranında görev ve sorumluluklarını yerine getirir. Kendisini aşan durumlarda ise Allah'a sığınır ve Allah'tan yardım diler. Böylece insan, gönül rahatlığı içerisinde huzurlu bir şekilde hayatını devam ettirir.

**Bu metinde vurgulanan kavramlar aşağıdakilerin hangisinde verilmiştir?**

- A) Kader ve rızık
- B) Kader ve ecel
- C) Kader ve tevekkül
- D) Kader ve yaratma

14. Hz. Hatice, Hz. Muhammed'e (sav.) hitaben şöyle söylüyordu: "Allah seni katiiyen utandırmaz. Çünkü sen akrabalarına iyi davranan, çaresizlerin yardımına koşan, yoksulu himaye eden, misafirlerine ikram eden bir insansın."

**Buna göre Hz. Hatice, Hz. Muhammed'in (sav.) aşağıdaki özelliklerinden hangisini vurgulamıştır?**

- A) Yardımseverliğini
- B) Hoşgörüsünü
- C) Affediciliğini
- D) Adaletini

15. Aşağıdakilerden hangisi kötü alışkanlıkların küçük yaşta başlamasını önlemeye yönelik davranışlar arasında yer almaz?

- A) Çocuklara iyi örnek olmak
- B) Okullarda çocukları bilgilendirmek
- C) Çocukların her istediğini yerine getirmek
- D) Çocuklara huzurlu bir aile ortamı oluşturmak

16. "Ey iman edenler! Kazandıklarınızın iyilerinden ve rızık olarak yerden size çıkardıklarımızdan hayra harcayın. Size verilse gözünüzü yummadan alamayacağınız kötü malı, hayır diye vermeye kalkışmayın. Biliniz ki Allah zengindir, övgüye lâyıktır."

(Bakara suresi, 267. ayet)

**Aşağıdaki örneklerden hangisinin bu ayete uygun olduğu söylenemez?**

- A) Zekâtını hesaplayıp altın olarak veren kuyumcu
- B) Sürüsündeki en zayıf koyunu zekât olarak veren kişi
- C) Zekâtını yetiştirdiği ürünlerin en iyisinden veren çiftçi
- D) Gelirinin zekâtını nakit para olarak veren esnaf

17.

Sevgili günlük!

(I) Kâbe'yi ilk gördüğümde sevinci ve hüznü bir arada yaşadım. (II) Kâbe'nin etrafında dönerken kabul olacağı düşüncesiyle aklıma gelen her duayı ediyordum. (III) Üzerimizdeki ihram herkesin eşit olduğunu, makam, zenginlik, ırk gibi ayrılıkların olmadığını bana hatırlatıyordu. (IV) Ayrıca tüm dünya Müslümanları ile birlikte ramazan ayını Kâbe'de geçirmiş olmak da benim için eşsiz bir mutluluktur.

**Bu günlükte anlatılan ibadetin hac değil de umre olduğu numaralanmış cümlelerin hangisi ile kesinlik kazanmıştır?**

- A) I.      B) II.      C) III.      D) IV.

18. Hz. Muhammed'den (sav.) nakledildiğine göre: "Adamın biri çölde yolculuk esnasında çok susadı. Uzun süre su aradı. Nihayet bir kuyuya rastladı. Zorlukla inip su içtikten sonra kuyudan çıktı. O esnada kuyunun kenarında susuzluktan dilini çıkararak soluyan bir köpeğin nemli toprağı eşelediğini gördü. Bu da benim gibi susamış, diye düşünerek tekrar kuyuya indi. Ayakkabısına su doldurup köpeğe içirdi. Bu davranışından dolayı Yüce Allah adamın günahlarını bağışladı."

**Aşağıdakilerden hangisi bu hadisle kazanılmak istenen davranışa örnek oluşturmaz?**

- A) Kış aylarında yaban hayvanları için yiyecek bırakılması  
B) Sokak hayvanları için barınaklar yapılması  
C) Sıcak havalarda bahçe ve parklara hayvanlar için su kapları konması  
D) Sirk ve gösterilerde kullanılmak için hayvanların eğitilmesi

19.

Hz. Peygamber, Hz. Ayşe'ye "Kurbanımızı ne yaptık?" diye sorar. Hz. Ayşe de O'na "Tamamını fakirlere dağıttık. Sadece bir but bize kaldı." deyince, Hz. Peygamber "But hariç tamamı bize kaldı desene." diye cevap verir.

**Bu metinde Hz. Muhammed (sav.) aşağıdakilerden hangisini vurgulamıştır?**

- A) Eldeki malın iyisinin paylaşılmasını  
B) Kurban edilecek hayvanın özelliklerini  
C) Paylaşma ve yardımlaşmanın önemini  
D) Kurban etinin üçe bölünerek tüketilmesini

20.

Hacdan Dönüşler Başladı

Hac ibadetini tamamlayıp ülkelerine dönen hacıları taşıyacak uçağın yoğunluk sebebi ile vaktinde havalanmamasına kızan hacılar görevli personelle tartışmaya başladılar.

Yukarıda hacdan dönüşler ile ilgili bir gazete haberi yer almaktadır.

**Bu habere göre hacıların, hac ibadetinin insana kazandırması gereken aşağıdaki davranışlardan hangisini kavrayamadıkları söylenebilir?**

- A) Sabır  
B) Kararlılık  
C) Yardımlaşma  
D) Birlikte hareket etme

TEST BİTTİ.

CEVAPLARINIZI KONTROL EDİNİZ.

**27 NİSAN 2016 TARİHİNDE YAPILAN 8. SINIF 2. DÖNEM  
DİN KÜLTÜRÜ VE AHLAK BİLGİSİ DERSİ MERKEZİ ORTAK SINAVI  
“A” KİTAPÇIĞI CEVAP ANAHTARI**

**DİN KÜLTÜRÜ VE AHLAK BİLGİSİ**

1. B
2. A
3. C
4. D
5. B
6. D
7. B
8. A
9. C
10. B
11. D
12. A
13. C
14. A
15. C
16. B
17. D
18. D
19. C
20. A



**A**  
KİTAPÇIK TÜRÜ

T.C.  
MİLLÎ EĞİTİM BAKANLIĞI  
ÖLÇME, DEĞERLENDİRME VE SINAV HİZMETLERİ GENEL MÜDÜRLÜĞÜ

**8. SINIF 2. DÖNEM**  
**İNGİLİZCE DERSİ**  
**MERKEZİ ORTAK SINAVI**  
28 NİSAN 2016 Saat: 11.20

Adı ve Soyadı : .....  
Sınıfı : .....  
Öğrenci Numarası : .....

**SORU SAYISI** : 20  
**SINAV SÜRESİ** : 40 Dakika

### ÖĞRENCİLERİN DİKKATİNE!

1. Sınıf öğrenci yoklama listesinde belirtilen sınıfta ve sıra numarasında oturunuz.
2. Cevap kâğıdındaki kimlik bilgilerinin doğruluğunu kontrol ediniz.
3. Kitapçık türünü cevap kâğıdındaki ilgili alana kodlayınız.
4. Cevap kâğıdı üzerindeki kodlamaları kurşun kalemle yapınız.

**SINAV BAŞLAMADAN ÖNCE**  
**KİTAPÇIĞIN ARKA KAPAĞINDAKİ UYARILARI MUTLAKA OKUYUNUZ.**

## İNGİLİZCE

1. Bu testte 20 soru vardır.
2. Cevaplarınızı, cevap kağıdına işaretleyiniz.

1-8. sorularda boş bırakılan yere uygun gelen kelime ya da ifadeyi işaretleyiniz.

1. Amy : Who uses the Internet most in your family?

Bernard : - - - - , my sister. She uses the Internet about 6 hours a day.

- A) I mean                      B) I guess  
C) You're right              D) You're welcome

2. Lucy : Hello, this is Lucy.

Emma : Hi, Lucy. - - - - ?

Lucy : Fine, thanks.

- A) Where are you going  
B) Why are you asking  
C) How is it going  
D) Who is calling

3. Kate : I argued with my best friend last week.

Sophie : Oh really? - - - - .

- A) I'm sorry to hear that  
B) I guess you can come  
C) I hope to see you there  
D) I'm sure you are available

4. Pelin : - - - - ?

Sue : Never. I prefer face-to-face interaction.

- A) When do you go out with your parents  
B) What are its technical specifications  
C) What kind of films do you watch  
D) How often do you chat online

5. Candy : - - - - ?

Sally : Chinese. And over 1 billion people speak it in the world.

- A) Where would you like to visit  
B) What is their official language  
C) Where can a tourist stay there  
D) What is the name of the country

6. Bill : How should we cook the vegetables?

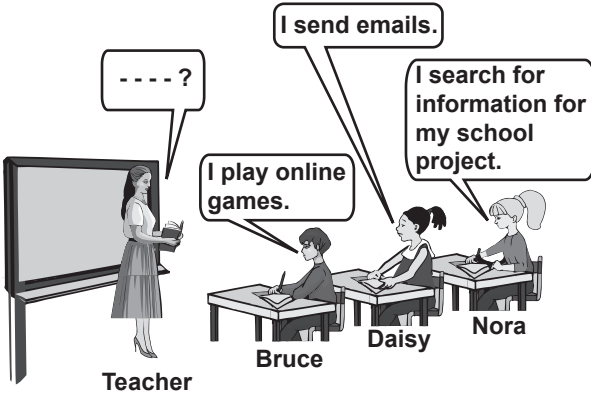
Nancy : You - - - - .

- A) should have all the ingredients  
B) must serve them immediately  
C) should steam them  
D) must wash them

7. Mike : Are you doing anything on Sunday?  
Sally : Yes, - - - - .

- A) we are getting on well with classmates  
B) we are going to meet with friends  
C) I really like sci-fi movies  
D) I'm good at fixing bikes

8.



- A) How many hours a day do you use the Net  
B) How often do you do homework on the Net  
C) What do you usually do on the Internet  
D) Who spends much time on the Internet

9. I. Hello, I'm Sarah.  
II. Oh, sorry Sarah. This is Jim's father.  
III. Could I ask who is calling?  
IV. Hi, Sarah. Could I speak to Jim?

Yukarıda bir telefon konuşması karışık olarak verilmiştir.

Anamlı bir diyalog oluşturmak için numaralanmış cümleler nasıl sıralanmalıdır?

- A) I, IV, III, II  
B) IV, II, III, I  
C) I, II, IV, III  
D) IV, III, I, II

10 ve 11. sorularda verilen görsele göre boş bırakılan yere uygun gelen seçeneği işaretleyiniz.

10.



I prefer - - - - because I like exploring the blue waters.

- A) bungee jumping  
B) parachute diving  
C) hang gliding  
D) scuba diving

11.



Mr. Carter

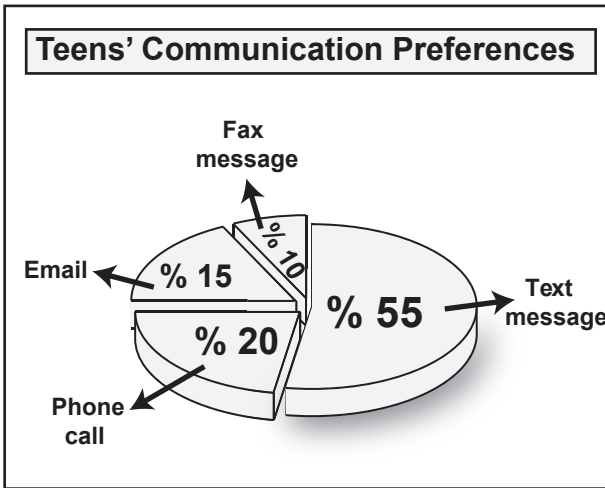
Mr. Carter - - - - when he was young.

- A) enjoyed white-water rafting  
B) hated doing bungee jumping  
C) tried hang gliding several times  
D) disliked performing parkour running

12. Your friend invites you to a party. But you have another plan. What do you say to refuse his invitation?

- A) I hope you feel better soon.
- B) Sounds good but I'm busy.
- C) It will be great to join.
- D) Sure, I would like to.

13. soruyu aşağıda verilen grafiğe göre cevaplayınız.



13. Teens - - - - .

- A) make phone calls most
- B) never prefer sending fax messages
- C) enjoy sending text messages the least
- D) send text messages more than emails

14. "I like mopping the floor. It's my favorite chore." ifadesini anlatan görsel aşağıdakilerden hangisidir?

A)



B)



C)



D)





15-17. soruları aşağıda verilen metinlere göre cevaplayınız.



Egypt is the centre of many civilizations and there are many historic buildings to visit. But it is really too hot in summers so I prefer going there in mild winter days.

Linda

I really enjoy being outdoors and on the water. That's why with its blue waters, Italy is a unique tourist destination for me. Also, Italy has mild weather the year around so it is really convenient for water sports. I would like to go there and enjoy its crystal blue waters.



Robert

I enjoy exploring tropical islands like Jamaica. Jamaica is well-known for its many traditional dishes and I like trying new meals. With its mild climate the year around, Jamaica is the best choice for my summer holidays.



Peter

15. Egypt - - - - .

- A) is the home of different cultures
- B) is a great place for water sports
- C) has a mild climate in summers
- D) has many wonderful dishes

16. Robert would like to visit Italy because - - - - .

- A) it is usually cold in winters
- B) he wants to do water sports
- C) it has many historic buildings
- D) he would like to try new dishes

17. Peter - - - - .

- A) thinks Jamaica is a historic place
- B) prefers going to Jamaica in winter
- C) never visits countries with mild climate
- D) would rather spend his holiday in Jamaica

18-20. soruları aşağıda verilen metne göre cevaplayınız.

Hi, I'm Jeremy. In our family everyone has some responsibilities. We always share the daily chores at home. I must water the flowers in the garden. I like it because I love being outdoors. My brother Robert is responsible for taking out the garbage. He hates doing it but he always does it. Doing the grocery shopping is my father's duty. My mother cooks the meals and does the laundry. Also, she has to wash the dishes and my father helps her with that. I think we all should help each other with the chores because sharing the responsibilities means respecting each other.

18. Jeremy spends some time in the garden because he - - - - .

- A) must take care of the plants
- B) hates taking out the garbage
- C) loves going shopping for food
- D) is responsible for washing the dishes

19. Robert always takes the rubbish out but he - - - - .

- A) always helps his father
- B) never does his tasks
- C) likes being outdoors
- D) dislikes doing it

20. Jeremy's father helps mom in the kitchen because - - - - .

- A) he loves being alone
- B) they respect each other
- C) he likes doing the laundry
- D) they enjoy watering the plants

TEST BİTTİ.

CEVAPLARINIZI KONTROL EDİNİZ.



**28 NİSAN 2016 TARİHİNDE YAPILAN 8. SINIF I. DÖNEM  
İNGİLİZCE DERSİ MERKEZİ ORTAK SINAVI  
“A” KİTAPÇIĞI CEVAP ANAHTARI**

**İNGİLİZCE**

---

1. B
2. C
3. A
4. D
5. B
6. C
7. B
8. C
9. A
10. D
11. C
12. B
13. D
14. C
15. A
16. B
17. D
18. A
19. D
20. B