



A

KİTAPÇIK TÜRÜ

T.C.
MİLLÎ EĞİTİM BAKANLIĞI
ÖLÇME, DEĞERLENDİRME VE SINAV HİZMETLERİ GENEL MÜDÜRLÜĞÜ

8. SINIF 2. DÖNEM
TÜRKÇE DERSİ
MERKEZİ ORTAK SINAVI
29 NİSAN 2015 Saat: 09.00

Adı ve Soyadı :
Sınıfı :
Öğrenci Numarası :

SORU SAYISI : 20
SINAV SÜRESİ : 40 Dakika

ÖĞRENCİLERİN DİKKATİNE!

1. Sınıf öğrenci yoklama listesinde belirtilen sınıfta ve sıra numarasında oturunuz.
2. Cevap kâğıdındaki kimlik bilgilerinin doğruluğunu kontrol ediniz.
3. Kitapçık türünü cevap kâğıdındaki ilgili alana kodlayınız.
4. Cevap kâğıdı üzerindeki kodlamaları kurşun kalemle yapınız.

SINAV BAŞLAMADAN ÖNCE
KİTAPÇIĞIN ARKA KAPAĞINDAKİ UYARILARI MUTLAKA OKUYUNUZ.

8. SINIF TÜRKÇE 2015

TÜRKÇE

1. Bu testte 20 soru vardır.
2. Cevaplarınızı, cevap kağıdına işaretleyiniz.

1. Aşağıdaki cümlelerin hangisinde “derin” sözcüğü, karşısında verilen anlama uygun kullanılmamıştır?

Cümle	Anlam
A) Karlı dağları, derin ırmakları geçip geldim.	Dibi yüzeyinden veya ağzından uzak olan
B) Derin bir bilgindi karşım- da duran.	Kendi alanında çok gelişmiş, en ileri durum- da olan
C) Küresel ısınmanın etkilerini ölçmek için derin araştırmalar yapılmalıdır.	Yüzeyden içeri inen
D) Bir iki derin nefesten sonra soluk alış veriş düzeldi.	Uzun süren

- 2.** Bütün insanlar akli başında
Beş parmak yerli yerinde
Baş, işaret, orta, yüzük, serçe
Diyelim kalksa da serçe
Orta parmağa doğru yürüse
Ne haddine!

Bu şiirde altı çizili kelimenin ifade ettiği anlam aşağıdakilerden hangisidir?

- A) İhtimal
- B) Öneri
- C) Beklenti
- D) Varsayım

- 3.** Şekerin bir bardak çay içinde erimesini seyredencesine eserinin hayata karışmasına şahit olan sanat adamlarına ne mutlu... Piyesini sahnede görmeden, bestesini bir orkestradan dinleyemeden, romanını bastırmadan, resmini duvara astırmadan göçüp giden sanat adamları için ise ne kadar üzücü...

Bu metinde geçen “eserin hayata karışması” sözüyle anlatılmak istenen aşağıdakilerden hangisidir?

- A) Eserdeki konuların günlük hayattan alınması
- B) Sanatçının eserinden gelir elde etmesi
- C) Sanat eserinin hedef kitesine ulaşması
- D) Eserin her yönüyle eleştirilmesi

- 4.** İnsan kendi memleketinden uzaklaşıp da farklı kültürdeki insanların yaşadığı yerlere gitti mi bilmediği, görmediği şaşılacak olaylarla karşılaşmak, birtakım serüvenler geçirmek ister. Çoğu kez, bunları yapamadığı içindir ki seyahatinden abartıcı, hatta yalancı olarak döner ve yaşadıklarını anlatırken - - - - .

Bu metnin sonuna aşağıdaki deyimlerden hangisi getirilirse anlam bütünlüğü sağlanmış olur?

- A) bire bin katar
- B) kılı kırk yarar
- C) ayakları yere basmaz
- D) gözüne hiçbir şey görünmez

5. Aşağıdaki metinlerin hangisinde anlatım birinci kişi ağızyla yapılmıştır?

- A) Yakıcı güneşin altında, bu tozda, sıcakta, hamarat insanlar arı gibi kaynaşiyor, durmadan konuşuyor, uğultular çıkarıyordu. Bunlara hiç aldırmayan delikanlı, işini yapmaya devam ediyordu.
- B) İsrırgan otlarının arasından bahçenin öbür ucuna geçip boş bir teknenin üstüne bastım. Bahçenin içindeki, yaprakları yayvan, eğilmiş, yaşlı ağaçlara baktım.
- C) Gemi rüzgâra yelken açıp güneye doğru yola çıktığında aydınlık, güzel ve ılık bir gündü. Denizcilerin birlikte söyledikleri neşeli şarkıları dinlerken kalbi neşeye çarpıyordu.
- D) İkinci aydınlığı toparlanıp gitmiş, odaya sessizliği çoğaltan serin gölgeler yayılmıştı. Genç kız, işlediği örtüde bir sıkıntının büyüdüğünü gördü. Örtüyü elinden bırakıp pencereye doğru yürüdü.

6. Aladağlar bir sonbahar fırtınasında yaptığı şalı boynuna dolamış. Hasat yapılmış elma ve vişne bahçeleri kışı bekliyor.

Bu metinde aşağıdaki söz sanatlarından hangisi vardır?

- A) Konuşturma
B) Abartma
C) Benzetme
D) Kişileştirme

7. Büyük kültür eserleri insanın duygu ve düşünce dünyasını, bilimsel araştırmalar ise bilgi ve yeteneklerini geliştirir. Okulu bitirdikten sonra kitap okumayanlar belli bir noktada durmuş saate benzerler. Zaman ilerledikçe onlar geride kalır. Meslek hayatının ve günlük ihtiyaçların çemberinden onları ancak kitaplar kurtarır ve onlara zengin ufuklar kazandırır.

Bu metin aşağıdaki türlerin hangisinden alınmıştır?

- A) Anı
B) Biyografi
C) Deneme
D) Gezi yazısı

8. Kitaplar konusu iştahını kabartıyor Yekta'nın. Konuştukça konuşuyor, adını andığı yazarları benim sevip sevmediğimi soruyor hep. "Kitaplıklarımız birbirinin ikizi desene!" diyor en sonunda.

Bu metinde altı çizili cümleyle anlatılmak istenen aşağıdakilerden hangisidir?

- A) Okuma zevklerinin benzerliği
B) Kitaplıklarının aynı şekilde olması
C) Kitap sayılarının yakınlığı
D) Kitap okumayı sevmeleri

9. Bütün gece yağmıştı yağmur, önceki geceler olduğu gibi. Bahar, sağanak ve gök gürültülü gelmişti o yıl. Sonra azıcık güneş görünüp bulutlar dağılınca annemden izin koparıp dışarı çıkabilmişim. Toprağın o güzel nemi, çamuru kaçmadan yetişmeliydim koruya. Sokağın hemen ucundan girilen ağaçlık alan önce bir kuru gibi başlar, sonra yamaca doğru iyice dutluk olurdu. Uçurtma uçurtmak için çıktığımız tepenin en üstü ise sanki bu iş için ayrılmış yemyeşil bir düzlüktü.

Bu metnin anlatımıyla ilgili olarak aşağıdakilerden hangisi söylenemez?

- A) Gözlem gücünden yararlanılmıştır.
B) Kişisel duygu ve düşünceler dile getirilmiştir.
C) Samimi bir dil kullanılmıştır.
D) Tekrarlara başvurulmuştur.

10. I. Zorunlu dediysem, bunlar tatsız değil neşeli ziyaretlerdi, o koca bahçede neler oynardık!
II. Yemek saatlerine bile aldırmandan, hava kararana kadar doyamazdık oyuna.
III. Seksek, çinçan, elimsende, yakan top ve en çok da saklambaç...
IV. "Hadi yemeğe!" diye seslenmekten yorulan zavallı babaannem en sonunda, üzerine yoğurt sürdüğü ekmekleri elimize verirdi.
V. Babaannemin evinin bahçesi, yaptığımız zorunlu ziyaretlerde vazgeçilmez oyun alanımızdı.
VI. Kısacık bir moladan sonra yeniden oyuna koşardık.

Numaralanmış cümlelerle mantık akışına göre anlamlı bir metin oluşturulmak istenirse sıralama aşağıdakilerden hangisi olur?

- A) V - II - IV - VI - III - I
B) V - I - III - II - IV - VI
C) II - VI - III - IV - V - I
D) II - III - IV - V - I - VI

11.

Leylek leylek lekirdek,
İki dirhem bir çekirdek.
Lak lak eder kuş dilince,
Göçüp gider güz gelince.
Yedi iklim dört bucak,
Gezip tozar şen şakrak.

Kara kara kayacık,
İçi dolu mayacık.
Pazardan getirdim,
Kor ateşte pişirdim.
Kebap oldu kestane,
At ağzına bir tane.

Bu tekerlemelerde ortak olmayan yön aşağıdakilerden hangisidir?

- A) İkilemeye yer verilmesi
B) Dize sayılarının eşit olması
C) Devrik cümle kullanılması
D) Yansıma kelimelerden yararlanması

12.

Geçmişin gündelik ayakkabısı olan yemeniler artık turistik eşya niyetine satılıyor ama aslında en kullanışlı ve sağlıklı ayakkabı çeşidi bunlar. Yemenicilik zannedildiğinin aksine bir Türk el sanatı değil. Geçmiş altı asır öncesine dayanan yemenilerin ilk defa Yemen'de yapıldığı biliniyor. Yemen'den Halep'e, Halep'ten Güneydoğu Anadolu'ya kadar yayılmıştır.

Bu metinde yemenilerle ilgili olarak aşağıdakilerden hangisine değinilmemiştir?

- A) Nerede ortaya çıktığına
B) Pahalı bir ürün olduğuna
C) Yayıldığı yerlere
D) Günümüzdeki durumuna

13. Bir köpek, ağzında bir kemikle bir nehrin kenarında duruyormuş. Birden sudaki yansımasını fark etmiş. O köpeğin de ağzında bir kemik varmış. Üstelik kendi ağzındaki kemikten daha büyükmüş. Köpek ağzındaki kemiği bırakıp hemen suya atlamış ancak azgın sularda neredeyse boğuluyormuş. Canını zor kurtarmış köpek, kıyıya çıktığında ne kemik kalmış ne de kemiğin yansıması.

Bu metinde asıl anlatılmak istenen aşağıdakilerden hangisidir?

- A) Sahip olduklarıyla yetinmeyen, elindekini de kaybeder.
B) Kararsız kişiler, giriştikleri işlerde başarısız olurlar.
C) Söz dinlemeyenlerin başı deritten kurtulmaz.
D) Maceraya atılmak her zaman ilgi çekicidir.

14. Bizim halılarımızda, kilimlerimizde, heybelemizde ve benzeri dokuma işlerimizde tatlı, yuvarlak çizgiler yoktur. Kilimlerimizde sürekli rastlanan üçgenler, kareler, beşgenler estetik tasalardan değil tezgâh zoruyla doğmuştur. Çünkü bizim tezgâhlarımızda yuvarlak çizgi dokunamaz. Köylerimizde yapılan dokuma tezgâhları ta Orta Çağ'dan hatta eski çağlardan kalma en ilkel tezgâhlardır.

Bu metinde aşağıdaki sorulardan hangisinin cevabı yoktur?

- A) Dokuma işlerimizde bazı motiflerin bulunmayışının sebebi nedir?
B) Halılarımızda hangi geometrik şekiller vardır?
C) Tarihî olaylar kilimlerimize nasıl yansımıştır?
D) Dokuma tezgâhları ne zamandan beri kullanılıyor?

15. Elif bir akşam sınıf arkadaşı Gamze'yle kısa mesaj yoluyla konuşmaya başladı. Konuşmanın ilerleyen aşamalarında Elif, Gamze'nin kendisine kırıldığını fark etti. Gamze'ye bunun nedenini sorduğunda "kendisinin sözlerinin sert ve kırıcı olduğu" cevabını aldı. Elif buna çok şaşırıldı. Çünkü Gamze'yle yüz yüze konuşurken de aynı biçimde konuşuyordu ama o zaman Gamze kendisine kırılmıyordu. Bunu Gamze'yle paylaştığında o da kendisine hak verdi. Bunun üzerine Elif kısa mesajlarının sonuna bazı işaretler koymaya başladı. Örneğin şaka yaptığını belirtmek için gülme anlamında " :) ", katıla katıla gülme anlamında " :D ", üzgün olduğunu belirtmek için " :(", çok üzüldüğünü belirtmek için ise " :'(" işaretini kullanmaya başladı. Bunun üzerine aralarındaki iletişim problemi son buldu.

Bu metne göre Elif'in çözüm bulduğu sorun aşağıdakilerden hangisidir?

- A) Kelimelerin ve cümlelerin kuralsızca kısaltılması
B) Jest, mimik ve ses tonu gibi iletişim unsurlarının kullanılmaması
C) Yüz yüze iletişimin azalmasından dolayı insan ilişkilerinin zayıflaması
D) Dil ve nezaket kurallarına uyulmaması

16. **Aşağıdaki cümlelerin hangisi yapıca diğerlerinden farklıdır?**

- A) Arkamda oturduğu için onu göremiyordum.
B) Gözlerimin içine bakarak bir şey sordu.
C) Çocuk odasından ayak sesleri geliyordu.
D) En yakın dala tutunup duvarın üstüne tırmandı.

17. Ben her sabah - - - - .

Bu söz grubu aşağıdakilerin hangisiyle tamamlanırsa cümlenin yüklemi geçişli olur?

- A) okula giderim
- B) parkta koşarım
- C) erken kalkarım
- D) süt içerim

18. I. Ormana girer girmez atının yavaşladığını hissetti.
II. Elinde, kuyruğundan yakaladığı küçük ve kara bir kedi vardı.
III. Dün akşamdan bu yana kederliydi.
IV. Tüm dostların yüz çevirecekler senden.

Numaralanmış cümlelerden hangileri fiil cümlesidir?

- A) I. ve III.
- B) I. ve IV.
- C) II. ve III.
- D) II. ve IV.

19. Eskiden daha çok kuzey Ankara taraflarında

I

yetişen armutlar, Ulus Meydanı'nda seyyar

II

el arabalarında satışa sunulmuş. Bu küçük, sert ve sulu armudu herkes dört gözle beklemiş. Halkın bu kadar sevdiği bir ürün tabii Ankara ile sınırlı kalmamış ve Anadolu şehirlerinin

III

birçoğunda yetiştirilmeye başlanmış. Ancak nerede yetiştirilirse yetiştirilsin Ankara armudu

IV

olarak anılmış bu ürün.

Bu metindeki altı çizili yerlerin hangisinde büyük harflerin kullanımıyla ilgili bir yanlışlık yapılmıştır?

- A) I.
- B) II.
- C) III.
- D) IV.

20. Güçlü olanlar() zayıflara karşı haksızlık yapmamalıdır() Onların haklarını gözetmelidir() Yoksa son pişmanlık()

Bu metinde yay ayrıçla belirtilen yerlere sırasıyla hangi noktalama işaretleri getirilmelidir?

- A) (,) (:) (.) (!)
- B) (;) (!) (:) (.)
- C) (,) (.) (.) (...)
- D) (;) (.) (!) (...)

TEST BİTTİ.

CEVAPLARINIZI KONTROL EDİNİZ.

**29 NİSAN 2015 TARİHİNDE YAPILAN 8. SINIF II. DÖNEM
TÜRKÇE DERSİ MERKEZİ ORTAK SINAVI
“A” KİTAPÇIĞI CEVAP ANAHTARI**

TÜRKÇE

1. C
2. D
3. C
4. A
5. B
6. D
7. C
8. A
9. D
10. B
11. D
12. B
13. A
14. C
15. B
16. C
17. D
18. B
19. A
20. C



A
KİTAPÇIK TÜRÜ

T.C.
MİLLÎ EĞİTİM BAKANLIĞI
ÖLÇME, DEĞERLENDİRME VE SINAV HİZMETLERİ GENEL MÜDÜRLÜĞÜ

8. SINIF 2. DÖNEM
MATEMATİK DERSİ
MERKEZİ ORTAK SINAVI
29 NİSAN 2015 Saat: 10.10

Adı ve Soyadı :
Sınıfı :
Öğrenci Numarası :

SORU SAYISI : 20
SINAV SÜRESİ : 40 Dakika

ÖĞRENCİLERİN DİKKATİNE!

1. Sınıf öğrenci yoklama listesinde belirtilen sınıfta ve sıra numarasında oturunuz.
2. Cevap kâğıdındaki kimlik bilgilerinin doğruluğunu kontrol ediniz.
3. Kitapçık türünü cevap kâğıdındaki ilgili alana kodlayınız.
4. Cevap kâğıdı üzerindeki kodlamaları kurşun kalemle yapınız.

SINAV BAŞLAMADAN ÖNCE
KİTAPÇIĞIN ARKA KAPAĞINDAKİ UYARILARI MUTLAKA OKUYUNUZ.

MATEMATİK

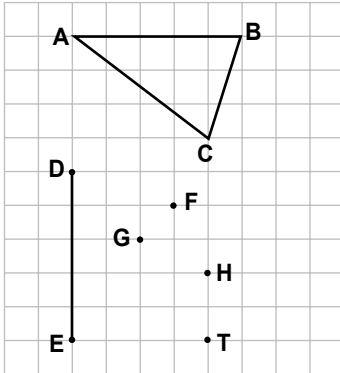
1. Bu testte 20 soru vardır.
2. Cevaplarınızı, cevap kağıdına işaretleyiniz.

1. I. $\sqrt{13}$
II. $\sqrt{1,6}$
III. $\sqrt{\frac{4}{9}}$
IV. $\sqrt{1,21}$

Yukarıda verilen sayılardan hangileri rasyonel sayıdır?

- A) I ve II B) II ve III
C) II ve IV D) III ve IV

2.



Şekildeki F, G, H ve T noktalarından hangisi $[DE]$ 'nin uç noktalarıyla birleştirilirse ABC üçgenine eş bir üçgen elde edilir?

- A) F B) G C) H D) T

3. $7^8 : 7^a = 7^{-4}$ olduğuna göre, a kaçtır?

- A) -12 B) -2 C) 2 D) 12

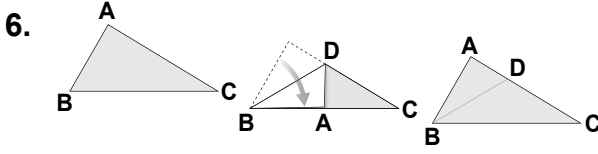
4. Alanı 288 cm^2 olan karenin çevre uzunluğu ile bir eşkenar üçgenin çevre uzunluğu birbirine eşittir.

Buna göre, eşkenar üçgenin bir kenar uzunluğu kaç santimetredir?

- A) $8\sqrt{2}$ B) $16\sqrt{2}$ C) $24\sqrt{2}$ D) $32\sqrt{2}$

5. Kenarlarından ikisinin uzunluğu 8 cm ve 5 cm olan bir üçgenin diğer kenarının uzunluğu aşağıdakilerden hangisi olabilir?

- A) 2 cm B) 3 cm C) 12 cm D) 13 cm



Çeşitkenar üçgensel bölge şeklindeki bir kağıdın AB kenarı BC kenarı ile çakışacak şekilde katlanıyor.

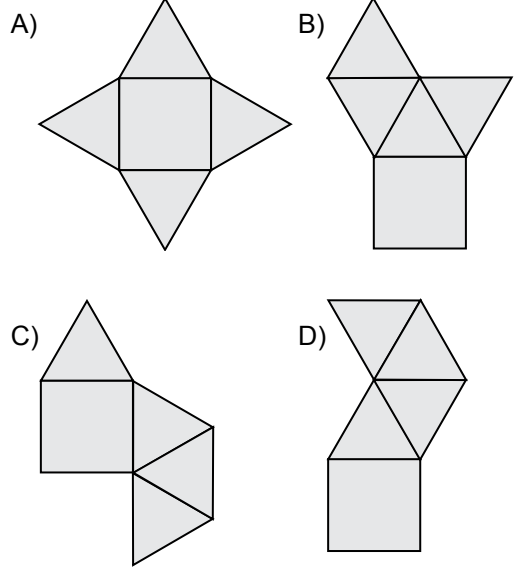
Kağıt tekrar açıldığında elde edilen BD katlama çizgisi, ABC üçgeninin hangi yardımcı elemanı olur?

- A) Kenarortay B) Kenar orta dikme
C) Açortay D) Yükseklik

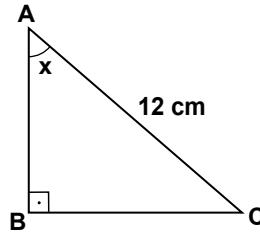
7. Uzunluğu 15 cm olan $[AB]$ 'na, B noktasından dik olarak çizilen $[BC]$ 'nin uzunluğu 8 cm'dir.
Buna göre, $|AC|$ kaç santimetredir?

- A) 15 B) 17 C) 19 D) 21

8. Birbirine eş 4 tane eşkenar üçgen ve bir kareden oluşan aşağıdaki şekillerden hangisi, bir kare dik piramidin açılımı olamaz?



- 9.



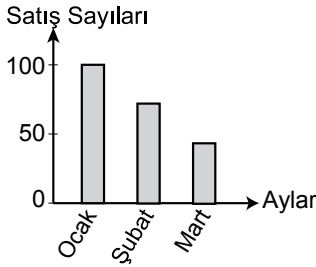
Şekildeki ABC üçgeninde $[AB] \perp [BC]$ 'tir.
 $|AC| = 12$ cm ve $\sin x = \frac{2}{3}$ olduğuna göre,
 $|BC|$ kaç santimetredir?

- A) 9 B) 8 C) 6 D) 5

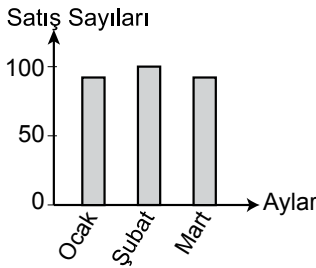
10. Aşağıdaki grafiklerde farklı mağazalara ait yılın ilk üç ayındaki televizyon satış sayıları gösterilmiştir.

Bu grafiklerin hangisinde, satış sayılarının standart sapması diğerlerinden daha küçüktür?

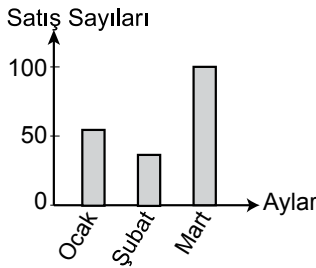
- A) Grafik: A Mağazasının Televizyon Satış Sayıları



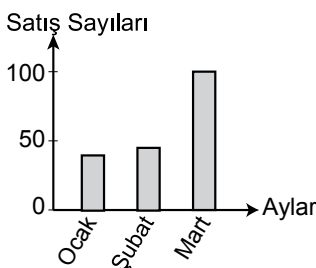
- B) Grafik: B Mağazasının Televizyon Satış Sayıları



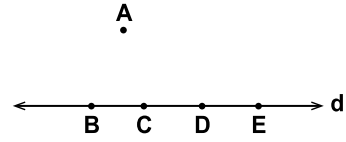
- C) Grafik: C Mağazasının Televizyon Satış Sayıları



- D) Grafik: D Mağazasının Televizyon Satış Sayıları



- 11.



Şekilde B, C, D, E noktaları d doğrusunun üzerinde, A noktası ise d doğrusunun dışındadır.

Köşeleri bu noktalardan herhangi üçü olan kaç farklı üçgen çizilebilir?

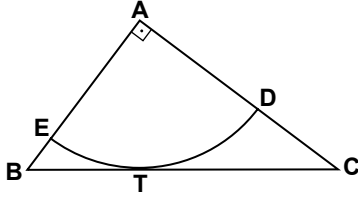
- A) 5 B) 6 C) 10 D) 12

12. A şehriden B şehrine hava, kara, deniz ve demir yolu ile gidilebilmektedir.

A şehriden B şehrine gidecek olan Ali ve Ayşe'nin aynı ulaşım yolu ile gitme olasılığı nedir?

- A) $\frac{1}{16}$ B) $\frac{1}{8}$ C) $\frac{1}{4}$ D) $\frac{1}{2}$

13.



Şekildeki dik üçgende $m(\widehat{A}) = 90^\circ$ dir. $[BC]$ kenarına T noktasında teğet olan A merkezli çember yayı $[AC]$ 'ni D noktasında, $[AB]$ 'ni E noktasında kesmektedir.

$|DC| > |BE|$ olduğuna göre, ABC üçgeninin açılarının ölçülerinin doğru sıralanışı aşağıdakilerden hangisidir?

- A) $m(\widehat{A}) < m(\widehat{B}) < m(\widehat{C})$
- B) $m(\widehat{B}) < m(\widehat{C}) < m(\widehat{A})$
- C) $m(\widehat{C}) < m(\widehat{A}) < m(\widehat{B})$
- D) $m(\widehat{C}) < m(\widehat{B}) < m(\widehat{A})$

14. Aşağıda isimleri verilen geometrik cisimlerden hangisi tabanına dik bir düzlem ile kesildiğinde ara kesit bir kare olamaz?

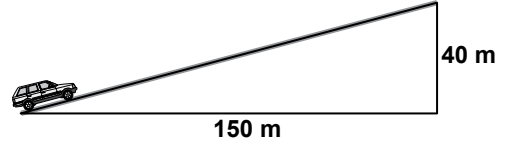
- A) Düzgün altıgen dik prizma
- B) Dik dairesel silindir
- C) Kare dik piramit
- D) Küp

15.

23, 29, a, 41 sayıları aritmetik bir dizinin ardışık dört terimi olduğuna göre, a kaçtır?

- A) 31
- B) 33
- C) 35
- D) 37

16.



Verilen rampanın yüksekliği için aşağıdakilerden hangisi yapılırsa, rampanın eğimi % 20 olur?

- A) 10 m azaltılırsa
- B) 10 m artırılırsa
- C) 20 m azaltılırsa
- D) 20 m artırılırsa

17. $x^2 + 7x + 12$ ifadesinin çarpanları $x + a$ ve $x + b$ olduğuna göre, $a + b$ kaçtır?

- A) 7 B) 8 C) 13 D) 19

18. Denklemi $6x - ay + 5 = 0$ olan doğrunun eğimi $\frac{2}{3}$ olduğuna göre, a kaçtır?

- A) -9 B) -4 C) 4 D) 9

19. Aşağıdakilerden hangisi bir özdeşlik değildir?

- A) $2 \cdot (x - 3) = 3 \cdot (x - 2)$
B) $(x - 3)^2 = x^2 - 6x + 9$
C) $x^2 - x = x \cdot (x - 1)$
D) $x^2 - 4 = (x - 2) \cdot (x + 2)$

20. 102 litre süt, şişeler tam dolacak şekilde 2 litrelik ve 3 litrelik şişelere konuyor. Toplam şişe sayısı 42 olduğuna göre, kaç tane 2 litrelik şişe kullanılmıştır?

- A) 18 B) 20 C) 22 D) 24

TEST BİTTİ.

CEVAPLARINIZI KONTROL EDİNİZ.

**29 NİSAN 2015 TARİHİNDE YAPILAN 8. SINIF II. DÖNEM
MATEMATİK DERSİ MERKEZİ ORTAK SINAVI
“A” KİTAPÇIĞI CEVAP ANAHTARI**

MATEMATİK

1. D
2. A
3. D
4. B
5. C
6. C
7. B
8. C
9. B
10. B
11. B
12. C
13. D
14. C
15. C
16. A
17. A
18. D
19. A
20. D



A
KİTAPÇIK TÜRÜ

T.C.
MİLLÎ EĞİTİM BAKANLIĞI
ÖLÇME, DEĞERLENDİRME VE SINAV HİZMETLERİ GENEL MÜDÜRLÜĞÜ

8. SINIF 2. DÖNEM
FEN VE TEKNOLOJİ DERSİ
MERKEZİ ORTAK SINAVI
30 NİSAN 2015 Saat: 09.00

Adı ve Soyadı :
Sınıfı :
Öğrenci Numarası :

SORU SAYISI : 20
SINAV SÜRESİ : 40 Dakika

ÖĞRENCİLERİN DİKKATİNE!

1. Sınıf öğrenci yoklama listesinde belirtilen sınıfta ve sıra numarasında oturunuz.
2. Cevap kâğıdındaki kimlik bilgilerinin doğruluğunu kontrol ediniz.
3. Kitapçık türünü cevap kâğıdındaki ilgili alana kodlayınız.
4. Cevap kâğıdı üzerindeki kodlamaları kurşun kalemle yapınız.

SINAV BAŞLAMADAN ÖNCE
KİTAPÇIĞIN ARKA KAPAĞINDAKİ UYARILARI MUTLAKA OKUYUNUZ.

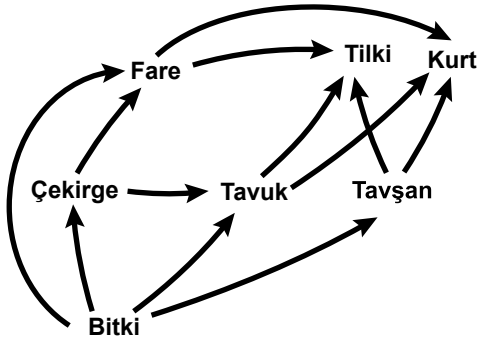
1. Bu testte 20 soru vardır.
2. Cevaplarınızı, cevap kağıdına işaretleyiniz.

1. Her iki ata (ebeveyn), yavru dölün genetik yapısına eşit katkıda bulunmasına rağmen yavru döl, atalarından birine, bir özellik bakımından daha çok benzerlik gösterebilir.

Böyle bir açıklamaya, aşağıdakilerden hangisi kanıt olarak gösterilebilir?

- A) Siyah renkli fare ile beyaz renkli farelerin gri renkli yavrularının olması
- B) Kıvrıkcık saçlı anne ve kıvrıkcık saçlı babanın kıvrıkcık saçlı çocuğunun olması
- C) Mavi gözlü anne ile kahverengi gözlü babanın, kahverengi gözlü çocuğunun olması
- D) Kulak memesi ayırık olan anne ve kulak memesi ayırık olan babanın, kulak memesi yapışık olan çocuğunun olması

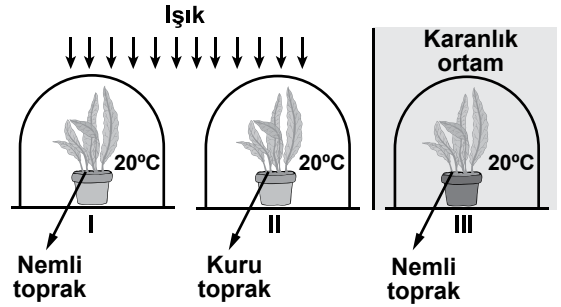
2. Şekilde bir besin ağında yer alan canlılar verilmiştir.



Bu besin ağında yer alan canlılardan hangileri enerji ihtiyacını sadece üretici canlılardan karşılar?

- A) Fare - Tavşan
- B) Çekirge - Tavuk
- C) Kurt - Tilki - Fare
- D) Tavşan - Çekirge

3. Bir öğrenci fotosentezi etkileyen faktörleri incelemek istiyor. Bunun için özdeş bitki ve cam fanusları kullanarak şekildeki düzenekleri hazırlıyor.



Öğrenci deney süresince aşağıdaki işlemlerden hangisini uygularsa amacına ulaşır?

- A) Işığın etkisini gözleyecekse I ve III'ü seçmelidir.
- B) Suyun etkisini gözleyecekse II ve III'ü seçmelidir.
- C) Sıcaklığın etkisini gözleyecekse her üçünü seçmelidir.
- D) Aynı anda sıcaklık ve suyun etkisini gözleyecekse II ve III'ü seçmelidir.

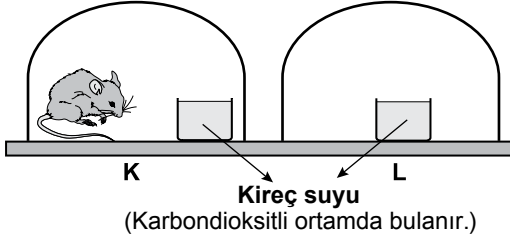
4. Selma, fotosentezle ilgili kavramları, fotosentez denklemi ile aşağıdaki gibi ilişkilendirmek istiyor.



Buna göre denklemdaki sembollerin yerine hangisinde verilenlerin yazılması uygun olur?

- | | | | |
|----|----------|----------|--------|
| | ▲ | ■ | ● |
| A) | Glikoz | ATP | Su |
| B) | Su | Klorofil | Glikoz |
| C) | Klorofil | Su | ATP |
| D) | Glikoz | Klorofil | Su |

5. Bir deney için şekildeki K ve L düzenekleri hazırlanıyor. (Düzeneklerdeki cam fanuslar ve kireç suları özdeştir.)



Bu düzeneklerde gözlem yapılıyor. Bir süre sonra, K düzenekindeki kireç suyunun bulandığı, L'de ise bulanmadığı gözleniyor.

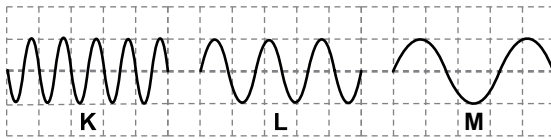
Bu deneydeki gözlemlere göre;

- I. Oksijenli solunum sonucu karbondiyoksit açığa çıktığı
- II. Kireç suyunun ortamdaki oksijeni arttırdığı
- III. Çevrede su olmadığında oksijenli solunumun gerçekleşmediği

durumlarından hangilerine karar verilebilir?

- A) Yalnız I B) I ve II
C) II ve III D) I, II ve III


6. Bir saniyede oluşan K, L ve M ses dalgalarının gösterimi şekildeki gibidir.



Buna göre, aşağıdakilerden hangisi doğrudur?

- A) Genliği en fazla olan K'dir.
B) Frekansı en fazla olan M'dir.
C) Ses yüksekliği en fazla olan K'dir.
D) Ses yüksekliği en az olan L'dir.

7. Şekildeki özdeş, su dolu ve boş şişelerin ağızlarına vurularak ve üflenerek farklı yükseklik ve şiddette sesler elde ediliyor.



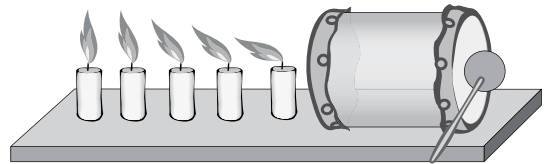
Buna göre,

- I. Şişelere aynı şekilde üflendiğinde ince ve kalın sesler çıkar.
- II. Şişelere eşit kuvvetle vurulduğunda kalın ve ince sesler çıkar.
- III. Şişelere eşit kuvvetle vurulduğunda su dolu şişeden, boş şişeye göre daha kalın ses çıkar.

yargılarından hangileri doğrudur?

- A) Yalnız I B) I ve II
C) II ve III D) I, II ve III

8. İçi boş karton bir borunun her iki ucuna balonlar geçirilerek bir davul yapılıyor. Davulun sağ tarafına vurulduğunda şekildeki gibi mum alevlerinin titreştiği gözlemleniyor.



Yalnızca bu gözlemlerden yararlanarak;

- I. Sesin bir enerji türü olduğu,
- II. Sesin farklı ortamlardaki hızlarının farklı olduğu,
- III. Ses düzeyinin, ses şiddetinden daima az olduğu

yargılarından hangilerine ulaşılabilir?

- A) Yalnız I B) I ve II
C) II ve III D) I, II ve III

13. Bir öğretmen laboratuvarında çeşitli çözeltilerden yararlanarak nötrleşme tepkimesini göstermek istiyor.

Belirteç	Asit	Baz
Turnusol kağıdı	Kırmızı	Mavi
Fenolftalein	Renksiz	Pembe

Bu amaçla öğretmen tabloda özellikleri verilen belirteçleri kullanarak aşağıdaki deneyleri yapıyor.

I. deney: Fenolftalein damlatıldığında pembe renk veren çözeltiyi aldım.

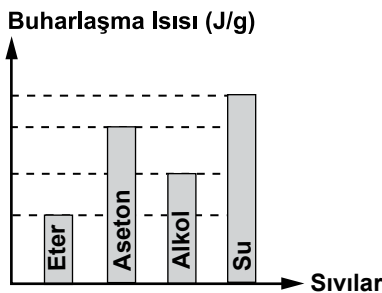
II. deney: - - - - .

III. deney: I. ve II. deneyde aldığım çözeltileri karıştırarak yalnızca tuz ve su elde ettim.

Buna göre öğretmen II. deneyde aşağıdakilerden hangisini yapmıştır?

- A) Fenolftalein damlatıldığında pembe renk veren başka bir çözeltiyi almıştır.
B) Kırmızı turnusol kağıdının rengini maviye çeviren çözeltiyi almıştır.
C) Aynı miktardaki iki baz çözeltisini karıştırıp elde ettiği çözeltiyi almıştır.
D) Mavi turnusol kağıdının rengini kırmızıya çeviren çözeltiyi almıştır.

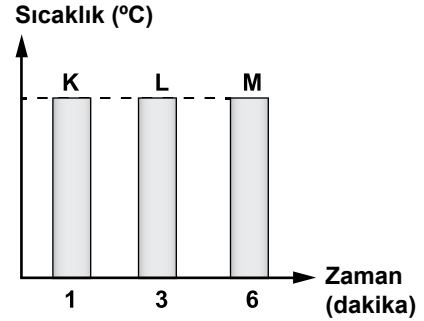
14. Aynı ortamda, kaynama sıcaklıklarında bulunan bazı sıvıların buharlaşma ısılarına ait grafik aşağıda verilmiştir.



Kütleleri eşit olan bu sıvılar, aynı anda özdeş ısıtıcılarla sürekli ısıtıldığında, hangisinin tamamı daha önce buharlaşır?

- A) Eter B) Aseton C) Alkol D) Su

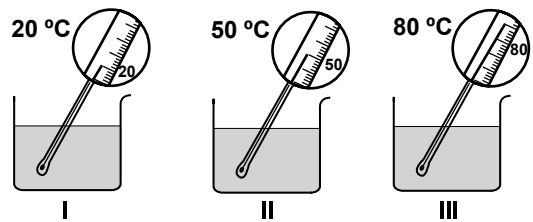
15. Aynı ortamda bulunan, ilk sıcaklıkları ve kütleleri aynı olan K, L ve M maddeleri özdeş ısıtıcılarla sürekli ısıtıldığında, son sıcaklıklarının eşit olması için geçen süre grafikte belirtilmiştir.



Buna göre aşağıdakilerden hangisine kesinlikle ulaşılabilir?

- A) Bu maddelerin öz ısıları farklıdır.
B) Maddeler eşit ısı enerjisi almıştır.
C) Üç madde de aynı cins maddedir.
D) En fazla buharlaşan L maddesidir.

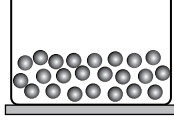
16. Şekildeki kaplara aynı miktarda, farklı sıcaklıkta su konulmuştur.



Buna göre aşağıdakilerden hangisi yapılırsa ısının akış yönü tespit edilemez?

- A) II ve III'teki sular karıştırılırsa
B) I ve II'deki sular karıştırılırsa
C) I ve III'teki sular karıştırılıp ısı alışverişi tamamlandıktan sonra II'deki suya eklenirse
D) I ve II'deki sular karıştırılıp ısı alışverişi tamamlandıktan sonra III'teki suya eklenirse

17. Şekilde etil alkolün fiziksel hâlini gösteren tanecik modeli verilmiştir.



Etil alkole uygulanan;

Birinci işlem sonucu, tanecikler arası çekim kuvveti artmıştır.

İkinci işlem sonucu, tanecikler arası mesafe artmıştır.

Buna göre, etil alkolün geçirdiği hâl değişimleri aşağıdakilerin hangisinde doğru verilmiştir?

	Birinci işlem	İkinci işlem
A)	Donma	Donma
B)	Donma	Kaynama
C)	Kaynama	Erime
D)	Kaynama	Yoğuşma

18. Erime sıcaklıklarında bulunan buz, demir ve kurşunun erime ısıları tabloda verilmiştir.

Madde	Erime ısısı (J/g)
Buz	334,4
Demir	117,04
Kurşun	22,57

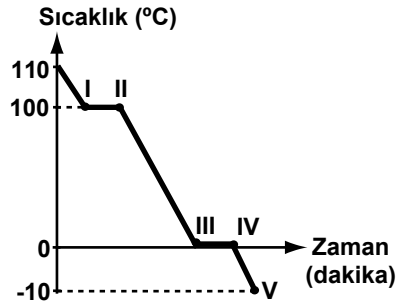
Tablodaki verilere göre aynı miktarda alınıp, özdeş kaplara konulan bu maddeler, sabit ısı veren özdeş ısıtıcılarla aynı anda sürekli ısıtılmaya başlanırsa aşağıdakilerden hangisi doğru olur?

- A) İlk önce buzun tamamı erir.
 B) Tamamının erime süresi en uzun olan madde buzdur.
 C) Tamamını eritmek için en fazla ısı kurşuna verilmelidir.
 D) Demir erimeye başladığında, kurşunda erime gözlenmez.

19. Bir öğrenci mekanik enerjinin, ısı enerjisine dönüşümünü deneyle göstermek istiyor. Bu öğrenci, aşağıdakilerden hangisini ölçerse amacına ulaşamaz?

- A) Bir kavanozdaki suyu sallamadan önce ve 15 dakika salladıktan sonraki sıcaklığını
 B) Ellerini birbirine sürtmeden önce ve hızla sürttükten sonraki sıcaklığını
 C) Biri sürekli duran ve diğeri yeni park etmiş iki aracın lastiklerinin sıcaklığını
 D) Ampülü yakmadan önce ve yaktıktan bir süre sonraki sıcaklığını

20. Bir öğrenci 110°C'teki su buharını kapalı kaptan soğutup -10°C'ta buz hâline getiriyor. Daha sonra bu olayı aşağıdaki grafikte gösteriyor.



Buna göre, grafikte verilen hangi noktalar arasında kaptan sadece su bulunur?

- A) I ve II
 B) II ve III
 C) III ve IV
 D) IV ve V

TEST BİTTİ.

CEVAPLARINIZI KONTROL EDİNİZ.

**30 NİSAN 2015 TARİHİNDE YAPILAN 8. SINIF 2. DÖNEM
FEN VE TEKNOLOJİ DERSİ MERKEZİ ORTAK SINAVI
“A” KİTAPÇIĞI CEVAP ANAHTARI**

FEN VE TEKNOLOJİ

1. C
2. D
3. A
4. B
5. A
6. C
7. D
8. A
9. C
10. D
11. B
12. C
13. D
14. A
15. A
16. C
17. B
18. B
19. D
20. B



A
KİTAPÇIK TÜRÜ

T.C.
MİLLÎ EĞİTİM BAKANLIĞI
ÖLÇME, DEĞERLENDİRME VE SINAV HİZMETLERİ GENEL MÜDÜRLÜĞÜ

8. SINIF 2. DÖNEM
T.C. İNKILAP TARİHİ VE ATATÜRKÇÜLÜK DERSİ
MERKEZİ ORTAK SINAVI
30 NİSAN 2015 Saat: 10.10

Adı ve Soyadı :
Sınıfı :
Öğrenci Numarası :

SORU SAYISI : 20
SINAV SÜRESİ : 40 Dakika

ÖĞRENCİLERİN DİKKATİNE!

1. Sınıf öğrenci yoklama listesinde belirtilen sınıfta ve sıra numarasında oturunuz.
2. Cevap kâğıdındaki kimlik bilgilerinin doğruluğunu kontrol ediniz.
3. Kitapçık türünü cevap kâğıdındaki ilgili alana kodlayınız.
4. Cevap kâğıdı üzerindeki kodlamaları kurşun kalemle yapınız.

SINAV BAŞLAMADAN ÖNCE
KİTAPÇIĞIN ARKA KAPAĞINDAKİ UYARILARI MUTLAKA OKUYUNUZ.

T.C. İNKILAP TARİHİ VE ATATÜRKÇÜLÜK

1. Bu testte 20 soru vardır.
2. Cevaplarınızı, cevap kağıdına işaretleyiniz.

1. Kurtuluş Savaşı sırasında Ankara'da I. Maarif Kongresi'nin toplanması, aşağıdakilerden hangisine önem verildiğini gösterir?

- A) Orduya
B) Sağlığa
C) Eğitime
D) Ekonomiye

- 2.** Mustafa Kemal 7- 8 Ağustos 1921'de ordunun ihtiyaçlarını karşılamak için Tekâlif-i Milliye Emirleri'ni yayımladı. Halkımız tüm yoksulluğuna rağmen Tekâlif-i Milliye Emirleri'ne uymuş ve Millî Mücadele'nin kazanılmasına büyük katkı sağlamıştır.

Bu durum Türk milletinin;

- I. Millî birlik ve beraberlik
II. Millî egemenlik
III. Dayanışma
IV. Fedakârlık

anlayışlarından hangilerine sahip olduğunu gösterir?

- A) I ve II
B) II ve IV
C) I, II ve III
D) I, III ve IV

3.

Olay	Sonuç
Sakarya Savaşı'nın kazanılması	Ankara ve Kars antlaşmalarının imzalanması
Büyük Taarruz'un kazanılması	Mudanya Ateşkes Antlaşması'nın imzalanması

Yukarıda verilen olaylar ve sonuçları dikkate alındığında çıkarılabilecek ortak sonuç, aşağıdakilerden hangisidir?

- A) Askerî zaferler, siyasi başarıları da beraberinde getirmiştir.
B) Zaferlerin kazanılmasında Mustafa Kemal'in önemli bir rolü vardır.
C) Türk halkı bu savaşlarda topyekûn mücadele vermiştir.
D) Kurtuluş Savaşı'nın askerî safhası sona ermiştir.

4.

- Halide Edip Adıvar, Millî Mücadele'de yaralanan Peyami adlı bir kişinin Cebeci Hastanesinde yazdığı hatıralarını "Ateşten Gömlek" adlı romanında işlemiştir.
- Kurtuluş Savaşı'nda Türk milletinin kadını, yaşlısı ve çocuğuyla cephede savaşan ordusuna destek olması, Yakup Kadri Karaosmanoğlu'nun "Ankara" adlı romanına konu olmuştur.

Verilen durumlar, aşağıdakilerden hangisine bir örnektir?

- A) Toplum hayatında kadının rolüne
B) Savaşların kültürel etkileşime katkısına
C) Millî Mücadele'nin ekonomik sonuçlarına
D) Toplumsal olayların edebiyata yansımalarına

5. Lozan Barış Antlaşması'nın aşağıdaki kararlarından hangisi, ülkede birlik ve beraberliği sağlamaya yöneliktir?

- A) Kapitülasyonlar kaldırılacaktır.
- B) Tüm azınlıklar Türk vatandaşı kabul edilecektir.
- C) Boğazlar, başkanı Türk olan bir komisyon tarafından yönetilecektir.
- D) Türkiye ile Yunanistan arasında Meriç Nehri sınır olacaktır.

6. İzmir İktisat Kongresi'nde ham maddesi yurt içinde yetişen ve yetiştirilen sanayi dallarının kurulmasına karar verilmiştir.

Bu karar ile aşağıdakilerden hangisi amaçlanmış olabilir?

- A) İthalatı artırmak
- B) Tarımsal üretime öncelik vermek
- C) Özel sektörün gelişmesini sağlamak
- D) Ekonomide dışa bağımlılığı azaltmak

7. "Ankara susuzdu, ağaçsızdı, kuru ve yabaniydi. Fakat Büyük Millet Meclisi orada kurulmuş, orada toplanmış, bütün savaş oradan idare edilmişti. Yeni idarenin milletlerarası edebiyatta adı "Ankara Hükûmeti"ydi."

(Falih Rıfkı Atay)

Falih Rıfkı Atay, Ankara'nın başkent olma gerekliliğini aşağıdakilerden hangisine bağlamaktadır?

- A) Güvenli bir şehir olmasına
- B) Coğrafi konumunun uygunluğuna
- C) Kurtuluş Savaşı'nın buradan yönetilmesine
- D) Ulaşım imkânlarının elverişliliğine

8. Mustafa Kemal, 16 Temmuz 1921 tarihinde Ankara'da Maarif Kongresi'ni açarken yaptığı konuşmada; toplumun eğitim ve kültür konularındaki bölünmüşlüğü'nün ortadan kaldırılması gerektiğine dikkat çekmiştir.

Aşağıdakilerden hangisi, Mustafa Kemal'in bu düşüncesi doğrultusunda yapılan bir yeniliktir?

- A) Tevhid-i Tedrisat Kanunu'nun kabulü
- B) Türk Tarih Kurumunun kurulması
- C) Soyadı Kanunu'nun çıkarılması
- D) Latin harflerinin kabul edilmesi

9. Türk Millî Eğitim Sistemi'nin aşağıdaki esaslarından hangisi sosyal devlet anlayışını yansıtmaktadır?

- A) Eğitim sistemi laiktir ve millî kültür birliğini sağlamayı amaçlar.
- B) Öğretim programları çağın gereklerine uygundur.
- C) İlköğretim parasız ve zorunludur.
- D) Karma eğitim esastır.

10. 1925 yılında doğu illerinde Şeyh Said önderliğinde cumhuriyet ve inkılaplara karşı büyük bir isyan çıkmıştır. İsyanı bastırmak için Takrir-i Sükûn Kanunu çıkarılarak bölgede sıkıyönetim ilan edilmiş, özgürlükler kısıtlanmıştır. Güçlülükle bastırılan bu isyan neticesinde isyanda rolü olduğu gerekçesi ile Terakkiperver Cumhuriyet Fırkası kapatılmıştır. Böylece ilk çok partili hayata geçiş denemesi başarısız olmuş, ülke milletlerarası alanda zarar görmüş, Musul Meselesi aleyhimize sonuçlanmıştır.

Verilen bilgilere göre Şeyh Said İsyanı aşağıdakilerden hangisini etkilememiştir?

- A) Boğazların statüsünü
- B) Hak ve hürriyetleri
- C) Dış politikayı
- D) Demokrasiyi

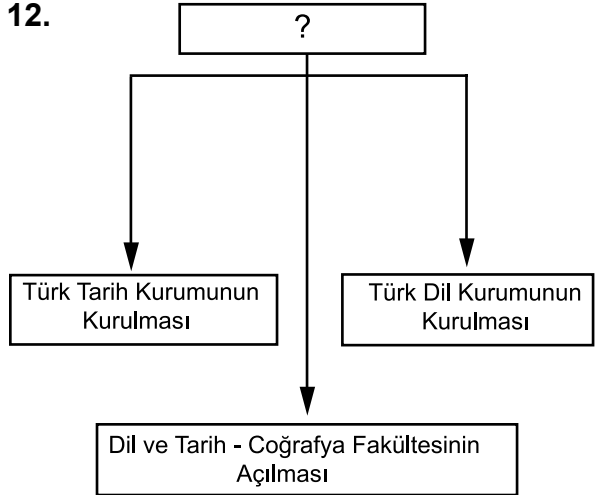
11. "Girişimin benim şahsımdan ziyade mukaddes cumhuriyetimize ve onun dayandığı yüksek ilkelerimize yönelmiş bulunduğu şüphe yoktur. Benim naçiz vücudum bir gün elbet toprak olacaktır. Fakat Türkiye Cumhuriyeti ilelebet payidar kalacaktır."

(ATATÜRK)

Atatürk bu sözlerle İzmir suikastının aşağıdakilerden hangisine yönelik olduğunu vurgulamıştır?

- A) Halifeliğe
- B) Türk ordusuna
- C) Ekonomik yatırımlara
- D) Cumhuriyet değerlerine

12.



Yukarıdaki şemada Cumhuriyet Dönemi'nde yapılan inkılaplardan bazıları verilmiştir. Şemada soru işareti (?) ile gösterilen yere, başlık olarak aşağıdakilerden hangisi getirilmelidir?

- A) Siyasi Alanda Yapılan İnkılaplar
- B) Kültürel Alanda Yapılan İnkılaplar
- C) Toplumsal Alanda Yapılan İnkılaplar
- D) Ekonomik Alanda Yapılan İnkılaplar

13. "Türkiye'nin uyguladığı devletçilik sistemi, Türkiye'nin ihtiyaçlarından doğmuş, Türkiye'ye özgü bir sistemdir."

(ATATÜRK)

Atatürk bu sözüyle devletçilik ilkesinin hangi yönüne vurgu yapmaktadır?

- A) Ulusal B) Evrensel
C) Bilimsel D) Kişisel

14. Atatürkçü Düşünce Sistemi dogmalara dayanmaz. Kaynağını akıl ve bilimden alır. Gelişmelere ve yeniliklere açıktır, çağa ayak uydurur.

Bu bilgilerde Atatürkçülüğün hangi özelliği vurgulanmıştır?

- A) Halkçı B) Millî
C) Dinamik D) Barışçı

15. Atatürk'ün düşünce sistemindeki siyasi güç kavramı, her şeyden önce millet iradesine dayanır. Ona göre güçlü bir devlet olmanın temel şartı, gücünü halktan alan bir yönetimdir.

Buna göre aşağıdakilerden hangisi, siyasi gücü geliştirmeye yönelik değildir?

- A) Cumhuriyetin ilanı
B) TBMM'nin açılması
C) Saltanatın kaldırılması
D) Türk Medeni Kanunu'nun kabulü

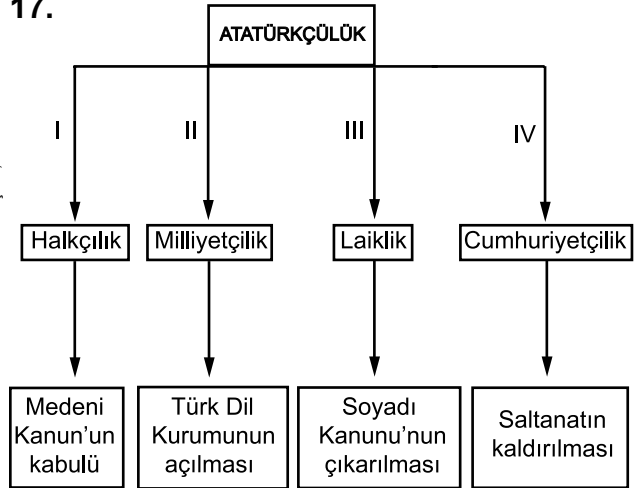
16. • Kabotaj Kanunu'nun kabul edilmesi
• Yabancı okulların Maarif Bakanlığına bağlanması

Bu uygulamalar, Atatürk ilkelerinden hangisine göre hareket edildiğinin göstergesidir?

- A) Cumhuriyetçilik
B) Milliyetçilik
C) Halkçılık
D) Laiklik

ÖLÇME, DEĞERLENDİRME VE SINAV HİZMETLERİ GENEL MÜDÜRLÜĞÜ

17.



Yukarıdaki kavram şemasında Atatürk ilke ve inkılaplarından bazıları eşleştirilmiştir. Bu eşleştirmelerden hangisi yanlıştır?

- A) I B) II C) III D) IV

18. 8/A sınıfı öğrencisi Meryem, evlerinin bulunduğu mahallede gezerken, mahallelerinde cami, kilise ve havra gibi ibadet yerlerinin olduğunu görür.

Meryem'in gördüğü bu durum, aşağıdaki Atatürk ilkelerinden hangisiyle ilişkilendirilebilir?

- A) Cumhuriyetçilik
- B) Milliyetçilik
- C) Devletçilik
- D) Laiklik

19. “Efendiler! Bütün dünyanın bilmesi gerekir ki Türkiye halkı, Türkiye Büyük Millet Meclisi ve onun hükümeti uşak gibi davranılmayı kaldırmaz.”

(ATATÜRK)

Atatürk'ün bu sözünden Atatürk ilkelerinin dayandığı temel esaslardan hangisi çıkarılabilir?

- A) Millî tarih bilinci
- B) Bağımsızlık ve özgürlük
- C) Millî birlik ve beraberlik
- D) Vatan ve millet sevgisi

20. Kurtuluş Savaşı, mazlum milletler olarak anılan Mısır başta olmak üzere Kuzey Afrika ülkeleri ve Güney Doğu Asya'da yaşayan milletler arasında milliyetçilik akımlarını güçlendirmiş ve onların bağımsızlık mücadelesine başlamalarında etkili olmuştur.

Buna göre aşağıdaki yargılardan hangisine ulaşılabilir?

- A) Türkiye, mazlum milletlere askerî yardımda bulunmuştur.
- B) Türk Millî Mücadelesi mazlum milletlere örnek olmuştur.
- C) Türkiye, mazlum milletlerle birlikte mücadele etmiştir.
- D) Mazlum milletler, Atatürk inkılaplarını kendilerine ilke edinmişlerdir.

TEST BİTTİ.

CEVAPLARINIZI KONTROL EDİNİZ.

**30 NİSAN 2015 TARİHİNDE YAPILAN 8. SINIF 2. DÖNEM
T.C İNKILAP TARİHİ VE ATATÜRKÇÜLÜK DERSİ MERKEZİ ORTAK SINAVI
“A” KİTAPÇIĞI CEVAP ANAHTARI**

T.C İNKILAP TARİHİ VE ATATÜRKÇÜLÜK

1. C
2. D
3. A
4. D
5. B
6. D
7. C
8. A
9. C
10. A
11. D
12. B
13. A
14. C
15. D
16. B
17. C
18. D
19. B
20. B



A
KİTAPÇIK TÜRÜ

T.C.
MİLLÎ EĞİTİM BAKANLIĞI
ÖLÇME, DEĞERLENDİRME VE SINAV HİZMETLERİ GENEL MÜDÜRLÜĞÜ

8. SINIF 2. DÖNEM
DİN KÜLTÜRÜ VE AHLAK BİLGİSİ DERSİ
MERKEZİ ORTAK SINAVI
29 NİSAN 2015 Saat: 11.20

Adı ve Soyadı :
Sınıfı :
Öğrenci Numarası :

SORU SAYISI : 20
SINAV SÜRESİ : 40 Dakika

ÖĞRENCİLERİN DİKKATİNE!

1. Sınıf öğrenci yoklama listesinde belirtilen sınıfta ve sıra numarasında oturunuz.
2. Cevap kâğıdındaki kimlik bilgilerinin doğruluğunu kontrol ediniz.
3. Kitapçık türünü cevap kâğıdındaki ilgili alana kodlayınız.
4. Cevap kâğıdı üzerindeki kodlamaları kurşun kalemle yapınız.

SINAV BAŞLAMADAN ÖNCE
KİTAPÇIĞIN ARKA KAPAĞINDAKİ UYARILARI MUTLAKA OKUYUNUZ.

DİN KÜLTÜRÜ VE AHLAK BİLGİSİ

1. Bu testte 20 soru vardır.
2. Cevaplarınızı, cevap kağıdına işaretleyiniz.

1. Bir gün Yahudilerden Yesâr isimli bir çoban, Hz. Muhammed'e (sav.) geldi. Bir süre sohbet ettikten sonra İslam'ı kabul ederek Müslümanlara katılmak istedi. Ancak Peygamber Efendimiz, önce otlatmakta olduğu koyunları sahiplerine iade etmesini ve ondan sonra kendilerine katılmasını söyledi.

Bu olay Hz. Muhammed (sav.)'in aşağıdakilerden hangisine önem verdiğini göstermektedir?

- A) Emanetin önemine
- B) Çobanlık mesleğine
- C) Savaşın önlenmesine
- D) Müslüman olmanın faziletine

2. Aşağıdakilerden hangisi kötü alışkanlıkların önlenmesi için bir çözüm yolu olamaz?

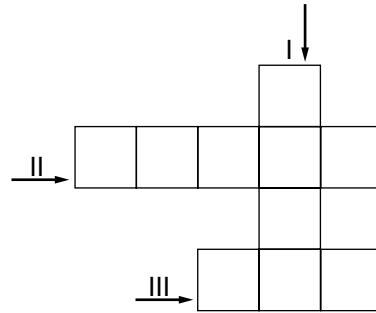
- A) Çocuklara küçük yaştan itibaren iyi eğitim vermek
- B) Sorumlulukları düzgün şekilde yerine getirmek
- C) Kötü alışkanlığı olan insanları toplumdan dışlayıp uzaklaştırmak
- D) Arkadaş seçerken onların güzel ahlaklı olmasına dikkat etmek

3. Hinduizm ve Budizm'de ruhların ölümsüz olduğu ve öldükten sonra ruhların bir bedenden başka bir bedene geçerek yaşadığına inanılır.

Bu cümlede tanımlanan kavram aşağıdakilerden hangisidir?

- A) Kast
- B) Nirvana
- C) Dhamma
- D) Reenkarnasyon

4.



- I. Sa'y ibadetinin yapıldığı tepelerden biri
- II. Hac ve umre için Mekke çevresinde ihrama girme zorunluluğu olan sınır
- III. Hem mal hem de bedenen yapılan ibadetlerden biri

Bulmaca her kutuya bir harf gelecek şekilde tamamlandığında, II numaralı alana aşağıdakilerden hangisi gelmelidir?

- A) İhram
- B) Mikat
- C) Tavaf
- D) Haram

A	B
<u>Hadis-i Şerifler</u>	<u>Özellikler</u>
<ul style="list-style-type: none"> Hiç kimse kendi emeği ile kazanmadığından daha hayırlı bir lokma yememiştir. Merhamet etmeye Allah da merhamet etmez. Bir millet işlerini danışma ile yürüttüğü sürece sıkıntıya düşmez. 	<ul style="list-style-type: none"> I. Sabırlı ve cesaretliydi. II. Danışarak iş yapardı. III. Merhametli, hoşgörülü ve affediciydi. IV. Çalışmayı sever, zamanı iyi değerlendirirdi.

A tablosundaki hadisler ile B tablosundaki Hz. Peygamber'in özellikleri eşleştirildiğinde hangi özellik dışarıda kalır?

- A) I. B) II.
C) III. D) IV.

MEKÂNLAR	GEREKLİLİKLER
<ul style="list-style-type: none"> Kâbe Arafat Safa - Merve 	<ul style="list-style-type: none"> Tavaf yapılır. Kurban kesilir. Vakfe yapılır. Sa'y yapılır.

Yukarıdaki tablolarda haccın mekanları ve gereklilikleri verilmiştir. Burada verilenler eşleştirildiğinde hangisi dışarıda kalır?

- A) Tavaf yapılır. B) Sa'y yapılır.
C) Vakfe yapılır. D) Kurban kesilir.

I.	Biz onun için iki göz, bir dil ve iki kulak var etmedik mi? (Beled suresi, 8-9. ayetler)	Duyu
II.	... Şüphesiz bütün bunlarda düşünen bir toplum için ibretler vardır. (Ra'd suresi, 3. ayet)	Akıl
III.	Biz sana bu Kur'an'ı vahyetmekle geçmiş milletlerin haberlerini en güzel bir şekilde anlatıyoruz. (Yusuf suresi, 3. ayet)	Vahiy
IV.	Sana bu mübarek Kitap'ı ayetlerini düşünsünler ve akıllı olanlar öğüt alsınlar diye indirdik. (Sâd suresi, 29. ayet)	Duyu

Bu tabloda verilen ayetler ile Kur'an'da işaretilen bilgi edinme yollarından hangisi yanlış eşleştirilmiştir?

- A) I. B) II.
C) III. D) IV.

8. sınıf öğrencisi Ertuğrul, sınav sonuçlarını dikkate alarak kendine uygun lise tercihi bulmak amacıyla ailesi ve okuluyla görüş alışverişinde bulunmuştur.

Buna göre Ertuğrul, Peygamber Efendimizin hangi kişilik özelliğini daha çok örnek almıştır?

- A) Kararlı olmasını
B) Danışarak iş yapmasını
C) İnsanlara değer vermesini
D) Zamanı iyi değerlendirmesini

9. Aşağıdakilerden hangisi kul hakkını ihlal eden davranışlardan biridir?

- A) Trafik kurallarına uymak
- B) Kamu mallarını korumak
- C) Komşularla iyi geçinmek
- D) Kaçak elektrik kullanmak

10. Yoluna gücü yetenlerin o evi haccetmesi Allah'ın insanlar üzerinde bir hakkıdır...
(Âl-i İmrân suresi, 97. ayet)

Bu ayette yer alan "yoluna gücü yetenlerin" ifadesi ile aşağıdakilerden hangisine ulaşılamaz?

- A) Erkek olmak
- B) Zengin olmak
- C) Sağlıklı olmak
- D) Akıllı ve ergen olmak

11. Aşağıdakilerden hangisi Kur'an'ın doğru bilgiyi teşvik ettiğini gösteren ayetlerdendir?

- A) ... Kendi ellerinizle kendinizi tehlikeye atmayın...
(Bakara suresi, 195. ayet)
- B) Rabb'imiz Allah'tır, deyip sonra da dosdoğru yaşayanlara korku yoktur.
(Ahkâf suresi, 13. ayet)
- C) Ey iman edenler! Eğer bir fasık size bir haber getirirse onun doğruluğunu araştırın. Yoksa bilmeden bir topluluğa kötülük edersiniz...
(Hucurât suresi, 6. ayet)
- D) İyilikle kötülük bir olmaz, sen (kötülüğü) en güzel bir şekilde önle. O zaman seninle arasında düşmanlık bulunan kimse, sanki candan bir dost olur.
(Fussilet suresi, 34. ayet)

12. Selçuklu ve Osmanlı toplumlarında hayvanların tedavisi için vakıflar kurulmuş, kuş evleri ve yabani hayvan barınakları yapılmıştır.

Aşağıdaki hadislerden hangisi Selçuklu ve Osmanlı toplumlarını bu şekilde davranmaya yönlendirmiştir?

- A) Yer ve gökler adaletle ayakta durmaktadır.
- B) Her can taşıyan varlığa yapılan iyilikte sevap vardır.
- C) Güçsüzün incindiği ve hakkını alamadığı bir toplum yücelemez.
- D) Sizden biriniz bir iş yaptığı zaman, onu en güzel şekilde yapın.

13.



Kumar oynamanın bireysel ve toplumsal zararları ile ilgili hangi öğrencinin değerlendirmesi yanlıştır?

- A) Hasan B) Müzeyyen
C) Mustafa D) Hatice

14. Pazarda, portakal tezgahında iyi portakalların öne, kötülerin ise arkaya dizildiğini gören Mehmet: "Acaba bunlar Peygamber Efendimizin hadisini bilmiyorlar mı?" diye düşünmüştür.

Mehmet, Hz. Peygamber'in hangi hadisini hatırlamıştır?

- A) Bizi aldatan bizden değildir.
B) Verilen söz, sorumluluk gerektirir.
C) İlim öğreniniz ve onu insanlara öğretiniz.
D) Hiç kimse kendi emeği ile kazandığından daha hayırlı bir lokma yememiştir.

15.

Kur'an-ı Kerim kötü alışkanlıkların yasaklanma nedenlerini ele alarak inananlara öğütler vermektedir.

Bu duruma örnek olabilecek ayet aşağıdaki seçeneklerin hangisinde yer almaktadır?

- A) Ey iman edenler! Allah'a karşı gelmekten sakının ve doğrularla beraber olun.
(Tevbe suresi, 119. ayet)
- B) Ey iman edenler! Allah'ın size helal kıldığı iyi ve temiz nimetleri (kendinize) haram etmeyin ve (Allah'ın koyduğu) sınırları aşmayın.
(Mâide suresi, 87. ayet)
- C) Şeytan, içki ve kumarla ancak aranızda düşmanlık ve kin sokmak, sizi Allah'ı anmaktan ve namazdan alıkoymak ister. Artık vazgeçiyor musunuz?
(Mâide suresi, 91. ayet)
- D) Allah'ın sana verdiği şeylerde ahiret yurdunu ara. Dünyadan da nasibini unutma. Allah'ın sana iyilik yaptığı gibi sen de iyilik yap ve yeryüzünde bozgunculuk isteme. Çünkü Allah, bozguncuları sevmez.
(Kasas suresi, 77. ayet)

- 16.**
- İnsanın ön yargılı olmasına neden olur.
 - İnsanlar arasında sevgi ve hoşgörüyü engeller.
 - Kişiyi kendini geliştirmekten uzaklaştırır.
 - Farklı inanç ve görüşlere tahammülsüzlük doğurur.
 - İlerlemeye ve yenilikleri kabullenmeye engeldir.

Verilen bilgiler aşağıdakilerden hangisinin sonuçlarındandır?

- A) Basiret
B) Taassup
C) Tevekkül
D) Sorgulama

17. Hz. Muhammed (sav.), çocukları çok sevdi. Çocuklar, O'nun sohbetini dinlemek için mescide gelirlerdi. Bir gün çocuklardan birinin olmadığını fark eden Hz. Muhammed (sav.), onun neden gelmediğini sordu. Çocuklar, çok sevdiği kuşu öldüğü için üzüntüsünden gelmediğini söylediler. Çocuğu ziyarete giden Hz. Muhammed (sav.): "Başın sağolsun, kuşun ölmüş." diyerek onu teselli etti.

Anlatılan olayda Peygamber Efendimizin hangi özelliği ön plana çıkmaktadır?

- A) Güvenilir olması
- B) Hoşgörülü olması
- C) Hayvanları sevmesi
- D) İnsanlara değer vermesi

18. Bir ankette "Boş zamanlarınızı nasıl değerlendirirsiniz?" sorusuna katılımcıların cevapları şu şekildedir:

- % 5 - Kitap okurum.
- % 15 - Gezmeye çıkarım.
- % 30 - Hiçbir şey yapmam.
- % 50 - Televizyon izlerim.

Verilen cevaplara bakıldığında katılımcıların çoğunluğunun Peygamber Efendimizin hangi hadisini örnek almadıkları söylenebilir?

- A) Bir baba evladına güzel ahlaktan daha üstün bir miras bırakamaz.
- B) Ben beddua etmek için gönderilmedim, yalnız rahmet için gönderildim.
- C) Ölümden önce hayatın, yaşlılıktan önce gençliğin, meşguliyetten önce boş zamanın kıymetini bilin.
- D) Merhamet etmeyene merhamet edilmez. Allah, sizin kalbinizden merhameti çıkardıysa ben ne yapabilirim.

19. Esmâ eve giderken yolda bir simit aldı. Simidi tam yiyeceği sırada her halinden aç ve ihtiyaç sahibi olduğu belli olan ihtiyar bir kadının kendisini izlediğini fark etti. Bunun üzerine kendisi aç olduğu halde elindeki simidi ona verdi.

Esmâ'yı bu şekilde davranmaya daha çok yönlendiren ayet aşağıdakilerden hangisidir?

- A) O takva sahipleri ki bollukta da darlıkta da Allah için harcarlar.
(Â-i İmrân suresi, 134. ayet)
- B) Siz hayır olarak ne harcarsanız Allah onun yerine yenisini verir.
(Sebe suresi, 39. ayet)
- C) Onlar, kendi canları çekmesine rağmen yemeği yoksula, yetime ve esire yedirirler.
(İnsan suresi, 8. ayet)
- D) Ey İman edenler... Başa kakmak ve incitmek suretiyle yaptığınız hayırları boşa çıkarmayın, ...
(Bakara suresi, 264. ayet)

20. I. Hz. İbrahim ve oğlu İsmail arasında geçen olayı hatırlatır.
II. Kardeşlik ve paylaşma duygularını geliştirir.
III. Zengin ile fakir arasındaki bağları güçlendirir.
IV. Allah'a olan bağlılığı artırır.

Yukarıdakilerden hangileri kurbanın sosyal dayanışma ve yardımlaşma yönünü ifade etmektedir?

- A) I. ve II.
- B) II. ve III.
- C) III. ve IV.
- D) II. ve IV.

**TEST BİTTİ.
CEVAPLARINIZI KONTROL EDİNİZ.**

**29 NİSAN 2015 TARİHİNDE YAPILAN 8. SINIF II. DÖNEM
DİN KÜLTÜRÜ VE AHLAK BİLGİSİ DERSİ MERKEZİ ORTAK SINAVI
“A” KİTAPÇIĞI CEVAP ANAHTARI**

DİN KÜLTÜRÜ VE AHLAK BİLGİSİ

1. A
2. C
3. D
4. B
5. A
6. D
7. D
8. B
9. D
10. A
11. C
12. B
13. C
14. A
15. C
16. B
17. D
18. C
19. C
20. B



A
KİTAPÇIK TÜRÜ

T.C.
MİLLÎ EĞİTİM BAKANLIĞI
ÖLÇME, DEĞERLENDİRME VE SINAV HİZMETLERİ GENEL MÜDÜRLÜĞÜ

8. SINIF 2. DÖNEM
İNGİLİZCE DERSİ
MERKEZİ ORTAK SINAVI
30 NİSAN 2015 Saat: 11.20

Adı ve Soyadı :
Sınıfı :
Öğrenci Numarası :

SORU SAYISI : 20
SINAV SÜRESİ : 40 Dakika

ÖĞRENCİLERİN DİKKATİNE!

1. Sınıf öğrenci yoklama listesinde belirtilen sınıfta ve sıra numarasında oturunuz.
2. Cevap kâğıdındaki kimlik bilgilerinin doğruluğunu kontrol ediniz.
3. Kitapçık türünü cevap kâğıdındaki ilgili alana kodlayınız.
4. Cevap kâğıdı üzerindeki kodlamaları kurşun kalemle yapınız.

SINAV BAŞLAMADAN ÖNCE
KİTAPÇIĞIN ARKA KAPAĞINDAKİ UYARILARI MUTLAKA OKUYUNUZ.

İNGİLİZCE

1. Bu testte 20 soru vardır.
2. Cevaplarınızı, cevap kağıdına işaretleyiniz.

1 - 12. sorularda boş bırakılan yere uygun gelen kelime ya da ifadeyi işaretleyiniz.

1. Ali : What is Doğa like?

Mike : I think she is very - - - - .

She is always there when you need some help.

- A) successful B) funny
C) charming D) supportive

2. Ethan : I've decided to be a vet.

Dean : - - - - . You are afraid of animals.

- A) I hope so B) That's weird
C) I agree D) That's true

3. Ayla : I'll use some pills to lose weight.

Bill : - - - - ! They're very harmful to your health.

- A) Don't worry B) Don't do that
C) Interesting D) Thank God

4. Rose : Hey, Tom. You borrowed my dictionary last week but you haven't given it back yet!

Tom : - - - - . I'll bring it tomorrow.

- A) I'm really sorry
B) I'm afraid of it
C) I feel excited
D) I trust you

5. Wife : The dishes are not clean. I must do the washing up.

Husband : I've already done it.

Wife : Really? - - - - You're so sweet, dear.

- A) It's so bad. B) Yes, please!
C) Thanks a lot. D) Never mind!

6. Olivia : - - - - ?

Amy : Of course. I love cooking.

- A) Would you like to eat out
B) Do you like tea or coffee
C) Can you clean the room for me
D) Will you help me prepare the dinner



7. **Jane** : İstanbul is the most fascinating city I've ever visited.

Sue : Really? - - - - ?

Jane : For two months. It has lots of beauties.

- A) Where did you go in Turkey
- B) How long have you been there
- C) How many places will you visit
- D) What's your hometown famous for

8. **Ayşe** : - - - - ?

Jamie : He entered the Military Academy.

- A) What did Atatürk do in 1899
- B) Where did Atatürk die in 1938
- C) How did Atatürk go to Samsun
- D) When did Atatürk finish high school

9. **Laura** : I want to enter the conservatory.

Lena : - - - - ?

Laura : Yes because I like playing instruments. I've already started practising.

- A) Do you want to earn a lot of money
- B) Do you always make a list of priorities
- C) Do you mean you want to be a musician
- D) Do you think you need time to be courageous

10. **Mary Sanders** was a successful artist. Before she died, - - - - .

- A) she should do practice
- B) she had better take photos
- C) she has won several awards
- D) she could draw many pictures

11. I want a well paid job because - - - - .

- A) I need to earn enough money to pay my bills
- B) a good salary is not very important for me
- C) education is necessary for a good career
- D) there is a lot of competition in that area

12. - - - - . Her dream is to take part in ballet shows.

- A) Mel always helps street animals and feeds them
- B) Laura always tried hard to do some sports
- C) Amy is always willing to cure fatal illnesses
- D) Jennifer has always wanted to be a dancer

13.



While I was looking out of the window, - - - - .

Bu resme göre boş bırakılan yere aşağıdakilerden hangisi gelmelidir?

- A) the detective was investigating the murder
- B) the thieves were going into the building
- C) the murderer killed the witnesses
- D) the police arrested the criminals

14.




CEM AKMAN

- started primary school in 1972.
- finished university in 1987.
- started doing PhD at Berlin University in 1993.
- started working at Ankara University in 2002.

When did Cem Akman graduate from university?

- A) 1987
- B) 1972
- C) 1993
- D) 2002

15.



Bu görsellere göre doğru olarak ifade edilen eylem hangi seçenektir?


- A) I have made the bed.
- B) I haven't done the laundry.
- C) I have taken the rubbish out.
- D) I haven't done the shopping.

16. I. Their stepmother didn't want the kids at home.
 II. Once upon a time, there were two kids called Hansel and Gretel.
 III. Their mother died and their father married again.
 IV. So, their father took the kids to the forest and left them alone.

Bu cümlelerin anlamlı bir şekilde sıralanışı hangi seçenekte doğru olarak verilmiştir?

- A) III - I - IV - II B) II - III - I - IV
 C) III - IV - II - I D) II - IV - III - I

17.



John: I can do anything to be successful.
 Mary: I always keep my words.
 Tom: I like spending money for my friends.
 Cindy: I always keep my room neat.

Yukarıda verilen bilgilere göre hangi tanımlama yanlıştır?

- A) Cindy: messy B) Mary: reliable
 C) Tom: generous D) John: ambitious

18 - 19 - 20. soruları aşağıda verilen metne göre cevaplayınız.

The teacher gave a questionnaire to the students about their strengths and weaknesses. Here are the results:

0-20 POINTS: You're very indecisive and too anxious about your future. You don't enjoy spending time with friends.

21-40 POINTS: You're kind and tactful. You always cheer your friends up. You're very friendly. People think you're quite loyal.

41-60 POINTS: You're a natural leader. You're very considerate so your family and friends always admire you.

18. The students between 0 and 20 points are - - - - .

- A) cautious about danger
 B) happy with their friends
 C) bad at making decisions
 D) confident about the future

19. The students between 21 and 40 points - - - - .

- A) treat friends badly
 B) get on well with friends
 C) usually behave selfishly
 D) generally seem dishonest

20. The students between 41 and 60 points are - - - - .

- A) practical B) supportive
 C) loyal D) thoughtful

TEST BİTTİ.

CEVAPLARINIZI KONTROL EDİNİZ.

**29 NİSAN 2015 TARİHİNDE YAPILAN 8. SINIF II. DÖNEM
İNGİLİZCE DERSİ MERKEZİ ORTAK SINAVI
“A” KİTAPÇIĞI CEVAP ANAHTARI**

İNGİLİZCE

1. D
2. B
3. B
4. A
5. C
6. D
7. B
8. A
9. C
10. D
11. A
12. D
13. B
14. A
15. C
16. B
17. A
18. C
19. B
20. D