



T.C.
MİLLÎ EĞİTİM BAKANLIĞI

A

KİTAPÇIK TÜRÜ

8. SINIF I. DÖNEM
TÜRKÇE DERSİ
ORTAK (MAZERET) SINAVI
13 ARALIK 2014 Saat: 09.00

Adı ve Soyadı :
Sınıfı :
Öğrenci Numarası :

ÖĞRENCİLERİN DİKKATİNE!

1. Sınıf öğrenci yoklama listesinde belirtilen sınıfta ve sıra numarasında oturmanız gerektiğinden durumunuzu kontrol ediniz.
2. Bu sınavda cevaplayacağınız soru sayısı 20, sınav süreniz 40 dakikadır.
3. Sınav süresince dışarı çıkılmayacaktır.
4. Sınav sırasında sözlük, hesap makinesi, saat fonksiyonu dışında özellikleri bulunan saat veya çağrı cihazı, cep telefonu, telsiz, radyo ve bilgisayar özelliği bulunan elektronik cihazları yanınızda bulundurmanız hâlinde sınavınız geçersiz sayılacaktır.
5. Soruları ve sorulara verdiğiniz cevapları, yanınızda götürmek amacıyla kaydetmeyiniz; hiçbir şekilde dışarı çıkarmayınız.
6. Cevap kâğıdınızı sınav süresince hiçbir öğrencinin göremeyeceği şekilde önünüzde bulundurunuz.
7. Sınavın değerlendirilmesi aşamasında, kopya tespiti veya başka adayın sınav evrakını kullanmanız durumunda sınavınız geçersiz sayılacaktır.

CEVAP KÂĞIDI VE SORU KİTAPÇIĞI İLE İLGİLİ AÇIKLAMALAR

1. Cevap kâğıdınızdaki bilgilerin doğruluğunu kontrol ediniz ve cevap kâğıdınızı silinmeyen bir kalemle imzalayınız.
2. Cevap kâğıdındaki bilgiler size ait değilse veya cevap kâğıdı kullanılmayacak durumdaysa sınav görevlilerinin temin edeceği yedek cevap kâğıdına kimliğinizle ilgili bilgileri açıklamalar doğrultusunda yazınız ve kodlayınız.
3. Cevap kâğıdı üzerindeki kodlamaları kurşun kalemle yapınız.
4. Değiştirmek istediğiniz bir cevabı, yumuşak silgiyle cevap kâğıdını örselemeden temizce siliniz ve yeni cevabınızı kodlayınız.
5. Kitapçık türünü cevap kâğıdınızdaki ilgili alana kodlayınız. Bu kodlamayı yapmadığınız veya yanlış yaptığınız takdirde sınavınızın değerlendirilmesi doğru yapılamayacaktır.
6. Cevaplarınızı, cevap kâğıdındaki ilgili soru numarasını dikkate alarak yuvarlağın dışına taşırmadan kodlayınız.
7. Soru kitapçığının sayfalarını kontrol ediniz, baskı hatası var ise değiştirilmesini sağlayınız.
8. Soruların çözümü için size ayrıca boş kâğıt verilmeyecektir. Soru kitapçığının içindeki boş alanları çözümlerinizi için kullanabilirsiniz.
9. Cevaplamaya istediğiniz sorudan başlayabilirsiniz. Cevabını bilmediğiniz sorular üzerinde fazla zaman kaybetmeden diğer sorulara geçiniz. Zamanınız kalırsa bu sorulara daha sonra dönebilirsiniz.
10. Soru kitapçığı üzerinde yapılıp cevap kâğıdına işaretlenmeyen cevaplar değerlendirme işlemine alınmayacaktır.
11. Sınav puanınızın hesaplanmasında sadece doğru cevaplarınız dikkate alınacaktır.
12. Sınav bitiminde, soru kitapçığı ve cevap kâğıdını salon görevlilerine teslim ediniz.

BAŞLAYINIZ DENİLMEDEN SORU KİTAPÇIĞINIZI AÇMAYINIZ.

1. “Dalga” sözcüğü aşağıdaki cümlelerin hangisinde “terim” anlamıyla kullanılmıştır?

- A) Rüzgârın etkisiyle dalgalar durulmamış biraz ağırlaşmıştı.
- B) Ses dalgaları, ekranda inişli çıkışlı çizgiler hâlinde akıyordu.
- C) Köy, geniş dalgalarla uzanıp giden ovaların sonunda görünüyordu.
- D) Saçları uzayınca dalgaları daha da belirginleşti.

2. Aşağıdaki cümlelerin hangisinde altı çizili sözcük mecaz anlamıyla kullanılmıştır?

- A) İnsan hiçbir şeyde ölçüyü aşmamalıdır.
- B) İzciler çadır kurmaya başlamışlardı.
- C) Bahçeye açılan kapının eşiğinde duruyordu.
- D) Sandalyelerini çekerek masanın etrafında toplandılar.

3. Yazar, uzun araştırmalar sonucu kaleme aldığı eserlerinde eski İstanbul hayatını en ince yönlerine kadar ortaya koymuştur.

“İnce” sözcüğü, aşağıdakilerin hangisinde bu cümledeki anlamıyla kullanılmıştır?

- A) Kısa sürede okumak için özellikle ince kitaplar seçiyor.
- B) Sarışın, uzun boylu, ince bir kadındı.
- C) İnce sesiyle hemen dikkati çekiyordu.
- D) Bugün şöyle ince bir temizlik yapmam gerekiyor.

4. Geçmişin peşindeki arkeologların çalışmaları, bir kentin tarihinin nasıl yeni baştan yazıldığının göstergesidir. Düşünebiliyor musunuz? Bugün Karadeniz ve Ege Denizi ile bağlantısı olan Marmara, bir zamanlar gölmüş ve kıyısındaki küçük yerleşim yerlerinde Neolitik Çağ insanları yaşıyormuş. Eğer arkeologlar ... gibi sabırla çalışmasalardı bu gerçeği ortaya çıkaran izler yok olup giderdi.

Bu metinde, üç nokta ile belirtilen yere aşağıdaki deyimlerden hangisi getirilirse anlam bütünlüğü sağlanmış olur?

- A) küpünü doldurur
- B) göz boyar
- C) iğne ile kuyu kazar
- D) ipe un serer

5. (1) Genç yazar, ilk çocuk romanında sınavını başarıyla vermiştir. (2) Romanın başkahramanı resim çizen ve maskeler yapan Turuncu adlı bir balıktır. (3) Kent ile doğayı kusursuz bir şekilde birleştiren bu roman, bir aile ürünüdür. (4) Ara tonları güçlü ve etkileyici bir şekilde yansıtan sulu boya resimler de yazarın eşine aittir.

Bu metindeki numaralandırılmış cümlelerden hangisi nesnel yargı içermektedir?

- A) 1
- B) 2
- C) 3
- D) 4

6. Aşağıdakilerden hangisi deneme türündeki bir metinden alınmıştır?

- A) Seyahati bitmiş sayılırdı. Nihayet, hep özlemine duyduğu deniz kenarına gelmişti. Öğleden sonra bütün vaktini orada geçirmişti. Akşam olunca yelkenliler gitmiş, narin martılar kayalardaki yuvalarına çekilmişti.
- B) Balıkçı kahvesinin önündeki yarısı kırmızı yarısı beyaz açan akasyanın dalına asılmış bir dülger balığı gördüm. Rengi denizden çıktığı zamanki esmerlikteydi. Vücudunun etrafını çeviren incecik, ipekten bile yumuşak zarları oynaşır duruyordu.
- C) Konuşurken yolun birkaç kilometre süren sahil kısmını nasıl geçtiğimizi fark etmedik. Göğün morlaşan kenarı eriyor, menekşe rengine giriyordu. Etrafımızdaki çalılar, uyumuş seyirciler gibi görünüyordu. Arabayı durdurup indik.
- D) Yazdıklarının dokusuna yüreklerinin sesini, sıcaklığını sindirememiş olanlara gerçek anlamda sanatçı diyemem. Gerçek sanatçı, bu sesi sonuna kadar okurlarına duyurmalıdır. Mesela, doğayı sevmeyen bir yazarın eserlerinde baharı tam anlamıyla yansıtmasını bekleyemem.

7. Aşağıdaki metinlerden hangisi birinci kişi ağzıyla anlatılmıştır?

- A) Bahar sıcakları bastırmıştı. Kışlıklar sandıklara konuluyor, yazlıklar sandıklardan çıkarılıyordu. Baş evlerine taşınmak için gerekli hazırlıklara başlanmıştı.
- B) O sabah pencereye dayanarak güneşle parlayan bulutlara bakıyordum. Kapı birdenbire açıldı ve karşımda onu gördüm. Bu, yıllardır özlemine duyduğum bir andı.
- C) Gecenin gittikçe fark edilen tatlı serinliğini hissediyordu. Gökteki yıldızlar ardı ardına parlıyordu. Yüreğinde bir rahatlama duydu ve huzur içinde hayallere daldı.
- D) Arka bahçedeki kestane ağacının altında hasır koltukta oturuyordu. Ayağının dibinde gezinen karıncayı seyrediyordu. Sokaktan gelen çocuk sesleriyle gülümsedi.

8. Her dilde bilim ve tekniğin gelişen ihtiyaçlarını karşılamak için yeni terimler türetilir. Bu türetmeyi genellikle dilciler değil, mucitler yaparlar. Çünkü onlar buluşlarını ilk kez tanıtırken bunların adlarını da koyarlar. Bu yüzden bilimin ön saflarında yer alan mucitlerin kendi dillerinin yapısını, sözcük ve terim türetme kurallarını iyi bilmeleri gerekir.

Bu metinde mucitlerle ilgili ası anlatılmak istenen aşağıdakilerden hangisidir?

- A) Ana dillerine hâkim olmalılar.
- B) İcatlar ortaya koymalılar.
- C) Dilcilerle ortak çalışmalılar.
- D) Hayatı kolaylaştırılmalılar.

9. Masal, ilk insan toplulukları arasında sözlü olarak doğmuştur. Ağızdan ağıza, toplumdan topluma geçerken çeşitli mahallî zevkler, hayalî ögeler ve motiflerle farklılaşmıştır. Daha sonra hafızasına yerleştiği ulusun karakterini yansıtan bir kimliğe bürünmüştür. Bir kişinin değil; bir toplumun, bir ulusun malıdır. Halkın ruhundaki iyiliği, adalet düşüncesini, şefkat ve koruma gücünü aktarır. Masalarda iyiler daima ödüllendirilirken kötüler cezalandırılır.

Bu metinden hareketle, masalla ilgili aşağıdakilerden hangisi söylenemez?

- A) Yazanı belli değildir.
- B) Çok okunan bir türdür.
- C) Ortak değerler taşır.
- D) Zamanla değişime uğrar.

10. Onun tükenmez bir sabrı, insanları etrafında toplama ve çalıştırma kabiliyeti vardı. Provaları atlatmaya çalışanlara mektup yazar, darıların arasını bulur, notalar getirtir, malzemeler aldırırdı. Kimimizle arkadaşça kimimizle ağabey gibi konuşurdu. Nabza göre serbet vererek o güzel provaların devamını sağlardı.

Bu metinde altı çizili ifadeyle anlatılmak istenen aşağıdakilerden hangisidir?

- A) Düşüncelerini zorla benimsetmek, yola getirmek
- B) Başkasının niyetini, düşüncesini, eğilimini anlamaya çalışmak
- C) Birinin hoşuna gidecek, gururunu okşayacak şekilde davranmak
- D) Elindeki imkânları kullanarak haksız kazanç sağlamak

11. Aşağıda bir metnin cümleleri karışık olarak verilmiştir:

1. Aynı şekilde, ulaşmak istediğiniz hedefler yaşam felsefenize uyuyorsa bunları elde etmeniz de kolaylaşır.
2. Dolayısıyla önce yaşam felsefenizi sonra ulaşmak istediğiniz hedefleri belirleyin.
3. Yaşamda en iyiye ulaşma çabanızda nereye gitmek ve ne olmak istediğinizi bilmek çok önemlidir.
4. Çünkü yaşam felsefesiyle uyuşmayan hedefler hayal kırıklığıyla sonuçlanır.

Metin düşünce akışına göre düzenlendiğinde, numaralandırılmış cümlelerden hangisi en sonda yer almalıdır?

- A) 1. B) 2. C) 3. D) 4.

12. Deyimler genellikle gerçek anlamlarından az çok ayrı, kendine özgü bir anlam taşıyan kalıplaşmış söz öbekleridir. Atasözleri gibi her durumda doğru olmayabilir ve genel kural niteliği taşımazlar. Bunun yerine yalnızca özel bir durum karşısında doğru kabul edilir ve öylece kullanılırlar. “Et tırnaktan ayrılmaz.” dediğimizde kesin bir doğruyu anlatmış oluruz, bu bir atasözüdür. Oysa “et tırnak olmak” dersek bazı durumlar için geçerli olan bir ifade kullanmış oluruz.

Bu metnin anlatımında aşağıdakilerden hangisi yoktur?

- A) Karşılaştırma B) Örnekleme
- C) Tanımlama D) Betimleme

13.

1950’lerdeki ilk bilgisayarlar, binlerce elektronik ampulden oluşan ve koskoca odaları dolduracak hacimdeki makinelerdi. Ampuller çok ısındığı için büyük bir soğutma sistemi kullanılırdı. Bu bilgisayarlarda, basit çarpma bölme işlemleri yapılabilirdi. Bunları ancak bazı uzmanlar kullanabiliyordu.

Günümüzde kullanılan bilgisayarlar bir kitap büyüklüğündedir. Küçük olduğu kadar kullanışlı da olan bu bilgisayarlar basit bir fanla soğutulur. Kolaylıkla dört işlem yapılabilen bu gelişmiş makineleri hemen hemen herkes rahatlıkla kullanabilir.

Bu metinlerde bahsedilen bilgisayarların ortak yönü aşağıdakilerden hangisidir?

- A) Matematiksel hesaplar yapabilmeleri
- B) Soğutma sistemlerinin özelliği
- C) Kapladıkları alanın büyüklüğü
- D) Kullanıcı kitesinin genişliği

14. Türk şiirinin önde gelen isimlerinden olan Yahya Kemal, Üsküp'te doğdu. Burada başladığı eğitimini İstanbul'da devam ettirdi. 1903'te Paris'e gitti ve siyaset bilimi alanında üniversite eğitimini tamamladı. İstanbul'a döndükten sonra çeşitli kurumlarda öğretmenlik yaptı. Kurtuluş Savaşı'nın ardından milletvekili oldu. Daha sonra uzun yıllar büyükelçi olarak farklı ülkelerde görev alan Yahya Kemal, 1958 yılında hayatını kaybetti.

Bu metinde Yahya Kemal'in hayatıyla ilgili aşağıdakilerden hangisine değinilmemiştir?

- A) Eğitim gördüğü şehirlere
- B) Hangi meslekleri yaptığına
- C) Türk edebiyatındaki yerine
- D) Eserlerine kaynaklık eden olaylara

15. – . . .

– Çok güzel söylediniz. Bir çocuğun dünyasına erişmek, o dünyaya sığabilecek kurgular yapmak hiç kolay değildir. Çocuğa göre yazarken çocukmuş gibi düşünebiliriz elbette. Yine de durduğumuz yeri unutmadan kalemimizi kullanmalıyız. Onun dünyasına ne yukarıdan ne de aşağıdan bakmalı. Çocuğun gözlerinin içine bakıp hissettiklerini anlamak önemli.

– Teşekkürler, bu söyledikleriniz düşüncelerimi pekiştirdi.

Bu karşılıklı konuşmada boş bırakılan yere aşağıdakilerden hangisi getirilirse metnin anlam bütünlüğü sağlanmış olur?

- A) Farz edelim ki çocuk yazarlarının teşvik edilmesi, çocuklara yönelik kitap sayısını artıracak.
- B) Zannedirim okuma alışkanlığı erken yaşlarda başlamalıdır.
- C) Sanırım yazarken çocuğu her yönüyle bilmek ve bir parça çocuk olmak gerekiyor.
- D) Kanaatimce yazar, çocuk gelişiminden de haberdar olmalıdır.

16. Tiyatro, halkın dış dünya ile ilgisini kopararak hoşça vakit geçireceği bir yerdir. Bu düşünceme karşı çıkabilir, hayır diyebilir misiniz? Kişi durup dururken sıkılmak için gitmez tiyatroya.

Bu metin aşağıdaki sorulardan hangisine cevap vermektedir?

- A) Tiyatronun diğer sanat dallarından farkı nedir?
- B) Sizce tiyatro eğlenceli midir?
- C) Tiyatroda mesaj vermek gerekir mi?
- D) Başkalarının tiyatro ile ilgili görüşlerinden etkilenir misiniz?

17. Aşağıda kısa çizginin işlevleriyle ilgili bazı örnekler sıralanmıştır:

1. göz-lük-çü, al-ış, dur-ak
2. ver-, gör-; başar-, okut-, yazdır-
3. Kaybolmasından korktuğum için -olmaz ya-bilgisayarı yanıma aldım.

Bu örneklerden hareketle kısa çizginin işlevleriyle ilgili aşağıdakilerden hangisi söylenemez?

- A) Kelimeler arasında "ve, ile, arasında" anlamlarını vermek için kullanılmıştır.
- B) Cümle içindeki ara sözleri veya ara cümleleri ayırmak için kullanılmıştır.
- C) Fiil kök ve gövdelerini göstermek için kullanılmıştır.
- D) Kelimelerin kök, gövde ve eklerini birbirinden ayırmak için kullanılmıştır.

18. Aşağıdakilerin hangisinde isim-fiil kullanılmamıştır?
- A) Asil duruşu daima gözümün önündedir.
 B) Adadan dönmemize bir saat kalmıştı.
 C) Bu, birçok kişinin emek verdiği bir kitaptır.
 D) İlkbaharı düşünmek her zaman içimi ısıtıyor.

19. Uzak ve bilinmez adalardan gelmiş benzeyen martılar uçuşuyordu.

Aşağıdakilerden hangisi bu cümle ile aynı öge dizilişine sahiptir?

- A) Köye geldiğim zaman doğa bana kucağını açar.
 B) Irmağa giden bu yol şeftali bahçeleri arasından geçerdi.
 C) Kızarmış ekmek kokan odada semaver ne güzel kaynardı.
 D) Güneş içimizi ısıtan sözler söyleyen bir arkadaştır.

20. Pencereleri geniş, doyasıya güneş alan
 1
 bir salondaydık. Güneşin tadını çıkarıyorduk
 2
 bu soğuk kış gününde. Günlüğümü yazmaya
 3
 burada başladım.

Bu metindeki altı çizili sözcüklerle ilgili aşağıdakilerin hangisinde verilenler doğrudur?

	1	2	3
A)	fiilimsi	fiil	isim
B)	fiil	fiilimsi	isim
C)	fiilimsi	isim	fiilimsi
D)	fiil	isim	fiilimsi

TEST BİTTİ.
CEVAPLARINIZI KONTROL EDİNİZ.

**13 ARALIK 2014 TARİHİNDE YAPILAN 8. SINIF I. DÖNEM
TÜRKÇE DERSİ ORTAK MAZERET SINAVI
“A” KİTAPÇIĞI CEVAP ANAHTARI**

TÜRKÇE

- 1. B**
- 2. A**
- 3. D**
- 4. C**
- 5. B**
- 6. D**
- 7. B**
- 8. A**
- 9. B**
- 10. C**
- 11. B**
- 12. D**
- 13. A**
- 14. D**
- 15. C**
- 16. B**
- 17. A**
- 18. C**
- 19. D**
- 20. A**



T.C.
MİLLÎ EĞİTİM BAKANLIĞI

A

KİTAPÇIK TÜRÜ

8. SINIF I. DÖNEM
MATEMATİK DERSİ
ORTAK (MAZERET) SINAVI
13 ARALIK 2014 Saat: 10.10

Adı ve Soyadı :
Sınıfı :
Öğrenci Numarası :

ÖĞRENCİLERİN DİKKATİNE!

1. Sınıf öğrenci yoklama listesinde belirtilen sınıfta ve sıra numarasında oturmanız gerektiğinden durumunuzu kontrol ediniz.
2. Bu sınavda cevaplayacağınız soru sayısı 20, sınav süreniz 40 dakikadır.
3. Sınav süresince dışarı çıkılmayacaktır.
4. Sınav sırasında sözlük, hesap makinesi, saat fonksiyonu dışında özellikleri bulunan saat veya çağrı cihazı, cep telefonu, telsiz, radyo ve bilgisayar özelliği bulunan elektronik cihazları yanınızda bulundurmanız hâlinde sınavınız geçersiz sayılacaktır.
5. Soruları ve sorulara verdiğiniz cevapları, yanınızda götürmek amacıyla kaydetmeyiniz; hiçbir şekilde dışarı çıkarmayınız.
6. Cevap kâğıdınızı sınav süresince hiçbir öğrencinin göremeyeceği şekilde önünüzde bulundurunuz.
7. Sınavın değerlendirilmesi aşamasında, kopya tespiti veya başka adayın sınav evrakını kullanmanız durumunda sınavınız geçersiz sayılacaktır.

CEVAP KÂĞIDI VE SORU KİTAPÇIĞI İLE İLGİLİ AÇIKLAMALAR

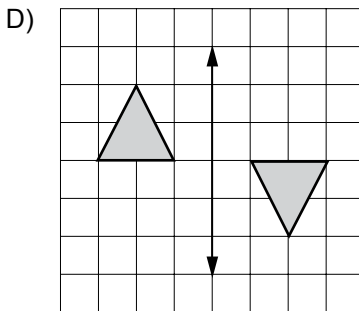
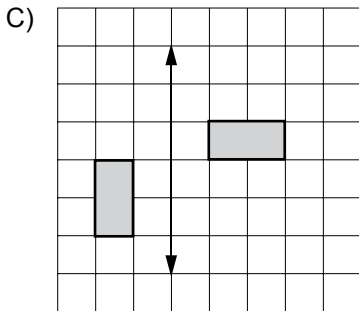
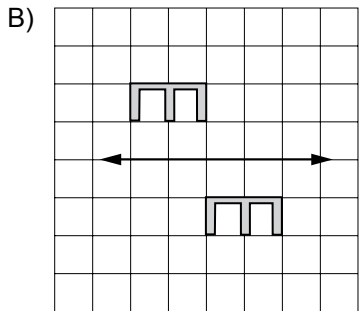
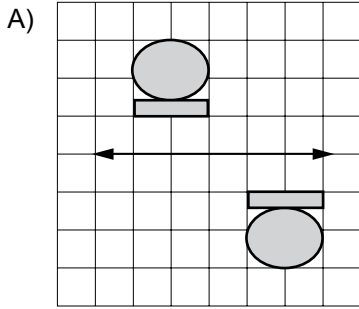
1. Cevap kâğıdınızdaki bilgilerin doğruluğunu kontrol ediniz ve cevap kâğıdınızı silinmeyen bir kalemle imzalayınız.
2. Cevap kâğıdındaki bilgiler size ait değilse veya cevap kâğıdı kullanılmayacak durumdaysa sınav görevlilerinin temin edeceği yedek cevap kâğıdına kimliğinizle ilgili bilgileri açıklamalar doğrultusunda yazınız ve kodlayınız.
3. Cevap kâğıdı üzerindeki kodlamaları kurşun kalemle yapınız.
4. Değiştirmek istediğiniz bir cevabı, yumuşak silgiyle cevap kâğıdını örselemeden temizce siliniz ve yeni cevabınızı kodlayınız.
5. Kitapçık türünü cevap kâğıdınızdaki ilgili alana kodlayınız. Bu kodlamayı yapmadığınız veya yanlış yaptığınız takdirde sınavınızın değerlendirilmesi doğru yapılamayacaktır.
6. Cevaplarınızı, cevap kâğıdındaki ilgili soru numarasını dikkate alarak yuvarlağın dışına taşırmadan kodlayınız.
7. Soru kitapçığının sayfalarını kontrol ediniz, baskı hatası var ise değiştirilmesini sağlayınız.
8. Soruların çözümü için size ayrıca boş kâğıt verilmeyecektir. Soru kitapçığının içindeki boş alanları çözümlerinizi için kullanabilirsiniz.
9. Cevaplamaya istediğiniz sorudan başlayabilirsiniz. Cevabını bilmediğiniz sorular üzerinde fazla zaman kaybetmeden diğer sorulara geçiniz. Zamanınız kalırsa bu sorulara daha sonra dönebilirsiniz.
10. Soru kitapçığı üzerinde yapılıp cevap kâğıdına işaretlenmeyen cevaplar değerlendirme işlemine alınmayacaktır.
11. Sınav puanınızın hesaplanmasında sadece doğru cevaplarınız dikkate alınacaktır.
12. Sınav bitiminde, soru kitapçığı ve cevap kâğıdını salon görevlilerine teslim ediniz.

BAŞLAYINIZ DENİLMEYEN SORU KİTAPÇIĞINIZI AÇMAYINIZ.

1. 2^{-2} sayısı aşağıdakilerden hangisine eşittir?

- A) -4 B) $-\frac{1}{4}$ C) $\frac{1}{4}$ D) 4

2. Aşağıdakilerin hangisinde verilen şekiller, doğruya göre birbirinin ötelemeli yansımasıdır?



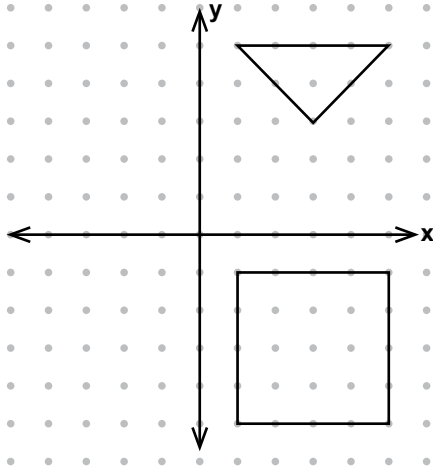
3. $\sqrt{0,81} + \sqrt{1,44}$ işleminin sonucu kaçtır?

- A) $1,02$ B) $1,29$ C) $1,5$ D) $2,1$

4. Aşağıdakilerin hangisindeki sayıların çarpımı $\sqrt{24}$ eder?

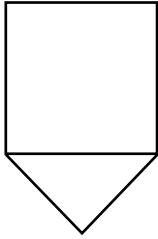
- A) 2 ve $\sqrt{6}$ B) 3 ve $\sqrt{8}$
C) $\sqrt{2}$ ve 6 D) $\sqrt{3}$ ve 8

5.

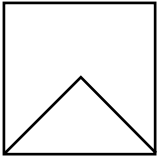


Şekildeki üçgen x eksenine göre yansıtıldığında kare ile birlikte oluşan şekil aşağıdakilerden hangisidir?

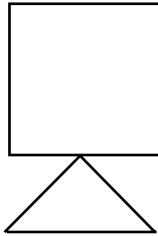
A)



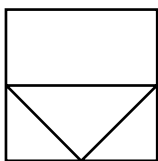
B)



C)



D)

6. $3^6 \cdot 3^a = 9^{12}$ olduğuna göre, a kaçtır?

A) 2

B) 4

C) 12

D) 18

7. Babası Ali'ye ekim ayının yalnızca tam kare sayı olan günlerinde yirmişer lira harçlık vermiştir. Ali, ekim ayında toplam kaç lira harçlık almıştır?

A) 40

B) 60

C) 100

D) 120

8. a ve b birer tam sayı olmak üzere, $\sqrt{72}$ sayısı $a\sqrt{b}$ biçiminde yazılırsa a + b toplamı aşağıdakilerden hangisi olabilir?

A) 6

B) 8

C) 10

D) 12

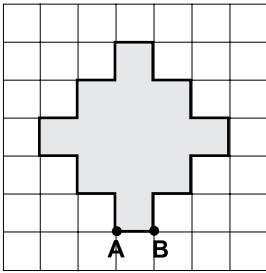
9. Aşağıdakilerden hangisi $\sqrt{5}$ ile bölündüğünde sonuç tam sayı olmaz?

- A) $\sqrt{75}$ B) $\sqrt{80}$
C) $\sqrt{125}$ D) $\sqrt{180}$

10. $\sqrt{45} + \sqrt{125} + \sqrt{20}$ işleminin sonucu kaçtır?

- A) $\sqrt{170}$ B) $\sqrt{190}$ C) $10\sqrt{5}$ D) $38\sqrt{5}$

11.



Kareli zeminde verilen yukarıdaki şeklin alanı 117 cm^2 dir. Buna göre, $|AB|$ kaç santimetredir?

- A) 2 B) 3 C) 6 D) 9

12. $\sqrt{34}$ ile $\sqrt{101}$ sayıları arasında kaç tane tam sayı vardır?

- A) 4 B) 5 C) 6 D) 7

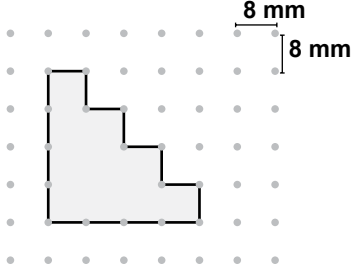
13. $(3\sqrt{6} + \sqrt{6}) - (\sqrt{6} - 2\sqrt{6})$ işleminin sonucu kaçtır?

- A) $\sqrt{6}$ B) $2\sqrt{6}$ C) $3\sqrt{6}$ D) $5\sqrt{6}$

14. $a\sqrt{7} = \sqrt{63}$ olduğuna göre, a sayısı kaçtır?

- A) -9 B) -3
C) 3 D) 9

15.



Yukarıdaki boyalı şeklin çevre uzunluğunun kaç milimetre olduğunu gösteren üslü ifade aşağıdakilerden hangisidir?

- A) 2^3 B) 2^5 C) 2^6 D) 2^7

16. Bir bakteri kültüründeki bakteri sayısı, her gün bir önceki günün 10 katına çıkıyor.

Birinci günün sonunda kültürde 15 000 bakteri olduğuna göre, 4. günün sonundaki bakteri sayısının bilimsel gösterimi aşağıdakilerden hangisidir?

- A) 1 500 000 B) $1,5 \cdot 10^6$
C) 15 000 000 D) $1,5 \cdot 10^7$

17. $(0,4)^a = \frac{16}{625}$ olduğuna göre, a kaçtır?

- A) 8 B) 4 C) 2 D) 1

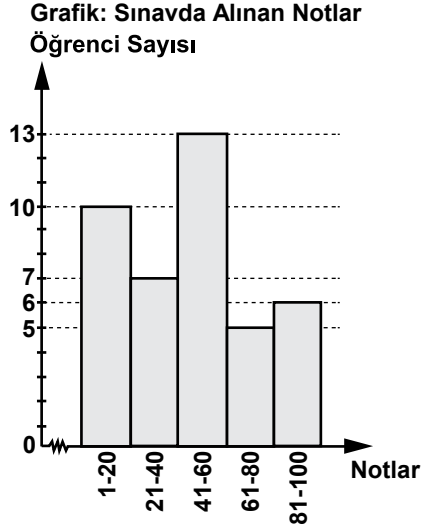
18. $-\frac{1}{343}$ sayısı aşağıdakilerden hangisine eşittir?

- A) -7^{-3} B) 7^{-3} C) -7^3 D) 7^3

19. 1 kilogram unun tamamıyla aynı büyüklükte 4 ekmek yapılmaktadır. 128 kilogram unun tamamıyla aynı ekmeklerden kaç tane yapılır?

- A) 2^5 B) 2^7 C) 2^8 D) 2^9

20.



Bir sınavda alınan notlara göre öğrenci sayılarının dağılımına ait histogram yukarıda verilmiştir. 60'tan yüksek not alanların başarılı sayıldığı bu sınavda kaç öğrenci başarısız olmuştur?

- A) 11 B) 17 C) 30 D) 35

TEST BİTTİ.
CEVAPLARINIZI KONTROL EDİNİZ.

**13 ARALIK 2014 TARİHİNDE YAPILAN 8. SINIF I. DÖNEM
MATEMATİK ORTAK MAZERET SINAVI
“A” KİTAPÇIĞI CEVAP ANAHTARI**

MATEMATİK

1. C
2. A
3. D
4. A
5. B
6. D
7. C
8. B
9. A
10. C
11. B
12. B
13. D
14. C
15. D
16. D
17. B
18. A
19. D
20. C



T.C.
MİLLÎ EĞİTİM BAKANLIĞI

A

KİTAPÇIK TÜRÜ

8. SINIF I. DÖNEM

FEN VE TEKNOLOJİ DERSİ

ORTAK (MAZERET) SINAVI

14 ARALIK 2014 Saat: 09.00

Adı ve Soyadı :
Sınıfı :
Öğrenci Numarası :

ÖĞRENCİLERİN DİKKATİNE!

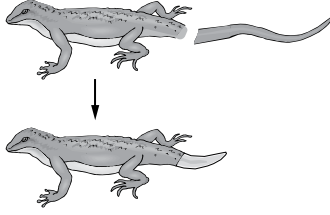
1. Sınıf öğrenci yoklama listesinde belirtilen sınıfta ve sıra numarasında oturmanız gerektiğinden durumunuzu kontrol ediniz.
2. Bu sınavda cevaplayacağınız soru sayısı 20, sınav süreniz 40 dakikadır.
3. Sınav süresince dışarı çıkılmayacaktır.
4. Sınav sırasında sözlük, hesap makinesi, saat fonksiyonu dışında özellikleri bulunan saat veya çağrı cihazı, cep telefonu, telsiz, radyo ve bilgisayar özelliği bulunan elektronik cihazları yanınızda bulundurmanız hâlinde sınavınız geçersiz sayılacaktır.
5. Soruları ve sorulara verdiğiniz cevapları, yanınızda götürmek amacıyla kaydetmeyiniz; hiçbir şekilde dışarı çıkarmayınız.
6. Cevap kâğıdınızı sınav süresince hiçbir öğrencinin göremeyeceği şekilde önünüzde bulundurunuz.
7. Sınavın değerlendirilmesi aşamasında, kopya tespiti veya başka adayın sınav evrakını kullanmanız durumunda sınavınız geçersiz sayılacaktır.

CEVAP KÂĞIDI VE SORU KİTAPÇIĞI İLE İLGİLİ AÇIKLAMALAR

1. Cevap kâğıdınızdaki bilgilerin doğruluğunu kontrol ediniz ve cevap kâğıdınızı silinmeyen bir kalemle imzalayınız.
2. Cevap kâğıdındaki bilgiler size ait değilse veya cevap kâğıdı kullanılmayacak durumdaysa sınav görevlilerinin temin edeceği yedek cevap kâğıdına kimliğinizle ilgili bilgileri açıklamalar doğrultusunda yazınız ve kodlayınız.
3. Cevap kâğıdı üzerindeki kodlamaları kurşun kalemle yapınız.
4. Değiştirmek istediğiniz bir cevabı, yumuşak silgiyle cevap kâğıdını örselemeden temizce siliniz ve yeni cevabınızı kodlayınız.
5. Kitapçık türünü cevap kâğıdınızdaki ilgili alana kodlayınız. Bu kodlamayı yapmadığınız veya yanlış yaptığınız takdirde sınavınızın değerlendirilmesi doğru yapılamayacaktır.
6. Cevaplarınızı, cevap kâğıdındaki ilgili soru numarasını dikkate alarak yuvarlağın dışına taşırmadan kodlayınız.
7. Soru kitapçığının sayfalarını kontrol ediniz, baskı hatası var ise değiştirilmesini sağlayınız.
8. Soruların çözümü için size ayrıca boş kâğıt verilmeyecektir. Soru kitapçığının içindeki boş alanları çözümlerinizi için kullanabilirsiniz.
9. Cevaplamaya istediğiniz sorudan başlayabilirsiniz. Cevabını bilmediğiniz sorular üzerinde fazla zaman kaybetmeden diğer sorulara geçiniz. Zamanınız kalırsa bu sorulara daha sonra dönebilirsiniz.
10. Soru kitapçığı üzerinde yapılıp cevap kâğıdına işaretlenmeyen cevaplar değerlendirme işlemine alınmayacaktır.
11. Sınav puanınızın hesaplanmasında sadece doğru cevaplarınız dikkate alınacaktır.
12. Sınav bitiminde, soru kitapçığı ve cevap kâğıdını salon görevlilerine teslim ediniz.

BAŞLAYINIZ DENİLMEYEN SORU KİTAPÇIĞINIZI AÇMAYINIZ.

1. Bir denemede kuyruğu kopartılan kertenkele, kuyruk kısmını şekildeki gibi yenileyerek tamamlıyor.



Bu şekle göre, aşağıdaki yorumlardan hangisine ulaşılabılır?

- A) Kuyruğun yenilenmesi mitoz bölünme ile gerçekleşmiştir.
 B) Kuyruğun yenilenmesiyle eşeysiz üreme gerçekleşmiştir.
 C) Kertenkele mitoz bölünmeyle vücudundaki bütün organları yenilemiştir.
 D) Kertenkele kuyruğunu yeniledikten sonra genetik yapısı değişmiştir.

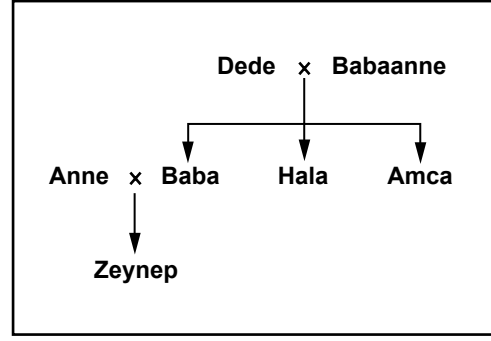
2. Tabloda bazı canlıların kromozom sayıları verilmiştir.

Tür	Kromozom sayısı (2n)
Bira mayası	32
Pirinç	24
Sığır	60
Köpek	78
Soğan	16
Patates	48
Mısır	20

Bu tabloya göre aşağıdaki yorumlardan hangisi doğrudur?

- A) Mısırın mitoz geçiren yaprak hücresinin kromozom sayısı 10 olur.
 B) Patatesin vücut hücresi, pirincin üreme hücresi ile aynı sayıda kromozoma sahiptir.
 C) Canlıların kromozom sayıları gelişmişlik derecelerini belirler.
 D) Canlılardaki kromozom sayısının vücut büyüklüğü ile ilgisi yoktur.

- 3.

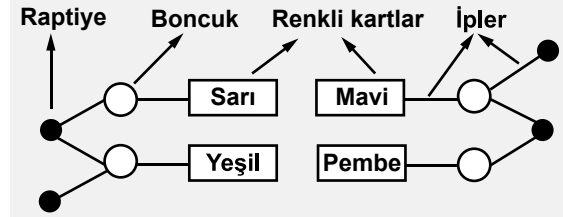


Yukarıdaki şemada Zeynep'in ailesindeki bireyler verilmiştir. Bu bireylerden yalnızca Zeynep ve amcasının kulak memesi yapışık, diğerlerinininki ise ayrıktır.

Buna göre aşağıdaki ifadelerden hangisi doğrudur?

- A) Kulak memesinin yapışık olma durumu baskın bir özelliktir.
 B) Zeynep'in anne ve babası, bu özellik bakımından melez döldür.
 C) Zeynep'in dedesi bu özellik bakımından arı döldür.
 D) Zeynep'in halası bu özellik bakımından kesinlikle arı döldür.

- 4.

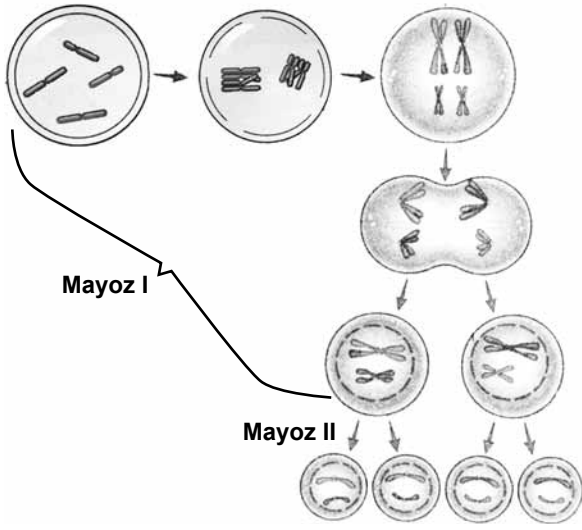


Mehmet yukarıdaki DNA modelini bir karton üzerinde hazırlıyor. Bu modelde iplerle birbirine bağlanan "bir raptiye, bir boncuk ve bir renkli kart" birlikte bir nükleotidi göstermektedir.

Buna göre, modelle ilgili aşağıdaki yorumlardan hangisi **yanlıştır**?

- A) Raptiyeler fosfatı, boncuklar şekeri göstermektedir.
 B) Pembe kart sitozin ise yeşil kart guanindir.
 C) Mavi kart adenin ise sarı kart timindir.
 D) Boncuk sayısı gen sayısına eşittir.

5. Şekilde bir hücredeki mayoz olayı verilmiştir.



Bu hücre bölünmesi ile ilgili olarak aşağıdakilerden hangisi **yanlıştır**?

- A) Sonuçta elde edilen yavru hücrelerin kromozom sayısı birbirinin aynıdır.
- B) Yavru hücrelerin genetik yapısı birbirinden farklıdır.
- C) Mayoz I tamamlandığında oluşan hücreler $2n$ kromozomludur.
- D) Mayoz II tamamlandığında oluşan hücreler n kromozomludur.

6. Bilim insanları koyunlarla aşağıdaki çalışmalarını yapmışlardır:

- I- Süt verimi yüksek bir koyun ile süt verimi düşük bir koyunun çiftleşmesinden süt verimi yüksek koyun üretilmiştir.
- II- Bir koyunun vücut hücresinin çekirdeği çıkarılarak, başka bir koyunun çekirdeği çıkarılan yumurta hücresine aktarılmıştır. Elde edilen embriyonun başka bir taşıyıcı annede gelişimini tamamlamasıyla yavru bir koyun üretilmiştir.
- III- Yün verimi yüksek, et verimi düşük olan bir koyun ile yün verimi düşük, et verimi yüksek olan bir koyunun çiftleşmesinden yün ve et verimi yüksek koyun üretilmiştir.

Klonlama, bazı canlıların kopyasının üretilme tekniği olduğuna göre yukarıdaki çalışmaların hangilerinde “klonlama tekniği” uygulanmıştır?

- A) Yalnız I
- B) Yalnız II
- C) I ve III
- D) II ve III

7. Düzenli spor yaptığı için kasları iyi gelişmiş sağlıklı bir insanın, çocuklarının aynı şekilde gelişmiş kas yapısına sahip olarak doğmadığı gözlenmiştir.

Bu gözlemden aşağıdakilerden hangisine ulaşılabilir?

- A) Sonradan kazanılan bu özelliğin kalıtsal olmadığına
- B) Bireylerin dış görünüşünde çevrenin hiçbir etkisinin olmadığına
- C) Ortam koşullarına uyum sağlayamayan canlıların yok olduğuna
- D) Ortam koşullarına uyum sağlayan canlıların yaşama şansının fazla olduğuna

8. Öğretmen öğrencilerini okul bahçesine çıkarır. Bahçede zemini çimlerle kaplı bir bölge ile zemini sadece kahverengi toprak olan aynı büyüklükte başka bir bölge belirler.

- 40 yeşil, 40 kahverengi boncuğu çimlerin üzerine,
- 40 yeşil, 40 kahverengi boncuğu kahverengi toprak üzerine rastgele serper.

Bir dakikalık zaman diliminde Kenan'dan çim zemindeki, Eda'dan ise toprak zemindeki boncukları toplamalarını ister.

- Kenan 20 kahverengi, 8 yeşil
- Eda 12 kahverengi, 26 yeşil boncuk toplamıştır.

Öğretmenin yapmış olduğu bu etkinlik aşağıdakilerden hangisini açıklamada kullanılabılır?

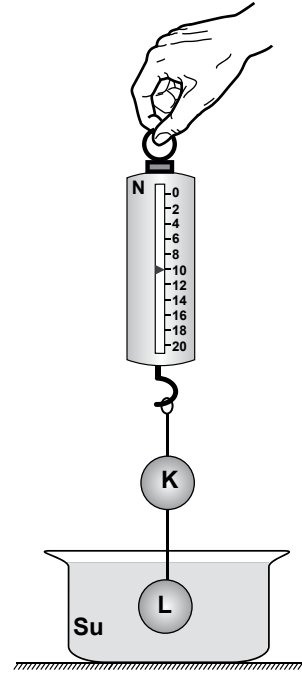
- A) Mutasyonların oluşması
- B) Modifikasyonların oluşması
- C) Ortama uyumun doğal seçimdeki rolü
- D) Çevre etkisiyle bir türün bireyleri arasında kalıtsal farklılık oluşması

9. Burak, havadaki ağırlığı 40 N olan demir parçasının bir kısmını su içine batırarak görünür ağırlığını ölçmek istiyor.

Burak doğru ölçüm yaptığına göre, demirin sudaki görünür ağırlığı aşağıdakilerden hangisi olabilir?

- A) 35 N
- B) 40 N
- C) 45 N
- D) 50 N

10. Suda çözünmeyen özdeş K ve L cisimleri şekildeki gibi dinamometrenin ucuna bağlanıp, K havada, L suda olacak şekilde suya daldırıldığında dinamometre 10 N'ü gösteriyor.



Bu durumda, cisimlerden her birinin havadaki ağırlığı aşağıdakilerden hangisi olabilir?

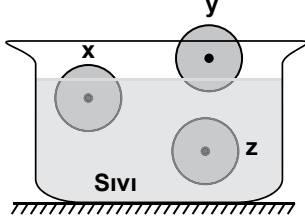
- A) 3 N
- B) 4 N
- C) 5 N
- D) 6 N

11. Yahya, dinamometreye astığı bir taş parçasının ağırlığını önce havada sonra tamamı sıvı içinde iken ölçüyor. Ölçümleri sonucunda taş parçasının havadaki ölçülen ağırlığının sıvıdaki ölçülen ağırlığından daha büyük olduğunu gözlemliyor.

Buna göre Yahya, yalnızca bu verilerden yola çıkarak aşağıdaki sonuçlardan hangisine ulaşabilir?

- A) Sıvı içindeki bir cisme sıvı tarafından yukarı yönlü bir kuvvet uygulanır.
- B) Bir cisme etki eden kaldırma kuvveti sıvının yoğunluğuna bağlıdır.
- C) Bir cisme etki eden kaldırma kuvveti cismin batan hacmine bağlıdır.
- D) Sıvı içerisindeki cisimlere yerçekimi kuvveti etki etmez.

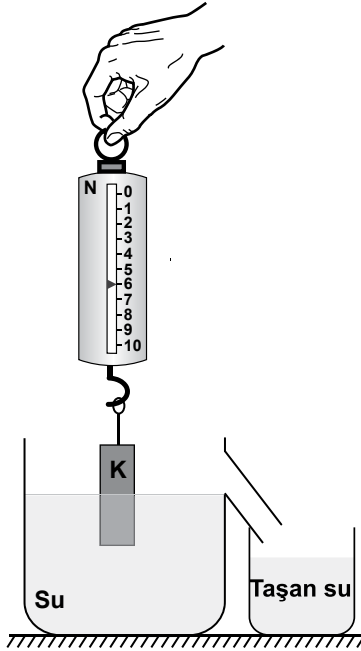
12. Farklı maddelerden yapılmış eşit hacimli ve sıvıda çözünmeyen x, y, z katı cisimlerinin sıvı içindeki denge konumları şekildeki gibidir.



Buna göre, sıvının cisimlere uyguladığı kaldırma kuvvetleri F_x , F_y ve F_z 'nin büyüklüğü aşağıdakilerin hangisinde doğru verilmiştir?

- A) $F_x = F_y > F_z$ B) $F_x > F_y > F_z$
C) $F_z > F_x > F_y$ D) $F_y > F_x > F_z$

13. K cismi, havada dinamometreye bağlandığında dinamometre 10 N'u göstermektedir. Aynı cisim taşma seviyesine kadar su dolu kaba şekildeki gibi daldırıldığında dinamometre 6 N'u gösterirken bir miktar su taşıyor.



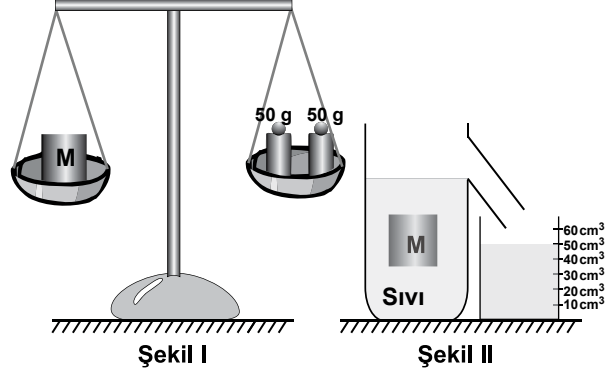
Yalnızca bu gözlemlerden yola çıkarak;

- I- Kaldırma kuvvetinin yönü yukarı doğrudur.
II- Taşan suyun ağırlığı 4 N'dur.
III- Yüzen cisimlerde kaldırma kuvveti cismin ağırlığına eşittir.

yargılarından hangilerine ulaşılabilir?

- A) Yalnız I B) Yalnız II
C) I ve III D) I, II ve III

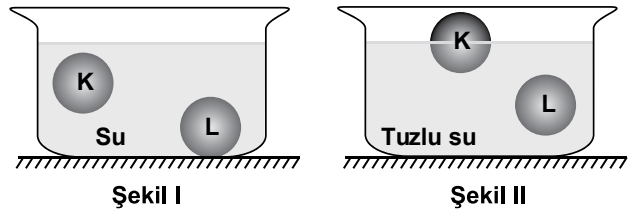
14. İçinde boşluk olmayan M katı cisminin kütlesi eşit kollu terazi ile şekil I'deki gibi tartılıyor. Daha sonra M cismi şekil II'deki gibi taşma seviyesine kadar sıvı dolu kaba yavaşça bırakılıyor. Taşan sıvı başlangıçta boş olan dereceli silindirde toplanıyor.



Eşit kollu terazide ve taşan sıvının toplandığı dereceli silindirde ölçülen değerlere bakılarak M cisminin yoğunluğu (özkütlesi) kaç g/cm^3 bulunur?

- A) 0,5 B) 1 C) 1,5 D) 2

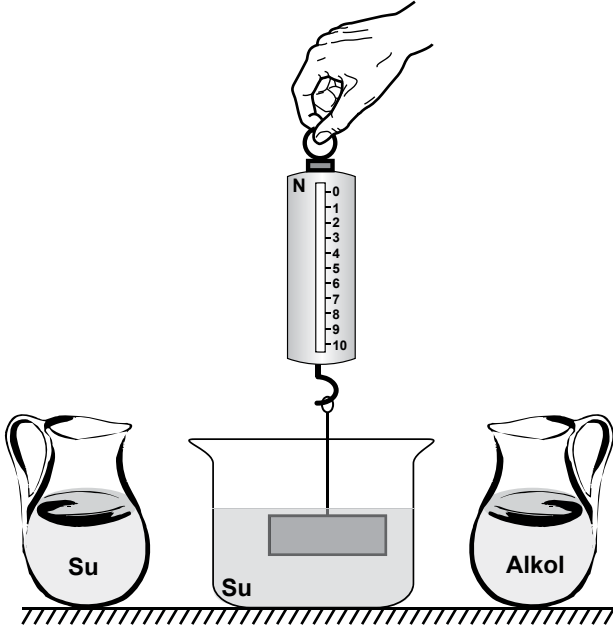
15. Suda çözünmeyen K ve L katı cisimleri suyun içinde şekil I'deki gibi denge durumundayken, kaba bir miktar tuz atılıp karıştırılınca cisimlerin denge durumu şekil II'deki gibi oluyor.



Buna göre, K ve L cisimlerine şekil II'de etki eden F_K ve F_L kaldırma kuvvetleri şekil I'dekine göre nasıl değişir?

- | | F_K | F_L |
|----|----------|----------|
| A) | Artar | Artar |
| B) | Değişmez | Artar |
| C) | Azalır | Değişmez |
| D) | Değişmez | Değişmez |

16. Ayşe, içinde su bulunan bir kapla şekildeki deney düzeneğini kuruyor ve dinamometrenin gösterdiği değerın sıfırdan farklı olduğunu gözlemliyor.

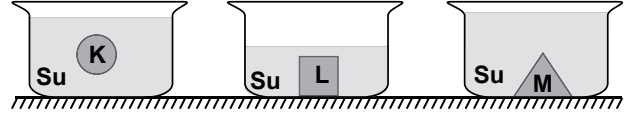


Ayşe ilk önce su dolu sürahiyi kaba yavaşça boşaltıyor. Daha sonra yoğunluğu sudan daha küçük olan alkol dolu sürahiyi kaba yavaşça boşaltıyor.

Kap her iki sıvıyı taşımadan aldığına göre, bu işlemler sırasında Ayşe'nin dinamometrede okuduğu değerler nasıl değişir?

	Kaba su eklenirken	Kaba alkol eklenirken
A)	Sabit kalır	Azalı
B)	Artar	Azalı
C)	Azalı	Sabit kalır
D)	Sabit kalır	Artar

17. K, L ve M cisimleri, içinde su bulunan kaplara bırakıldığında şekildeki konumda dengede kalıyor.



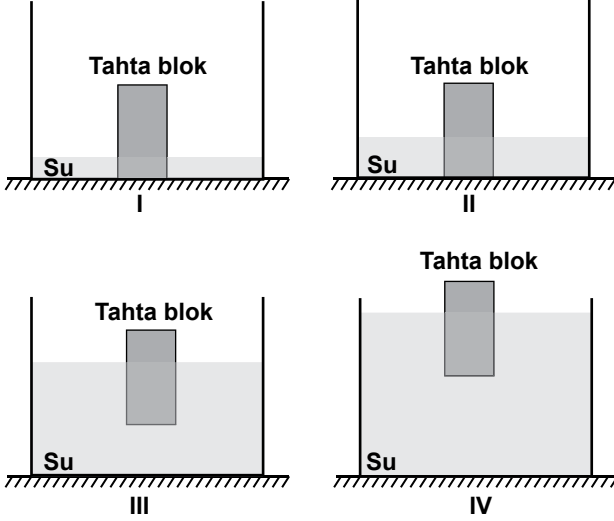
Daha sonra;

- K'nin bulunduğu kaba tuz ilave edilip karıştırılıyor.
- L'nin bulunduğu kaba su ilave ediliyor.
- M'nin bulunduğu kaptan ise bir miktar su boşaltılıyor.

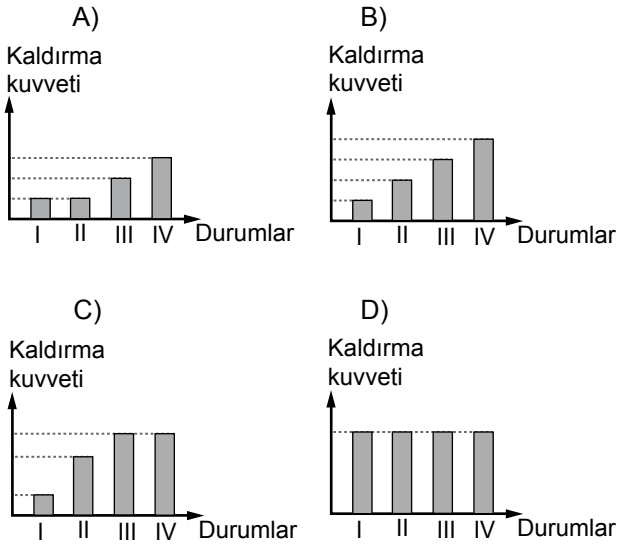
Buna göre, bu işlemler sonucunda kap içindeki cisimlerin denge durumları aşağıdakilerden hangisi gibi olabilir?

- A)
- B)
- C)
- D)

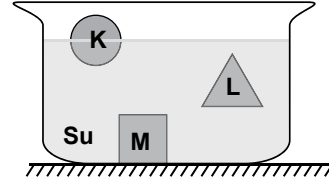
18. Başlangıçta içinde su bulunmayan kabın tabanında bir tahta blok bulunmaktadır. Kap şekilde görüldüğü gibi su ile doldurulmaya başlandığında tahta blok, I. ve II. durumda yerinden hareket etmeyip hâlâ kabın dibine temas ederken, III. ve IV. durumlarda kabın dibini ile temas etmeyip suda yüzmektedir.



Buna göre, tahta bloğa uygulanan kaldırma kuvvetinin I, II, III ve IV. durumlardaki değişimini gösteren sütun grafiği aşağıdakilerden hangisi olabilir?



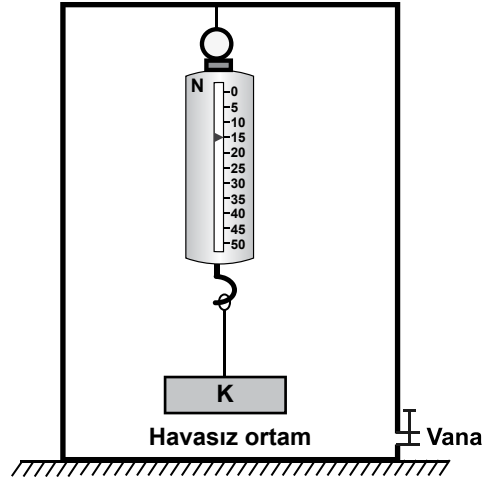
19. İçinde su bulunan bir kaptaki K, L ve M cisimlerinin denge konumları şekildeki gibidir.



Buna göre, bu cisimlerden hangilerine suyun uyguladığı kaldırma kuvveti cismin ağırlığından küçüktür?

- A) Yalnız K
B) Yalnız M
C) K ve L
D) L ve M

20. Dinamometreye bağlı K cismi havası boşaltılmış bir kap içinde şekildeki gibi tartıldığında 15 N olarak ölçülüyor. Kapın vanası açılıp kap içine havanın girmesi sağlandığında ise dinamometredeki değerin azaldığı gözleniyor.



Yalnızca bu gözlemlerden yararlanarak;

- I- Hava, cisimlere kaldırma kuvveti uygular.
II- Kaldırma kuvveti cismin hacmi ile doğru orantılıdır.
III- Kaldırma kuvveti cismin ağırlığına zıt yönde etki eder.

yargılarından hangilerine ulaşılır?

- A) Yalnız I
B) I ve II
C) I ve III
D) II ve III

TEST BİTTİ.
CEVAPLARINIZI KONTROL EDİNİZ.

**14 ARALIK 2014 TARİHİNDE YAPILAN 8. SINIF I. DÖNEM
FEN VE TEKNOLOJİ DERSİ ORTAK MAZERET SINAVI
“A” KİTAPÇIĞI CEVAP ANAHTARI**

FEN VE TEKNOLOJİ

1. A
2. D
3. B
4. D
5. C
6. B
7. A
8. C
9. A
10. D
11. A
12. C
13. A
14. D
15. B
16. D
17. B
18. C
19. B
20. C

T.C.
MİLLÎ EĞİTİM BAKANLIĞI

8. SINIF I. DÖNEM

A
KİTAPÇIK TÜRÜ

T.C. İNKILAP TARİHİ VE ATATÜRKÇÜLÜK DERSİ

ORTAK (MAZERET) SINAVI

14 ARALIK 2014 Saat: 10.10

Adı ve Soyadı :
Sınıfı :
Öğrenci Numarası :

ÖĞRENCİLERİN DİKKATİNE!

1. Sınıf öğrenci yoklama listesinde belirtilen sınıfta ve sıra numarasında oturmanız gerektiğinden durumunuzu kontrol ediniz.
2. Bu sınavda cevaplayacağınız soru sayısı 20, sınav süreniz 40 dakikadır.
3. Sınav süresince dışarı çıkılmayacaktır.
4. Sınav sırasında sözlük, hesap makinesi, saat fonksiyonu dışında özellikleri bulunan saat veya çağrı cihazı, cep telefonu, telsiz, radyo ve bilgisayar özelliği bulunan elektronik cihazları yanınızda bulundurmanız hâlinde sınavınız geçersiz sayılacaktır.
5. Soruları ve sorulara verdiğiniz cevapları, yanınızda götürmek amacıyla kaydetmeyiniz; hiçbir şekilde dışarı çıkarmayınız.
6. Cevap kâğıdınızı sınav süresince hiçbir öğrencinin göremeyeceği şekilde önünüzde bulundurunuz.
7. Sınavın değerlendirilmesi aşamasında, kopya tespiti veya başka adayın sınav evrakını kullanmanız durumunda sınavınız geçersiz sayılacaktır.

CEVAP KÂĞIDI VE SORU KİTAPÇIĞI İLE İLGİLİ AÇIKLAMALAR

1. Cevap kâğıdınızdaki bilgilerin doğruluğunu kontrol ediniz ve cevap kâğıdınızı silinmeyen bir kalemle imzalayınız.
2. Cevap kâğıdındaki bilgiler size ait değilse veya cevap kâğıdı kullanılmayacak durumdaysa sınav görevlilerinin temin edeceği yedek cevap kâğıdına kimliğinizle ilgili bilgileri açıklamalar doğrultusunda yazınız ve kodlayınız.
3. Cevap kâğıdı üzerindeki kodlamaları kurşun kalemle yapınız.
4. Değiştirmek istediğiniz bir cevabı, yumuşak silgiyle cevap kâğıdını örselemeden temizce siliniz ve yeni cevabınızı kodlayınız.
5. Kitapçık türünü cevap kâğıdınızdaki ilgili alana kodlayınız. Bu kodlamayı yapmadığınız veya yanlış yaptığınız takdirde sınavınızın değerlendirilmesi doğru yapılamayacaktır.
6. Cevaplarınızı, cevap kâğıdındaki ilgili soru numarasını dikkate alarak yuvarlağın dışına taşırmadan kodlayınız.
7. Soru kitapçığının sayfalarını kontrol ediniz, baskı hatası var ise değiştirilmesini sağlayınız.
8. Soruların çözümü için size ayrıca boş kâğıt verilmeyecektir. Soru kitapçığının içindeki boş alanları çözümlerinizi için kullanabilirsiniz.
9. Cevaplamaya istediğiniz sorudan başlayabilirsiniz. Cevabını bilmediğiniz sorular üzerinde fazla zaman kaybetmeden diğer sorulara geçiniz. Zamanınız kalırsa bu sorulara daha sonra dönebilirsiniz.
10. Soru kitapçığı üzerinde yapılıp cevap kâğıdına işaretlenmeyen cevaplar değerlendirme işlemine alınmayacaktır.
11. Sınav puanınızın hesaplanmasında sadece doğru cevaplarınız dikkate alınacaktır.
12. Sınav bitiminde, soru kitapçığı ve cevap kâğıdını salon görevlilerine teslim ediniz.

BAŞLAYINIZ DENİLMEYEN SORU KİTAPÇIĞINIZI AÇMAYINIZ.

1.



Diyagramdaki durum - neden ilişkisinden yukarıdaki sonuçların hangisi çıkarılamaz?

- A) IV B) III C) II D) I

2. "Fikirlerimizi, toplamı binleri aşan Harp Okulu öğrencilerine aşlamak için, daha kurmay sınıflarına geçmeden gizli bir teşkilat kurmuş, Muhittin Baha Pars'ın ağabeyi İsmail Hakkı Pars ile Ömer Naci ve birkaç arkadaşın gayreti ile el yazısı iki nüsha dergi çıkarmıştık. Liderimiz Mustafa Kemal'di. Gelebilecek sorumluluğun en büyük yükü de onun omuzlarındaydı..."

Ali Fuat Cebesoy
(Sınıf Arkadaşım Atatürk s.45)

Ali Fuat Cebesoy'un hatıralarında anlattığı bu bölümden Mustafa Kemal'in;

- I- İleri görüşlülük
II- Önderlik
III- Cesaretlilik
IV- Örgütleyicilik

özelliklerinden hangileri çıkarılabilir?

- A) I ve II B) I ve III
C) I, II ve IV D) II, III ve IV

3. İtalya, 1911 yılında Osmanlı toprağı olan Trablusgarp'a saldırdı. Osmanlı Devleti, Trablusgarp'a ordu veya donanma gönderebilecek durumda değildi. Savaş başlayınca bölgeye içinde Mustafa Kemal'in de bulunduğu bir grup genç ve gönüllü Osmanlı subayı gönderildi. Mustafa Kemal ve arkadaşları yerli halkı örgütleyerek İtalyanlara karşı başarılı mücadeleler verdiler.

Bu bilgilere dayanarak aşağıdakilerden hangisine ulaşılabilir?

- A) Osmanlı Devleti'nin ordu ve donanmasının yetersizliğine
B) Osmanlı Devleti'nin işgal karşısında tepkiziz kaldığına
C) İtalya'nın yayılmacı bir politika izlediğine
D) Subayların teşkilatçı yeteneğine

4. Yazar, Picardie Manevraları (Fransa'nın Pikardi Bölgesi'nde yapılan askerî tatbikat) sırasında Paris'te Mustafa Kemal'le yaptığı görüşmeyi şöyle özetler: "Mustafa Kemal'e manevralar konusundaki izlenimlerini sorduğumda: "Uçaklar savaşlarda çok önemli rol oynayacaktır." dedi. Havaçılık o zaman yeniydi ve sadece gözlem amaçlı kullanılıyordu. Mustafa Kemal'in görüşlerinin isabetsiz olduğunu düşündüm. Yanılmışım, nitekim dört yıl sonra I. Dünya Savaşı'nda hava gücünün kesin etkisi görüldü.

Metinde sözü edilen yazar, Mustafa Kemal'in hangi kişilik özelliğini kavrayamamıştır?

- A) Kararlılığını B) Vatansızlığını
C) İdealistliğini D) İleri görüşlülüğünü

5.

TARİH	OLAY	TÜRK ORDUSUNUN SAVAŞTIĞI DEVLET	MUSTAFA KEMAL'İN ALDIĞI RÜTBELER
1911	Trablusgarp Savaşı	İtalya	Binbaşılığa yükseldi.
1915	Çanakkale Savaşları	İttifak Devletleri	Albaylığa yükseldi.
1916	I. Dünya Savaşı'nın Kafkas Cephesi	Rusya	Tümgeneralliğe yükseldi.
1921	Sakarya Meydan Savaşı	Yunanistan	Mareşalliğe yükseldi.

Verilen tablodan, aşağıdaki sorulardan hangisinin cevabına ulaşamaz?

- A) Mustafa Kemal, hangi savaş sonrasında albay rütbesi almıştır?
- B) Osmanlı Devleti'nin 20. yüzyılda yaptığı savaşlar hangileridir?
- C) Mustafa Kemal, Kafkas Cephesi'nde hangi şehirleri kurtarmıştır?
- D) Mustafa Kemal'in en son rütbe aldığı savaş hangisidir?

6. Mustafa Kemal, Balkan Savaşları sırasında Gelibolu Yarımadası'nda görev almıştır.

Bu görev onun, aşağıdaki savaşlardan hangisinde başarı göstermesinde etkili olmuştur?

- A) Çanakkale Savaşları
- B) Trablusgarp Savaşı
- C) Sakarya Meydan Savaşı
- D) Başkomutanlık Meydan Savaşı

7. Avrupa, 20. yüzyılın başında İtilaf ve İttifak Devletleri olarak iki gruba bölünmüştü. Savaş esnasında grup dışı kalmanın tehlikeli olabileceğini düşünen Osmanlı Devleti, İngiltere ile ittifak yapmak istedi. İngiltere ise müttefiki Rusya'nın Osmanlı toprakları üzerindeki yayılcı politikası nedeniyle bu ittifak isteğini kabul etmedi. Bu gelişmeler üzerine Osmanlı devlet adamlarından Enver Paşa ve arkadaşları, Almanya'nın savaşı kazanacağını düşünerek Almanya ile ittifak arayışına girdiler. Sonuçta Osmanlı Devleti, Almanya ile gizli bir anlaşma yaptı.

Parçaya göre aşağıdakilerden hangisi, Osmanlı Devleti'nin I. Dünya Savaşı'nda Almanya'nın yanında yer alma sebeplerinden biri değildir?

- A) Almanya'nın savaşı kazanacağına olan inanç
- B) Osmanlı Devleti'nin kaybettiği toprakları geri alma düşüncesi
- C) Savaş sırasında Osmanlı Devleti'nin yalnız kalma korkusu
- D) Rusya'nın Osmanlı Devleti'nin topraklarını parçalamak istemesi

8. Millî Mücadele Dönemi'nde görülen aşağıdaki çalışmalardan hangisi, mücadelenin tek merkezden yönetilmesinin amaçlandığını göstermektedir?

- A) Tekâlif-i Milliye Emirleri'nin yayımlanması
- B) Gümrü Antlaşması'nın imzalanması
- C) Hıyanet-i Vataniye Kanunu'nun kabul edilmesi
- D) Anadolu ve Rumeli Müdafaa-i Hukuk Cemiyetinin kurulması

9. • Toros tünelleri, İtilaf Devletleri'nin kontrolüne bırakılacaktır.
• Telsiz, telgraf ve kabloların denetimi, İtilaf Devletleri'ne geçecektir.
• Osmanlı ticaret gemileri İtilaf Devletleri'ne hizmet edecektir.

Mondros Ateşkes Antlaşması'nın verilen maddelerinde, aşağıdakilerden hangisiyle ilgili karar yoktur?

- A) Ulaşım
B) Ekonomi
C) Askerî
D) Haberleşme

10. Mondros Ateşkes Antlaşması'nın imzalanmasından sonra, İtilaf Devletleri'nin Anadolu'yu işgale başlaması karşısında Osmanlı Devleti'nin tepkisiz kalması üzerine; Türk milletinin bağımsız yaşama ve vatani kurtarma duygusuyla ortaya çıkan bölgesel silahlı direniş hareketine "Kuvayımillîye" denir.

Bu tanıma göre Kuvayımillîye'nin ortaya çıkmasında, aşağıdakilerden hangisi etkili olmamıştır?

- A) Ulusal egemenliğe dayalı devlet kurma
B) Osmanlı Devleti'nin işgaller karşısındaki tutumu
C) Anadolu'nun işgal edilmesi
D) Türk halkının vatani koruma ve bağımsız yaşama arzusu

11. "...Bir ilk ışık, ilk kıpırtı doğudaki Erzurum Müdafaa-yı Hukuk Cemiyeti. Bir umut, bir canlanış Trakya'da Trakya ve Paşaeli Cemiyeti. Bir yeşil sürgün sanki ölü kütükte Trabzon ve Havalisi Koruma Cemiyeti. Ve işte bir fırtına ki, savuruvorecek Ege'yi Ve umudu değil, ölümü paylaşamayan yiğitler. Ve bir ölüm andı İzmir'deki Reddiilhak..."

Orhan ASENA

"Karalar ve Aklar Üstüne" adlı şiirin bu bölümünden millî cemiyetlerin hangi özelliği çıkarılabilir?

- A) Azınlıklara karşı ortaya çıkmaları
B) Bölgesel amaçlı kurulmaları
C) Basın-yayın yolunu kullanmaları
D) Vatansever Türk aydınları tarafından kurulmaları

12. Mustafa Kemal, İstanbul'daki Harp Okulu ve Harp Akademisinde okurken, memleket ve millet davaları ile ilgilenen, düşüncelerini cesaretle ifade etmekten çekinmeyen bir kişi olarak tanınmıştır.

Mustafa Kemal'in bu durumundan, onun;

- I - İleri görüşlü
II - Açık sözlü
III - Milliyetçi
IV - Birleştirici

özelliklerinden hangileri çıkarılabilir?

- A) I ve II
B) II ve III
C) III ve IV
D) I, II, III ve IV

13. Mustafa Kemal, Kurtuluş Savaşı'nın hazırlık döneminde işgallere karşı halkın millî birlik ve beraberliğini sağlamak için çalışmalar yapmıştır.

Aşağıdakilerden hangisi, Mustafa Kemal'in bu amaçla yaptığı çalışmalardan biri değildir?

- A) Havza Genelgesi'ni yayımlaması
- B) Millî cemiyetleri bir çatı altında toplaması
- C) İrade-i Milliye Gazetesi'ni çıkarttırması
- D) Askerlik mesleğinden istifa etmesi

14. Atatürk'ün, Türk Millî Mücadelesi'nin önderi olarak kabul görmesinde, Çanakkale Zaferi'ndeki başarıları etkili olmuştur.

Bu bilgide, Atatürk'ün Millî Mücadele'nin lideri olmasında hangi yönünün etkili olduğu vurgulanmıştır?

- A) Askerî kişiliğinin
- B) Siyasi dehasının
- C) Yenilikçi anlayışının
- D) Matematiğe merakının

15. Paris Barış Konferansı'nda İtilaf Devletleri'nin Osmanlı topraklarını paylaşma kararına, Misakımillî'nin aşağıdaki maddelerinden hangisi itiraz niteliğindedir?

- A) Türk ve Müslüman halkın çoğunluğunun bulunduğu yerler, birbirinden ayrılmaz bir bütündür.
- B) Boğazlar'ın dünya ticareti ve ulaşımına açılmasında ilgili devletlerin kararı geçerli olacaktır.
- C) Millî ve ekonomik gelişmemizi mümkün kılmak amacıyla siyasi, adli ve mali gelişmemize engel olan kapitülasyonlar kaldırılmalıdır.
- D) Azınlıkların hakları, komşu ülkelerdeki Müslümanların da aynı haklardan yararlanmaları şartıyla kabul edilecek ve sağlanacaktır.

16. "Siyasi, adli ve mali istiklalimizi yok etmeye ve sonuç olarak yaşama hakkımızı inkâra ve ortadan kaldırmaya yönelik olan Sevr Antlaşması bizce mevcut değildir."

Mustafa Kemal ATATÜRK

Bu vecizeye göre aşağıdakilerden hangisi, Mustafa Kemal'in Sevr Antlaşması'nı tanımayışının nedeni değildir?

- A) Kapitülasyonlara yer vermesi
- B) Hukuki dayanaktan yoksun oluşu
- C) Bağımsızlığımıza aykırı olması
- D) Türk halkının yaşama hakkını elinden alması

17. İstanbul Hükûmeti, dönemin şeyhülislamına Millî Mücadele'ye katılanları ve Mustafa Kemal Paşa'yı, padişaha karşı hareket edenler olarak gösteren bir fetva yayımlattı. Bu fetva ile Anadolu'da yükselen Millî Mücadele'yi durdurmayı amaçladı. Buna karşılık Mustafa Kemal Paşa da Ankara Müftüsü Mehmet Rıfat Börekçi'ye, Millî Mücadele'yi destekleyen bir fetva yayımlattı. Bu da halkın Anadolu'daki harekete olan bağlılığını artırdı.

Metindeki bu durum, Mustafa Kemal'in hangi liderlik yeteneği ile ilişkilendirilebilir?

- A) Fedakâr olma
- B) Hakikati arama
- C) Açık sözlü olma
- D) Karşılaştığı güçlükleri aşma

18. Londra Konferansı'nda İtilaf Devletleri'nin TBMM Hükûmetine verdiği ve Hükûmetin kabul etmediği teklife göre;

- Doğu Trakya, Yunanlılarda kalacak,
- Doğuda bir Ermeni devleti kurulacaktı.

TBMM Hükûmeti bu teklifi, aşağıdakilerden hangisine aykırı bulduğu için kabul etmemiştir?

- A) Lozan Barış Antlaşması'na
- B) Millî kültüre
- C) Vatanın bütünlüğüne
- D) Ekonomik bağımsızlığa

19. "II. İnönü Muharebesi'nden sonra genel seferberlik yapmış olan Yunan ordusu insan, tüfek, makineli tüfek ve top sayısı bakımından bizim ordumuzdan önemli derecede üstündü... Biz daha tümenlerimizin taşıt araçlarını bile tamamlayamadığımızdan, bunların hareket güçleri yoktu."

Nutuk II. Cilt, s. 813

Mustafa Kemal'in bu anlatımından, aşağıdakilerden hangisine ulaşamaz?

- A) Yunan ordusunun büyük ölçüde hazırlıklarını tamamladığına
- B) Türk ordusunun birçok yönden eksiklerinin bulunduğuna
- C) II. İnönü Muharebesi ile Batı Cephesi'nin kapandığına
- D) Yunan ordusunun silah ve cephane yönünden Türk ordusundan üstün olduğuna

- 20.

Batı Cephesi Komutanı ve Genelkurmay Başkanı İsmet Paşa'ya

... Siz orada yalnız düşmanı değil, milletin makus talihini de yendiniz. İstila altındaki talihsiz topraklarımızla birlikte bütün vatan, bugün en ücra köşelerine kadar zaferinizi kutluyor...

Yukarıda, Mustafa Kemal'in II. İnönü Zaferi üzerine, İsmet Paşa'ya gönderdiği telgrafın bir bölüm verilmiştir.

Mustafa Kemal telgrafında, II. İnönü Zaferi'nin halk üzerindeki hangi etkisine vurgu yapmıştır?

- A) İdari
- B) Psikolojik
- C) İktisadi
- D) Kültürel

TEST BİTTİ.
CEVAPLARINIZI KONTROL EDİNİZ.

**14 ARALIK 2014 TARİHİNDE YAPILAN 8. SINIF I. DÖNEM
T.C. İNKILAP TARİHİ VE ATATÜRKÇÜLÜK DERSİ ORTAK MAZERET SINAVI
“A” KİTAPÇIĞI CEVAP ANAHTARI**

T.C. İNKILAP TARİHİ VE ATATÜRKÇÜLÜK

1. A
2. D
3. B
4. D
5. C
6. A
7. B
8. D
9. C
10. A
11. B
12. B
13. D
14. A
15. A
16. B
17. D
18. C
19. C
20. B



T.C.
MİLLÎ EĞİTİM BAKANLIĞI

A
KİTAPÇIK TÜRÜ

8. SINIF I. DÖNEM
DİN KÜLTÜRÜ
VE AHLAK BİLGİSİ DERSİ
ORTAK (MAZERET) SINAVI
13 ARALIK 2014 Saat: 11.20

Adı ve Soyadı :
Sınıfı :
Öğrenci Numarası :

ÖĞRENCİLERİN DİKKATİNE!

1. Sınıf öğrenci yoklama listesinde belirtilen sınıfta ve sıra numarasında oturmanız gerektiğinden durumunuzu kontrol ediniz.
2. Bu sınavda cevaplayacağınız soru sayısı 20, sınav süreniz 40 dakikadır.
3. Sınav süresince dışarı çıkılmayacaktır.
4. Sınav sırasında sözlük, hesap makinesi, saat fonksiyonu dışında özellikleri bulunan saat veya çağrı cihazı, cep telefonu, telsiz, radyo ve bilgisayar özelliği bulunan elektronik cihazları yanınızda bulundurmanız hâlinde sınavınız geçersiz sayılacaktır.
5. Soruları ve sorulara verdiğiniz cevapları, yanınızda götürmek amacıyla kaydetmeyiniz; hiçbir şekilde dışarı çıkarmayınız.
6. Cevap kâğıdınızı sınav süresince hiçbir öğrencinin göremeyeceği şekilde önünüzde bulundurunuz.
7. Sınavın değerlendirilmesi aşamasında, kopya tespiti veya başka adayın sınav evrakını kullanmanız durumunda sınavınız geçersiz sayılacaktır.

CEVAP KÂĞIDI VE SORU KİTAPÇIĞI İLE İLGİLİ AÇIKLAMALAR

1. Cevap kâğıdınızdaki bilgilerin doğruluğunu kontrol ediniz ve cevap kâğıdınızı silinmeyen bir kalemle imzalayınız.
2. Cevap kâğıdındaki bilgiler size ait değilse veya cevap kâğıdı kullanılmayacak durumdaysa sınav görevlilerinin temin edeceği yedek cevap kâğıdına kimliğinizle ilgili bilgileri açıklamalar doğrultusunda yazınız ve kodlayınız.
3. Cevap kâğıdı üzerindeki kodlamaları kurşun kalemle yapınız.
4. Değiştirmek istediğiniz bir cevabı, yumuşak silgiyle cevap kâğıdını örselemeden temizce siliniz ve yeni cevabınızı kodlayınız.
5. Kitapçık türünü cevap kâğıdınızdaki ilgili alana kodlayınız. Bu kodlamayı yapmadığınız veya yanlış yaptığınız takdirde sınavınızın değerlendirilmesi doğru yapılamayacaktır.
6. Cevaplarınızı, cevap kâğıdındaki ilgili soru numarasını dikkate alarak yuvarlağın dışına taşırmadan kodlayınız.
7. Soru kitapçığının sayfalarını kontrol ediniz, baskı hatası var ise değiştirilmesini sağlayınız.
8. Soruların çözümü için size ayrıca boş kâğıt verilmeyecektir. Soru kitapçığının içindeki boş alanları çözümlerinizi için kullanabilirsiniz.
9. Cevaplamaya istediğiniz sorudan başlayabilirsiniz. Cevabını bilmediğiniz sorular üzerinde fazla zaman kaybetmeden diğer sorulara geçiniz. Zamanınız kalırsa bu sorulara daha sonra dönebilirsiniz.
10. Soru kitapçığı üzerinde yapılıp cevap kâğıdına işaretlenmeyen cevaplar değerlendirme işlemine alınmayacaktır.
11. Sınav puanınızın hesaplanmasında sadece doğru cevaplarınız dikkate alınacaktır.
12. Sınav bitiminde, soru kitapçığı ve cevap kâğıdını salon görevlilerine teslim ediniz.

BAŞLAYINIZ DENİLMEYEN SORU KİTAPÇIĞINIZI AÇMAYINIZ.

1. Yüce Allah; balıkları suda solunum yapabilmeleri için solungaçlı, kuşları uçabilmeleri için kanatlı yaratmıştır. Aynı şekilde etle beslenen hayvanların çene yapısı, otlarla beslenenlerin çene yapısından farklıdır.

Bu parçada Allah'ın evrende koyduğu yasaların hangisinden söz edilmektedir?

- A) Fiziksel yasalardan
B) Biyolojik yasalardan
C) Kimyasal yasalardan
D) Toplumsal yasalardan

2. "Allah kimseye gücünün üstünde bir yük yüklemeyiz. Herkesin kazandığı ya kendi lehine ya da aleyhinedir..."

(Bakara Suresi, 286. ayet)

Bu ayet, aşağıdakilerden hangisiyle ilişkilendirilebilir?

- A) Sorumluluk
B) İşbirliği
C) Paylaşma
D) Hoşgörü

3. Aşağıdakilerden hangisi Hz. Muhammed'in; "Önce deveni bağla, sonra Allah'a tevekkül et." sözüne uygun bir davranış değildir?

- A) Evden çıkarken kapıyı kilitlemek
B) Araç kullanırken emniyet kemeri takmak
C) Sağa sola baktıktan sonra karşıya geçmek
D) Zemin kontrolü yapmadan inşaat yapmak

4. "Sizden herhangi birinizin sırtına bir bağ odun yüklenip satması, dilenmesinden hayırlıdır."

(Hadis-i Şerif)

Bu hadisteki ana düşünce aşağıdakilerden hangisidir?

- A) Kadere razı olmak
B) Meslek sahibi olmak
C) Çalışarak kazanmak
D) Allah'a tevekkül etmek

5. Evrendeki hayat, Allah'ın koyduğu düzen ve ölçü içerisinde devam eder.

Aşağıdaki ayetlerden hangisi bu düşünceyi desteklemektedir?

- A) "Gökleri yedi kat yaratan O'dur. Rahman'ın yaratmasında bir düzensizlik göremezsin..."
(Mülk Suresi, 3. ayet)
B) "Dinde zorlama yoktur. Artık doğrulukla eğrilik birbirinden ayrılmıştır..."
(Bakara Suresi, 256. ayet)
C) "Onlar için büyük bir bağışlanma ve rızık vardır..."
(Sebe Suresi, 4. ayet)
D) "Allah'ın sana iyilik yaptığı gibi sen de insanlara iyilik yap..."
(Kasas Suresi, 77. ayet)

6. “Kim hidayet yolunu seçerse, bunu ancak kendi iyiliği için seçmiş olur; kim de doğruluktan saparsa, kendi zararına sapsin olur. Hiçbir günahkâr, başkasının günahını yüklenmez...”

(İsra Suresi, 15. ayet)

Bu ayeti kavrayan bir kişiden aşağıdakilerden hangisi beklenmez?

- A) Sorumluluğunun bilincinde olması
- B) Doğru ve güzel davranışlar sergilemesi
- C) Kötü ve çirkin davranışlardan kaçınması
- D) Başına gelenlerden başkalarını sorumlu tutması

7. Aşağıdakilerden hangisini insan kendi iradesi ile elde eder?

- A) Mesleğini
- B) İrkını
- C) Cinsiyetini
- D) Rengini

8. Aşağıdakilerden hangisi yardımlaşma ve paylaşmaya engel bir tutum değildir?

- A) Cimrilik
- B) Bencilik
- C) Cömertlik
- D) Açgözlülük

9. “Allah’tan başka ilah yoktur. O, hayat sahibidir ve diridir. Kendisine ne uyku gelir ne de uyuklama. Göklerde ve yerdekilerin hepsi O’nundur. İzni olmadan O’nun katında kim şefaate edebilir? O, kullarının yaptıklarını ve yapacaklarını bilir. Kullar, O’nun diledikleri dışında O’nun ilminden hiçbir şeyi kuşatamazlar. Kürsüsü gökleri ve yeri kaplamıştır. Onları korumak O’na zor gelmez. O; yücedir, büyüktür.”

(Bakara Suresi, 255. ayet)

Bu ayetin (Ayete’l - Kürsi) konusu aşağıdakilerden hangisidir?

- A) Ramazan ayı ve orucun önemi
- B) Hac ve kurbanın dinimizdeki yeri
- C) Zekat ve sadakanın toplumsal değeri
- D) Allah’ın yüce sıfatları ve eşsiz kudreti

10. “Bilsin ki insan için kendi çalışmasından başka bir şey yoktur. Çalışması da ileride görülecektir. Sonra ona karşılığı tastamam verilecektir.” (Necm Suresi, 39-41. Ayetler)

Bu ayetler aşağıdaki kavramlardan hangileriyle ilgilidir?

- A) Ecel - Ömür
- B) Akıl - İrade
- C) Emek - Rızık
- D) Hayır - Şer

11. Toplumlarda farklı mesleklerin ortaya çıkması aşağıdakilerden hangisiyle doğrudan ilgili değildir?

- A) Paylaşma
- B) Özgürleşme
- C) Dayanışma
- D) Yardımlaşma

12. “Üç kişiden sorumluluk kaldırılmıştır:
Akli olmayandan, uyuyandan ve çocuktan.”
(Hadis-i Şerif)

Bu hadiste verilmek istenen ana düşünce aşağıdakilerden hangisidir?

- A) Bütün insanlar eşit haklara sahiptir.
B) İnsan, sorumluluk bilinciyle hareket etmelidir.
C) Allah, her varlık için belli bir kader belirlemiştir.
D) Sorumluluk; akıllı ve irade sahibi olmayı gerektirir.

13. Paylaşma ve yardımlaşma ile ilgili olarak aşağıdakilerden hangisi söylenemez?

- A) Sorumluluk duygusunu geliştirir.
B) Birlik ve beraberliği kuvvetlendirir.
C) Toplumsal barış ve huzura katkı sağlar.
D) Zenginlerle fakirler arasındaki bağı zayıflatır.

14. I- İnsan, sınırsız bir özgürlüğe sahiptir.
II- Akıllı insan, davranışlarından sorumludur.
III- Özgürlük ile sorumluluk arasında ilişki yoktur.

Yukarıdaki ifadelerden hangisi doğrudur?

- A) Yalnız II
B) Yalnız III
C) I ve II
D) I ve III

15. Furkan : “Her toplumun belirlenmiş bir eceli vardır. Ecelleri geldiğinde onu ne bir an erteleyebilirler ne de bir an öne alabilirler.”
(A’raf Suresi, 34. ayet)

Yeşim : “Onlar yeryüzünde gezip kendilerinden öncekilerin sonunun nasıl olduğuna bakmazlar mı? ...”
(Fatır Suresi, 44. ayet)

Ömer : “Bir toplum kendinde bulunan özellikleri değiştirmedikçe Allah da onlarda bulunanı değiştirmez.”
(Ra’d Suresi, 11. ayet)

Burcu : “Güneş ve ay bir hesaba göre hareket etmektedir. Göğü Allah yükseltti ve dengeyi O koydu.”
(Rahman Suresi, 5 ve 7. ayetler)

Yukarıdaki öğrencilerden hangisinin okuduğu ayet, Allah’ın evrene koyduğu fiziksel yasalara örnektir?

- A) Furkan
B) Yeşim
C) Ömer
D) Burcu

16. “Kul, kardeşine yardım ettiği sürece Allah da ona yardım eder.”

(Hadis-i Şerif)

Bu hadis, aşağıdaki konulardan hangisiyle ilgilidir?

- A) Hoşgörü
B) Dayanışma
C) Sabır
D) Çalışma

17. I- Ak akçe kara gün içindir.
II- Sakla samanı, gelir zamanı.
III- Ne verirsen elinle, o gelir seninle.
IV- Bakarsan bağ, bakmazsan dağ olur.
- Yukarıda verilen atasözlerinden hangisi İslam'ın paylaşma ve yardımlaşmaya verdiği önemi dile getirmektedir?
- A) I B) II C) III D) IV

18. Yıldızlar bir adım yolundan şaşmaz,
Dağlar haddin bilir, denizler taşmaz,
Karıncanın yükü, boyunu aşmaz,
Bunca dengelerin farkında mısın?
Cengiz Numanoğlu
- Bu şiirin ana düşüncesi aşağıdakilerden hangisidir?
- A) Doğanın dengesi korunmalıdır.
B) Verilen nimetlere şükredilmelidir.
C) Her şey bir ölçüye göre yaratılmıştır.
D) Her canlıya belli bir ömür verilmiştir.

19. "... kararını verdiğin zaman artık Allah'a güven. Çünkü Allah, kendisine güvenenleri sever."
(Âl-i İmran Suresi, 159. ayet)
- Bu ayet, aşağıdaki kavramlardan hangisiyle doğrudan ilgilidir?
- A) Tevekkül B) Kaza
C) İbadet D) Ahlak

20. İnsanın verdiği kararlar, yaptığı işler kendi tercihidir. Bu nedenle insanların, başlarına gelen olumsuzlukları kadere bağlayarak sorumluluktan kaçmaları yanlıştır.
- Bu paragrafta insanın hangi özelliği vurgulanmıştır?
- A) Çalışkanlığı B) Sorumluluğu
C) Aceleciliği D) Fedakârlığı

TEST BİTTİ.
CEVAPLARINIZI KONTROL EDİNİZ.

**13 ARALIK 2014 TARİHİNDE YAPILAN 8. SINIF I. DÖNEM
DİN KÜLTÜRÜ VE AHLAK BİLGİSİ DERSİ ORTAK MAZERET SINAVI
“A” KİTAPÇIĞI CEVAP ANAHTARI**

DİN KÜLTÜRÜ VE AHLAK BİLGİSİ

1. B
2. A
3. D
4. C
5. A
6. D
7. A
8. C
9. D
10. C
11. B
12. D
13. D
14. A
15. D
16. B
17. C
18. C
19. A
20. B



T.C.
MİLLÎ EĞİTİM BAKANLIĞI

A

KİTAPÇIK TÜRÜ

8. SINIF I. DÖNEM
İNGİLİZCE DERSİ
ORTAK (MAZERET) SINAVI
14 ARALIK 2014 Saat: 11.20

Adı ve Soyadı :
Sınıfı :
Öğrenci Numarası :

ÖĞRENCİLERİN DİKKATİNE!

1. Sınıf öğrenci yoklama listesinde belirtilen sınıfta ve sıra numarasında oturmanız gerektiğinden durumunuzu kontrol ediniz.
2. Bu sınavda cevaplayacağınız soru sayısı 20, sınav süreniz 40 dakikadır.
3. Sınav süresince dışarı çıkılmayacaktır.
4. Sınav sırasında sözlük, hesap makinesi, saat fonksiyonu dışında özellikleri bulunan saat veya çağrı cihazı, cep telefonu, telsiz, radyo ve bilgisayar özelliği bulunan elektronik cihazları yanınızda bulundurmanız hâlinde sınavınız geçersiz sayılacaktır.
5. Soruları ve sorulara verdiğiniz cevapları, yanınızda götürmek amacıyla kaydetmeyiniz; hiçbir şekilde dışarı çıkarmayınız.
6. Cevap kâğıdınızı sınav süresince hiçbir öğrencinin göremeyeceği şekilde önünüzde bulundurunuz.
7. Sınavın değerlendirilmesi aşamasında, kopya tespiti veya başka adayın sınav evrakını kullanmanız durumunda sınavınız geçersiz sayılacaktır.

CEVAP KÂĞIDI VE SORU KİTAPÇIĞI İLE İLGİLİ AÇIKLAMALAR

1. Cevap kâğıdınızdaki bilgilerin doğruluğunu kontrol ediniz ve cevap kâğıdınızı silinmeyen bir kalemle imzalayınız.
2. Cevap kâğıdındaki bilgiler size ait değilse veya cevap kâğıdı kullanılmayacak durumdaysa sınav görevlilerinin temin edeceği yedek cevap kâğıdına kimliğinizle ilgili bilgileri açıklamalar doğrultusunda yazınız ve kodlayınız.
3. Cevap kâğıdı üzerindeki kodlamaları kurşun kalemle yapınız.
4. Değiştirmek istediğiniz bir cevabı, yumuşak silgiyle cevap kâğıdını örselemeden temizce siliniz ve yeni cevabınızı kodlayınız.
5. Kitapçık türünü cevap kâğıdınızdaki ilgili alana kodlayınız. Bu kodlamayı yapmadığınız veya yanlış yaptığınız takdirde sınavınızın değerlendirilmesi doğru yapılamayacaktır.
6. Cevaplarınızı, cevap kâğıdındaki ilgili soru numarasını dikkate alarak yuvarlağın dışına taşırmadan kodlayınız.
7. Soru kitapçığının sayfalarını kontrol ediniz, baskı hatası var ise değiştirilmesini sağlayınız.
8. Soruların çözümü için size ayrıca boş kâğıt verilmeyecektir. Soru kitapçığının içindeki boş alanları çözümlerinizi için kullanabilirsiniz.
9. Cevaplamaya istediğiniz sorudan başlayabilirsiniz. Cevabını bilmediğiniz sorular üzerinde fazla zaman kaybetmeden diğer sorulara geçiniz. Zamanınız kalırsa bu sorulara daha sonra dönebilirsiniz.
10. Soru kitapçığı üzerinde yapılıp cevap kâğıdına işaretlenmeyen cevaplar değerlendirme işlemine alınmayacaktır.
11. Sınav puanınızın hesaplanmasında sadece doğru cevaplarınız dikkate alınacaktır.
12. Sınav bitiminde, soru kitapçığı ve cevap kâğıdını salon görevlilerine teslim ediniz.

BAŞLAYINIZ DENİLMEYEN SORU KİTAPÇIĞINIZI AÇMAYINIZ.

1-10. sorularda boş bırakılan yere uygun gelen kelime ya da ifadeyi işaretleyiniz.

1. Amy is not because she always lies to people. Nobody likes her.

- A) trustworthy B) hardworking
C) understanding D) bad-tempered

2. Snow symbolizes unexpressed emotions. If you see snow in your dream, you

- A) will reach your goals easily.
B) will have to protect yourself.
C) are bad at showing your feelings.
D) are with your friends in bad times.

3. If not, you'll forget everything easily.

- A) Listen to people's problems.
B) Always express your feelings.
C) Study your notes after the lessons.
D) Feel anxious during the exams.

4. Ercan : I think Tom is not a good friend.
George: Are you sure?

Ercan : He always treats me badly and breaks my heart. He is also stingy and selfish.

- A) Never mind! B) Thank God.
C) Unbelievable! D) Absolutely.

5. Ersan : You look unhappy. What is the problem?

Ken : I have an English exam tomorrow. What should I do to pass it?

Ersan : Yes. First, relax and try studying your notes.

- A) Won't you study?
B) Got any ideas?
C) What about it?
D) Is that OK?

6. Lena : According to the studies, we can still be awake while we are sleeping.

Mehmet :

Lena : Well, we lose consciousness, but our subconscious mind still works.

- A) Why should I sleep?
B) What do they study?
C) When are we awake?
D) How does that happen?

7. Dennis :

Mark : I play basketball with friends in the gym.

- A) What do you do in your spare time?
- B) How often do you do sports?
- C) What do you do at home?
- D) What do you want to do?

8. Eda : You always do what you want!

Helen:

Eda : Act less selfishly, dear.

- A) Why do you make surprises?
- B) What do you expect me to do?
- C) How do you solve your problems?
- D) What kind of problems do you have?

9. Burak: Elif is my best friend.

John : What kind of person is she?

Burak: So, I never get bored with her.

- A) She is bad-tempered and breaks my heart.
- B) She is lazy and usually gets bad marks.
- C) She is cheerful and does funny things.
- D) She is generous and likes to share.

10.

What should I do to lose weight? Give me some advice, please.



.....



- A) You should prefer fresh fruit and vegetables to junk food.
- B) You had better wash your hair with a shampoo for dandruff.
- C) You should moisturise your feet to keep them smooth and soft.
- D) You had better prefer herbal products for your skin and hair.

11. Aşağıda verilen karşılıklı konuşmada boş bırakılan yere hangi seçenek getirilemez?

Tim : Do you have any plans for this summer?

Cem: Well, no.

Tim : Why don't you come to Italy with me?

Cem:

- A) Great!
- B) Good idea.
- C) OK!
- D) Anyway.

12. Aşağıda verilen bilgilere göre doğru olan seçeneği işaretleyiniz.

Ezgi

- can figure out cause and effect.
- works with numbers.

Damla

- knows her feelings but can't express them.
- has talent in music.

- A) Damla is bad at explaining emotions.
 B) Ezgi is bad at solving problems.
 C) Damla is good at numbers.
 D) Ezgi is good at music.

13. Aşağıda verilen cümlelere göre Arda'nın yapamadığı davranışın bulunduğu seçeneği işaretleyiniz.


When he was 5 ...

- Arda could tie his shoelaces.
- Arda could do puzzles easily.
- Arda could read a newspaper.

A)



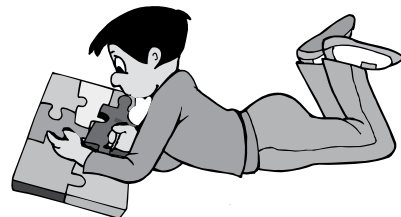
B)



C)



D)




14. Aşağıda verilen metni ifade eden seçeneği işaretleyiniz.

"I had a very strange dream last night. I was alone in a pool full of dolphins. We were swimming together."


A)



B)






C)



D)



15-16 ve 17. soruları aşağıda verilen metne göre cevaplayınız.

<p>Auditory Learners</p> 	<p>They learn best by listening. They prefer reading aloud. They like discussions, listening to other people and talking about events. They remember names easily and they are good at explaining things.</p>
<p>Visual Learners</p> 	<p>They learn best by seeing. They prefer pictures, videos, flash cards and hand-outs. Body language and facial expressions are important for them. They forget names but remember faces.</p>
<p>Kinaesthetic Learners</p> 	<p>They learn best by doing and touching. They prefer walking and moving. They are good at sports and building something with their hands. They don't like sitting for long periods.</p>

15. Auditory learners enjoy

- A) sitting for long periods
- B) pictures and flash cards
- C) talking about things
- D) walking and moving

16. Visual learners learn best

- A) if the teacher uses body language.
- B) if they listen to other people.
- C) through repeating people's names.
- D) through materials about sports.

17. Kinaesthetic learners are good at

- A) explaining things with pictures
- B) learning with flashcards
- C) singing in different languages
- D) building things with hands

18-19 ve 20. soruları aşağıda verilen metne göre cevaplayınız.

Normally, a little bit test anxiety is good for students because it keeps you alert. But too much anxiety means there is a big problem. If you want to get rid of your anxiety, do the following:

First, develop good study habits. If you know how to study, you will have confidence.

Second, always be prepared. If you take a test unprepared, you will be very anxious. So, you can fail.

Also, have a good rest in the night before the exam. And have a good breakfast in the morning.

Finally, try to stay positive and relaxed. Don't think about failing the test. Take slow and deep breaths and just say "I will be successful."

18. What is bad for students during tests?

- A) Having a little anxiety.
- B) Thinking about failing.
- C) Taking deep breaths.
- D) Having confidence.

19. What should students do in the night before the exam?

- A) They should stay awake.
- B) They should eat too much.
- C) They should have breakfast.
- D) They should have a good rest.

20. Students have confidence if they

- A) know how to study
- B) fail the test
- C) are unprepared
- D) are very anxious

TEST BİTTİ.

CEVAPLARINIZI KONTROL EDİNİZ.

**14 ARALIK 2014 TARİHİNDE YAPILAN 8. SINIF I. DÖNEM
İNGİLİZCE DERSİ ORTAK MAZERET SINAVI
“A” KİTAPÇIĞI CEVAP ANAHTARI**

İNGİLİZCE

1. A
2. C
3. C
4. D
5. B
6. D
7. A
8. B
9. C
10. A
11. D
12. A
13. B
14. C
15. C
16. A
17. D
18. B
19. D
20. A