



T.C.
MİLLÎ EĞİTİM BAKANLIĞI

A

KİTAPÇIK TÜRÜ

8. SINIF I. DÖNEM TÜRKÇE DERSİ

ORTAK SINAVI

26 KASIM 2014 Saat: 09.00

Adı ve Soyadı :
Sınıfı :
Öğrenci Numarası :

ÖĞRENCİLERİN DİKKATİNE!

1. Sınıf öğrenci yoklama listesinde belirtilen sınıfta ve sıra numarasında oturmanız gerektiğinden durumunuzu kontrol ediniz.
2. Bu sınavda cevaplayacağınız soru sayısı 20, sınav süreniz 40 dakikadır.
3. Sınav süresince dışarı çıkılmayacaktır.
4. Sınav sırasında sözlük, hesap makinesi, saat fonksiyonu dışında özellikleri bulunan saat veya çağrı cihazı, cep telefonu, telsiz, radyo ve bilgisayar özelliği bulunan elektronik cihazları yanınızda bulundurmanız hâlinde sınavınız geçersiz sayılacaktır.
5. Soruları ve sorulara verdiğiniz cevapları, yanınızda götürmek amacıyla kaydetmeyiniz; hiçbir şekilde dışarı çıkarmayınız.
6. Cevap kâğıdınızı sınav süresince hiçbir öğrencinin göremeyeceği şekilde önünüzde bulundurunuz.
7. Sınavın değerlendirilmesi aşamasında, kopya tespiti veya başka adayın sınav evrakını kullanmanız durumunda sınavınız geçersiz sayılacaktır.

CEVAP KÂĞIDI VE SORU KİTAPÇIĞI İLE İLGİLİ AÇIKLAMALAR

1. Cevap kâğıdınızdaki bilgilerin doğruluğunu kontrol ediniz ve cevap kâğıdınızı silinmeyen bir kalemle imzalayınız.
2. Cevap kâğıdındaki bilgiler size ait değilse veya cevap kâğıdı kullanılmayacak durumdaysa sınav görevlilerinin temin edeceği yedek cevap kâğıdına kimliğinizle ilgili bilgileri açıklamalar doğrultusunda yazınız ve kodlayınız.
3. Cevap kâğıdı üzerindeki kodlamaları kurşun kalemle yapınız.
4. Değiştirmek istediğiniz bir cevabı, yumuşak silgiyle cevap kâğıdını örselemeden temizce siliniz ve yeni cevabınızı kodlayınız.
5. Kitapçık türünü cevap kâğıdınızdaki ilgili alana kodlayınız. Bu kodlamayı yapmadığınız veya yanlış yaptığınız takdirde sınavınızın değerlendirilmesi doğru yapılamayacaktır.
6. Cevaplarınızı, cevap kâğıdındaki ilgili soru numarasını dikkate alarak yuvarlağın dışına taşırmadan kodlayınız.
7. Soru kitapçığının sayfalarını kontrol ediniz, baskı hatası var ise değiştirilmesini sağlayınız.
8. Soruların çözümü için size ayrıca boş kâğıt verilmeyecektir. Soru kitapçığının içindeki boş alanları çözümlerinizi için kullanabilirsiniz.
9. Cevaplamaya istediğiniz sorudan başlayabilirsiniz. Cevabını bilmediğiniz sorular üzerinde fazla zaman kaybetmeden diğer sorulara geçiniz. Zamanınız kalırsa bu sorulara daha sonra dönebilirsiniz.
10. Soru kitapçığı üzerinde yapılarak cevap kâğıdına işaretlenmeyen cevaplar değerlendirme işlemine alınmayacaktır.
11. Sınav puanınızın hesaplanmasında sadece doğru cevaplarınız dikkate alınacaktır.
12. Sınav bitiminde, soru kitapçığı ve cevap kâğıdını salon görevlilerine teslim ediniz.

BAŞLAYINIZ DENİLMEDEN SORU KİTAPÇIĞINIZI AÇMAYINIZ.

1. “Dönmek” sözcüğü aşağıdaki cümlelerin hangisinde mecaz anlamıyla kullanılmıştır?

- A) Evdeyken anahtarın gıcırtyyla döndüğünü duydum.
 B) Kısa sürede burada bir şeyler döndüğünü anladım.
 C) Babam gazete okurken birdenbire bana döndü.
 D) Ertesi gün aynı yoldan eve döndük.

2. İşini üstünkörü yaptığı için istediği sonucu elde edemedi.

Bu cümledeki altı çizili kelimenin anlamını veren sözcük aşağıdakilerin hangisinde vardır?

- A) Dans etmeyi bir arkadaşından gelişigüzel öğrendiğini söyledi.
 B) Hafta sonu arkadaşlarıyla günübirlik bir gezi planladı.
 C) Tatilden önce giderayak bütün işlerini tamamladı.
 D) Dar sokaklarda başıboş dolaşır, eski Anadolu evlerini seyrederdi.

3. Aşağıdaki cümlelerin hangisinde “ciddi” sözcüğü, karşısında verilen anlama uygun olarak kullanılmıştır?

	Cümle	Anlam
A)	Ciddi bir gazetede, genç bir yazarın sözleri beni etkilemişti.	Ağırbaşlı
B)	Araştırmacı, konu üzerinde ciddi bir inceleme yapacağını söyledi.	Titizlik gösterilen, önem verilen
C)	Size bunu ciddi söyledim, yalan değil.	Tehlikeli, endişe veren
D)	Ben, onu çok ciddi bir genç olarak tanırım.	Şaka olmayan, gerçek

4. 1. Çocuklarıma onu örnek gösterdiğimi, ağzı kulaklarına vararak dinliyordu.
 2. Bu çalışmada ağzı laf yapandan çok, eli işe yatkın kişilere ihtiyacımız var.
 3. Havanın kararmasıyla tekneler körfezin ağzına sıra sıra dizildi.
 4. Öyle kişiler var ki konuştuklarında ağızlarından bal damlıyor sanırsın.

Numaralandırılmış cümlelerin hangisinde “ağız” sözcüğü, bir deyim içinde kullanılmamıştır?

- A) 1 B) 2 C) 3 D) 4

5. (1) Yazarın esprili ve çocukça üslubu, hemen dikkati çekiyor. (2) Dünyayı çocukla aynı seviyeden gören bakış açısını pek az çocuk yazarı bu kadar iyi yansıtabiliyor. (3) Mavi bir kitap ayracıyla piyasaya sunulan kitap, yüz iki sayfadan oluşuyor. (4) Kahramanın başından geçen olayları onun ağzından sade ve sıcak bir dille okuyorsunuz.

Numaralandırılmış cümlelerden hangisi belirttiği öznel ve nesnel yargı yönüyle diğerlerinden farklıdır?

- A) 1 B) 2 C) 3 D) 4

6. Aşağıdaki metinlerden hangisi farklı bir kişi ağzıyla anlatılmıştır?

- A) Güneş denize yaklaşına kadar adada dolanıyorum. Artık benden başka kimse yaşamıyor bu adada. Başka bir canlı görme şansım yok mu diye düşünürken yanı başımda bir tavşan beliriyor.
- B) Uzun, kahverengi bir ağaç gibi duruyordu pencerenin ardında. Yüzünün genç çizgilerinde, dünyanın bütün gerçeklerini kabullendiğini ortaya koyan bir anlam vardı.
- C) Bahçenin kenarından geçerek Arnavutköy'ün tepelerine doğru yürürken burnumuza hâlâ menekşe kokuları geliyordu. Zamanın nasıl geçtiğini fark etmedik.
- D) Caddede kısa bir gezinti yapmak üzere evden çıktım. Sokak kapısının az ilerisinde fenerin yanında birini gördüm. Bana tanıdık gelen bu yüzün kim olduğunu anlamak için iyice yanına yaklaştım.

7. Edebî eserler yazdıkları dilin havasını taşır. Yazmanın sırrı da yazarın soluduğu bu havayı okurlara solutmaktır. Ben de eserlerimde Türkçenin havasını okurlarıma solutmaya çabalarım. Mesela, dilimizdeki renk adlarının pek çoğunu eserlerimde bulabilirsiniz. Dil, yazının da yazarın da onurudur. Türkçenin havasını okuyucusuna solutan yazarlar, bu gerçeğe inananlardır.

Yazar, bu metindeki altı çizili ifadeyle aşağıdakilerden hangisini anlatmak istemiştir?

- A) Dil bilgisi kurallarına sıkı sıkıya uyduğunu
- B) Türkçenin gelişmiş bir bilim dili olduğunu
- C) Eserlerini yazabilmek için çok emek harcadığını
- D) Dilin güzellik ve inceliklerini hissettirmeye çalıştığını

8. Bilgi ve görgüyü özümseyen, gerçekleri araştırıp kültür ve erdem sahibi olan insanlar, en güzel davranışın insanı saymak olduğunu bilirler. İnsanlara hoşgörü ve sevgiyle yaklaşmayı ilke edinirler. Bilgi, görgü ve erdemleri ne kadar yoğunsa o kadar olgunluğa ulaşırlar. Bu olgunlukla ölçülü ve alçak gönüllü davranırlar.

Bu metnin ana fikrini ifade eden atasözü aşağıdakilerden hangisidir?

- A) Ağaç yaprağıyla gürler.
- B) Yemişsiz ağaca taş atmazlar.
- C) Ağaç ne kadar uzasa göğe ermez.
- D) Ağacın meyvesi olunca başını aşağı salar.

9. Tekerlemelerin ardından bu dünyaya çeviririz gözlerimizi; alabildiğine dal budak salan hayallerimiz bu dünyanın renkli ve esrarlı sonsuzluğu içinde doyum kazanır. Yine bu dünyanın mucizeleri ile küçük dünyamızı kendimizce oluşturur, sihirli bir değnekle dar sınırları istediğimiz gibi genişletiriz. Gönlümüzce Kaf Dağı'nın sultanı, gönlümüzce periler ülkesinin devi oluruz.

Metne göre yazarın "bu dünya" ifadesiyle kastettiği tür aşağıdakilerden hangisidir?

- A) Masal
- B) Hikâye
- C) Roman
- D) Anı

10. Oyuncular yan yana oturur. İçlerinden biri oyunu başlatmak üzere seçilir. Tüm oyuncular önce ellerini iki kez bacaklarına vurur, sonra iki kez el çırpar, sonra da iki kez parmaklarını şıklatır. İlk oyuncu parmaklarını şıklatırken önce kendi adını sonra da başka bir oyuncunun adını söyler. Sıra, adı söylenen oyuncuya geçer. El hareketlerinde ya da adlarını söylemede hata yapan oyundan çıkar. Oyuncu sayısı azaldıkça hareketler daha hızlı yapılır. En sona kalan oyunu kazanır.

Bu oyunla ilgili olarak aşağıdakilerden hangisine değinilmemiştir?

- A) Nasıl oynandığına
- B) Kaç kişiyle oynandığına
- C) Nasıl tamamlandığına
- D) Kazananın belirlenmesine

11. 1. Zemin katta küçük bir lokanta vardı.
2. Ondan yukarıda ise terzilerin, müzisyenlerin, doktorların tabelaları bulunuyordu.
3. Delikanlı, kalabalığın uzağında durarak iş merkezine aşağıdan yukarıya doğru şöyle bir göz gezdirdi.
4. Elektrikli tabelanın bulunduğu ikinci kat dış polikliniği idi.
5. Geniş pencereleri olan birinci katta çanta ve ayakkabı satan dükkânlar sıralıydı.
6. Bina dört katlıydı.

Numaralandırılmış cümleler, mantık akışına göre nasıl sıralanmalıdır?

- A) 6, 5, 4, 3, 1, 2
- B) 3, 4, 2, 6, 1, 5
- C) 3, 6, 1, 5, 4, 2
- D) 6, 1, 2, 4, 3, 5

12. Çocukluk dönemi hafızada hep taze kalır. Buradaki anılarımız tamamen kaybetmediğimiz, her fırsatta dönüp baktığımız bir fotoğraf albümü gibidir. Yeri geldiğinde hemen kapağı açılır, anılar yeniden canlanır.

Bu metinde aşağıdaki düşünceyi geliştirme yollarından hangisi kullanılmıştır?

- A) Benzetme
- B) Örnekleme
- C) Tanık gösterme
- D) Karşılaştırma

13. Nicedir bir öykü yazmayı düşünüyordum. Hayaller, anılar ve yaşadıklarım birden üşüştü başıma. Bilgisayarın başına oturdum. Esinlenmek midir, nedir; kırlangıç üşüşmesine benzer civıltılar duydum kafamın içinde. Bilgisayar ekranına su gibi aktı kurduğum sözcükler, parlak cümleler... Yazara bağışlanan bir "an"dır bu, kırlangıcı yakaladınsa yakaladın. Bana da bu anı değerlendirmek düştü. Önümde yazının iki kanatlı kapısı ardına kadar açıldı, içeriye adımımı atmak kaldı.

Bu metnin yazarı için aşağıdakilerden hangisi söylenebilir?

- A) Kullandığı sözcüklere yeni anlamlar yüklemiştir.
- B) Sadece anılarına yer vermiştir.
- C) İlham zamanını kaçırmadan yazmaya başlamıştır.
- D) Doğa sevgisini ön plana çıkarmıştır.

14. Okumak, insanın fikir ve hayal dünyasını genişletir, zevklerini yükseltir. Okuyucu kitaplarda yeni dünyalar keşfeder, kendisini ve insanları daha iyi tanır. Dil ve anlatım yönünden güzel eserler okumak, insanın sözcük dağarcığını ve üslubunu geliştirir. Dünyaca tanınmış ve başarı göstermiş bazı kişilerin ortak sırları, kitapları sevmeleridir. Bu metinde kitap okumayla ilgili aşağıdakilerden hangisine ulaşamaz?

- A) Düşünce dünyasını geliştirir.
B) Kelime hazinesini zenginleştirir.
C) Başkalarını daha iyi anlamayı sağlar.
D) Seçici olmayı gerektirir.

15.

Bir gün şiirlerimdeki Türkçe sözcükler dediler ki: “Arkadaş, sen aynı şiirinde hem Türkçe bir sözcük kullanıp anne diyorsun hem de yabancı bir sözcük kullanıp valide diyorsun. Dizelerin içine yabancı bir sözcük koyarsan bu zengin bir dil kullanımı olmuyor. Ya bizi seç ya da onları...” Ben de başladım güzel dilimiz Türkçeyle yazmaya.

Geçen hafta bir seminer sonrası çok sevdiğim şair arkadaşımın bahçede biraz oturduk. Bana iyice yaklaşarak “selfie” pozu ver de bu anı ölümsüzleştirelim, dedi. Birden durgunlaştım. Nedenini sorduğunda, Türk Dil Kurumu vatandaşlardan gelen öneriler doğrultusunda “kendi fotoğrafını çekmek” anlamına gelen “selfie” yerine Türkçe karşılık olarak “özçekim” sözcüğünü seçti, sen de özçekimi kullansaydın mutlu olurdu, dedim.

Bu metinlerde vurgulanmak istenen ortak yön aşağıdakilerden hangisidir?

- A) Söz varlığını zenginleştirme konusuna önem vermeleri
B) Sözcüklere Türkçe karşılık bulmada toplumun görüşünü dikkate almaları
C) Yabancı sözcüklerin yerine Türkçelerini kullanmayı özendirmeleri
D) Yabancı dillerden alınmış ve dilimize yerleşmiş sözcükleri sıkça kullanmaları

16. Elbette... Ben, dile dayalı bir gösteri sanatının temsilcisiyim. Bu anlamda edebiyat eğitimi almış olmam, kelime hazinemini geliştirmeme ve kendimi doğru cümlelerle ifade etmeme katkıda bulundu. Ayrıca, ruh zenginliğimi de artırdı. Felsefe eğitimi ise dünyaya bakış açımı ve estetik anlayışımı geliştirdi. Her ikisinin kaynaşması benim sahnedeki başarımın temel etmenlerinden biridir.

Sanatçı, bu metinde aşağıdaki soruların hangisine cevap vermiştir?

- A) Sanat yeteneği kendi kendine geliştirilebilir mi?
B) Farklı alanlarda aldığınız eğitimlerin sanatınıza katkısı oldu mu?
C) Çok okumak hayatınıza yön verdi mi?
D) Bir sanatçı belli kişisel becerilere sahip olmalı mıdır?

17. Ormanlar, maziye hatırlatan gölgeli yollar, sürü hâlinde uçuşan kuşlar, beni daima etkilemiştir.

Bu cümlede virgölün kullanımıyla ilgili aşağıdakilerden hangisi söylenebilir?

- A) Birbiri ardınca sıralanan eş görevli kelime ve kelime gruplarının arasına konmuştur.
B) Sıralı cümleleri birbirinden ayırmak için konmuştur.
C) Uzun cümlelerde yüklemden uzak düşmüş olan özneyi belirtmek için konmuştur.
D) Cümle içindeki ara sözleri veya ara cümleleri ayırmak için konmuştur.

18. Kitapta, beş duyumuzla tanıyıp
1
hoşlandığımız şeylerden, verimli çalışmanın
2
dozulmaz sevincinden ve birbirimize duydu-
ğumuz sevgiden söz eden şiirler bulunuyor.
3 4
Bu cümlede numaralandırılmış kelimelerden
hangisi fiilimsidir?

- A) 1 B) 2 C) 3 D) 4

19. Yakın arkadaşım ... köşe yazarlığı yaptı.
Bu cümlede üç nokta ile belirtilen yere
aşağıdakilerden hangisi getirilirse cümle,
yer tamlayıcısı kazanmış olur?

- A) gençlik yıllarında B) geçen sene
C) başarıyla D) bir dergide

20. Bütün gece yağan karın kapadığı yollar
nihayet açıldı.

Bu cümledeki altı çizili kelimeyle aynı türde
olan fiilimsi, aşağıdakilerin hangisinde yer
almaktadır?

- A) Habersiz gelişi hepimizi sevince boğdu.
B) Eve gidince bu konuyu konuşuruz.
C) Sorulara düşünerek cevap veriyordu.
D) Yolda okunacak bir kitap istiyorum.

TEST BİTTİ.
CEVAPLARINIZI KONTROL EDİNİZ.

**26 KASIM 2014 TARİHİNDE YAPILAN 8. SINIF I. DÖNEM
TÜRKÇE ORTAK SINAVI
“A” KİTAPÇIĞI CEVAP ANAHTARI**

TÜRKÇE

1. B
2. A
3. B
4. C
5. C
6. B
7. D
8. D
9. A
10. B
11. C
12. A
13. C
14. D
15. C
16. B
17. A
18. B
19. D
20. D



T.C.
MILLÎ EĞİTİM BAKANLIĞI

A

KİTAPÇIK TÜRÜ

8. SINIF I. DÖNEM
MATEMATİK DERSİ
ORTAK SINAVI
26 KASIM 2014 Saat: 10.10

Adı ve Soyadı :
Sınıfı :
Öğrenci Numarası :

ÖĞRENCİLERİN DİKKATİNE!

1. Sınıf öğrenci yoklama listesinde belirtilen sınıfta ve sıra numarasında oturmanız gerektiğinden durumunuzu kontrol ediniz.
2. Bu sınavda cevaplayacağınız soru sayısı 20, sınav süreniz 40 dakikadır.
3. Sınav süresince dışarı çıkılmayacaktır.
4. Sınav sırasında sözlük, hesap makinesi, saat fonksiyonu dışında özellikleri bulunan saat veya çağrı cihazı, cep telefonu, telsiz, radyo ve bilgisayar özelliği bulunan elektronik cihazları yanınızda bulundurmanız hâlinde sınavınız geçersiz sayılacaktır.
5. Soruları ve sorulara verdiğiniz cevapları, yanınızda götürmek amacıyla kaydetmeyiniz; hiçbir şekilde dışarı çıkarmayınız.
6. Cevap kâğıdınızı sınav süresince hiçbir öğrencinin göremeyeceği şekilde önünüzde bulundurunuz.
7. Sınavın değerlendirilmesi aşamasında, kopya tespiti veya başka adayın sınav evrakını kullanmanız durumunda sınavınız geçersiz sayılacaktır.

CEVAP KÂĞIDI VE SORU KİTAPÇIĞI İLE İLGİLİ AÇIKLAMALAR

1. Cevap kâğıdınızdaki bilgilerin doğruluğunu kontrol ediniz ve cevap kâğıdınızı silinmeyen bir kalemle imzalayınız.
2. Cevap kâğıdındaki bilgiler size ait değilse veya cevap kâğıdı kullanılmayacak durumdaysa sınav görevlilerinin temin edeceği yedek cevap kâğıdına kimliğinizle ilgili bilgileri açıklamalar doğrultusunda yazınız ve kodlayınız.
3. Cevap kâğıdı üzerindeki kodlamaları kurşun kalemle yapınız.
4. Değiştirmek istediğiniz bir cevabı, yumuşak silgiyle cevap kâğıdını örselemeden temizce siliniz ve yeni cevabınızı kodlayınız.
5. Kitapçık türünü cevap kâğıdınızdaki ilgili alana kodlayınız. Bu kodlamayı yapmadığınız veya yanlış yaptığınız takdirde sınavınızın değerlendirilmesi doğru yapılamayacaktır.
6. Cevaplarınızı, cevap kâğıdındaki ilgili soru numarasını dikkate alarak yuvarlağın dışına taşırmadan kodlayınız.
7. Soru kitapçığının sayfalarını kontrol ediniz, baskı hatası var ise değiştirilmesini sağlayınız.
8. Soruların çözümü için size ayrıca boş kâğıt verilmeyecektir. Soru kitapçığının içindeki boş alanları çözümleriniz için kullanabilirsiniz.
9. Cevaplamaya istediğiniz sorudan başlayabilirsiniz. Cevabını bilmediğiniz sorular üzerinde fazla zaman kaybetmeden diğer sorulara geçiniz. Zamanınız kalırsa bu sorulara daha sonra dönebilirsiniz.
10. Soru kitapçığı üzerinde yapılıp cevap kâğıdına işaretlenmeyen cevaplar değerlendirme işlemine alınmayacaktır.
11. Sınav puanınızın hesaplanmasında sadece doğru cevaplarınız dikkate alınacaktır.
12. Sınav bitiminde, soru kitapçığı ve cevap kâğıdını salon görevlilerine teslim ediniz.

BAŞLAYINIZ DENİLMEDEN SORU KİTAPÇIĞINIZI AÇMAYINIZ.

1. $(0,5)^4$ ifadesi aşağıdakilerden hangisine eşittir?

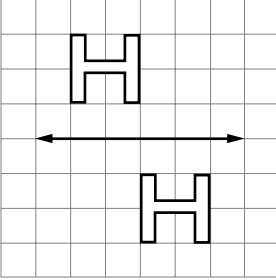
- A) $\frac{1}{625}$ B) $\frac{1}{16}$
C) 16 D) 625

2. 15 ile 75 arasında kaç tane tam kare sayı vardır?

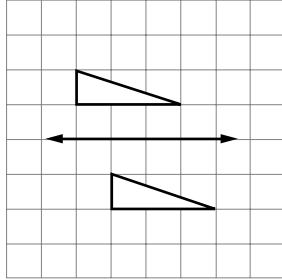
- A) 3 B) 4 C) 5 D) 6

3. Aşağıdakilerden hangisinde verilen şekiller, doğruya göre birbirinin ötelemeli yansımasıdır?

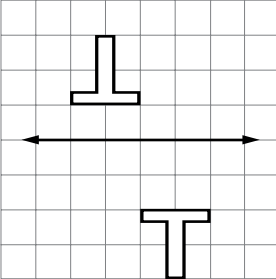
A)



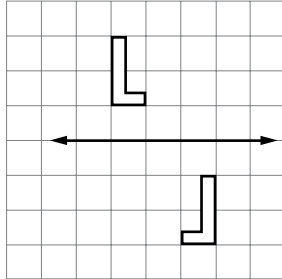
B)



C)



D)



4. $\sqrt{0,25} + \sqrt{1,96}$ işleminin sonucu kaçtır?

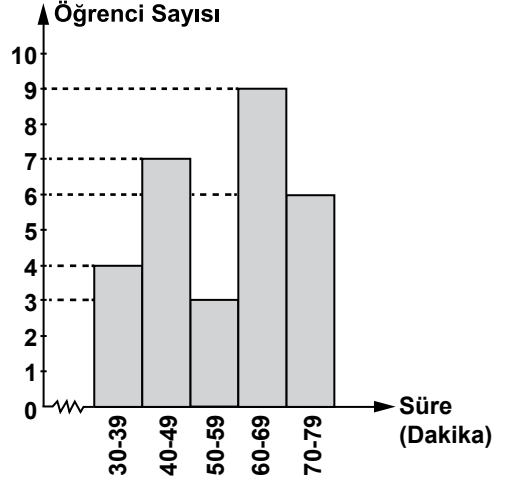
- A) 2,21 B) 1,90
C) 1,45 D) 0,64

5. $\frac{1}{1024}$ sayısı aşağıdakilerden hangisine eşittir?

- A) $(-4)^5$ B) 5^{-4} C) 2^{-9} D) 4^{-5}

6. Bir sınıfta günlük bilgisayar kullanım sürelerine göre öğrenci sayılarının dağılımı, aşağıdaki histogramda verilmiştir.

Grafik: Bilgisayar Kullanım Süreleri



Histograma göre, öğrencilerin bilgisayar kullanım süreleriyle ilgili aşağıdakilerden hangisi kesinlikle doğrudur?

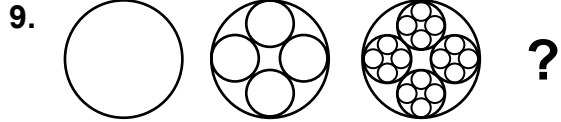
- A) 79 dakika kullanan 6 öğrenci vardır.
B) En az 60 dakika kullanan 15 öğrenci vardır.
C) En çok 49 dakika kullanan 18 öğrenci vardır.
D) 60 dakikadan az kullananlar, sınıfın yarısından fazladır.

7. Aşağıda kenar uzunlukları verilen dikdörtgenlerden hangisinin alanı en büyüktür?

- A) $\sqrt{7}$ cm, $3\sqrt{7}$ cm
 B) $2\sqrt{2}$ cm, $8\sqrt{2}$ cm
 C) $2\sqrt{5}$ cm, $3\sqrt{5}$ cm
 D) $3\sqrt{3}$ cm, $4\sqrt{3}$ cm

8. 3^{12} adet cevizi 9 kardeş aralarında eşit olarak paylaşırsa her bir kardeşe kaç adet ceviz düşer?

- A) 3^{14} B) 3^{10} C) 3^9 D) 3^6



Başlangıç 1. adım 2. adım 3. adım

Yukarıda bir fraktalın ilk iki adımı verilmiştir.
 Bu fraktalın 3. adımında kaç çember bulunur?

- A) 42 B) 63 C) 85 D) 106

10. $1 + \sqrt{20}$ sayısı ile aşağıdakilerden hangisi toplanırsa sonuç bir tam sayı olur?

- A) $2\sqrt{5}$ B) $\sqrt{5}$ C) $-2\sqrt{5}$ D) $-\sqrt{5}$

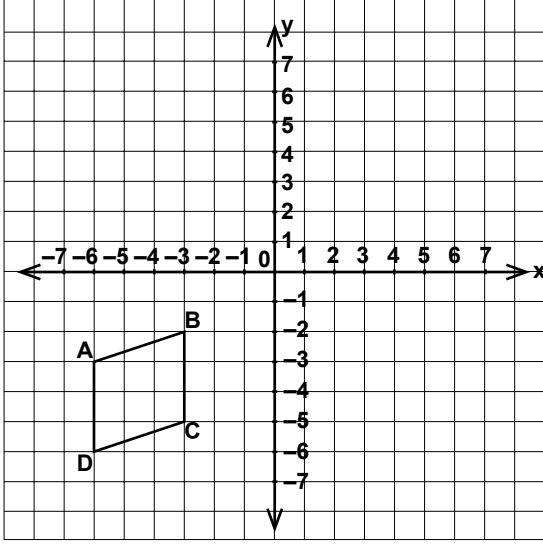
11. Uranüs gezegeninin güneşe uzaklığı yaklaşık 2 871 000 000 km'dir. Bu uzaklığın bilimsel gösterimi aşağıdakilerden hangisidir?

- A) $2871 \cdot 10^6$ km B) $287,1 \cdot 10^7$ km
 C) $2,871 \cdot 10^8$ km D) $2,871 \cdot 10^9$ km

12. Uzunluğu $\sqrt{80}$ cm olan bir tel, $\sqrt{5}$ cm uzunluğunda eş parçalara ayrıldığında kaç parça elde edilir?

- A) 4 B) 8 C) 16 D) 20

13.



Şekildeki ABCD paralelkenarı 4 birim sağa, 5 birim yukarı ötelenerek A'B'C'D' paralelkenarı elde ediliyor. Aşağıdakilerden hangisi A'B'C'D' paralelkenarının köşelerinden birinin koordinatları değildir?

- A) (1, 0) B) (-2, -1)
C) (2, -2) D) (1, 3)

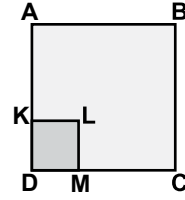
14. $2^3 \cdot 3^2$ ifadesi aşağıdakilerden hangisine eşittir?

- A) $2 \cdot 6^2$ B) $2 \cdot 5^6$ C) 5^5 D) 6^6

15. Bir karenin alanı, kenar uzunlukları 12 cm ve 18 cm olan bir dikdörtgenin alanına eşittir. Bu karenin bir kenarının uzunluğu kaç santimetredir?

- A) $6\sqrt{6}$ B) $4\sqrt{6}$ C) $3\sqrt{3}$ D) $6\sqrt{3}$

16.



Şekildeki ABCD ve KLMD karelerinin alanları sırasıyla 169 cm^2 ve 25 cm^2 dir. Buna göre, $|AK|$ kaç santimetredir?

- A) 5 B) 8 C) 9 D) 12

17. $\frac{4}{6} \cdot \frac{4}{6} \cdot \frac{4}{6}$ işleminin sonucu aşağıdakilerden hangisine eşittir?

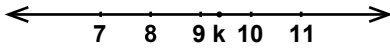
- A) $\frac{4^3}{6}$ B) $\frac{4}{6^3}$ C) $\left(\frac{2}{3}\right)^3$ D) $\frac{2}{3^3}$

18. Bir karınca $\sqrt{180}$ metrelik bir yolun $\sqrt{125}$ metrelik kısmını yürümüştür. Geriye kaç metrelik yol kalmıştır?

- A) $\sqrt{55}$ B) $5\sqrt{5}$ C) $2\sqrt{5}$ D) $\sqrt{5}$

19. -4^{-3} sayısının 2^{-4} sayısına bölümü aşağıdakilerden hangisidir?

- A) $-\frac{1}{4}$ B) $-\frac{1}{2}$ C) $\frac{1}{4}$ D) $\frac{1}{2}$

20. 

Yukarıdaki sayı doğrusunda gösterilen k sayısı aşağıdakilerden hangisi olabilir?

- A) $\sqrt{73}$ B) $\sqrt{79}$ C) $\sqrt{87}$ D) $\sqrt{101}$

TEST BİTTİ.
CEVAPLARINIZI KONTROL EDİNİZ.

**26 KASIM 2014 TARİHİNDE YAPILAN 8. SINIF I. DÖNEM
MATEMATİK DERSİ ORTAK SINAVI
“A” KİTAPÇIĞI CEVAP ANAHTARI**

MATEMATİK

- 1. B**
- 2. C**
- 3. A**
- 4. B**
- 5. D**
- 6. B**
- 7. D**
- 8. B**
- 9. C**
- 10. C**
- 11. D**
- 12. A**
- 13. C**
- 14. A**
- 15. A**
- 16. B**
- 17. C**
- 18. D**
- 19. A**
- 20. C**



T.C.
MİLLÎ EĞİTİM BAKANLIĞI

A

KİTAPÇIK TÜRÜ

8. SINIF I. DÖNEM
FEN VE TEKNOLOJİ DERSİ
ORTAK SINAVI
27 KASIM 2014 Saat: 09.00

Adı ve Soyadı :
Sınıfı :
Öğrenci Numarası :

ÖĞRENCİLERİN DİKKATİNE!

1. Sınıf öğrenci yoklama listesinde belirtilen sınıfta ve sıra numarasında oturmanız gerektiğinden durumunuzu kontrol ediniz.
2. Bu sınavda cevaplayacağınız soru sayısı 20, sınav süreniz 40 dakikadır.
3. Sınav süresince dışarı çıkılmayacaktır.
4. Sınav sırasında sözlük, hesap makinesi, saat fonksiyonu dışında özellikleri bulunan saat veya çağrı cihazı, cep telefonu, telsiz, radyo ve bilgisayar özelliği bulunan elektronik cihazları yanınızda bulundurmanız hâlinde sınavınız geçersiz sayılacaktır.
5. Soruları ve sorulara verdiğiniz cevapları, yanınızda götürmek amacıyla kaydetmeyiniz; hiçbir şekilde dışarı çıkarmayınız.
6. Cevap kâğıdınızı sınav süresince hiçbir öğrencinin göremeyeceği şekilde önünüzde bulundurunuz.
7. Sınavın değerlendirilmesi aşamasında, kopya tespiti veya başka adayın sınav evrakını kullanmanız durumunda sınavınız geçersiz sayılacaktır.

CEVAP KÂĞIDI VE SORU KİTAPÇIĞI İLE İLGİLİ AÇIKLAMALAR

1. Cevap kâğıdınızdaki bilgilerin doğruluğunu kontrol ediniz ve cevap kâğıdınızı silinmeyen bir kalemle imzalayınız.
2. Cevap kâğıdındaki bilgiler size ait değilse veya cevap kâğıdı kullanılmayacak durumdaysa sınav görevlilerinin temin edeceği yedek cevap kâğıdına kimliğinizle ilgili bilgileri açıklamalar doğrultusunda yazınız ve kodlayınız.
3. Cevap kâğıdı üzerindeki kodlamaları kurşun kalemle yapınız.
4. Değiştirmek istediğiniz bir cevabı, yumuşak silgiyle cevap kâğıdını örselemeden temizce siliniz ve yeni cevabınızı kodlayınız.
5. Kitapçık türünü cevap kâğıdınızdaki ilgili alana kodlayınız. Bu kodlamayı yapmadığınız veya yanlış yaptığınız takdirde sınavınızın değerlendirilmesi doğru yapılamayacaktır.
6. Cevaplarınızı, cevap kâğıdındaki ilgili soru numarasını dikkate alarak yuvarlağın dışına taşırmadan kodlayınız.
7. Soru kitapçığının sayfalarını kontrol ediniz, baskı hatası var ise değiştirilmesini sağlayınız.
8. Soruların çözümü için size ayrıca boş kâğıt verilmeyecektir. Soru kitapçığının içindeki boş alanları çözümleriniz için kullanabilirsiniz.
9. Cevaplamaya istediğiniz sorudan başlayabilirsiniz. Cevabını bilmediğiniz sorular üzerinde fazla zaman kaybetmeden diğer sorulara geçiniz. Zamanınız kalırsa bu sorulara daha sonra dönebilirsiniz.
10. Soru kitapçığı üzerinde yapılıp cevap kâğıdına işaretlenmeyen cevaplar değerlendirme işlemine alınmayacaktır.
11. Sınav puanınızın hesaplanmasında sadece doğru cevaplarınız dikkate alınacaktır.
12. Sınav bitiminde, soru kitapçığı ve cevap kâğıdını salon görevlilerine teslim ediniz.

BAŞLAYINIZ DENİLMEYEN SORU KİTAPÇIĞINIZI AÇMAYINIZ.

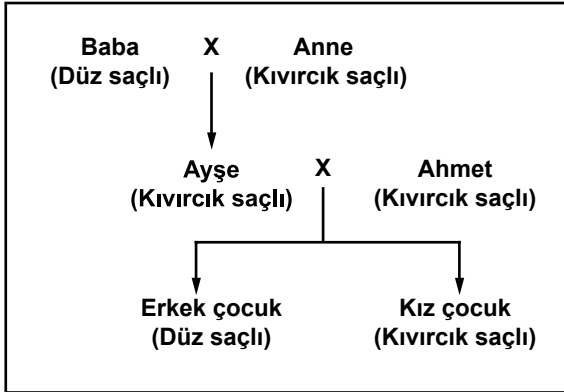
1. Tabloda bazı canlı türlerinin vücut hücrelerindeki kromozom sayıları verilmiştir.

Tür	Kromozom sayısı (2n)
Çekirge	24
Meyve sineği	8
Kedi	38
?	?

“Kromozom sayısı aynı olan iki canlı, aynı türden olmayabilir” görüşünün doğru olduğunu göstermek isteyen bir öğrenci, tabloda “?” yerine aşağıdakilerden hangisini yazmalıdır?

Tür	Kromozom sayısı (2n)
A) Patates	48
B) Domates	24
C) Bezelye	14
D) Bakla	12

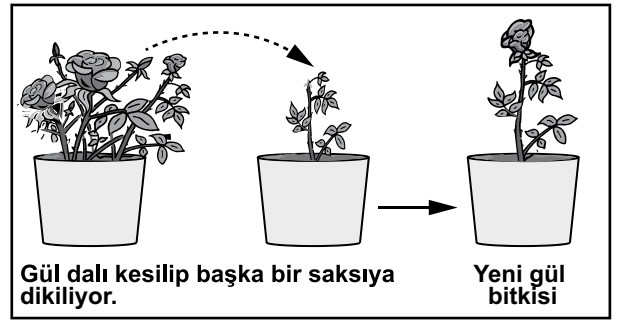
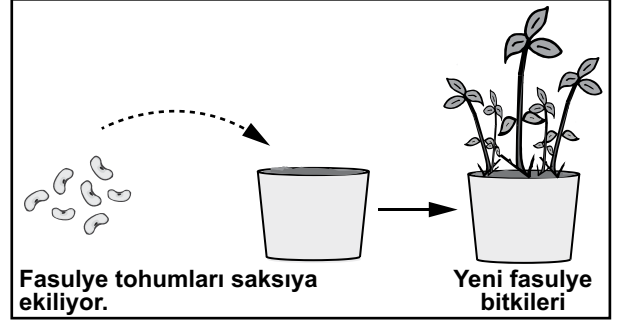
2. Ayşe'nin ailesinin saç şekli özelliği (dış görünüş) bakımından kalıtımı şematik olarak verilmiştir.



Bu şemaya bakılarak aşağıdakilerden hangisi söylenebilir? (İnsanlarda kıvrık saçlılık baskın, düz saçlılık ise çekinik özelliktir.)

- A) Ayşe, anne ve babadan yalnızca birinin genlerini almıştır.
 B) Ayşe, anne ve babadan yalnızca baskın genleri almıştır.
 C) Ayşe'nin tüm baskın özellikleri çocuklarına aktarılmıştır.
 D) Ayşe, saç şekli özelliği bakımından melez döldür (heterozigot).

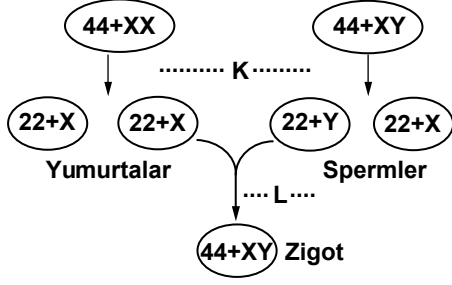
3. Bir öğrenci, aynı ortamda iki farklı bitki ile şekildeki uygulamaları yapıyor. Saksıların büyüklükleri, toprak özellikleri ve verilen su miktarları aynıdır.



Öğrencinin aşağıdaki ifadelerinden hangisi bu uygulamalarla ilgili doğru bir çıkarımdır?

- A) Fasulye bitkisi eşeysiz üreme ile gül bitkisi eşeyli üreme ile çoğaltılmıştır.
 B) Fasulye tohumlarından gelişen yeni bitkilerin genotipleri birbirinin tamamen aynıdır.
 C) Mitoz bölünme; fasulye bitkisinin büyümesinde, gül bitkisinin hem büyümesinde hem de çoğalmasında etkili olmuştur.
 D) Gül bitkisinin kesilen dallarından aynı ortamda üretilen yeni gül bitkilerinin genotip ve fenotipleri birbirinden kesinlikle farklı olur.

4. İnsanda üreme hücreleri ve zigotun oluşum süreci şematik olarak aşağıda gösterilmiştir.



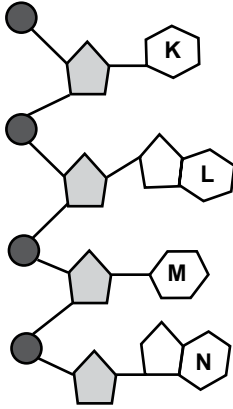
Bu süreç ile ilgili,

- I- K evresinde mayoz bölünme gerçekleşir.
 II- Yumurtaların kalıtsal yapısı daima birbirinin aynıdır.
 III- L evresinde homolog kromozomlar arasında parça değişimi gerçekleşir.
 IV- Yavru bireyin cinsiyeti sperm tarafından belirlenir.

İfadelerinden hangileri doğrudur?

- A) I ve II
 B) I ve IV
 C) II ve III
 D) III ve IV

- 5.



Yukarıdaki şekilde bir DNA molekülünün tek zinciri gösterilmiştir. Bu yapıya göre aşağıdakilerden hangisi yanlıştır?

- A) ●, fosfat molekülünü temsil eder.
 B) ◡, şeker molekülünü temsil eder.
 C) K, L, M ve N farklı organik bazları temsil etmektedir.
 D) Bu tek zincirde toplam 12 nükleotid vardır.

- 6.

ALABALIĞIN SERÜVENİ

Genetik mühendisliği alanında yapılan çalışmalar hızlı bir şekilde ilerlemektedir. Bir grup bilim insanı, dil balığından, donmayı önleyen bir geni, alabalığın genetik yapısına aktarmayı başardılar.

Gazetede verilen habere göre; bilim insanlarının alabalıklarla ilgili bu çalışmalarının amacı aşağıdakilerden hangisi olabilir?

- A) Daha soğuk sular da yaşamlarını sürdürebilmelerini sağlamak
 B) Soğuk sulara göç etmelerini engellemek
 C) Yumurta verimliliğini azaltmak
 D) Yayıldıkları alanı daraltmak

7. Canlıların belirli çevre koşullarında yaşama ve üreme şansını artıran kalıtsal özellikleri sayesinde ortama uyum sağlamasına adaptasyon denir.

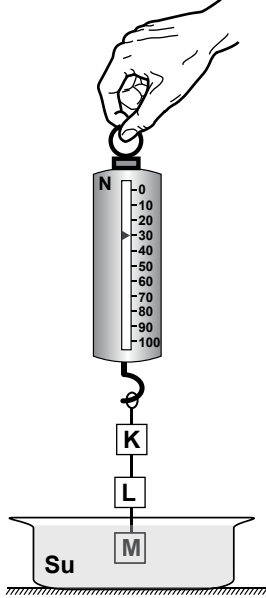
Aşağıdakilerden hangisi adaptasyon nedeniyle kazanılmış bir özellik değildir?

- A) Ördeklerin perdeli ayakları sayesinde hızlı yüzmesi
 B) Bukalemunların renk değiştirerek düşmanlarından korunması
 C) Halter sporuyla uğraşan bir kişinin kol kaslarının gelişmesi
 D) Kaktüslerin su depolayan gövdeye sahip olması

8. Öğretmen öğrencilerine, “Çok yüksekte uçan bir kartal, koyu renkli toprağa sahip çalılık bir alanda bulunan aynı büyüklükteki kahverengi bir fareyi mi, yoksa beyaz bir fareyi mi kolaylıkla fark ederek avlayabilir?” sorusunu yöneltmiştir.

Bu soruya öğrencilerin yaptığı aşağıdaki açıklamalardan hangisi doğrudur?

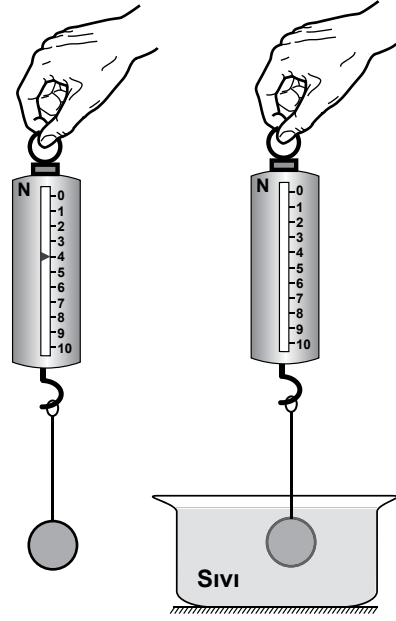
- A) Beyaz fareyi avlar; çünkü ortama uyum sağlayamayan canlıların yaşama şansı daha azdır.
- B) Kahverengi fareyi avlar; çünkü doğal seçilim için çevre koşullarına daha iyi uyum sağlamak önemlidir.
- C) Kahverengi fareyi avlar; çünkü aynı ortamda yaşayan farklı türdeki canlılar benzer uyum şekilleri geliştirir.
- D) Beyaz ve kahverengi fareleri her zaman aynı oranda avlar; çünkü kartalların gözleri çok iyi görür.
9. Suda çözünmeyen özdeş K, L ve M cisimleri bir iple şekildeki dinamometreye bağlanmıştır. M cismi suyun içine batacak şekilde ölçüm yapıldığında dinamometre 30 N’u göstermektedir.



Buna göre, başka bir değişiklik yapmadan yalnızca L ve M arasındaki ip kesilirse dinamometre kaç N’u gösterebilir?

- A) 24 B) 20 C) 16 D) 10

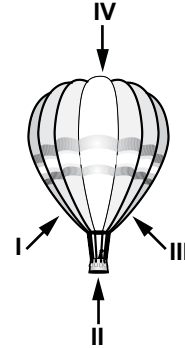
10. Fatih, bir metal bilyeyi havada ve sıvı içinde şekilde gösterildiği gibi bir dinamometre ile tartıyor.



Fatih, havada 4 N ölçtüğü bilyenin ağırlığını, bilye sıvı içinde iken kaç N ölçmüş olabilir?

- A) 4,5 B) 4,2 C) 4 D) 3,8

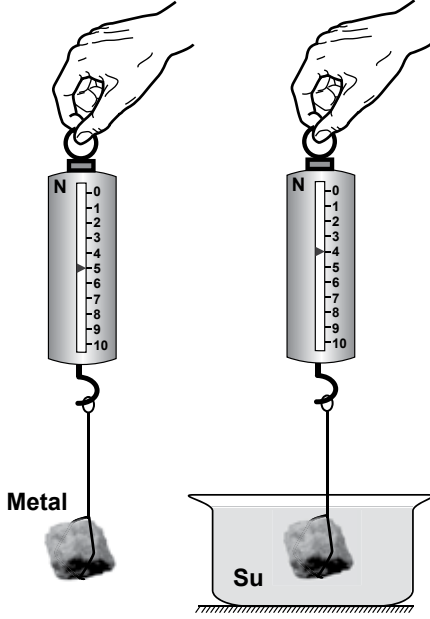
11. Sıcak hava balonu şekildeki gibi uçmaktadır.



Buna göre, balona etki eden kaldırma kuvvetinin yönü şekilde verilen yönlere hangisidir?

- A) I B) II C) III D) IV

12. Bir metal parçasının havadaki ağırlığını 5 N ölçen bir öğrenci, aynı metal parçasını suya daldırdığında dinamometrede 4 N değerini okuyor.



Buna göre, dinamometrenin gösterdiği değer azalmasını aşağıdakilerden hangisi doğru olarak açıklar?

- A) Metalin kütlesinin azalması
- B) Metale yer çekimi kuvvetinin artık etki etmemesi
- C) Metale yer çekimi kuvvetine zıt yönde bir kuvvetin etki etmesi
- D) Metale yer çekimi kuvveti ile aynı yönde bir kuvvetin etki etmesi

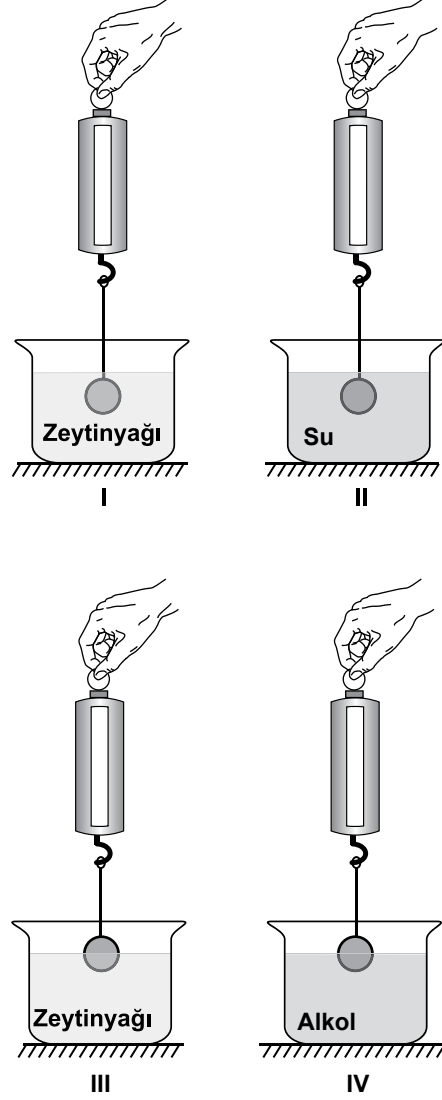
13. K, L ve M katı cisimlerinin kütle ve hacim değerleri tabloda verilmiştir.

Cisim	Kütle (g)	Hacim (cm ³)
K	40	20
L	40	30
M	60	30

Buna göre, cisimlerin yoğunlukları (özkütleleri) arasındaki ilişki nedir?

- A) K, L ve M'nin aynıdır.
- B) K, L ve M'nin farklıdır.
- C) K ile M'nin aynı, L'nin farklıdır.
- D) K ile L'nin aynı, M'nin farklıdır.

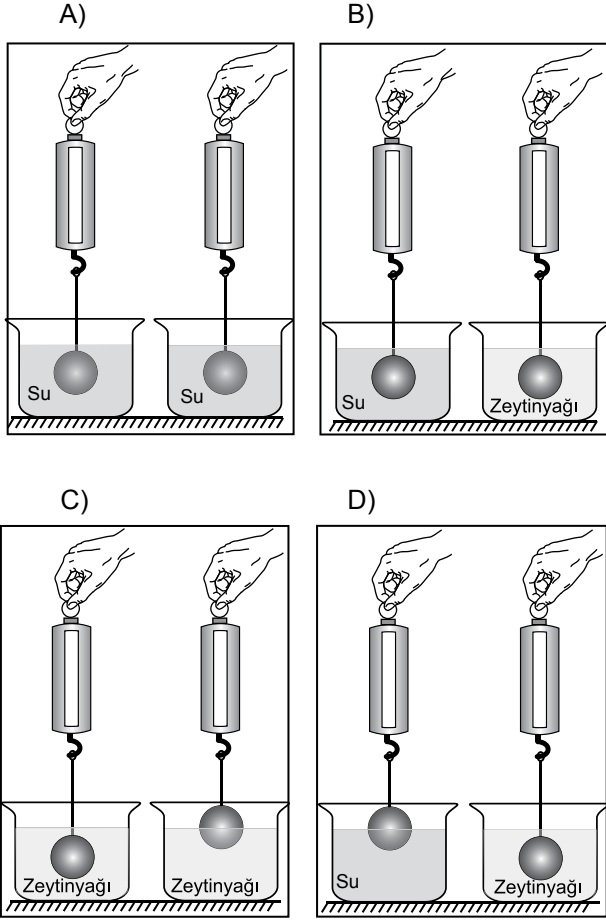
14. Bir cisme etki eden kaldırma kuvvetinin cismin batan kısmının hacmi ile ilişkisini göstermek isteyen Elif, cismi şekillerdeki gibi sıvılara batırıp dinamometredeki değerleri okuyor.



Buna göre Elif, hangi iki düzenekteki okuduğu değerleri karşılaştırırsa amacına ulaşır?

- A) I ve III
- B) II ve III
- C) I ve IV
- D) I ve II

15. İçi dolu cam küreye etki eden kaldırma kuvvetinin, sıvının yoğunluğuna bağlı olduğunu göstermek isteyen Ayşe, aşağıdaki deney düzeneklerinden hangisini seçerse bu amacına ulaşır?



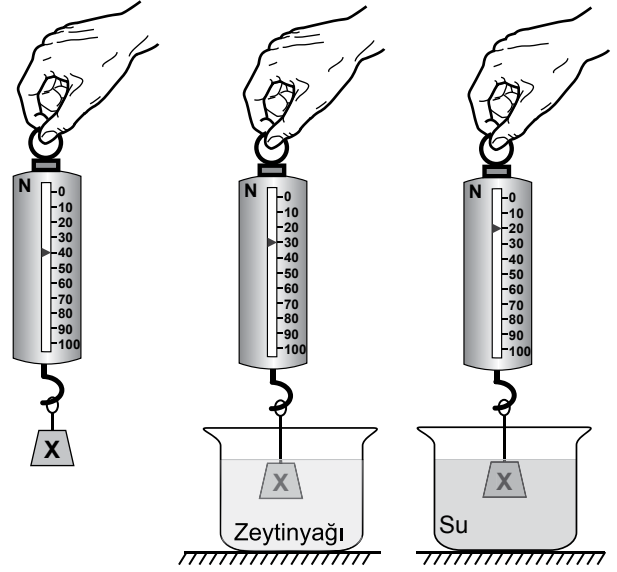
16. Aşağıda güncel hayatımızda gerçekleşen bazı olaylar verilmiştir.

- I- Gemilerin su yüzeyinde yüzmesi
- II- Sıcak hava balonlarının havada yolcu taşınması
- III- Buluttan kopan yağmur damlasının yere düşmesi

Bu olaylardan hangileri sıvı veya gazların kaldırma kuvveti etkisi ile gerçekleşir?

- A) Yalnız I
- B) I ve II
- C) I ve III
- D) II ve III

17. İçi dolu X katı cismi şeklindeki gibi havada, zeytinyağında ve suda tartılıp dinamometrenin gösterdiği değerler okunuyor.



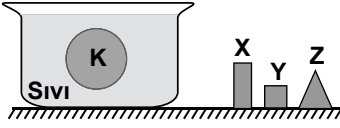
Suyun yoğunluğu zeytinyağının yoğunluğundan büyük olduğuna göre;

- I- X cisminin zeytinyağı ve su farklı kaldırma kuvvetleri uygular.
- II- Sıvı yoğunluğu arttıkça X cisminin etki eden kaldırma kuvveti artar.
- III- Sıvının yoğunluğu arttıkça X cisminin görünür ağırlığı azalır.

yargılarından hangileri bu okunan değerler tarafından doğrulanır?

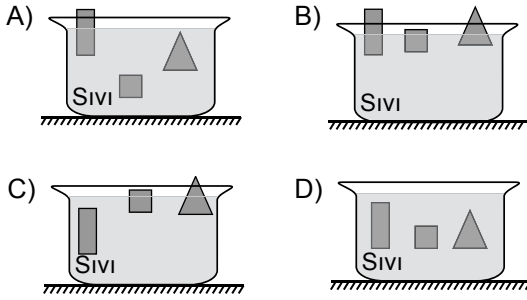
- A) Yalnız II
- B) I ve II
- C) I ve III
- D) I, II ve III

18. İçerisinde sıvı bulunan kaba içi dolu küresel K cismi bırakıldığında şekildeki gibi askıda kalıyor.

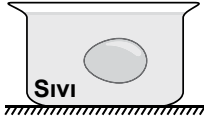


İçi dolu X, Y ve Z cisimleri K cismi ile aynı maddeden yapılmış, farklı büyüklükte cisimlerdir.

Buna göre, kaptan K cismi çıkarılıp X, Y ve Z cisimleri kaba bırakıldığında sıvı içindeki konumları aşağıdakilerden hangisi gibi olabilir?



19. Kaptaki sıvı içinde yumurta şeklindeki gibi dengede durmaktadır.



Yumurtaya etki eden kaldırma kuvvetini bulmak için öğrenciler aşağıdaki yorumları yapıyor.

Yalnız sıvının hacmini bilmem yeterlidir.



Ayşe

Yalnız yumurtanın hacmini bilmem yeterlidir.



Metin

Yalnız yumurtanın ağırlığını bilmem yeterlidir.



Büşra

Yalnız sıvının yoğunluğunu bilmem yeterlidir.

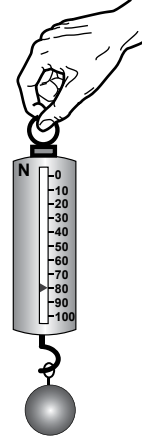


Hasan

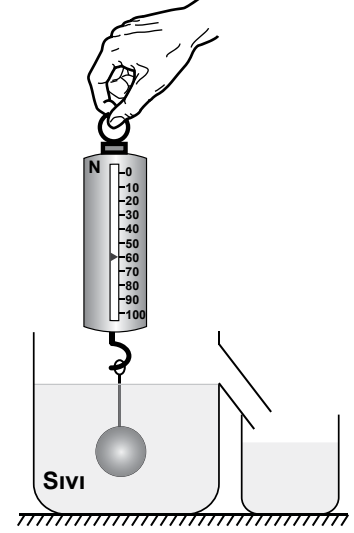
Buna göre, hangi öğrencinin yorumu doğrudur?

- A) Ayşe
B) Metin
C) Büşra
D) Hasan

20. Mehmet, bir demir bilyenin ağırlığını şekil I'deki gibi havada dinamometre yardımıyla ölçüp not ediyor. Aynı bilyeyi şekil II'deki gibi sıvı dolu kabın içine daldırdığında ise taşma seviyesine kadar sıvı dolu olan kaptan 20 N ağırlığında sıvının taşıdığını gözlemliyor.



Şekil I



Şekil II

Mehmet yalnızca bu verilenlerden yola çıkarak;

- I- Kaldırma kuvveti, taşan sıvının ağırlığına eşittir.
II- Cismin ağırlığı, taşan sıvının ağırlığına eşittir.
III- Kaldırma kuvveti, cismin ağırlığına eşittir.

yargılarından hangilerine ulaşır?

- A) Yalnız I
B) Yalnız II
C) Yalnız III
D) I, II ve III

TEST BİTTİ.

CEVAPLARINIZI KONTROL EDİNİZ.

**27 KASIM 2014 TARİHİNDE YAPILAN 8. SINIF I. DÖNEM
FEN VE TEKNOLOJİ DERSİ ORTAK SINAVI
“A” KİTAPÇIĞI CEVAP ANAHTARI**

FEN VE TEKNOLOJİ

- 1. B**
- 2. D**
- 3. C**
- 4. B**
- 5. D**
- 6. A**
- 7. C**
- 8. A**
- 9. A**
- 10. D**
- 11. B**
- 12. C**
- 13. C**
- 14. A**
- 15. B**
- 16. B**
- 17. D**
- 18. D**
- 19. C**
- 20. A**

T.C.
MİLLÎ EĞİTİM BAKANLIĞI

8. SINIF I. DÖNEM

A
KİTAPÇIK TÜRÜ

T.C. İNKILAP TARİHİ VE ATATÜRKÇÜLÜK DERSİ

ORTAK SINAVI

27 KASIM 2014 Saat: 10.10

Adı ve Soyadı :

Sınıfı :

Öğrenci Numarası :

ÖĞRENCİLERİN DİKKATİNE!

1. Sınıf öğrenci yoklama listesinde belirtilen sınıfta ve sıra numarasında oturmanız gerektiğinden durumunuzu kontrol ediniz.
2. Bu sınavda cevaplayacağınız soru sayısı 20, sınav süreniz 40 dakikadır.
3. Sınav süresince dışarı çıkılmayacaktır.
4. Sınav sırasında sözlük, hesap makinesi, saat fonksiyonu dışında özellikleri bulunan saat veya çağrı cihazı, cep telefonu, telsiz, radyo ve bilgisayar özelliği bulunan elektronik cihazları yanınızda bulundurmanız hâlinde sınavınız geçersiz sayılacaktır.
5. Soruları ve sorulara verdiğiniz cevapları, yanınızda götürmek amacıyla kaydetmeyiniz; hiçbir şekilde dışarı çıkarmayınız.
6. Cevap kâğıdınızı sınav süresince hiçbir öğrencinin göremeyeceği şekilde önünüzde bulundurunuz.
7. Sınavın değerlendirilmesi aşamasında, kopya tespiti veya başka adayın sınav evrakını kullanmanız durumunda sınavınız geçersiz sayılacaktır.

CEVAP KÂĞIDI VE SORU KİTAPÇIĞI İLE İLGİLİ AÇIKLAMALAR

1. Cevap kâğıdınızdaki bilgilerin doğruluğunu kontrol ediniz ve cevap kâğıdınızı silinmeyen bir kalemle imzalayınız.
2. Cevap kâğıdındaki bilgiler size ait değilse veya cevap kâğıdı kullanılmayacak durumdaysa sınav görevlilerinin temin edeceği yedek cevap kâğıdına kimliğinizle ilgili bilgileri açıklamalar doğrultusunda yazınız ve kodlayınız.
3. Cevap kâğıdı üzerindeki kodlamaları kurşun kalemle yapınız.
4. Değiştirmek istediğiniz bir cevabı, yumuşak silgiyle cevap kâğıdını örselemeden temizce siliniz ve yeni cevabınızı kodlayınız.
5. Kitapçık türünü cevap kâğıdınızdaki ilgili alana kodlayınız. Bu kodlamayı yapmadığınız veya yanlış yaptığınız takdirde sınavınızın değerlendirilmesi doğru yapılamayacaktır.
6. Cevaplarınızı, cevap kâğıdındaki ilgili soru numarasını dikkate alarak yuvarlağın dışına taşırmadan kodlayınız.
7. Soru kitapçığının sayfalarını kontrol ediniz, baskı hatası var ise değiştirilmesini sağlayınız.
8. Soruların çözümü için size ayrıca boş kâğıt verilmeyecektir. Soru kitapçığının içindeki boş alanları çözümlerinizi için kullanabilirsiniz.
9. Cevaplamaya istediğiniz sorudan başlayabilirsiniz. Cevabını bilmediğiniz sorular üzerinde fazla zaman kaybetmeden diğer sorulara geçiniz. Zamanınız kalırsa bu sorulara daha sonra dönebilirsiniz.
10. Soru kitapçığı üzerinde yapıлып cevap kâğıdına işaretlenmeyen cevaplar değerlendirme işlemine alınmayacaktır.
11. Sınav puanınızın hesaplanmasında sadece doğru cevaplarınız dikkate alınacaktır.
12. Sınav bitiminde, soru kitapçığı ve cevap kâğıdını salon görevlilerine teslim ediniz.

BAŞLAYINIZ DENİLMEYEN SORU KİTAPÇIĞINIZI AÇMAYINIZ.

1.

	MUSTAFA KEMAL ATATÜRK'ÜN ASKERLİK HAYATI İLE İLGİLİ OLAYLAR	KİŞİLİK ÖZELLİĞİ
I	Çanakkale Cephesi'nde "Size ben taarruz emretmiyorum, ölmeyi emrediyorum!" emrini vermiştir.	Liderliği
II	"Dünyanın en güçlü ordularıyla nasıl savaşılır?" diyenlere; "Para olacak, ordu olacak, bu millet istiklalini kurtaracaktır." demiştir.	İleri Görüşlülüğü
III	Trablusgarp Savaşı'na Osmanlı Devleti ordu göndermeyince gazeteci kılığıyla bölgeye gitmiş, yerli halkı örgütlemiştir.	Teşkilatçılığı
IV	Çanakkale'de düşmanın çıkarma yapacağı yerleri tahmin etmiş ve o bölgeleri güçlendirmiştir.	Ümitsizliğe Yer Vermemesi

Yukarıdaki tabloda Mustafa Kemal Atatürk'ün askerlik hayatı ile ilgili bazı olaylar, kişilik özellikleriyle yanlış eşleştirilmiştir.

Hangi numaralı olaylar karşılıklı yer değiştirilirse eşleştirme doğru yapılmış olur?

- A) I ve II
B) I ve III
C) II ve IV
D) III ve IV

2. Mustafa Kemal, Manastır Askerî İdadisi yıllarında;

- arkadaşı Naci Bey'den etkilenerek şiire, öğretmeni Mehmet Tevfik Bey sayesinde tarihe daha fazla yönelmiş,
- Voltaire (Volter) ve J.J. Rousseau (Russo) gibi yazarları tanımış,
- güzel konuşma sanatı ile ilgilenmiştir.

Verilen bilgiye göre aşağıdakilerden hangisi Manastır Askerî İdadisinin Mustafa Kemal'e sağladığı kazanımlardan biri olamaz?

- A) Tarihe ilgisinin artması
B) Askerî yeteneğinin gelişmesi
C) Edebiyata ilgisinin artması
D) Hitabet yeteneğinin güçlenmesi

3. Selanik şehrinde Türkler, Rumlar, Bulgarlar, Sırp, Yahudiler ve Ermeniler gibi milletler birlikte yaşamaktaydı.

Selanik şehrindeki bu çok uluslu yapının aşağıdakilerden hangisine ortam hazırladığı söylenemez?

- A) İnanç birliğinin sağlanmasına
B) Kültürel zenginliğin oluşmasına
C) Kültürel etkileşimin yaşanmasına
D) Toplumsal hoşgörünün gelişmesine

4. İngiltere Kralı V. George (Corç): Osmanlı Devleti, hem gelişen sanayimiz için ucuz ham madde kaynağı hem de mamul ürünlerimiz için kârlı bir pazar.

Alman İmparatoru II. Wilhelm (Vilhem): Balkan ülkeleri ve Osmanlı Devleti'ni kullanarak Orta Doğu'da etkinlik sağlayabiliriz.

Fransa Başbakanı R. Poincare (Poinkeyr): Osmanlı Devleti, tarih boyunca bize topraklarında ticari, siyasi, dinî ve sosyal haklar tanıdı.

Verilen bilgilere göre İngiltere, Almanya ve Fransa'nın Osmanlı Devleti hakkındaki düşüncelerinden çıkarılabilecek ortak sonuç, aşağıdakilerden hangisidir?

- A) Osmanlı Devleti'ni aralarında paylaşmışlardır.
B) Osmanlı Devleti üzerinde çıkarları söz konusudur.
C) Osmanlı Devleti ile ittifak yapmak istemişlerdir.
D) Osmanlı Devleti'nin toprak bütünlüğünü korumayı amaçlamışlardır.

5. Sömürge arayışı içindeki İtalya'nın Trablusgarp'a saldırması üzerine, Mustafa Kemal ve bir grup genç Osmanlı subayı Trablusgarp'a giderek yerli halkı İtalyanlara karşı teşkilatlandırıp direnişe geçirmişler, Derne ve Tobruk'ta başarılı mücadeleler vermişlerdir.

Bu görev Mustafa Kemal'e, Millî Mücadele liderliği açısından, aşağıdaki becerilerden hangisini kazandırmış olabilir?

- A) Kanun çıkarma
B) İnkılap yapma
C) Halkı teşkilatlandırma
D) Devlet kurma

6. (I) Osmanlı yönetimi, Mondros Ateşkes Antlaşması'ndan sonra işgallere karşı sessiz kalıyordu. (II) Yönetime göre işgale direnmek imkânsızdı ve istekler yerine getirilerek belki uygun şartlarda bir anlaşmaya varılabilirdi. (III) Ülkenin hemen her yerinde kargaşa ve düzensizlik vardı, halk ne yapacağını bilemez hâldeydi. (IV) Ancak işgallerin başlamasıyla birlikte Türk halkı kimseden emir ve talimat almadan vatanını, toprağını savunmaya başladı.

Yukarıda numaralandırılmış cümlelerin hangisinde, Osmanlı yönetiminin işgallere karşı duyarsız kalmasının sebebi verilmiştir?

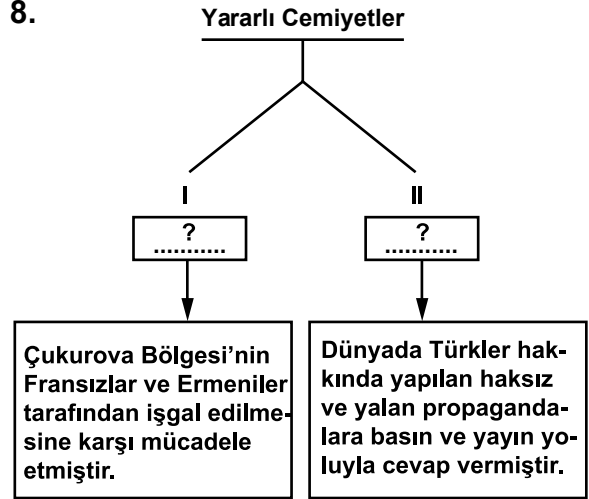
- A) I B) II C) III D) IV

7. 1 Mart 1921 tarihinde imzalanan Türk-Afgan Dostluk Antlaşması ile Afganistan, TBMM Hükûmetinin, TBMM Hükûmeti de Afganistan'ın bağımsızlığını tanımıştır. Ayrıca bu antlaşmayla Türkiye'den Afganistan'a öğretmen ve subayların gönderilmesi de kararlaştırılmıştır.

Verilen bilgiye göre, bu antlaşmanın Türk-Afgan ilişkilerini hangi alanda geliştirdiği söylenemez?

- A) Eğitim B) Askerî
C) Ekonomik D) Diplomatik

- 8.



Diyagramda numaralandırılarak boş bırakılan “?” yerlere, aşağıdakilerden hangileri getirilmelidir?

- | | I | II |
|----|---------------------------------------|---|
| A) | Kilikyalılar Cemiyeti | Millî Kongre Cemiyeti |
| B) | Millî Kongre Cemiyeti | Kilikyalılar Cemiyeti |
| C) | İzmir Redd-i İlhak Cemiyeti | Trakya-Paşaeli Müdafaa-i Hukuk Cemiyeti |
| D) | Doğu Anadolu Müdafaa-i Hukuk Cemiyeti | Trabzon Muhafaza-i Hukuk-ı Milliye Cemiyeti |

9. “Yabancı bir milletin himaye ve efendiliğini kabul etmek, insanlık vasıflarından yoksunluğu, acizlik ve miskinliği itiraftan başka bir şey değildi.”

Mustafa Kemal

Bu sözüyle Mustafa Kemal, karşı olduğu aşağıdaki anlayışlardan hangisini vurgulamaktadır?

- A) Bağınazlık
B) Krallık
C) İmtiyazlık
D) Mandacılık

10. Mondros Ateşkes Antlaşması'ndan sonra İstanbul'a gelen Mustafa Kemal, yaptığı görüşmeler sonucunda siyasi açıdan yapılacak bir şey olmadığını anladı. Vatanın işgalden kurtulması için bir an önce çalışmalar yapılması gerektiğini düşündü. Bu amaçla yakın arkadaşlarıyla Şişli'deki evinde toplantılar yaptı. Toplantılarda, Anadolu'ya geçerek millî birliği sağlamak, halkı işgaller karşısında uyarmak gibi kararlar alındı. Ayrıca ordunun terhisinin engellenmesi, silah ve cephanenin teslim edilmemesi, komutanların kuvvetlerinin başında bulunması da alınan diğer kararlardı.

Verilen bilgiye göre Mustafa Kemal, kurtuluşun hangi yöntemle başarıya ulaşacağını düşünmektedir?

- A) Diplomatik yöntemle
B) Basın-yayın yoluyla
C) Silahlı mücadeleyle
D) Ekonomik faaliyetlerle

11.

SELANİK	Türk, Rum, Yahudi, Sırp ve Ermeniler bir arada yaşamıştır.
MANASTIR	Namık Kemal, Tevfik Fikret ve Mehmet Emin Yurdakul'u tanımıştır.
İSTANBUL	Düşüncelerini yaymak için arkadaşlarıyla gazete ve dergi çıkarılmasına öncülük etmiştir.
SOFYA	Avrupa'daki devletlerin temsilcileriyle doğrudan görüşme imkânı bulmuştur.

Mustafa Kemal'in fikir hayatının oluşmasına katkı sağlayan şehirlerle bu şehirlerde görülen bazı durumlar yukarıdaki tabloda eşleştirilmiştir.

Bu eşleştirmelere göre, hangi şehrin Mustafa Kemal'e etkisi yanlış yorumlanmıştır?

- A)

SELANİK
Farklı yaşam tarzlarına bakış açısı kazanmıştır.

 B)

MANASTIR
Tarih ve edebiyat sevgisi artmıştır.
- C)

İSTANBUL
Liderlik yönünü ön plana çıkarmıştır.

 D)

SOFYA
İlk askerî başarısını kazanmıştır.

12. Millî cemiyetler, faaliyet gösterdikleri bölgeleri kurtarma amacındaydılar. Kuruldukları bölgelerde halkı örgütüyorlar, kongre ve protesto mitingleri düzenliyorlar, işgal güçlerine karşı silahlı direnişte bulunuyorlardı.

Bu bilgiye göre millî cemiyetler için aşağıdakilerden hangisi söylenemez?

- A) Kuruluşlarından itibaren birlikte hareket etmişlerdir.
- B) Bağımsızlık ruhuyla kurulmuşlardır.
- C) İşgalci devletlere karşı mücadele vermişlerdir.
- D) Buldukları bölgelerde halkı teşkilatlandırmaya çalışmışlardır.

13. “Birinci TBMM’nin temel hedeflerinden birisi de otoritesini hukuki yollardan güçlendirmektir.” diyen bir öğrenci, aşağıdakilerden hangisini söylerse çelişkili konuşmuş olur?

- A) Meclis, Teşkilat-ı Esasi’yi kabul etmiştir.
- B) Meclis, isyancıları yargılamak için İstiklal Mahkemelerini kurmuştur.
- C) Meclis, isyanları bastırmak için Hıyanet-i Vatanîye Kanunu’nu çıkarmıştır.
- D) Meclisteki bazı milletvekilleri, İstanbul Hükûmeti taraftarı Reşit Paşa’nın öldürülmesini önermişlerdir.

14. Sevr Antlaşması’nın aşağıdaki maddelerinden hangisi, ekonomik bağımsızlığımızı yok etmeye yöneliktir?

- A) Doğu Anadolu’da iki yeni devlet kurulacak.
- B) Azınlıklara geniş haklar verilecek.
- C) Kapitülasyonlardan bütün devletler yararlanacak.
- D) Ağır silahlardan arındırılmış elli bin kişilik bir ordu bulundurulacak.

15. Misakımillî’nin aşağıdaki kararlarından hangisinde “uluslararası denklik” prensibine vurgu yapılmıştır?

- A) Ülkemizdeki azınlıklara, komşu ülkelerdeki Müslümanlara tanınan haklar kadar hak tanınacaktır.
- B) Adli - mali - siyasi gelişmemize engel olan ayrıcalıklar kaldırılmalıdır.
- C) Türk halkının çoğunlukta olduğu yerler, birbirinden ayrılmaz bir bütündür.
- D) Batı Trakya’nın durumunun tespitinde halk oylamasına başvurulmalıdır.

16. Moskova Antlaşması'yla;

- Sovyetler Birliği, Yeni Türk Devleti'ni resmen tanımış oldu.
- Kars, Ardahan ve Artvin Türkiye'ye bırakıldı.
- Doğu sınırı güvenlik altına alındığı için bu cephedeki millî kuvvetler diğer cephelere kaydırıldı.

Verilen bilgiye göre, "Moskova Antlaşması'yla Yeni Türk Devleti" cümlesindeki boşluk, aşağıdaki ifadelerden hangisiyle tamamlanamaz?

- A) sınır değişimi yaşamıştır.
- B) Batı Cephesi'ni güçlendirmiştir.
- C) uluslararası saygınlık kazanmıştır.
- D) Misakımillî'yi tamamlamıştır.

17.

Tabiki, toprakları işgal edilen bir ülkede bağımsızlığın, disiplinden yoksun, yeterli donanımı olmayan ve dağınık birliklerle sağlanması mümkün değildi.



Sosyal Bilgiler öğretmeni aşağıdaki sorulardan hangisini cevaplamıştır?

- A) Büyük Millet Meclisi açılmalı mıydı?
- B) Hıyanet-i Vataniye Kanunu çıkarılmalı mıydı?
- C) Düzenli ordu kurulmalı mıydı?
- D) Mondros Ateşkes Antlaşması imzalanmalı mıydı?

18. "Türk milleti kendi hayat ve kurtuluşuna yönelmiş olduğuna inanacağı girişimleri başarabilecek bir kudrete sahiptir. Bu girişimin ciddiyetine inanması durumunda onun gerektirdiği kadar servet kaynağını, işe girişenlerin emrine hazır hâle getirir..."

(Atatürk'ün Başlıca Nutukları, s.103-104)

Atatürk bu sözünü, Kurtuluş Savaşı'nın hangi konusu tartışılırken söylemiş olabilir?

- A) Dış politika
- B) Mali kaynak
- C) Askerî strateji
- D) Komuta kademesi

19. Birinci İnönü Zaferi'nin sonucunda;

I- İşgallere karşı bağımsızlık umudu güçlendi.

II- Afganistan ile dostluk antlaşması yapıldı.

III- Düzenli orduya duyulan güven arttı.

IV- Sovyetler Birliği ile Moskova Antlaşması imzalandı.

V- İtilaf Devletleri, Sevr'i tekrar görüşmek için Londra'da bir konferans düzenledi.

Birinci İnönü Zaferi'nin bu sonuçlarının ulusal ve uluslararası olarak sınıflandırılması, aşağıdaki seçeneklerin hangisinde doğru verilmiştir?

	<u>ULUSAL</u>	<u>ULUSLARARASI</u>
A)	I, IV ve V	II ve III
B)	I ve III	II, IV ve V
C)	III ve IV	I, II ve V
D)	I, III ve IV	II ve V

20. Erzurum Kongresi'nde yer alan "Millî sınırlar içinde vatan bir bütündür, parçalanamaz." ve Misakımillî'de yer alan "Türklerin oturduğu yerler bölünmez ve ayrılmaz bir bütündür, parçalanamaz." maddeleriyle vurgulanmak istenen düşünce, aşağıdakilerden hangisidir?

- A) İstanbul'dan ayrı bir yönetim kurulacağı
- B) Saltanat ve halifeliğe bağlı kalınacağı
- C) Azınlıklara ayrıcalıklar verilmeyeceği
- D) Ülke bütünlüğünün korunacağı

TEST BİTTİ.

CEVAPLARINIZI KONTROL EDİNİZ.

**27 KASIM 2014 TARİHİNDE YAPILAN 8. SINIF I. DÖNEM
T.C. İNKILAP TARİHİ VE ATATÜRKÇÜLÜK DERSİ ORTAK SINAVI
“A” KİTAPÇIĞI CEVAP ANAHTARI**

T.C. İNKILAP TARİHİ VE ATATÜRKÇÜLÜK

1. C
2. B
3. A
4. B
5. C
6. B
7. C
8. A
9. D
10. C
11. D
12. A
13. D
14. C
15. A
16. D
17. C
18. B
19. B
20. D



T.C.
MİLLÎ EĞİTİM BAKANLIĞI

A
KİTAPÇIK TÜRÜ

8. SINIF I. DÖNEM
DİN KÜLTÜRÜ
VE AHLAK BİLGİSİ DERSİ
ORTAK SINAVI
26 KASIM 2014 Saat: 11.20

Adı ve Soyadı :

Sınıfı :

Öğrenci Numarası :

ÖĞRENCİLERİN DİKKATİNE!

1. Sınıf öğrenci yoklama listesinde belirtilen sınıfta ve sıra numarasında oturmanız gerektiğinden durumunuzu kontrol ediniz.
2. Bu sınavda cevaplayacağınız soru sayısı 20, sınav süreniz 40 dakikadır.
3. Sınav süresince dışarı çıkılmayacaktır.
4. Sınav sırasında sözlük, hesap makinesi, saat fonksiyonu dışında özellikleri bulunan saat veya çağrı cihazı, cep telefonu, telsiz, radyo ve bilgisayar özelliği bulunan elektronik cihazları yanınızda bulundurmanız hâlinde sınavınız geçersiz sayılacaktır.
5. Soruları ve sorulara verdiğiniz cevapları, yanınızda götürmek amacıyla kaydetmeyiniz; hiçbir şekilde dışarı çıkarmayınız.
6. Cevap kâğıdınızı sınav süresince hiçbir öğrencinin göremeyeceği şekilde önünüzde bulundurunuz.
7. Sınavın değerlendirilmesi aşamasında, kopya tespiti veya başka adayın sınav evrakını kullanmanız durumunda sınavınız geçersiz sayılacaktır.

CEVAP KÂĞIDI VE SORU KİTAPÇIĞI İLE İLGİLİ AÇIKLAMALAR

1. Cevap kâğıdınızdaki bilgilerin doğruluğunu kontrol ediniz ve cevap kâğıdınızı silinmeyen bir kalemle imzalayınız.
2. Cevap kâğıdındaki bilgiler size ait değilse veya cevap kâğıdı kullanılmayacak durumdaysa sınav görevlilerinin temin edeceği yedek cevap kâğıdına kimliğinizle ilgili bilgileri açıklamalar doğrultusunda yazınız ve kodlayınız.
3. Cevap kâğıdı üzerindeki kodlamaları kurşun kalemle yapınız.
4. Değiştirmek istediğiniz bir cevabı, yumuşak silgiyle cevap kâğıdını örselemeden temizce siliniz ve yeni cevabınızı kodlayınız.
5. Kitapçık türünü cevap kâğıdınızdaki ilgili alana kodlayınız. Bu kodlamayı yapmadığınız veya yanlış yaptığınız takdirde sınavınızın değerlendirilmesi doğru yapılamayacaktır.
6. Cevaplarınızı, cevap kâğıdındaki ilgili soru numarasını dikkate alarak yuvarlağın dışına taşırmadan kodlayınız.
7. Soru kitapçığının sayfalarını kontrol ediniz, baskı hatası var ise değiştirilmesini sağlayınız.
8. Soruların çözümü için size ayrıca boş kâğıt verilmeyecektir. Soru kitapçığının içindeki boş alanları çözümleriniz için kullanabilirsiniz.
9. Cevaplamaya istediğiniz sorudan başlayabilirsiniz. Cevabını bilmediğiniz sorular üzerinde fazla zaman kaybetmeden diğer sorulara geçiniz. Zamanınız kalırsa bu sorulara daha sonra dönebilirsiniz.
10. Soru kitapçığı üzerinde yapılıp cevap kâğıdına işaretlenmeyen cevaplar değerlendirme işlemine alınmayacaktır.
11. Sınav puanınızın hesaplanmasında sadece doğru cevaplarınız dikkate alınacaktır.
12. Sınav bitiminde, soru kitapçığı ve cevap kâğıdını salon görevlilerine teslim ediniz.

BAŞLAYINIZ DENİLMEYEN SORU KİTAPÇIĞINIZI AÇMAYINIZ.

1.

Merhaba arkadaşlar! Benim bir kardeşim oldu, adını Kader koyduk. Kader kelimesinin anlamını aşağıdaki seçenekler arasından bulmama yardımcı olur musunuz?



- A) Allah'ın canlılara verdiği nimetlerdir.
 B) Kur'an'ın indirilmeye başlandığı gecedir.
 C) Doğum ile ölüm arasında geçen zamandır.
 D) Allah'ın herşeyi bir ölçü ve düzene göre planlamasıdır.

2. • Güneşin doğup batması
 • Mevsimlerin ard arda gelmesi
 • Dünyanın belirli bir hızla dönmesi

Verilen bu bilgiler aşağıdaki ayetlerden hangisiyle ilişkilendirilebilir?

- A) "Sen af yolunu tut, iyiliği emret ve cahillerden yüz çevir."
 (A'raf suresi, 199. ayet)
 B) "Gökleri ve yeri yerli yerince yarattı. Sizi şekillendirdi ve şekillerinizi de güzel yaptı. Varış O'nadır."
 (Teğabun suresi, 3. ayet)
 C) "İman edip salih ameller işleyenlere gelince halkın en hayırlısı onlardır."
 (Beyyine suresi, 7. ayet)
 D) "Hakkında bilgi sahibi olmadığın şeyin peşine düşme. Çünkü kulak, göz ve kalp bunların hepsi ondan sorumludur."
 (İsra suresi, 36. ayet)

3. "Komşusu açken tok yatan bizden değildir."
 (Hadis-i Şerif)

Bu hadisi ilke edinen bir kimseden aşağıdaki davranışlardan hangisi beklenmez?

- A) Yetim ve öksüzleri gözetmesi
 B) İhtiyaç sahiplerine yardım etmesi
 C) Çevresindekilere duyarsız kalması
 D) Komşu hakkı konusunda hassas davranması

4. "Başınıza gelen herhangi bir sıkıntı kendi ellerinizle işlediklerinizden dolayıdır..."
 (Şûrâ suresi, 30. ayet)

Bu ayette insanın hangi özelliğine vurgu yapılmaktadır?

- A) Sorumluluğuna
 B) Sabırlılığına
 C) Çalışkanlığına
 D) Kararlılığına

5. İnsan, söz ve davranışlarında sorumluluk bilinciyle davranmalı, her zaman iyi ve doğru olanı tercih etmelidir. İstemediği sonuç karşısında da "Kaderim böyleymiş." diyerek sorumluluktan kaçmamalıdır.

Bu metnin başlığı aşağıdakilerden hangisi olabilir?

- A) Hayatın Amacı
 B) Özgürlüğün Serüveni
 C) Akıl ve Düşüncenin Gücü
 D) Özgür İrade ve Sorumluluk

11.

İmkânlarını sonuna kadar kullanır.



Fatih

Tembellik etmez çalışıp çabalar.



Naz

"Kaderde ne varsa o olur." deyip bekler.



Zeynep

Üzerine düşen sorumlulukları yerine getirir.



Burak

Bu öğrencilerden hangisi tevekkül kavramını yanlış anlamıştır?

- A) Fatih
B) Naz
C) Zeynep
D) Burak

12. • "Şüphesiz biz ona doğru yolu gösterdik, ister şükredici olsun ister nankör."
(İnsan suresi, 3. ayet)
• "Kim doğru yolu seçerse bunu ancak kendi iyiliği için seçmiş olur..."
(İsra suresi, 15. ayet)

Bu ayetlerde vurgulanmak istenen ana düşünce aşağıdakilerden hangisidir?

- A) Kadere teslimiyetin önemi
B) İnsanın mükemmel yaratıldığı
C) İnsanın tercihlerinde özgür olduğu
D) Rızkın çalışarak elde edilebileceği

13.

- I- "Allah'a itaat edin. Peygambere de itaat edin. Yüz çevirseniz bilin ki elçimize düşen apaçık bir duyurmadır."
(Teğabun suresi, 12. ayet)
II- Allah'tan başka hiçbir ilah yoktur. Müminler yalnız Allah'a dayanıp güvensinler."
(Teğabun suresi, 13. ayet)
III- "Şüphesiz ki biz seni şahit, müjdecî ve uyarıcı olarak gönderdik."
(Fetih suresi, 8. ayet)

Yukarıdaki ayetlerin hangisinde tevekkülden bahsedilmektedir?

- A) Yalnız I
B) Yalnız II
C) I ve III
D) II ve III

14. Öğretmenin sorduğu bir soru üzerine Ezgi şu cevapları vermiştir:

- Bilgisizlik
-Tembellik
-Sorumsuzluk

Buna göre öğretmen Ezgi'ye aşağıdaki sorulardan hangisini sormuş olabilir?

- A) Kader inancının insana faydaları nelerdir?
B) Kader ile kaza inançları arasındaki farklar nelerdir?
C) Kader inancının hayatımızda nasıl bir etkisi vardır?
D) Kader inancı ile ilgili yanlış anlayışların sebepleri nelerdir?

15. “Onlar kendi canları çekmesine rağmen yemeği yoksula, yetime ve esire yedirirler. Biz sizi Allah rızası için doyuruyoruz; sizden ne bir karşılık ne de bir teşekkür bekliyoruz (derler).”

(İnsan suresi, 8-9. ayetler.)

Bu ayetlerde övgüyle bahsedilen güzel davranış aşağıdakilerden hangisidir?

- A) Paylaşma
B) Dürüstlük
C) Sabır
D) Adalet

16. İnsanın sorumlu bir varlık olması aşağıdakilerden hangisiyle ilgilidir?

- A) Düşünmesi
B) Konuşması
C) Yürümesi
D) Beslenmesi

17. Peygamberler bir meslek edinerek çalışmışlar, rızıklarını kazanmışlardır. Örneğin Hz. Davut demircilik, Hz. İsa marangozluk, Hz. Muhammed de ticaret yapmıştır.

Bu paragrafta verilmek istenen ana düşünce aşağıdakilerden hangisidir?

- A) Meslek farklılıklarının önemli olduğu
B) Rızkın çalışarak elde edilmesi gerektiği
C) Allah'ın insanlara peygamber gönderdiği
D) Peygamberlerin diğer insanlardan farklı olduğu

18. Aşağıdakilerden hangisi İslam dininin emek ve rızık anlayışını yansıtmaz?

- A) Nimetlerin israf edilmesi haram kılınmıştır.
B) İnsanın rızkını helal yoldan elde etmesi gerekir.
C) İnsan çalışmasa da Allah onun rızkını verecektir.
D) Çalışmadan kazanmak ve üretmeden tüketmek doğru değildir.

19. Hz. Muhammed Medine'ye hicret edince, Mekkeli Müslümanlarla Medineli Müslümanları kardeş ilan etti. Medineli Müslümanlar evlerini ve eşyalarını Mekke'den gelenlerle paylaştılar.

Peygamberimizin bu uygulamasının amacı aşağıdakilerden hangisidir?

- A) Medineli Yahudilerle iyi geçinmek
B) Bütün Araplar arasında birliği sağlamak
C) Mekkeli putperestlere karşı güç birliği yapmak
D) Müslümanları yardımlaşmaya yönlendirmek

20. “Allah’tan başka ilah yoktur. O, hayat sahibidir ve diridir. Kendisine ne uyku gelir ne de uyuklama. Göklerde ve yerdekilerin hepsi O’nundur. İzni olmadan O’nun katında kim şefaata edebilir? O, kullarının yaptıklarını ve yapacaklarını bilir. Kullar O’nun diledikleri dışında O’nun ilminden hiçbir şeyi kuşatamazlar. Kürsüsü gökleri ve yeri kaplamıştır. Onları korumak O’na zor gelmez. O yücedir, büyüktür.”

(Bakara suresi, 255. ayet)

Bu ayette (Ayete’l - Kürsi) aşağıdakilerden hangisinden söz edilmemiştir?

- A) Allah’ın her şeyi bildiğinden
- B) Allah’tan başka ilah olmadığından
- C) Peygamberlerin örnek alınması gerektiğinden
- D) Yerde ve gökteki her şeyin Allah’a ait olduğundan

**TEST BİTTİ.
CEVAPLARINIZI KONTROL EDİNİZ.**

**26 KASIM 2014 TARİHİNDE YAPILAN 8. SINIF I. DÖNEM
DİN KÜLTÜRÜ VE AHLAK BİLGİSİ DERSİ ORTAK SINAVI
“A” KİTAPÇIĞI CEVAP ANAHTARI**

DİN KÜLTÜRÜ VE AHLAK BİLGİSİ

1. D
2. B
3. C
4. A
5. D
6. A
7. C
8. B
9. D
10. A
11. C
12. C
13. B
14. D
15. A
16. A
17. B
18. C
19. D
20. C



T.C.
MILLÎ EĞİTİM BAKANLIĞI

A

KİTAPÇIK TÜRÜ

8. SINIF I. DÖNEM
İNGİLİZCE DERSİ
ORTAK SINAVI
27 KASIM 2014 Saat: 11.20

Adı ve Soyadı :
Sınıfı :
Öğrenci Numarası :

ÖĞRENCİLERİN DİKKATİNE!

1. Sınıf öğrenci yoklama listesinde belirtilen sınıfta ve sıra numarasında oturmanız gerektiğinden durumunuzu kontrol ediniz.
2. Bu sınavda cevaplayacağınız soru sayısı 20, sınav süreniz 40 dakikadır.
3. Sınav süresince dışarı çıkılmayacaktır.
4. Sınav sırasında sözlük, hesap makinesi, saat fonksiyonu dışında özellikleri bulunan saat veya çağrı cihazı, cep telefonu, telsiz, radyo ve bilgisayar özelliği bulunan elektronik cihazları yanınızda bulundurmanız hâlinde sınavınız geçersiz sayılacaktır.
5. Soruları ve sorulara verdiğiniz cevapları, yanınızda götürmek amacıyla kaydetmeyiniz; hiçbir şekilde dışarı çıkarmayınız.
6. Cevap kâğıdınızı sınav süresince hiçbir öğrencinin göremeyeceği şekilde önünüzde bulundurunuz.
7. Sınavın değerlendirilmesi aşamasında, kopya tespiti veya başka adayın sınav evrakını kullanmanız durumunda sınavınız geçersiz sayılacaktır.

CEVAP KÂĞIDI VE SORU KİTAPÇIĞI İLE İLGİLİ AÇIKLAMALAR

1. Cevap kâğıdınızdaki bilgilerin doğruluğunu kontrol ediniz ve cevap kâğıdınızı silinmeyen bir kalemle imzalayınız.
2. Cevap kâğıdındaki bilgiler size ait değilse veya cevap kâğıdı kullanılmayacak durumdaysa sınav görevlilerinin temin edeceği yedek cevap kâğıdına kimliğinizle ilgili bilgileri açıklamalar doğrultusunda yazınız ve kodlayınız.
3. Cevap kâğıdı üzerindeki kodlamaları kurşun kalemle yapınız.
4. Değiştirmek istediğiniz bir cevabı, yumuşak silgiyle cevap kâğıdını örselemeden temizce siliniz ve yeni cevabınızı kodlayınız.
5. Kitapçık türünü cevap kâğıdınızdaki ilgili alana kodlayınız. Bu kodlamayı yapmadığınız veya yanlış yaptığınız takdirde sınavınızın değerlendirilmesi doğru yapılamayacaktır.
6. Cevaplarınızı, cevap kâğıdındaki ilgili soru numarasını dikkate alarak yuvarlağın dışına taşırmadan kodlayınız.
7. Soru kitapçığının sayfalarını kontrol ediniz, baskı hatası var ise değiştirilmesini sağlayınız.
8. Soruların çözümü için size ayrıca boş kâğıt verilmeyecektir. Soru kitapçığının içindeki boş alanları çözümleriniz için kullanabilirsiniz.
9. Cevaplamaya istediğiniz sorudan başlayabilirsiniz. Cevabını bilmediğiniz sorular üzerinde fazla zaman kaybetmeden diğer sorulara geçiniz. Zamanınız kalırsa bu sorulara daha sonra dönebilirsiniz.
10. Soru kitapçığı üzerinde yapılıp cevap kâğıdına işaretlenmeyen cevaplar değerlendirme işlemine alınmayacaktır.
11. Sınav puanınızın hesaplanmasında sadece doğru cevaplarınız dikkate alınacaktır.
12. Sınav bitiminde, soru kitapçığı ve cevap kâğıdını salon görevlilerine teslim ediniz.

BAŞLAYINIZ DENİLMEDEN SORU KİTAPÇIĞINIZI AÇMAYINIZ.

1-10. sorularda boş bırakılan yere uygun gelen seçeneği işaretleyiniz.

1. Tina : Why don't we have lunch together?
Mark : I'm very hungry. Let's go to a café.

A) Unfortunately! B) Don't worry!
C) Never mind! D) Great idea!

2. Alice : I could beat adults at chess at the age of 5.
Meg : I don't believe it.

A) Really? B) Absolutely!
C) As a result, D) Thank God!

3. Peter : Would you like to eat pizza?
Gökçe : It's healthier.
Peter : Yes, but pizza is still my favourite food.

A) I do sports regularly.
B) I'd rather have salad.
C) I prefer having a rest.
D) I never eat vegetables.

4. Ronny : In my dream, I saw a big angry dog.
Ece : Sorry. Can you repeat that, please?
Ronny : Aren't you listening to me? I saw an angry dog in my dream. It was running towards me!

A) I couldn't see it.
B) I wanted to shout.
C) I couldn't hear you.
D) I was really afraid.

5. Sandra : While I was sitting in the balcony, I saw a light in the sky. It was a UFO.
Berk :
Sandra : Of course. It wasn't a dream. My mother saw it, too.

A) What happened then?
B) Are you sure about it?
C) Why don't you have a rest?
D) Was it a nightmare or a dream?

6. Clara :
Buket : I usually get up early in the morning. I take a shower and then I go to school. After school I go to the gym.

A) How do you spend a day?
B) Where do you want to go?
C) Why do you eat junk food?
D) What do you want to do?

7. Jill : I need a sunscreen to keep the freckles away.
Ceyda : It mustn't be chemical. You should use herbal products.
- A) Wash your hair every morning.
B) Do exercise three times a week.
C) Stop eating chocolate and candies.
D) Check the ingredients before buying one.

8. Jack : I have got some problems with Bob. He sometimes acts selfishly.
Ece :
Jack : I want him to be an understanding friend.
- A) What does he look like?
B) What do you expect him to do?
C) What are his personal qualities?
D) What does he do in his spare time?

9. Sally : My friend Tim often gets bad marks in exams. He's not hardworking enough. What can I do for him?
Dad : He'll be successful in time.
- A) You had better congratulate him.
B) You should thank him for his help.
C) You should help him develop good study habits.
D) You had better be generous and share your possessions.

10. Lena : I have a difficult exam tomorrow and I must study all night.
Mum : because if you don't have a good rest before the exam, you will feel tired.
- A) Be prepared to get bad marks
B) Do exercise in the school gym
C) Don't eat anything in the morning
D) Don't forget to get enough sleep

11. Aşağıdaki tabloda verilen listenin başlığı olabilecek seçeneği işaretleyiniz.

.....
⇒ Make a plan.
⇒ Study regularly.
⇒ Do exercise.
⇒ Have a rest.
⇒ Repeat the lessons.

- A) Tips to Be Successful at School
B) Tips to Be Strong and Energetic
C) Tips to Have a Healthy Life
D) Tips to Gain Some Weight

12. Pelin has got problems with her hair. What should she use?

A)



Facial Cleanser:
helps to clear
blackheads

B)



Massager:
keeps your
skin smooth

C)



Moisturizing cream:
keeps your skin soft

D)



Shampoo:
gets rid of
dandruff

13. Aşağıda verilen metne göre Bahar'ın bulunduğu seçeneği işaretleyiniz.

"Bahar learns through moving and touching. She likes making experiments and doing sports."


A)



B)



C)



D)



14. Aşağıda verilen karşılıklı konuşmaya göre doğru ifadeyi işaretleyiniz.

I learn better with demonstrations and pictures. I forget names but remember faces.

I'm good at sports and building something with my hands. I remember everything I do with friends.



Tuğçe



Bob

- A) Tuğçe likes building something with her hands.
B) Tuğçe isn't good at remembering names.
C) Bob isn't good at physical activities.
D) Bob likes demonstrations.

15-16 ve 17. soruları aşağıda verilen bilgilere göre cevaplayınız.



Mary is very social. She likes going out with friends but she doesn't like spending money.



Mike is very cheerful. His friends never get bored with him because he always does funny things.



Helen is a bad-tempered girl. She's easily annoyed and talks in an angry way to people.



David always gets very good marks in exams but he often treats his friends badly.

15. Mary is social but she isn't

- A) naughty B) generous
C) helpful D) lazy

16. is hardworking but not polite.

- A) Mary B) Helen
C) Mike D) David

17. is cheerful but isn't.

- A) Mike / Helen B) Mary / Mike
C) Helen / David D) David / Mary

18-19 ve 20. soruları aşağıda verilen metne göre cevaplayınız.

DREAMS



If you are sailing in your dream, it means you will find a new job and you will be very successful. Alternatively, you will have money and spend some time with new friends.



If you are watching snowfall in your dream, it means you hope for something. It also means you will need to take care of your health.



If you see yourself walking in a field of daisies in your dream, it means you feel lonely. You are bored with your daily routine and you need to make a fresh start by travelling to a new country.

18. Sailing in your dream means you

- A) will feel lonely
B) hope for something
C) will have some money
D) travel to a new country

19. Snowfall means you may need to

- A) see a doctor B) find a new job
C) meet friends D) stay alone

20. Daisies in your dream means you

- A) will spend a lot of money
B) need to make a fresh start
C) will walk in a field alone
D) are bored with friends

TEST BİTTİ.

CEVAPLARINIZI KONTROL EDİNİZ.

SINAV SÜRESİNCE UYULACAK KURALLAR

1. Öğrenciler, sınav kurallarına ve salon görevlilerinin tüm uyarılarına uymak zorundadırlar.
2. Sınav başladıktan sonra öğrencilerin salon görevlileri ve birbirleri ile konuşmaları, kalem, silgi vb. şeyleri istemeleri yasaktır.
3. Sınav evraklarını teslim etmeyenlerin sınavı geçersiz sayılacaktır.

SINAV GÖREVLİLERİNCE SINAV BAŞLAMADAN ÖNCE ÖĞRENCİLERE YAPILACAK SON UYARI

- Soracağınız bir şey var mı? Varsa, şimdi sorunuz.
- Sınav başladıktan sonra sorularınıza cevap verilmeyecektir.
- Başlama zilini bekleyiniz.
- Hepinize başarılar dileriz.

(Sınav görevlisi başlama ve bitiş saatini tahtaya yazacaktır.)

Bu kitapçığın her hakkı saklıdır. Hangi amaçla olursa olsun, kitapçığın tamamının veya bir kısmının Millî Eğitim Bakanlığı Ölçme, Değerlendirme ve Sınav Hizmetleri Genel Müdürlüğünün yazılı izni olmadan kopya edilmesi, fotoğraflarının çekilmesi, bilgisayar ortamına alınması, herhangi bir yolla çoğaltılması, yayımlanması veya başka bir amaçla kullanılması yasaktır. Bu yasağa uymayanlar, doğabilecek cezai sorumluluğu ve kitapçığın hazırlanmasındaki mali külfeti peşinen kabullenmiş sayılır.

**27 KASIM 2014 TARİHİNDE YAPILAN 8. SINIF I. DÖNEM
İNGİLİZCE DERSİ ORTAK SINAVI
“A” KİTAPÇIĞI CEVAP ANAHTARI**

İNGİLİZCE

1. D
2. A
3. B
4. C
5. B
6. A
7. D
8. B
9. C
10. D
11. A
12. D
13. C
14. B
15. B
16. D
17. A
18. C
19. A
20. B