



T.C.
MİLLÎ EĞİTİM BAKANLIĞI

A

KİTAPÇIK TÜRÜ

8. SINIF II. DÖNEM TÜRKÇE DERSİ

ORTAK SINAVI
28 NİSAN 2014 Saat: 09.00

Adı ve Soyadı :
Sınıfı :
Öğrenci Numarası :

ÖĞRENCİLERİN DİKKATİNE!

1. Sınıf öğrenci yoklama listesinde belirtilen sınıfta ve sıra numarasında oturmanız gerektiğinden durumunuzu kontrol ediniz.
2. Bu sınavda cevaplayacağınız soru sayısı 20, sınav süreniz 40 dakikadır.
3. Sınav süresince dışarı çıkılmayacaktır.
4. Sınav sırasında sözlük, hesap makinesi, saat fonksiyonu dışında özellikleri bulunan saat veya çağrı cihazı, cep telefonu, telsiz, radyo ve bilgisayar özelliği bulunan elektronik cihazları yanınızda bulundurmanız hâlinde sınavınız geçersiz sayılacaktır.
5. Soruları ve sorulara verdiğiniz cevapları, yanınızda götürmek amacıyla kaydetmeyiniz; hiçbir şekilde dışarı çıkarmayınız.
6. Cevap kâğıdınızı sınav süresince hiçbir öğrencinin göremeyeceği şekilde önünüzde bulundurunuz.
7. Sınavın değerlendirilmesi aşamasında, bilgisayar ortamında yapılan kopya analizinde, ikili, toplu kopya tespiti veya başka adayın sınav evrakını kullanmanız durumunda sınavınız geçersiz sayılacaktır.

CEVAP KÂĞIDI VE SORU KİTAPÇIĞI İLE İLGİLİ AÇIKLAMALAR

1. Cevap kâğıdınızdaki bilgilerin doğruluğunu kontrol ediniz ve cevap kâğıdınızı silinmeyen bir kalemle imzalayınız.
2. Cevap kâğıdındaki bilgiler size ait değilse veya cevap kâğıdı kullanılmayacak durumdaysa sınav görevlilerinin temin edeceği yedek cevap kâğıdına kimliğinizle ilgili bilgileri açıklamalar doğrultusunda yazınız ve kodlayınız.
3. Cevap kâğıdı üzerindeki kodlamaları kurşun kalemle yapınız.
4. Değiştirmek istediğiniz bir cevabı, yumuşak silgiyle cevap kâğıdını örselemeden temizce siliniz ve yeni cevabınızı kodlayınız.
5. Kitapçık türünü cevap kâğıdınızdaki ilgili alana kodlayınız. Bu kodlamayı yapmadığınız veya yanlış yaptığınız takdirde sınavınızın değerlendirilmesi doğru yapılamayacaktır.
6. Cevaplarınızı, cevap kâğıdındaki ilgili soru numarasını dikkate alarak yuvarlağın dışına taşırmadan kodlayınız.
7. Soru kitapçığının sayfalarını kontrol ediniz, baskı hatası var ise değiştirilmesini sağlayınız.
8. Soruların çözümü için size ayrıca boş kâğıt verilmeyecektir. Soru kitapçığının içindeki boş alanları çözümlerinizi için kullanabilirsiniz.
9. Cevaplamaya istediğiniz sorudan başlayabilirsiniz. Cevabını bilmediğiniz sorular üzerinde fazla zaman kaybetmeden diğer sorulara geçiniz. Zamanınız kalırsa bu sorulara daha sonra dönebilirsiniz.
- 10 Soru kitapçığı üzerinde yapılıp cevap kâğıdına işaretlenmeyen cevaplar değerlendirme işlemine alınmayacaktır.
11. Sınav puanınızın hesaplanmasında sadece doğru cevaplarınız dikkate alınacaktır.
12. Sınav bitiminde, soru kitapçığı ve cevap kâğıdını salon görevlilerine teslim ediniz.

BAŞLAYINIZ DENİLMEDEN SORU KİTAPÇIĞINIZI AÇMAYINIZ.

1. “Ara sıra kır kokuları getiren hafif bir rüzgâr esiyordu.” cümlesindeki “kır” sözcüğünün es seslisi aşağıdakilerin hangisinde kullanılmıştır?

- A) Bir kır gezisinde, tesadüfen tanıştık onunla.
- B) Kır çiçekleri topladım bu sabah senin için.
- C) Ellerini, kırları artan saçları arasında gezdirdi.
- D) Oğlum, kırlarda koşup oynamayı çok sevdi.

2. “Kök” sözcüğü aşağıdaki cümlelerin hangisinde terim anlamıyla kullanılmıştır?

- A) Aniden başlayan tipi ve fırtına onların sıcak evini kökünden sarsıyordu.
- B) Kökü geçmişe dayanan güzel bir dostlukları vardı.
- C) Yaşadıkları sorunu kökünden çözmek için bir araya geldiler.
- D) Yaptırmak kelimesinin kökünü bulmak için bütün eklerini çıkardı.

3. Yaşadığı olumsuzluklara rağmen çevresindeki melek yüzlü, tatlı dilli insanlarla konuşur ve dünyayı toz pembe görürdü.

Altı çizili deyim cümleye kattığı anlam aşağıdakilerin hangisinde vardır?

- A) Üzücü durumlara bile iyimser gözle bakardı.
- B) Güzel konuşmalarıyla etrafındakileri etkilerdi.
- C) Yaptığı işe gereğinden fazla yoğunlaşıp çevresiyle ilgilenmezdi.
- D) Mutlu ve huzurlu bir yaşam için çabalardı.

4. Aşağıdaki cümlelerin hangisinde sebep-sonuç ilişkisi vardır?

- A) Hem biraz dinlenmiş hem de sohbet etmiş oluruz.
- B) Çok yorulduğumuzdan kendimizi çimenlerin üzerine bıraktık.
- C) Dosyayı ayrıntılı bir şekilde incelemeye başladı.
- D) Bahar gelmesine rağmen hava bir türlü ısınmadı.

5. Arabam tamir edilirken atölyenin bir köşesinde duruyordum. (1) İki çırak, bir kazada hasara uğramış başka bir otomobilin bazı kısımlarını söküyorlardı. (2) Ara sıra kendilerinden daha küçük bir çırağa, vermesi gereken anahtarın numaralarını söylüyorlardı. (3) Çocuk da istenilen anahtarı buluyor, ellerine tutuşturuyordu. (4) Çevik ve elleri işe yatkın bu teknisyenleri hayranlıkla seyrediyordum.

Numaralandırılmış cümlelerin hangisinde “beğenme” duygusu hâkimdir?

- A) 1 B) 2 C) 3 D) 4

6. Bu gece yarısında iki kişi uyanık, Biri benim biri de uzayan kaldırımlar.

Bu dizelerde kullanılan söz sanatının göstergesi aşağıdakilerden hangisidir?

- A) “Gece” ve “kaldırımlar”ın konuşturulması
B) “Kaldırımlar”a insan özelliği yüklenmesi
C) “Kaldırımlar”ın anlatımında aşırılığa gidilmesi
D) “Gecenin uzunluğu”nun “kaldırımlar”a benzetilmesi

7. Yahya Kemal, dünyaya hayal etmeden bakmakla yaşlılık arasında bir bağ olduğuna inanır. **Bu, çok yerinde ve doğru bir görüştür.** Hayal ile çocukluk, akıl ile yaşlılık arasında bir ilişki vardır.

Bu metindeki altı çizili cümlede, aşağıdaki anlam özelliklerinden hangisi vardır?

- A) Varsayım B) Beklenti
C) Karşılaştırma D) Onaylama

8. Tiyatro bu yıl baştan sona ilgiyle izlenebilecek, çarpıcı bir oyunla açtı perdelerini. (1) Bu oyun sağlam bir kurguya sahip. (2) Olaylar dizisinin canlandırılmasında ve sahne geçişlerinde saat gibi işleyen bir çözümlenmeye gidilmiş. (3) Ne var ki, dekorlar ve ışık düzeni bu çözümlenmeye yeterince katkı sağlayamıyor. (4) Ayrıca, bazı oyuncular seslerini ve bedenlerini iyi kullanamadıkları için rollerini başarıyla yerine getiremiyorlar.

Bu parçada yazarın oyun hakkındaki düşüncesi, numaralandırılmış cümlelerin hangisinde değişmeye başlamıştır?

- A) 1 B) 2 C) 3 D) 4

9. Gözleri kamaştıran sonsuz mavilikteki gökyüzü, alabildiğine açıktı. Soluk yüzlü eylül güneşi, camlardan kırılır gibi düşüyordu. Akasya ağaçları ve çiçek kümeleri arasında bekleyen çocuklar, bahçenin birer parçası gibi duruyorlardı eylül ışığında. Akasyaların yaprakları arasında salkımların çanakları sararmıştı.

Yazar bu metnin anlatımında aşağıdakilerden hangisine başvurmuştur?

- A) Anlatılanları okuyucunun zihninde canlandırmaya
B) Bir kavramı eksiksiz olarak açıklamaya
C) Nesnelere karşılaştırarak metni etkileyici kılmaya
D) Öne sürdüğü düşünceyi başkalarının görüşleriyle desteklemeye

10. Eski bir hikâyedir: Vaktiyle, bir adam Harun Reşid'e gelir, izin alıp marifetini gösterir. Adam, bir çuvaldızın gözünden kırk tane iğneyi uzaktan atıp geçirir. Görenler onun bu ustalığına şaşır kalırlar. Harun Reşid, bu adama: "Kabiliyetini böyle boş yere harca-yacağına, faydalı bir işe çalışsaydın, insan-lığa daha faydalı olurdun." der. Faydalı bir işe çalışmak... İşte, iş için birinci şart budur. Bu parçada asıl anlatılmak istenen aşağıda-kilerden hangisidir?

- A) Ustalık, toplumu hayrete düşürecek işler yapmaktır.
B) Bir işin değeri, topluma sağlayacağı yararla ölçülür.
C) Yapılan işe yeteneğini katmak kişiyi başarıya ulaştırır.
D) Yapılan işi başkalarının beğenmesi önemlidir.

11. Yazarlar arasında pek rastlanmayan bir dayanışma içindeyiz ikimiz. Bir metni oluşturma aşamasında onun yazdığını ben okurum, benim yazdığımı da o okur. Doğru ve yanlış bulduğumuz yönleri bütün ayrıntı-larıyla inceleriz...

Bu parçanın konusu dikkate alındığında, üç nokta ile belirtilen yere aşağıdakilerden hangisi getirilmelidir?

- A) Böylelikle, yazdıklarımız daha kimseye ulaşmadan en başta birbirimizin eleştiri süzgecinden geçmiş olur.
B) Bu anlamda, iyi yazar olmanın temel koşulu çok okumaktır.
C) Sözün kısası, biz yazarlar yaratıcılığı hayal-lerimizde buluruz.
D) Bu sebeple, yazdıklarımızın merkezine insanı, insan yüreğinin bütün güzelliklerini yerleştiririz.

12.

Küçük bir kasabada mutlu bir aile yaşı-yordu. Onlardan o kadar etkilenmişim ki bir duvar resmiyle yaşamlarını yansı-tmak istedim. Bu ailede gördüğüm bütün mutlulukları, umudu ve huzuru çizmeye başladım. Resmi bitirmek üzereyken atölyeme geldiler. Resme bakıp sordular: "Bunu siz mi yaptınız?" Büyük bir heye-canla yanıt verdim: "Hayır, aslında siz yaptınız. Ben yalnızca sizde gördüklerimi resmettim."

Ben heykellerimde insanları mutlu, üzgün, endişeli yani gerçek hâleriyle aktarmaya çalıştım. Düşündüklerinin ve hissettiklerinin yüzlerinden okunabilmesi için çabaladım. Belki de bu yüzden bana "gerçeği mermere işleyen usta" diyorlar.

Bu metinlere göre, her iki sanatçıyla ilgili olarak aşağıdakilerden hangisi söylenebilir?

- A) Beğenilmekten mutlu oldukları
B) Düşüncelere önem verdikleri
C) İnsanları olduğu gibi yansıttıkları
D) Var olanı değiştirerek aktardıkları

13. 1. Bizler, bir kenarda beklerken çok büyük tüplerle balonların içlerine hava dolduru-luyor.
2. Gökyüzü benek benek balonlarla kap-lanmıştı, o sepetlerden birinin içinde bizler de varız.
3. Aynı anda elliden fazla balonun şişmesi-ne, şekillenmesine ve büyümesine tanık oluyoruz.
4. Bakıyoruz aşağıya, yukarıdan bakınca bambaşka görünen dünyaya.
5. Kapadokya'da bir cumartesi sabahı gün ağarmak üzereyken vadideki yüzlerce insan gibi beklemeye başlıyoruz.
6. Her şey tamam olduğunda yolcular onar yirmişer balon sepetlerine doluyor.

Numaralandırılmış cümleler, olayların oluş-sıra-sına göre nasıl sıralanmalıdır?

- A) 1, 6, 3, 5, 4, 2
B) 5, 1, 3, 6, 2, 4
C) 5, 3, 2, 1, 4, 6
D) 1, 2, 5, 4, 6, 3

14. Çocukken etrafımdakilerden en çok duyduğum nasihatleri alt alta sıralasam, listenin başına “Dünyayı görmeli!” sözünü yerleştirdim herhâlde. “Dünyayı görmeli!” derlerdi, mahallesinden nadiren dışarı çıkanlar. İki sohbet arası üzerlerine suskunluk çöktüğünde böyle söyleme ihtiyacı duyarlardı. Oysa, onlar yazları çıkarlardı mahalleden. Ya memleketlerine ya da yazlık evlerine hep aynı şeyleri yapmak üzere giderlerdi.

Bu parçada, sözü edilen insanların eleştirilen yönü aşağıdakilerden hangisidir?

- A) Sohbetlerinin genellikle aynı konu etrafında dönmesi
 B) Yaşadıkları semti, mahalleyi yeterince tanıyamamaları
 C) Söyledikleriyle yaptıkları arasında zıtlık olması
 D) Kendilerinden yaşça küçüklere nasihat etmeyi sevmeleri

15. 18 Kasım 1906’da Adapazarı’nda doğdu. Çocukluğu orada geçti. İstanbul Erkek Lisesinde başladığı ortaöğrenimini Bursa Lisesinde tamamladı. Yükseköğrenimini ise İstanbul Üniversitesi Edebiyat Fakültesi Türkoloji Bölümünde bitirdi. 1928 yılında iktisat eğitimi için İsviçre’ye gitti. Daha sonra sanatı ve kişiliği üzerinde derin izler bırakan Fransa’da üç yıl yaşadı. Fransa’dan döndükten sonra bir süre Türkçe öğretmenliği yaptı.

Bu metnin türü aşağıdakilerden hangisidir?

- A) Otobiyografi
 B) Biyografi
 C) Deneme
 D) Anı

16. Aşağıdaki parçalardan hangisi üçüncü kişi ağzıyla anlatılmıştır?

- A) Güneşin şehre nefes aldıracağı bir gündü. Sokaklar sakindi. Yürürken başını kaldırıp sayıları durmadan artan yüksek binalara baktı. Cebinden adres yazılı kâğıdı çıkardı.
 B) Sinemadan sonra ablamla birlikte eve döndük. Yarım saat kadar çalıştık. Daha sonra ablam gitarını çaldı, küçük kardeşimle ben de masanın üstündeki dergileri okuduk.
 C) Her yaz güller için bir şeyler karalamak isterim. Ben baharı ve yazı gülle anıyorum, herhâlde siz de öylesinizdir. Gülleri isim isim, renk renk, koku koku tanımaktan memnunum.
 D) İşten çıkınca hiçbir yere uğramadan deniz kenarına koştum. Bir kayığa atlayıp gezintiye çıktım. Gün batımını keyifle seyrederken hayallere daldım.

17. Adını daha çocukluğumda duyduğum,

1

yazıları o yıllardan bu yana bende büyük

2

etkiler bırakmış bu adamı, şimdi yakından

3

görüyorum.

4

Bu cümledeki numaralandırılmış sözcüklerden hangisi fiilimsidir?

- A) 1 B) 2 C) 3 D) 4

18. 1. Şiir okuyuşu herkes tarafından çok beğenilmiş.
2. Bu davranışının birçok nedeni varmış.
3. Yorucu bir günün sonunda derin bir uykuya daldı.
4. Gözlerimi açtığımda ortalık oldukça karanlıktı.

Numaralandırılmış cümlelerden hangileri isim cümlesidir?

- A) 1, 2 B) 1, 3 C) 2, 4 D) 3, 4

19. Aşağıdaki sıralı cümlelerin hangisinde özne, ortak öge olarak kullanılmamıştır?

- A) Yanında getirdiği şiir kitabını çıkardı, okumaya başladı.
B) Köşede oturan ihtiyar gazetesini bıraktı, söze karıştı.
C) Yayladan inmiş, ovanın enginliğinde yol almaya başlamıştı.
D) Kar kalkmış, hava açmış, ayaz gevşemişti.

20. Küçük bir kalabalık -ancak çok yaklaşınca görülebilen- köye giden geniş yolun ağzında durmuştu.

Bu cümledeki kısa çizgilerin yerine aşağıdaki noktalama işaretlerinden hangisi konursa aynı işlevde kullanılmış olur?

- A) , B) ... C) : D) ;

TEST BİTTİ.

CEVAPLARINIZI KONTROL EDİNİZ.

**28 NİSAN 2014 TARİHİNDE YAPILAN 8. SINIF II. DÖNEM
TÜRKÇE DERSİ ORTAK SINAVI
“A” KİTAPÇIĞI CEVAP ANAHTARI**

TÜRKÇE

1. C
2. D
3. A
4. B
5. D
6. B
7. D
8. C
9. A
10. B
11. A
12. C
13. B
14. C
15. B
16. A
17. C
18. C
19. D
20. A



T.C.
MİLLÎ EĞİTİM BAKANLIĞI

A

KİTAPÇIK TÜRÜ

8. SINIF II. DÖNEM MATEMATİK DERSİ

ORTAK SINAVI

28 NİSAN 2014 Saat: 10.10

Adı ve Soyadı :
Sınıfı :
Öğrenci Numarası :

ÖĞRENCİLERİN DİKKATİNE!

1. Sınıf öğrenci yoklama listesinde belirtilen sınıfta ve sıra numarasında oturmanız gerektiğinden durumunuzu kontrol ediniz.
2. Bu sınavda cevaplayacağınız soru sayısı 20, sınav süreniz 40 dakikadır.
3. Sınav süresince dışarı çıkılmayacaktır.
4. Sınav sırasında sözlük, hesap makinesi, saat fonksiyonu dışında özellikleri bulunan saat veya çağrı cihazı, cep telefonu, telsiz, radyo ve bilgisayar özelliği bulunan elektronik cihazları yanınızda bulundurmanız hâlinde sınavınız geçersiz sayılacaktır.
5. Soruları ve sorulara verdiğiniz cevapları, yanınızda götürmek amacıyla kaydetmeyiniz; hiçbir şekilde dışarı çıkarmayınız.
6. Cevap kâğıdınızı sınav süresince hiçbir öğrencinin göremeyeceği şekilde önünüzde bulundurunuz.
7. Sınavın değerlendirilmesi aşamasında, bilgisayar ortamında yapılan kopya analizinde, ikili, toplu kopya tespiti veya başka adayın sınav evrakını kullanmanız durumunda sınavınız geçersiz sayılacaktır.

CEVAP KÂĞIDI VE SORU KİTAPÇIĞI İLE İLGİLİ AÇIKLAMALAR

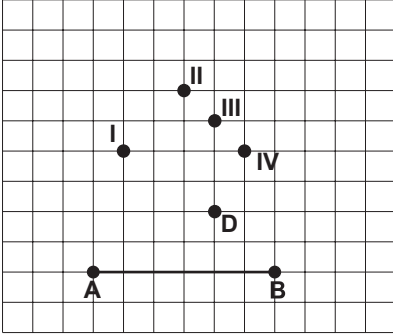
1. Cevap kâğıdınızdaki bilgilerin doğruluğunu kontrol ediniz ve cevap kâğıdınızı silinmeyen bir kalemle imzalayınız.
2. Cevap kâğıdındaki bilgiler size ait değilse veya cevap kâğıdı kullanılmayacak durumdaysa sınav görevlilerinin temin edeceği yedek cevap kâğıdına kimliğinizle ilgili bilgileri açıklamalar doğrultusunda yazınız ve kodlayınız.
3. Cevap kâğıdı üzerindeki kodlamaları kurşun kalemle yapınız.
4. Değiştirmek istediğiniz bir cevabı, yumuşak silgiyle cevap kâğıdını örselemeden temizce siliniz ve yeni cevabınızı kodlayınız.
5. Kitapçık türünü cevap kâğıdınızdaki ilgili alana kodlayınız. Bu kodlamayı yapmadığınız veya yanlış yaptığınız takdirde sınavınızın değerlendirilmesi doğru yapılamayacaktır.
6. Cevaplarınızı, cevap kâğıdındaki ilgili soru numarasını dikkate alarak yuvarlağın dışına taşırmadan kodlayınız.
7. Soru kitapçığının sayfalarını kontrol ediniz, baskı hatası var ise değiştirilmesini sağlayınız.
8. Soruların çözümü için size ayrıca boş kâğıt verilmeyecektir. Soru kitapçığının içindeki boş alanları çözümleriniz için kullanabilirsiniz.
9. Cevaplamaya istediğiniz sorudan başlayabilirsiniz. Cevabını bilmediğiniz sorular üzerinde fazla zaman kaybetmeden diğer sorulara geçiniz. Zamanınız kalırsa bu sorulara daha sonra dönebilirsiniz.
- 10 Soru kitapçığı üzerinde yapılıp cevap kâğıdına işaretlenmeyen cevaplar değerlendirme işlemine alınmayacaktır.
11. Sınav puanınızın hesaplanmasında sadece doğru cevaplarınız dikkate alınacaktır.
12. Sınav bitiminde, soru kitapçığı ve cevap kâğıdını salon görevlilerine teslim ediniz.

BAŞLAYINIZ DENİLMEDEN SORU KİTAPÇIĞINIZI AÇMAYINIZ.

1. $\frac{1}{10} \cdot \frac{1}{10} \cdot \frac{1}{10} \cdot \frac{1}{10} \cdot \frac{1}{10} \cdot \frac{1}{10} \cdot \frac{1}{10}$ işleminin sonucu aşağıdakilerden hangisidir?

- A) 10^{-7} B) $\frac{1}{10^{-7}}$
C) $7 \cdot 10^{-1}$ D) $\frac{1}{7} \cdot 10^{-1}$

2.



Verilen şekle göre, hangi nokta C köşesi olarak seçilirse ABC üçgeninin AB kenarına ait kenarortayı D noktasından geçer?

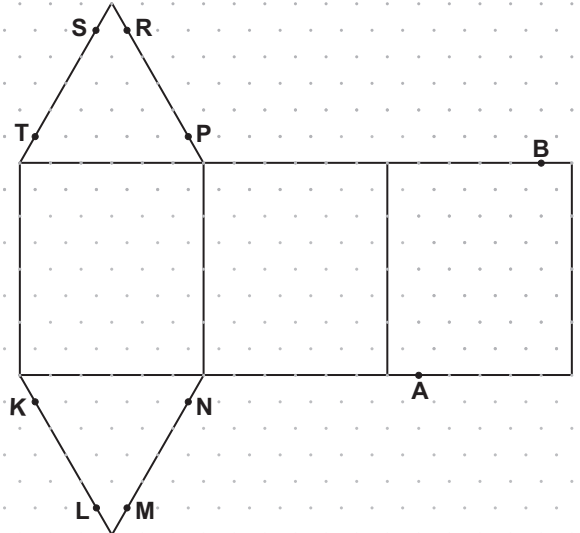
- A) I B) II C) III D) IV

3. 7 a 13

Yukarıda verilenler bir aritmetik dizinin ilk üç terimi olduğuna göre, a yerine hangi sayı gelmelidir?

- A) 12 B) 11 C) 10 D) 9

4.



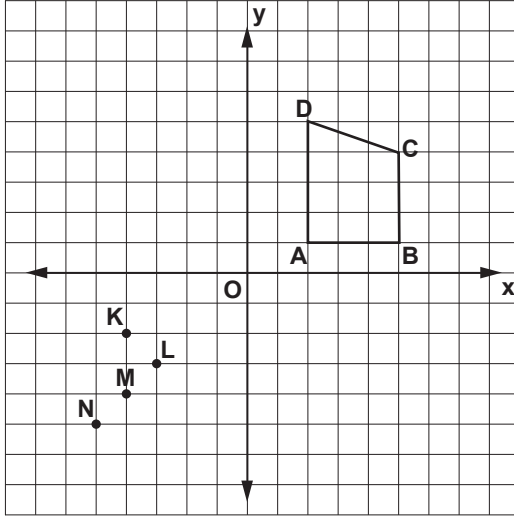
Şekilde izometrik kağıtta verilen açınım, üçgen dik prizma oluşturacak şekilde kapatıldığında, A ve B noktaları hangi noktalar ile eşleşir?

- A) K ve S B) L ve T C) N ve R D) M ve P

5. Aşağıda verilen geometrik cisimlerden hangisi, bir düzlemle kesildiğinde arakesit bir daire olamaz?

- A) Dik dairesel koni B) Dik piramit
C) Dik dairesel silindir D) Küre

6.

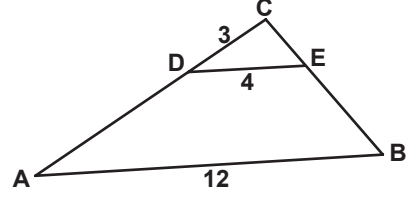


Şekildeki ABCD yamuğu orijin etrafında 180° döndürülerek $A'B'C'D'$ yamuğu elde ediliyor.

Buna göre K, L, M, N noktalarından hangisi $A'B'C'D'$ yamuğunun dış bölgesinde kalır?

- A) K B) L C) M D) N

7.



Şekilde $[DE] \parallel [AB]$ dir.

$|CD| = 3$ cm, $|DE| = 4$ cm ve $|AB| = 12$ cm olduğuna göre, $|AD|$ kaç santimetredir?

- A) 6 B) 9 C) 10 D) 12

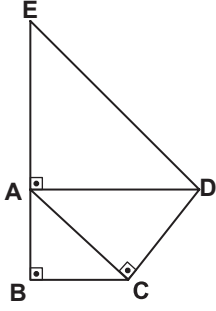
8. Efe, bir oyun için 5 arkadaşından 3'ünü kaç farklı biçimde seçebilir?

- A) 10 B) 12 C) 15 D) 20

9. Alanı 108 cm^2 olan karesel bölgenin çevresinin uzunluğu kaç santimetredir?

- A) $12\sqrt{3}$ B) $18\sqrt{3}$ C) $24\sqrt{3}$ D) $28\sqrt{2}$

10.



Şekildeki \widehat{ABC} , \widehat{ACD} , \widehat{EAD} ikizkenar dik üçgenlerdir. $|AB| = 2$ cm olduğuna göre, $|DE|$ kaç santimetredir?

- A) 4 B) $4\sqrt{2}$ C) $3\sqrt{6}$ D) 8

11.

Tablo: Yiyecekler

Yiyecekler	Sayıları
Sucuklu tost	35
Peynirli tost	18
Salamlı tost	15

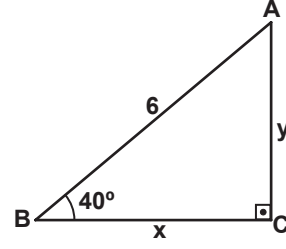
Tablo: İçecekler

İçecekler	Sayıları
Vişne suyu	20
Şeftali suyu	25
Portakal suyu	23

Bir okul gezisinde öğrencilere dağıtılmak üzere bir yiyecek ve bir içecekten oluşan paketler hazırlanacaktır. Tablolarda sayıları verilen yiyecek ve içeceklerden rastgele birer tane alınarak hazırlanan ilk pakette, peynirli tost ve vişne suyu olma olasılığı aşağıdaki işlemlerden hangisi ile hesaplanabilir?

- A) $\frac{18}{68} \cdot \frac{20}{68}$ B) $\frac{18}{68} + \frac{20}{68}$
 C) $\frac{38}{136} \cdot \frac{37}{135}$ D) $\frac{38}{136} + \frac{37}{135}$

12.



Şekildeki ABC dik üçgeninde, $|AB| = 6$ cm, $|BC| = x$ cm ve $|AC| = y$ cm olduğuna göre, aşağıda verilen eşitliklerden hangisi doğrudur?

- A) $\sin 40^\circ = \frac{x}{y}$ B) $\cos 40^\circ = \frac{6}{x}$
 C) $\tan 40^\circ = \frac{y}{x}$ D) $\cot 40^\circ = \frac{x}{6}$

13.

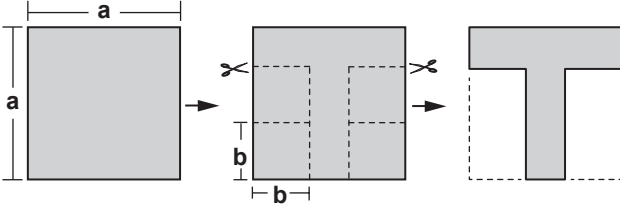
Bir ABC üçgeninde $m(\widehat{BAC}) = 100^\circ$ dir. Buna göre, üçgenin kenarları arasında aşağıdaki hangi ilişki olamaz?

- A) $|AB| < |AC| < |BC|$
 B) $|AC| < |AB| < |BC|$
 C) $|AB| = |AC|$ ve $|AC| < |BC|$
 D) $|AB| = |BC|$ ve $|AC| < |AB|$

14. Kenar uzunlukları santimetre cinsinden birer tam sayı ve çevresinin uzunluğu 9 cm olan kaç farklı üçgen vardır?

A) 3 B) 4 C) 5 D) 6

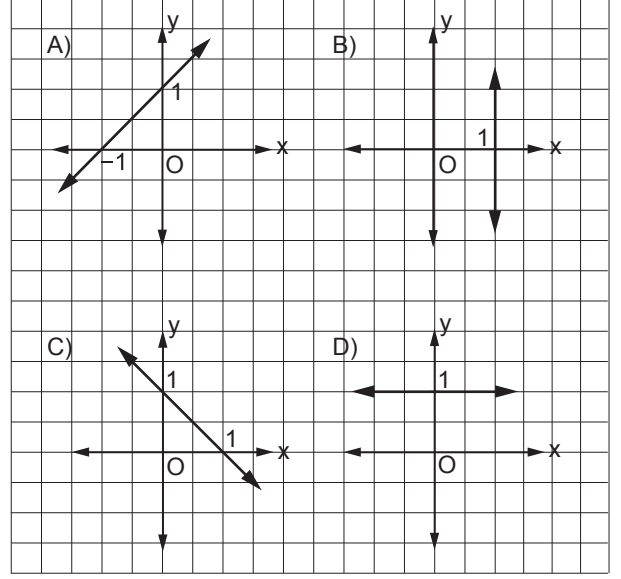
15.



Bir kenarının uzunluğu a birim olan kare şeklindeki kâğıttan, bir kenarının uzunluğu b birim olan kare şeklinde dört eş parça yukarıdaki gibi kesilip çıkarılıyor. Kalan kâğıdın bir yüzünün alanının kaç birimkare olduğunu gösteren cebirsel ifade aşağıdakilerden hangisi ile özdeştir?

A) $(a - 4b)^2$ B) $(a - 2b)^2$
C) $(a - 4b)(a + 4b)$ D) $(a - 2b)(a + 2b)$

16. Aşağıda grafikleri verilen doğrulardan hangisinin eğimi 1'dir?



17. $\frac{3x^2 - 11x + 10}{6x - 10}$ cebirsel ifadesi aşağıdakilerden hangisine eşittir?

A) $\frac{x-8}{6}$ B) $\frac{x-2}{2}$ C) $3x^2 - 1$ D) $-8x$

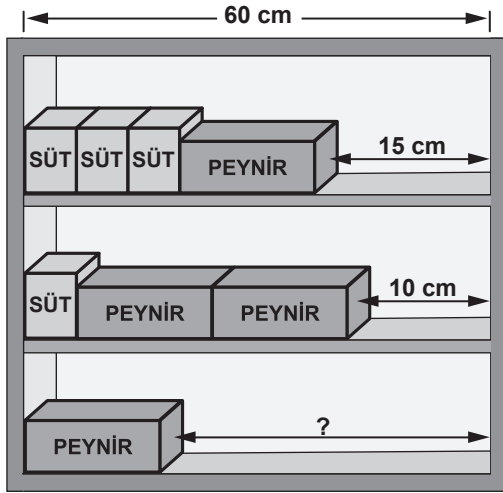
18. $\frac{x}{2} - 1 = \frac{x}{3} + 2$ denklemini sağlayan x değeri kaçtır?

- A) 6 B) 12 C) 18 D) 21

20. Koordinat sisteminde denklemleri, $y = 4$ ve $y = x$ olan doğrular ile y ekseninin sınırladığı bölgenin alanı kaç birimkaredir?

- A) 4 B) 8 C) 12 D) 16

19.



Birbirine özdeş olan peynir paketleri ve birbirine özdeş olan süt paketlerinin 60 cm uzunluğundaki raflara dizilişi şekilde gösterilmiştir. Birinci rafta 15 cm, ikinci rafta 10 cm boşluk kaldığına göre, üçüncü raftaki boşluk kaç santimetredir?

- A) 29 B) 32 C) 35 D) 39

TEST BİTTİ.
CEVAPLARINIZI KONTROL EDİNİZ.

**28 NİSAN 2014 TARİHİNDE YAPILAN 8. SINIF II. DÖNEM
MATEMATİK DERSİ ORTAK SINAVI
“A” KİTAPÇIĞI CEVAP ANAHTARI**

MATEMATİK

- 1. A**
- 2. D**
- 3. C**
- 4. B**
- 5. B**
- 6. D**
- 7. A**
- 8. A**
- 9. C**
- 10. B**
- 11. A**
- 12. C**
- 13. D**
- 14. A**
- 15. D**
- 16. A**
- 17. B**
- 18. C**
- 19. D**
- 20. B**



T.C.
MİLLÎ EĞİTİM BAKANLIĞI

A

KİTAPÇIK TÜRÜ

8. SINIF II. DÖNEM FEN VE TEKNOLOJİ DERSİ

ORTAK SINAVI

29 NİSAN 2014 Saat: 09.00

Adı ve Soyadı :
Sınıfı :
Öğrenci Numarası :

ÖĞRENCİLERİN DİKKATİNE!

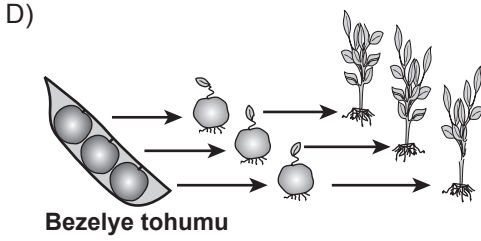
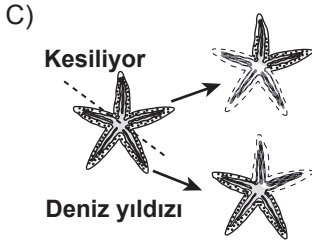
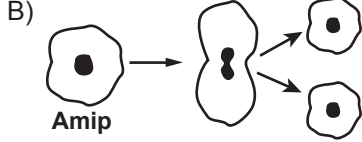
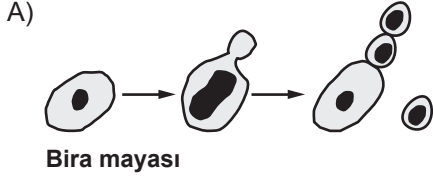
1. Sınıf öğrenci yoklama listesinde belirtilen sınıfta ve sıra numarasında oturmanız gerektiğinden durumunuzu kontrol ediniz.
2. Bu sınavda cevaplayacağınız soru sayısı 20, sınav süreniz 40 dakikadır.
3. Sınav süresince dışarı çıkılmayacaktır.
4. Sınav sırasında sözlük, hesap makinesi, saat fonksiyonu dışında özellikleri bulunan saat veya çağrı cihazı, cep telefonu, telsiz, radyo ve bilgisayar özelliği bulunan elektronik cihazları yanınızda bulundurmanız hâlinde sınavınız geçersiz sayılacaktır.
5. Soruları ve sorulara verdiğiniz cevapları, yanınızda götürmek amacıyla kaydetmeyiniz; hiçbir şekilde dışarı çıkarmayınız.
6. Cevap kâğıdınızı sınav süresince hiçbir öğrencinin göremeyeceği şekilde önünüzde bulundurunuz.
7. Sınavın değerlendirilmesi aşamasında, bilgisayar ortamında yapılan kopya analizinde, ikili, toplu kopya tespiti veya başka adayın sınav evrakını kullanmanız durumunda sınavınız geçersiz sayılacaktır.

CEVAP KÂĞIDI VE SORU KİTAPÇIĞI İLE İLGİLİ AÇIKLAMALAR

1. Cevap kâğıdınızdaki bilgilerin doğruluğunu kontrol ediniz ve cevap kâğıdınızı silinmeyen bir kalemle imzalayınız.
2. Cevap kâğıdındaki bilgiler size ait değilse veya cevap kâğıdı kullanılmayacak durumdaysa sınav görevlilerinin temin edeceği yedek cevap kâğıdına kimliğinizle ilgili bilgileri açıklamalar doğrultusunda yazınız ve kodlayınız.
3. Cevap kâğıdı üzerindeki kodlamaları kurşun kalemle yapınız.
4. Değiştirmek istediğiniz bir cevabı, yumuşak silgiyle cevap kâğıdını örselemeden temizce siliniz ve yeni cevabınızı kodlayınız.
5. Kitapçık türünü cevap kâğıdınızdaki ilgili alana kodlayınız. Bu kodlamayı yapmadığınız veya yanlış yaptığınız takdirde sınavınızın değerlendirilmesi doğru yapılamayacaktır.
6. Cevaplarınızı, cevap kâğıdındaki ilgili soru numarasını dikkate alarak yuvarlağın dışına taşırmadan kodlayınız.
7. Soru kitapçığının sayfalarını kontrol ediniz, baskı hatası var ise değiştirilmesini sağlayınız.
8. Soruların çözümü için size ayrıca boş kâğıt verilmeyecektir. Soru kitapçığının içindeki boş alanları çözümleriniz için kullanabilirsiniz.
9. Cevaplamaya istediğiniz sorudan başlayabilirsiniz. Cevabını bilmediğiniz sorular üzerinde fazla zaman kaybetmeden diğer sorulara geçiniz. Zamanınız kalırsa bu sorulara daha sonra dönebilirsiniz.
- 10 Soru kitapçığı üzerinde yapılıp cevap kâğıdına işaretlenmeyen cevaplar değerlendirme işlemine alınmayacaktır.
11. Sınav puanınızın hesaplanmasında sadece doğru cevaplarınız dikkate alınacaktır.
12. Sınav bitiminde, soru kitapçığı ve cevap kâğıdını salon görevlilerine teslim ediniz.

BAŞLAYINIZ DENİLMEYEN SORU KİTAPÇIĞINIZI AÇMAYINIZ.

1. Aşağıda çeşitli canlıların üreme şekilleri gösterilmiştir. Bu canlı türlerinin hangisinde, elde edilen yavruların genetik yapısı ana canlıdan farklıdır?



2. Üç öğrenci, bir ekosistemde rastlanabilen besin zinciri örneklerini göstermek için canlıları aşağıdaki gibi sıralamıştır.

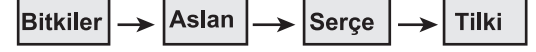
Ayşe'nin gösterimi:



Zeynep'in gösterimi:



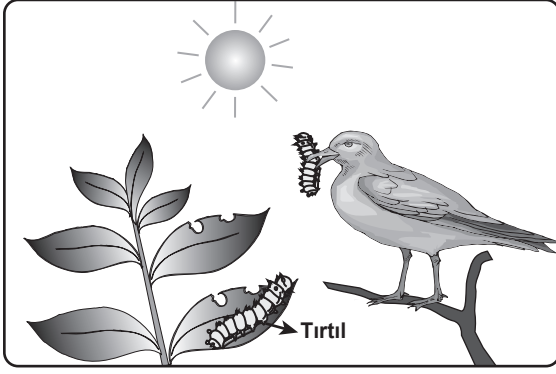
Murat'ın gösterimi:



- Öğrencilerin yapmış oldukları bu gösterimlerle ilgili olarak aşağıdakilerden hangisi doğrudur?

- A) Ayşe'nin gösterimi doğrudur, çünkü üretici canlıları en sona yerleştirmiştir.
- B) Zeynep'in gösterimi doğrudur, çünkü üretici ve tüketici canlıları doğru sıralamıştır.
- C) Murat'ın gösterimi doğrudur, çünkü daha fazla canlı türüyle sıralama yapmıştır.
- D) Zeynep ve Murat'ın gösterimi doğrudur, çünkü her ikisi de üretici canlılarla başlamıştır.

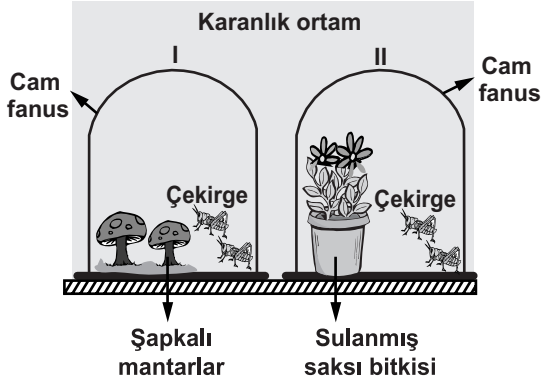
3. Şekil, bir ekosistemdeki enerji akışıyla ilgilidir.



Bu şekle göre, aşağıda verilenlerden hangisi yanlıştır?

- A) Bitki, güneş enerjisini kullanabilir.
- B) Canlılar, yaşamlarını sürdürmek için enerjiye ihtiyaç duyarlar.
- C) Canlıların hepsi, güneş enerjisini besin üretmek için kullanabilir.
- D) Bazı tüketiciler, enerji ihtiyaçlarını doğrudan üreticilerden karşılar.

4. Bir öğrenci, fotosentezin canlılar için önemini deneye gözlemlemek istiyor. Bunun için şekildeki düzenekleri hazırlamıştır.

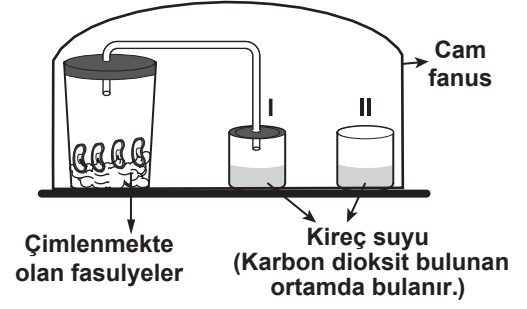


(Cam fanuslar özdeştir.)

Öğrenci, bu düzeneklerde aşağıdaki uygulamalardan hangisini yaparsa amacına ulaşır?

- A) Karanlık ortamdaki düzeneklerden çekirgeleri çıkarıp kurbağaları eklemelidir.
- B) II. fanusu karanlık ortamda bırakıp; I. fanusu ışıklı ortama almalıdır.
- C) Karanlık ortamdaki I. fanusa da saksı bitkisi eklemelidir.
- D) Karanlık ortamdaki düzenekleri ışıklı ortama almalıdır.

5.



Yukarıdaki düzenekle sınıfta deney yapan Mehmet, "Sizin de gözlemlediğiniz gibi yalnızca I. kaptaki kireç suyu bulandı." diyor.

Buna göre, bu deneyin hipotezi aşağıdakilerden hangisidir?

- A) Fotosentez sonucu oksijen açığa çıkar.
- B) Fotosentezin gerçekleşmesi için karbon dioksit gereklidir.
- C) Oksijenli solunum sonucu karbon dioksit açığa çıkar.
- D) Oksijenli solunumun gerçekleşmesi için yeşil bitkiler gereklidir.

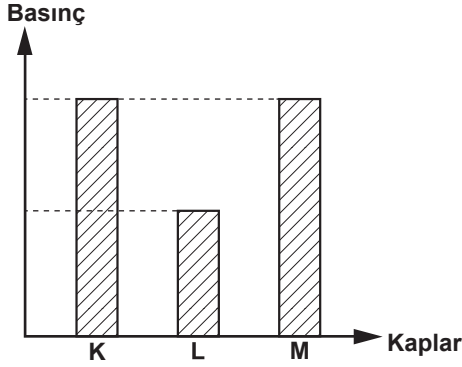
6. Bir hayvan hücresindeki solunumda;

- ▲ maddesi kullanılır ve enerji verir.
- maddesi parçalanma sonucu oluşan gazdır.

Bu bilgilere göre, ▲ ve ■ ile belirtilen maddelerin solunum denkleminde doğru yerleştirilmiş hâli aşağıdakilerin hangisinde verilmiştir?

- A) ▲ + Oksijen → ■ + Su
- B) ATP + ■ → ▲ + Su
- C) Oksijen + Su → ▲ + ■
- D) ▲ + ATP → ■ + Oksijen

7. Şekildeki grafik, yatay bir zeminde bulunan özdeş K, L, M kaplarındaki su veya zeytinyağının, kapların tabanına uyguladığı sıvı basınçlarını göstermektedir.



Suyun yoğunluğu zeytinyağının yoğunluğundan daha büyük olduğuna göre K, L, M kaplarında bulunan sıvılar ve yükseklikleri aşağıdakilerin hangisindeki gibi olabilir?

- A) K L M
- B) K L M
- C) K L M
- D) K L M

8. Şekildeki müzik aleti, aynı cins maddeden farklı uzunluklarda kesilmiş çubukların yan yana birleştirilmesinden oluşmuştur. Bu müzik aletinin, kıstadan uzuna doğru sırasıyla, her çubuğuna aynı genlikle titreşecek şekilde tokmakla vuruluyor.



Buna göre, kısa çubuktan uzun çubuğa doğru gidildikçe çıkan sesin;

- I- şiddeti
II- frekansı
III- yüksekliği

niceliklerinden hangileri azalır?

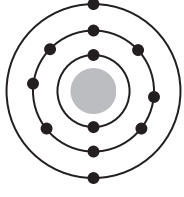
- A) Yalnız I
B) I ve III
C) II ve III
D) I, II ve III

9. Ceren, iki taş parçasını aynı kuvvetle, önce havada sonra suda, kulağına aynı uzaklıkta tutarak birbirine vuruyor. Çıkan seslerin kulağına gelme sürelerinin aynı olmadığını fark ediyor.

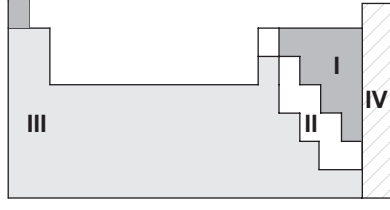
Buna göre Ceren, yalnızca bu bilgilerden faydalanarak aşağıdaki sorulardan hangisine cevap verebilir?

- A) Farklı ortamlarda sesin yüksekliği değişir mi?
B) Farklı ortamlarda sesin yansıması değişir mi?
C) Farklı ortamlarda sesin frekansı değişir mi?
D) Farklı ortamlarda sesin hızı değişir mi?

10. Bir atoma ait katman-elektron dizilimi ve sınıflandırılmış periyodik tablo verilmiştir.



Atom

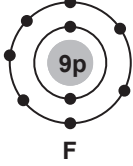


Periyodik tablo

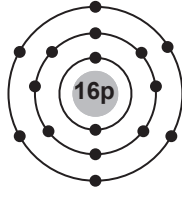
Bu atom, periyodik tablodaki hangi numaralı element sınıfında yer alır?

- A) I B) II C) III D) IV

11. F ve S atomlarına ait katman-elektron dizilimi şekilde verilmiştir.



F

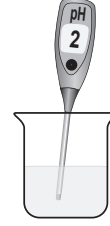


S

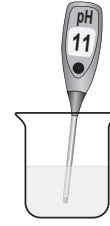
Buna göre, F ve S atomları arasında kovalent bağ oluşur mu, neden?

- A) Oluşur, çünkü ikisi de ametaldir.
B) Oluşmaz, çünkü ikisi de metaldir.
C) Oluşmaz, çünkü ikisi de soy gazdır.
D) Oluşur, çünkü F metal, S ametaldir.

12. Bir öğrenci, özelliğini bilmediği sulu çözeltilere pH metre daldırıyor ve çözeltilerin pH değerlerini şekildeki gibi ölçüyor.



I. çözelti



II. çözelti

Sonra bu iki çözeltiyi birbiri ile karıştırıyor ve pH metreyi tekrar daldırarak oluşan çözeltinin pH değerini ölçüyor.



Oluşan çözelti

Buna göre öğrencinin yaptığı deneyle, aşağıdaki yargılardan hangisine ulaşamaz?

- A) Oluşan yeni çözelti nötrdür.
B) I. çözelti asidik, II. çözelti baziktir.
C) Karıştırılan çözeltiler arasında nötrleşme tepkimesi gerçekleşmiştir.
D) Karıştırılan I ve II. çözeltiler kimyasal özelliklerini korumuştur.

13. İçme-kullanma suları ile ilgili olarak öğrencilerin hazırladığı aşağıdaki sloganlar okul panosuna asılmıştır.

Suyu klorlat,
mikroptan arıt!

I. slogan

Suyu kaynat,
hem arıt
hem de
yumuşat!

II. slogan

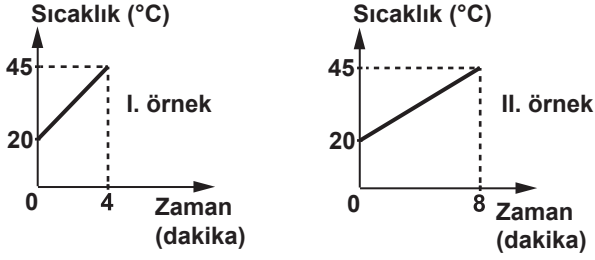
Mineralli su,
iyonlu su!

III. slogan

Bu sloganlardan hangileri, sulardaki sertliğin giderilmesi ile ilgilidir?

- A) Yalnız I B) Yalnız II
C) I ve II D) II ve III

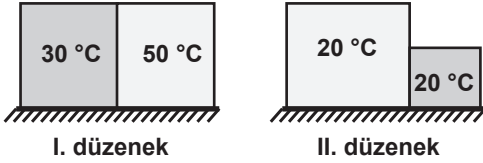
14. Aynı sıvıdan iki örnek alınıp özdeş iki kaba konuluyor. Bu örnekler, özdeş ısıtıcılarla ısıtılırken elde edilen sıcaklık verileri ile şekildeki grafikler çiziliyor.



Grafiklere göre, sıvı örnekleri ile ilgili aşağıdakilerden hangisi doğrudur?

- A) Kütleleri farklıdır.
B) Öz ısıları farklıdır.
C) Sıcaklık artışları farklıdır.
D) Buharlaşma ısıları farklıdır.

15. Sıcaklıkları belli olan bloklarla şekildeki gibi iki ayrı düzenek oluşturuluyor.



Her bir düzeneğin kendi blokları arasında ısı akışı olur mu? Olursa, ısı akışı hangi yöne doğrudur?

- | I. düzenek | II. düzenek |
|------------|-------------|
| A) Olmaz. | Olur, → |
| B) Olur, → | Olur, ← |
| C) Olur, ← | Olur, → |
| D) Olur, ← | Olmaz. |

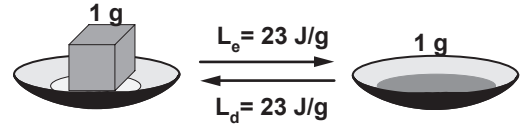
16. Tabloda, belli miktarı ısıtılan maddelerin sıcaklık artışına ilişkin veriler bulunmaktadır.

Madde	Kütle (g)	Isı miktarı (J)	Sıcaklık artışı (°C)
Nikel	1	0,45	1
Bakır	1	0,37	1
Kurşun	1	0,13	1

Tablodaki veriler, bu maddelerin hangi ayırt edici özelliği ile ilgilidir?

- A) Erime ısısı
B) Öz ısı
C) Erime sıcaklığı
D) Donma sıcaklığı

17. Şekilde, saf bir maddenin erime ısısı (L_e) ile donma ısısı (L_d) arasındaki ilişki verilmiştir.



Bu maddenin aşağıdaki hangi özellikleri arasında, verilen duruma benzer bir ilişki vardır?

- A) Sıcaklık - Isı
B) Kütle - Hacim
C) Buharlaşma ısısı - Yoğuşma ısısı
D) Erime sıcaklığı - Kaynama sıcaklığı

18. Kışın yolların buzlanması trafik kazalarının artmasına neden olur. Bu yüzden, buzlanmayı önlemek için yollarda tuzlama çalışmaları yapılır.

Bu çalışmada, yola dökülen tuzun işlevi aşağıdakilerden hangisidir?

- A) Suyun donma noktasını düşürmek
B) Suyun donma noktasını yükseltmek
C) Suyun buharlaşmasını hızlandırmak
D) Yoldan suya ısı aktarımını engellemek

19. Can, kaynama sıcaklığındaki saf bir sıvı örneğinin tamamını buharlaştırmak için verilmesi gereken ısı miktarını hesaplamak istiyor.

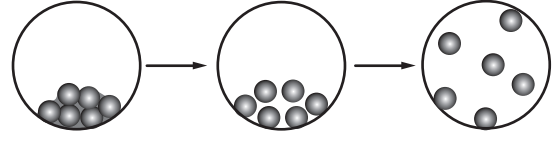
Can'ın bu hesaplamayı yapabilmesi için sıvı ile ilgili;

- I- Kütle
II- Hacim
III- Buharlaşma ısısı

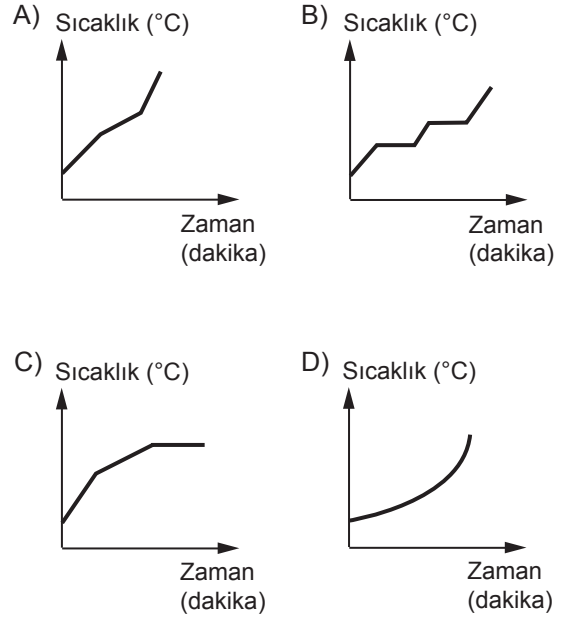
niceliklerinden hangilerini bilmesi gerekir?

- A) Yalnız I
B) Yalnız II
C) I ve III
D) I, II ve III

20. Saf bir maddenin, sabit ısı veren bir kaynak ile sürekli ısıtılırken geçirdiği hâl değişimi evreleri, şekildeki tanecik modeli ile gösterilmiştir.



Buna göre, maddenin hâl değişim evrelerini gösteren sıcaklık- zaman grafiği aşağıdakilerden hangisi olabilir?



TEST BİTTİ.
CEVAPLARINIZI KONTROL EDİNİZ.

**29 NİSAN 2014 TARİHİNDE YAPILAN 8. SINIF II. DÖNEM
FEN VE TEKNOLOJİ DERSİ ORTAK SINAVI
“A” KİTAPÇIĞI CEVAP ANAHTARI**

FEN VE TEKNOLOJİ

- 1. D**
- 2. B**
- 3. C**
- 4. D**
- 5. C**
- 6. A**
- 7. A**
- 8. C**
- 9. D**
- 10. C**
- 11. A**
- 12. D**
- 13. B**
- 14. A**
- 15. D**
- 16. B**
- 17. C**
- 18. A**
- 19. C**
- 20. B**

T.C.
MİLLÎ EĞİTİM BAKANLIĞI

8. SINIF II. DÖNEM

A
KİTAPÇIK TÜRÜ**T.C. İNKILAP TARİHİ
VE ATATÜRKÇÜLÜK DERSİ**

ORTAK SINAVI

29 NİSAN 2014 Saat: 10.10

Adı ve Soyadı :

Sınıfı :

Öğrenci Numarası :

ÖĞRENCİLERİN DİKKATİNE!

1. Sınıf öğrenci yoklama listesinde belirtilen sınıfta ve sıra numarasında oturmanız gerektiğinden durumunuzu kontrol ediniz.
2. Bu sınavda cevaplayacağınız soru sayısı 20, sınav süreniz 40 dakikadır.
3. Sınav süresince dışarı çıkılmayacaktır.
4. Sınav sırasında sözlük, hesap makinesi, saat fonksiyonu dışında özellikleri bulunan saat veya çağrı cihazı, cep telefonu, telsiz, radyo ve bilgisayar özelliği bulunan elektronik cihazları yanınızda bulundurmanız hâlinde sınavınız geçersiz sayılacaktır.
5. Soruları ve sorulara verdiğiniz cevapları, yanınızda götürmek amacıyla kaydetmeyiniz; hiçbir şekilde dışarı çıkarmayınız.
6. Cevap kâğıdınızı sınav süresince hiçbir öğrencinin göremeyeceği şekilde önünüzde bulundurunuz.
7. Sınavın değerlendirilmesi aşamasında, bilgisayar ortamında yapılan kopya analizinde, ikili, toplu kopya tespiti veya başka adayın sınav evrakını kullanmanız durumunda sınavınız geçersiz sayılacaktır.

CEVAP KÂĞIDI VE SORU KİTAPÇIĞI İLE İLGİLİ AÇIKLAMALAR

1. Cevap kâğıdınızdaki bilgilerin doğruluğunu kontrol ediniz ve cevap kâğıdınızı silinmeyen bir kalemle imzalayınız.
2. Cevap kâğıdındaki bilgiler size ait değilse veya cevap kâğıdı kullanılmayacak durumdaysa sınav görevlilerinin temin edeceği yedek cevap kâğıdına kimliğinizle ilgili bilgileri açıklamalar doğrultusunda yazınız ve kodlayınız.
3. Cevap kâğıdı üzerindeki kodlamaları kurşun kalemle yapınız.
4. Değiştirmek istediğiniz bir cevabı, yumuşak silgiyle cevap kâğıdını örselemeden temizce siliniz ve yeni cevabınızı kodlayınız.
5. Kitapçık türünü cevap kâğıdınızdaki ilgili alana kodlayınız. Bu kodlamayı yapmadığınız veya yanlış yaptığınız takdirde sınavınızın değerlendirilmesi doğru yapılamayacaktır.
6. Cevaplarınızı, cevap kâğıdındaki ilgili soru numarasını dikkate alarak yuvarlağın dışına taşırmadan kodlayınız.
7. Soru kitapçığının sayfalarını kontrol ediniz, baskı hatası var ise değiştirilmesini sağlayınız.
8. Soruların çözümü için size ayrıca boş kâğıt verilmeyecektir. Soru kitapçığının içindeki boş alanları çözümlerinizi için kullanabilirsiniz.
9. Cevaplamaya istediğiniz sorudan başlayabilirsiniz. Cevabını bilmediğiniz sorular üzerinde fazla zaman kaybetmeden diğer sorulara geçiniz. Zamanınız kalırsa bu sorulara daha sonra dönebilirsiniz.
- 10 Soru kitapçığı üzerinde yapılıp cevap kâğıdına işaretlenmeyen cevaplar değerlendirme işlemine alınmayacaktır.
11. Sınav puanınızın hesaplanmasında sadece doğru cevaplarınız dikkate alınacaktır.
12. Sınav bitiminde, soru kitapçığı ve cevap kâğıdını salon görevlilerine teslim ediniz.

BAŞLAYINIZ DENİLMEYEN SORU KİTAPÇIĞINIZI AÇMAYINIZ.

1. Selanik, Rumeli’de yer alan bir Osmanlı kentiydi. Limanıyla Ege Denizi’ne açılan şehir, Osmanlı’nın Avrupa ile ticaretinde önemli bir konuma sahipti. Selanik aynı zamanda demir yolu ile Manastır, Belgrad ve İstanbul’a bağlanmıştı. Ayrıca kentte Türklerle birlikte Rum, Bulgar, Sırp ve Yahudiler yaşamaktaydı.

Bu bilgilerden Selanik ile ilgili, aşağıdaki yargılardan hangisi çıkarılamaz?

- A) Kültürel etkileşime açıktır.
B) Güçlü bir donanması vardır.
C) Çok uluslu bir yapıya sahiptir.
D) Avrupa ile ekonomik ilişkilerin yaşandığı bir kenttir.

2. “Arkadaşlar, bu gece burada sizleri toplamaktaki amacım şudur: ... Bu talihsiz memlekete karşı önemli görevlerimiz vardır. Onu kurtarmak tek hedefimizdir. ... Tarih bugün biz evlatlarına bazı büyük görevler yüklüyor. Ben, Suriye’de bir cemiyet kurdum... Buraya da bu cemiyetin temelini kurmaya geldim. Şimdilik gizli çalışmak ve teşkilatı şekillendirmek mecburidir. Sizden fedakârlıklar bekliyorum... Eskimiş olan çürük yönetimi yıkmak, milleti hâkim kılmak, özetle vatanı kurtarmak için sizi göreve çağırıyorum.”

Yukarıda Mustafa Kemal’in, Vatan ve Hürriyet Cemiyeti Selanik Şubesinin açılışı öncesinde arkadaşlarıyla yaptığı toplantıdaki sözlerini okudunuz. Bu sözleri onun;

I- Kararlılık

II- Önderlik

III- Vatanseverlik

özelliklerinden hangilerini yansıttığı söylenebilir?

- A) I ve II
B) I ve III
C) II ve III
D) I, II ve III

3. 1919 sonlarında, İstanbul’da Rum Patrikhanesi tarafından kurulmuş olan Mavri Mira Cemiyeti; Trakya, İstanbul ve Batı Anadolu’da Büyük Yunanistan’ı kurarak Bizans İmparatorluğu’nu yeniden diriltmek istiyordu.

Bu açıklamaya göre, Mavri Mira Cemiyetinin “zararlı” cemiyet olarak nitelendirilmesinde, aşağıdakilerden hangisi etkili olmuştur?

- A) Aldığı isim
B) Kuruluş amacı
C) Kurulduğu yer
D) Kuruluş tarihi

- 4.

“İttihat ve Terakki liderlerine göre Osmanlı Devleti, Almanya’nın yanında savaşa girmektedir. İtilaf Devletleri’ne nispetle ekonomik üstünlüğe sahip Almanya, savaştan zaferle çıkabilir. Almanya’nın savaşı kaybedebileceği ihtimalini hiç kimse düşünmek istemez. Almanya, savaşı kazandığında Osmanlı Devleti de son asırda kaybettiği toprakları geri alacaktır.”

Kâzım Karabekir
Birinci Cihan Harbine Neden Girdik?
S. 75-76

Bu parçada Kâzım Karabekir, İttihat ve Terakki liderlerinin Osmanlı’yı Almanya’nın yanında I. Dünya Savaşı’na sokma nedenlerinden hangisine değınmemiştir?

- A) Enver Paşa’nın Alman hayranlığına
B) Almanların savaşı kazanacağına olan inancına
C) Almanların, İtilaf Devletleri karşısında ekonomik üstünlüğe sahip olduğuna
D) Osmanlı Devleti’nin son zamanlarda kaybettiği toprakları geri almak istemesine

5. Hıyanet-i Vataniye Kanunu'nun Büyük Millet Meclisinde görüşüldüğü günlerdeydi. İstanbul Hükûmetinin tayin ettiği Erzurum valisi, Erzurum'a doğru yola çıkmıştı. Bu haberi alan bazı vekiller, Mecliste, Reşit Paşa adındaki valinin yolda öldürülmesini önerdiler. Bu kanunsuz teklife Mustafa Kemal Paşa; "Ne diyorsunuz? Eşkiya gibi dağda, komiteci gibi sokakta adam mı vuracağız? Bizim devlet anlayışımızda bu yoktur. Bundan sonra bu memlekette vatan- daş ancak mahkeme kararıyla cezalandırılır." şeklinde yanıt vermiştir.

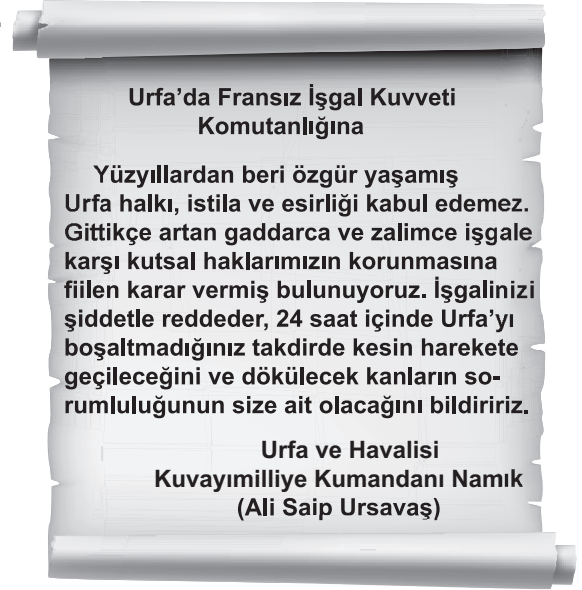
Mustafa Kemal'in bu parçadaki yanıtı, aşağıdakilerden hangisini savunduğuna kanıt gösterilebilir?

- A) Yaşama hakkını
- B) Yargının hızlandırılmasını
- C) Hukuka uygun iş yapılmasını
- D) Mahkemelerin bağımsızlığını

6. Moskova Antlaşması'nın aşağıdaki kararlarından hangisi, Sovyet Rusya ile TBMM Hükûmetinin dış politikada birlikte hareket edecekleri konusunda anlaşmalarını göstermektedir?

- A) Sovyetler Birliği Misakımillî'yi tanıyacaktır.
- B) Sovyetler Birliği kapitülasyonların kaldırılmasını kabul edecektir.
- C) İki taraftan birinin tanımadığı uluslararası bir antlaşmayı, diğeri de tanımayacaktır.
- D) Osmanlı Devleti ile Çarlık Rusyası arasında imzalanan antlaşmalar geçersiz sayılacaktır.

7.



Urfa Kuvayimilliye Kumandanı Ali Saip Bey'in, Fransız komutanına yazdığı yukarıdaki mektupta Türk milletinin hangi yönü ön plana çıkmaktadır?

- A) Barışseverliği
- B) Çalışkan oluşu
- C) Uzlaşmacı yaklaşımı
- D) Bağımsızlığa düşkünlüğü

8. Kurtuluş Savaşı'nın yaşandığı ortamda Atatürk, 15 Temmuz 1921'de Maarif Kongresi'ni yapmıştır.

Atatürk'ün bu çalışmasını, aşağıdaki sözlerinden hangisi desteklemektedir?

- A) "Öğretmenler! Yeni nesil sizin eseriniz olacaktır."
- B) "Sanatsız kalan bir milletin hayat damarlarından biri kopmuş demektir."
- C) "Yeni Türkiye Devleti, temellerini süngü ile değil, süngünün de dayandığı ekonomi ile kuracaktır."
- D) "Cahillikle, ilkelikle savaş, düşmanla savaş- tan daha az önemli değildir."

9. “Gerçekten milletimiz, düşmanın hazırlıklarına karşılık verme için hiçbir özveriden çekinmedi. Ordumuzu kuvvetlendirmek için para, insan, silah, hayvan, araba, kısacası her ne gerekse, son derece istekle verdi.”

ATATÜRK

Atatürk bu sözlerini, aşağıdakilerden hangisinin sonucuna dayanarak söylemiş olabilir?

- A) Hıyanet-i Vataniye Kanunu'nun çıkarılmasının
B) Tekâlif-i Milliye Emirleri'nin uygulanmasının
C) Kuvayımiliye hareketinin başlamasının
D) Düzenli ordunun kurulmasının

10. I. İnönü Savaşı'nın aşağıdaki sonuçlarından hangisi, **ulusal** bir nitelik taşır?

- A) TBMM'nin, Londra Konferansı'na davet edilmesi
B) Halkın düzenli orduya olan güveninin artması
C) Rusya ile Moskova Antlaşması'nın imzalanması
D) Afganistan ile Türk - Afgan Dostluk Antlaşması'nın yapılması

11. • Halide Edip Adıvar, Millî Mücadele'de yaralanan Peyami adlı bir kişinin yazdığı hatıralarını “Ateşten Gömlek” adlı romanında işlemiştir.
• Kurtuluş Savaşı'nda Türk milletinin kadını, yaşlısı ve çocuğuyla cephede savaşan ordusuna destek olması, Yakup Kadri Karaosmanoğlu'nun “Ankara” adlı romanına konu olmuştur.

Verilen durumlar, Kurtuluş Savaşı'nın aşağıdakilerden hangisi üzerine yansımına örnektir?

- A) Edebiyat
B) Siyaset
C) İktisat
D) Sanat

12. “Hükûmet halkındır, sultanın değil; Ferman milletindir, Divan'ın değil. Teşri, kaza, icra her hak onundur; Taht onun, taç onun, toprak onundur.”

Ziya GÖKALP

Şairin, dördlüğün **ilk iki dizesinde savunduğu anlayış**, aşağıdakilerden hangisidir?

- A) Millî ekonomi
B) Millî kültür
C) Millî egemenlik
D) Millî bağımsızlık

13.



Mustafa Kemal tarafından toplanan ilk İzmir İktisat Kongresi'nde, ham maddesi yurt içinden temin edilen sanayi dallarının kurulmasına ve yerli malı kullanılmasına karar verilmiştir.

Çocuklar, sizce bu kararlar ne amaçlanmıştır?

Alim öğretmenin bu sorusuna, aşağıdaki öğrencilerden hangisi doğru cevap vermiştir?

A)



Eğitimin millileştirilmesi

Hüseyin

B)



Millî kültürün geliştirilmesi

Zeynep

C)



İthalatın artırılması

Nilgün

D)



Millî ekonominin kurulması

Beytullah

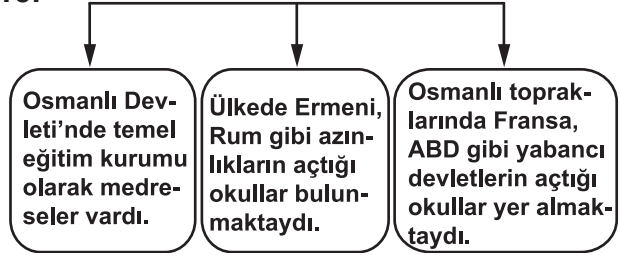
14. Misakımillî kararlarında siyasi, ekonomik ve hukuksal ayrıcalıkların tanınmayacağı kabul edilmiştir.

Lozan Antlaşması'nın aşağıdaki kararlarından hangisi, Türk heyetinin, Misakımillî'nin bu kararından ödün vermediğinin bir göstergesidir?

- A) Kapitülasyonlar kesin olarak kaldırılacaktır.
- B) Yunanistan, savaş tazminatı olarak Karaağaç'ı Türkiye'ye verecektir.
- C) Doğu Trakya'daki Türklerle, Anadolu'daki Rumlar karşılıklı olarak değiştirilecektir.
- D) Boğazların her iki yakası askerden arındırılacaktır.

15.

Osmanlı Eğitim Sistemi



Yukarıdaki şemada belirtilen durumu ortadan kaldırmak için Cumhuriyet Döneminde yapılan inkılap, aşağıdakilerden hangisidir?

- A) Miladi takvimin kabul edilmesi
- B) Harf inkılabının gerçekleştirilmesi
- C) Tevhid-i Tedrisat Kanunu'nun çıkarılması
- D) Teşvik-i Sanayi Kanunu'nun hazırlanması

16. “Bence muhalefet saygıdeğerdir. Çünkü o da bir inceleme, bir inanç ürünüdür.”

ATATÜRK

Aşağıdaki yeniliklerden hangisi, Atatürk’ün bu sözünü destekler niteliktedir?

- A) Saltanata son verilmesi
B) Cumhuriyetin ilan edilmesi
C) Türk Medenî Kanunu’nun çıkarılması
D) Çok partili siyasi hayata geçilmesi

17. “Atatürkçü düşünce sistemi, Türk milletinin ihtiyaçlarından ve tarihî gerçeklerinden doğmuştur.” diyen bir kişi, Atatürkçü düşünce sisteminin hangi niteliğine vurgu yapmış olur?

- A) Millî
B) Evrensel
C) Bilimsel
D) Yenilikçi

18. “Devlet, gerek bireylerin özgürlüğünü temin için millet üzerinde bir nüfuza ve gerek millet ve memleketin bağımsızlığını koruyabilmek için kendine özgü bir nüfuz ve kuvvete sahip olmalıdır... O, öyle bir nüfuzdur ki, devlet kavramında kendiliğinden vardır ve devlet, onu halk üzerinde uygulamak ve milleti dışarıda diğer milletlere karşı savunmak yetkisine sahiptir.”

ATATÜRK

Yukarıdaki paragrafta, Atatürk’ün önem verdiği millî güç unsurlarından hangisi vurgulanmıştır?

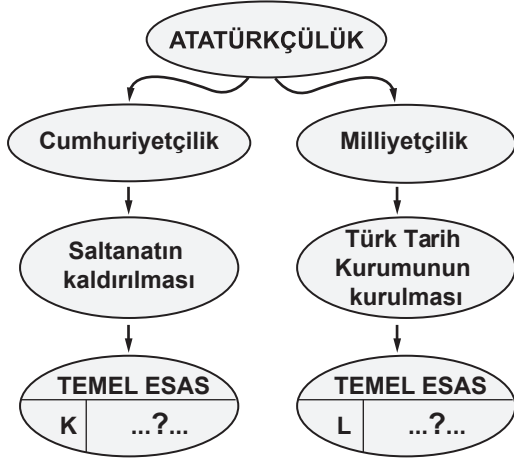
- A) Askerî güç
B) Siyasi güç
C) Ekonomik güç
D) Sosyokültürel güç

19. Yer altı ve yer üstü kaynakları açısından zengin olan ülkemizde, savaşlardan dolayı yıpranmış halkın, kendi başına ekonomik kalkınmayı gerçekleştirmesi mümkün değildi. Bu nedenle ekonominin desteklenmesi ve denetlenmesi gerekiyordu.

Bu paragrafta, aşağıdaki Atatürk ilkelelerinden hangisinin ortaya çıkış gerekçesi anlatılmaktadır?

- A) Halkçılık
B) Devletçilik
C) Milliyetçilik
D) Cumhuriyetçilik

20.



Diyagramdaki “?” yerine gelmesi gereken temel esaslar, aşağıdakilerden hangisinde doğru verilmiştir?

- | K | L |
|-----------------------------------|-------------------------------|
| A) Egemenliğin millete ait olması | Millî kültürün geliştirilmesi |
| B) Millî birlik | Millî dil |
| C) Ülke bütünlüğü | Millî egemenlik |
| D) Vatan ve millet sevgisi | Bağımsızlık ve özgürlük |

TEST BİTTİ.
CEVAPLARINIZI KONTROL EDİNİZ.

**29 NİSAN 2014 TARİHİNDE YAPILAN 8. SINIF II. DÖNEM
T.C. İNKILAP TARİHİ VE ATATÜRKÇÜLÜK DERSİ ORTAK SINAVI
“A” KİTAPÇIĞI CEVAP ANAHTARI**

T.C. İNKILAP TARİHİ VE ATATÜRKÇÜLÜK

1. B
2. D
3. B
4. A
5. C
6. C
7. D
8. D
9. B
10. B
11. A
12. C
13. D
14. A
15. C
16. D
17. A
18. B
19. B
20. A



T.C.
MİLLÎ EĞİTİM BAKANLIĞI

A

KİTAPÇIK TÜRÜ

8. SINIF II. DÖNEM
İNGİLİZCE DERSİ
ORTAK SINAVI
29 NİSAN 2014 Saat: 11.20

Adı ve Soyadı :
Sınıfı :
Öğrenci Numarası :

ÖĞRENCİLERİN DİKKATİNE!

1. Sınıf öğrenci yoklama listesinde belirtilen sınıfta ve sıra numarasında oturmanız gerektiğinden durumunuzu kontrol ediniz.
2. Bu sınavda cevaplayacağınız soru sayısı 20, sınav süreniz 40 dakikadır.
3. Sınav süresince dışarı çıkılmayacaktır.
4. Sınav sırasında sözlük, hesap makinesi, saat fonksiyonu dışında özellikleri bulunan saat veya çağrı cihazı, cep telefonu, telsiz, radyo ve bilgisayar özelliği bulunan elektronik cihazları yanınızda bulundurmanız hâlinde sınavınız geçersiz sayılacaktır.
5. Soruları ve sorulara verdiğiniz cevapları, yanınızda götürmek amacıyla kaydetmeyiniz; hiçbir şekilde dışarı çıkarmayınız.
6. Cevap kâğıdınızı sınav süresince hiçbir öğrencinin göremeyeceği şekilde önünüzde bulundurunuz.
7. Sınavın değerlendirilmesi aşamasında, bilgisayar ortamında yapılan kopya analizinde, ikili, toplu kopya tespiti veya başka adayın sınav evrakını kullanmanız durumunda sınavınız geçersiz sayılacaktır.

CEVAP KÂĞIDI VE SORU KİTAPÇIĞI İLE İLGİLİ AÇIKLAMALAR

1. Cevap kâğıdınızdaki bilgilerin doğruluğunu kontrol ediniz ve cevap kâğıdınızı silinmeyen bir kalemle imzalayınız.
2. Cevap kâğıdındaki bilgiler size ait değilse veya cevap kâğıdı kullanılmayacak durumdaysa sınav görevlilerinin temin edeceği yedek cevap kâğıdına kimliğinizle ilgili bilgileri açıklamalar doğrultusunda yazınız ve kodlayınız.
3. Cevap kâğıdı üzerindeki kodlamaları kurşun kalemle yapınız.
4. Değiştirmek istediğiniz bir cevabı, yumuşak silgiyle cevap kâğıdını örselemeden temizce siliniz ve yeni cevabınızı kodlayınız.
5. Kitapçık türünü cevap kâğıdınızdaki ilgili alana kodlayınız. Bu kodlamayı yapmadığınız veya yanlış yaptığınız takdirde sınavınızın değerlendirilmesi doğru yapılamayacaktır.
6. Cevaplarınızı, cevap kâğıdındaki ilgili soru numarasını dikkate alarak yuvarlağın dışına taşırmadan kodlayınız.
7. Soru kitapçığının sayfalarını kontrol ediniz, baskı hatası var ise değiştirilmesini sağlayınız.
8. Soruların çözümü için size ayrıca boş kâğıt verilmeyecektir. Soru kitapçığının içindeki boş alanları çözümleriniz için kullanabilirsiniz.
9. Cevaplamaya istediğiniz sorudan başlayabilirsiniz. Cevabını bilmediğiniz sorular üzerinde fazla zaman kaybetmeden diğer sorulara geçiniz. Zamanınız kalırsa bu sorulara daha sonra dönebilirsiniz.
- 10 Soru kitapçığı üzerinde yapılıp cevap kâğıdına işaretlenmeyen cevaplar değerlendirme işlemine alınmayacaktır.
11. Sınav puanınızın hesaplanmasında sadece doğru cevaplarınız dikkate alınacaktır.
12. Sınav bitiminde, soru kitapçığı ve cevap kâğıdını salon görevlilerine teslim ediniz.

BAŞLAYINIZ DENİLMEYEN SORU KİTAPÇIĞINIZI AÇMAYINIZ.

1-10. sorularda boş bırakılan yere uygun gelen seçeneği işaretleyiniz.

1. **Mother** : The little frog was talking to the girl.

Son : Can a frog speak, mummy?

Mother : This is only a story, dear.

- A) What a pity! B) How horrible!
C) Good heavens! D) That's easy!

2. **Ali** : Can you set the table for dinner, please?

Tim : Yes, of course.

Ali : You're very kind.

- A) I can do it.
B) I'm really sorry.
C) Yes, you're right.
D) Thank you very much.

3. **Mehmet** : In my opinion, a good language learner should be adventurous.

Jill : A good learner shouldn't take risks.

- A) I don't think so. B) I agree with you.
C) You are right. D) You don't like it.

4. **Ayşe** : I think Alp isn't a reliable boy.

Sam : He always keeps his promise.

- A) That really sounds great!
B) Are you sure about that?
C) I wish you good luck!
D) Is it worth trying?

5. **Bob** : You look a bit worried. What's the problem?

Sue : I have a Maths exam tomorrow but I'm not ready for it.

Bob : Sure, dear. Let's study together!

- A) Can I answer you?
B) Can you help me?
C) Are you bored with it?
D) Are you happy about it?

6. **Cemre** : Turn off your mobile phone and do the washing, please.

John : because I'm chatting with my friends on the Internet.

- A) I would love to
B) I understand it
C) I'm sorry but I can't
D) I can't believe my eyes

7. **Father** : I would like to talk about your future plans.
Özge : I don't understand you.
Father : What would you like to do in the future?
Özge : I would like to study Russian.

- A) What do you wish for?
 B) What do you mean?
 C) May I speak to you?
 D) Can I try it again?

8. **Lisa** :
Mine : Yes, I have and I liked it a lot.

- A) Have you ever watched Tom & Jerry?
 B) Did Matt invent the Simpson Family?
 C) Is Sponge Bob a popular cartoon?
 D) Do you like watching cartoons?


9. **Aylin** : Why do many people know Gönül Turan?
Tom : Because

- A) she finished high school in 1997.
 B) she was born in İstanbul in 1979.
 C) she is going to suffer from a severe illness.
 D) she has won many awards in Mathematics.

10. I'd like a job with flexible working hours because

- A) I need some time to do my master's degree.
 B) I'll work with friendly colleagues and a good boss.
 C) I'm going to have a good salary and save some money.
 D) I've already written a CV and applied for a job.

11. Aşağıda verilen resimlere göre, boş bırakılan yere uygun gelen kelimeyi işaretleyiniz.



Gökhan has been to a

- A) museum B) fountain
 C) square D) bazaar

12. Aşağıda verilen bilgilere göre doğru ifadeyi işaretleyiniz.



- A) Atatürk started the Independence War on the twenty-second of June, nineteen nineteen.
- B) Atatürk declared the Amasya Circular on the twenty-ninth of October, nineteen twenty-three.
- C) Atatürk opened The Grand National Assembly on the twenty-third of April, nineteen twenty.
- D) Atatürk declared the Republic of Turkey on the nineteenth of May, nineteen nineteen.

13. Aşağıda verilen resme göre doğru ifadeyi işaretleyiniz.



- A) There were some footprints on the floor.
- B) They couldn't find any important evidence.
- C) The police caught a man and arrested him.
- D) Someone stole the jewellery yesterday.

14. Aşağıda karışık olarak verilen cümlelerin anlamlı biçimde sıralandığı seçeneği işaretleyiniz.

- I- She saw a charming young man.
- II- Once upon a time, there was a beautiful princess.
- III- She fell in love with him.
- IV- She was walking in the forest alone.

- A) II - IV - I - III
- B) IV - III - II - I
- C) III - II - IV - I
- D) II - III - I - IV

15-16-17. soruları aşağıda verilen bilgilere göre cevaplayınız.

CAPRICORN

(22 December-19 January)

Strengths: They're patient and creative. They're also honest and loyal.

Weaknesses: Unfortunately, they're indecisive. They're also careless.

AQUARIUS

(20 January-18 February)

Strengths: They're caring and modest. They're also responsible. They always finish their work on time.

Weaknesses: They can sometimes be stubborn. They never accept their mistakes.

PISCES

(19 February-20 March)

Strengths: They're talkative and cheerful. They're also optimistic.

Weaknesses: Unfortunately, they can sometimes be bossy and they're messy.

ARIES

(21 March-19 April)

Strengths: They're careful and neat. They're also extrovert.

Weaknesses: They're pessimistic. They usually worry about things.

15. Who likes ordering people?

- A) An Aries B) A Capricorn
C) A Pisces D) An Aquarius

16. If you're an Aquarius, you're

- A) patient and creative
B) modest but stubborn
C) cheerful but bossy
D) careful and neat

17. If you're a Capricorn,

- A) you always finish your work on time.
B) you don't accept your mistakes.
C) you don't make a decision easily.
D) you worry about everything.

18-19-20. soruları aşağıdaki tabloya göre cevaplayınız.

NAME	JOB	EDUCATION	ACCOMPLISHMENTS	AWARDS
Mehmet AYDIN	writer	a degree in Art	100 books	bestseller writer in 2008
Edward KNIGHT	scientist	a doctorate degree	many scientific works	the Nobel Prize in Physics
Emily BROWN	actress	a highschool diploma	over 200 films	2 Oscars
Ayşen DEMİR	animator	a master's degree	several short films	best animator of the year

18. has won the Nobel Prize.

- A) Edward Knight B) Mehmet Aydın
C) Emily Brown D) Ayşen Demir

19. Ayşen Demir has got a

- A) degree in Art
B) master's degree
C) doctorate degree
D) high school diploma

20. Tabloya göre doğru olan seçeneği işaretleyiniz.

- A) Edward Knight has written 100 books so far.
B) Mehmet Aydın has made a lot of short films.
C) Ayşen Demir has published many scientific works.
D) Emily Brown has acted in over 200 films so far.

TEST BİTTİ.
CEVAPLARINIZI KONTROL EDİNİZ.

**29 NİSAN 2014 TARİHİNDE YAPILAN 8. SINIF II. DÖNEM
İNGİLİZCE DERSİ ORTAK SINAVI
“A” KİTAPÇIĞI CEVAP ANAHTARI**

İNGİLİZCE

- 1. C**
- 2. D**
- 3. A**
- 4. B**
- 5. B**
- 6. C**
- 7. B**
- 8. A**
- 9. D**
- 10. A**
- 11. B**
- 12. C**
- 13. D**
- 14. A**
- 15. C**
- 16. B**
- 17. C**
- 18. A**
- 19. B**
- 20. D**



T.C.
MİLLÎ EĞİTİM BAKANLIĞI

A

KİTAPÇIK TÜRÜ

8. SINIF II. DÖNEM DİN KÜLTÜRÜ VE AHLAK BİLGİSİ DERSİ

ORTAK SINAVI

28 NİSAN 2014 Saat: 11.20

Adı ve Soyadı :
Sınıfı :
Öğrenci Numarası :

ÖĞRENCİLERİN DİKKATİNE!

1. Sınıf öğrenci yoklama listesinde belirtilen sınıfta ve sıra numarasında oturmanız gerektiğinden durumunuzu kontrol ediniz.
2. Bu sınavda cevaplayacağınız soru sayısı 20, sınav süreniz 40 dakikadır.
3. Sınav süresince dışarı çıkılmayacaktır.
4. Sınav sırasında sözlük, hesap makinesi, saat fonksiyonu dışında özellikleri bulunan saat veya çağrı cihazı, cep telefonu, telsiz, radyo ve bilgisayar özelliği bulunan elektronik cihazları yanınızda bulundurmanız hâlinde sınavınız geçersiz sayılacaktır.
5. Soruları ve sorulara verdiğiniz cevapları, yanınızda götürmek amacıyla kaydetmeyiniz; hiçbir şekilde dışarı çıkarmayınız.
6. Cevap kâğıdınızı sınav süresince hiçbir öğrencinin göremeyeceği şekilde önünüzde bulundurunuz.
7. Sınavın değerlendirilmesi aşamasında, bilgisayar ortamında yapılan kopya analizinde, ikili, toplu kopya tespiti veya başka adayın sınav evrakını kullanmanız durumunda sınavınız geçersiz sayılacaktır.

CEVAP KÂĞIDI VE SORU KİTAPÇIĞI İLE İLGİLİ AÇIKLAMALAR

1. Cevap kâğıdınızdaki bilgilerin doğruluğunu kontrol ediniz ve cevap kâğıdınızı silinmeyen bir kalemle imzalayınız.
2. Cevap kâğıdındaki bilgiler size ait değilse veya cevap kâğıdı kullanılmayacak durumdaysa sınav görevlilerinin temin edeceği yedek cevap kâğıdına kimliğinizle ilgili bilgileri açıklamalar doğrultusunda yazınız ve kodlayınız.
3. Cevap kâğıdı üzerindeki kodlamaları kurşun kalemle yapınız.
4. Değiştirmek istediğiniz bir cevabı, yumuşak silgiyle cevap kâğıdını örselemeden temizce siliniz ve yeni cevabınızı kodlayınız.
5. Kitapçık türünü cevap kâğıdınızdaki ilgili alana kodlayınız. Bu kodlamayı yapmadığınız veya yanlış yaptığınız takdirde sınavınızın değerlendirilmesi doğru yapılamayacaktır.
6. Cevaplarınızı, cevap kâğıdındaki ilgili soru numarasını dikkate alarak yuvarlağın dışına taşırmadan kodlayınız.
7. Soru kitapçığının sayfalarını kontrol ediniz, baskı hatası var ise değiştirilmesini sağlayınız.
8. Soruların çözümü için size ayrıca boş kâğıt verilmeyecektir. Soru kitapçığının içindeki boş alanları çözümleriniz için kullanabilirsiniz.
9. Cevaplamaya istediğiniz sorudan başlayabilirsiniz. Cevabını bilmediğiniz sorular üzerinde fazla zaman kaybetmeden diğer sorulara geçiniz. Zamanınız kalırsa bu sorulara daha sonra dönebilirsiniz.
- 10 Soru kitapçığı üzerinde yapılıp cevap kâğıdına işaretlenmeyen cevaplar değerlendirme işlemine alınmayacaktır.
11. Sınav puanınızın hesaplanmasında sadece doğru cevaplarınız dikkate alınacaktır.
12. Sınav bitiminde, soru kitapçığı ve cevap kâğıdını salon görevlilerine teslim ediniz.

BAŞLAYINIZ DENİLMEDEN SORU KİTAPÇIĞINIZI AÇMAYINIZ.

1. “Bir fikre veya inanışa körü körüne, aşırı derecede bağlanıp başka bir fikri ve düşünceyi kabul etmemektir.”

Bu tanım aşağıdaki kavramlardan hangisine aittir?

- A) Tevekkül
B) Hurafe
C) Taassup
D) Cehalet

2. “Müslüman, elinden ve dilinden insanların güvende olduğu kimsedir.”

(Hadis-i Şerif)

Aşağıdakilerden hangisi bu hadis kapsamında değerlendirilemez?

- A) Yardımlaşma bilincinin kazandırılması
B) Başkalarının haklarının gözetilmesi
C) Yalan ve iftiradan kaçınılması
D) Güven ortamının sağlanması

3.



Öğretmenin öğrencilere yönelttiği “Kaza nedir?” sorusunun doğru cevabı aşağıdakilerden hangisidir?

- A) Allah'ın her şeyi bir ölçü ve düzen içerisinde programlamasıdır.
B) İnsanı tercih etmeye ve tercih ettiğini gerçekleştirmeye yönlendiren güçtür.
C) Allah tarafından önceden planlanan olayların zamanı gelince gerçekleşmesidir.
D) Tüm tedbirleri aldıktan sonra işin sonucunu Allah'a bırakmaktır.

4. **Peygamberimiz arkadaşlarından birinin abdest alırken (aşırı su kullandığını) gördü ve ona: “Bu israf nedir?” dedi. Arkadaşı: “Abdestte de israf olur mu?” deyince, Peygamberimiz: “Akarsuyun kenarında olsan bile israf olur.” dedi.**

Bu hadisi dikkate alan bir kişide aşağıdaki davranışlardan hangisinin öncelikli olarak gelişmesi beklenir?

- A) Çevre temizliğine önem verme
B) Doğal kaynakları bilinçli kullanma
C) Kişisel temizlik alışkanlığı edinme
D) İbadetlerde temizliğin önemini fark etme

5. “Onlar bir kötülük yaptıkları zaman, ‘Babalarımızı bu yolda bulduk. Allah da bize bunu emretti’ dediler. De ki : Allah kötülüğü emretmez. Allah’a karşı bilmediğiniz şeyleri mi söylüyorsunuz?” (A’râf suresi, 28. ayet)

Bu ayette eleştirilen davranış aşağıdakilerden hangisidir?

- A) Bilgi alışverişinde bulunma
B) Sorgulamadan kabul etme
C) Büyüklere saygı gösterme
D) Danışarak iş yapma

6. Aşağıdakilerden hangisi insanın iradesi dışında gerçekleşen ve sorumlu tutulmadığı hususlardan biridir?

- A) İnancı
B) İbadeti
C) Ahlakı
D) Irkı

7. Aşağıdakilerden hangisi kumar oynamanın toplumsal zararına en iyi örnektir?

- A) Zamanı boşa harcamaya neden olması
B) Çalışmadan kazanmayı teşvik etmesi
C) Aile kurumuna zarar vermesi
D) Tembelliğe alıştırması

8. “Birisinin hakkını alan kimse, ölmeden önce onunla helalleşsin. Paranın, malın geçmeyeceği kıyamet gününe, üzerinde kul hakkı bulunarak gitmesin...”

(Hadis-i Şerif)

Bu hadisi ilke edinen bir kişiden aşağıdaki davranışlardan hangisini yapması beklenmez?

- A) Hatasının farkına varması
B) Maddi değerlere öncelik vermesi
C) Başkasının hakkını yemekten kaçınması
D) Yaptığı haksızlığı gidermeye çalışması

9. • Hz. Ali, Peygamberimizin kızı Fatıma ile evlenmek istediğinde, Peygamberimiz kızının görüşünü almıştır.
• Peygamberimiz Hendek savaşında Selmân-ı Fârisî adlı sahabinin hendek kazma fikrini benimsemiştir.
• Peygamberimiz Bedir Savaşı’nda Hubâb adlı sahabinin önerisiyle ordunun yerini değiştirmiştir.

Yukarıdaki örnekler Peygamberimizin hangi kişilik özelliğine işaret etmektedir?

- A) Danışarak iş yapmasına
B) Cesaretli olmasına
C) Güvenilir olmasına
D) Sabırlı olmasına

10. Aşağıdaki önerilerden hangisi kötü alışkanlıklardan korunmak için doğru bir yöntem değildir?

- A) Dinimizin önerilerini dikkate almalıyız.
- B) Sosyal ortamlardan uzak durmalıyız.
- C) Sportif ve kültürel faaliyetlerde bulunmalıyız.
- D) Anne babamızın uyarılarını önemsemeliyiz.

11.



Yukarıdaki şemaya aşağıdakilerden hangisi yazılamaz?

- A) Akıl
- B) Vahiy
- C) Duyular
- D) Rüya

12.



Kâmil

Kâmil'in tanımını yaptığı kavram aşağıdakilerden hangisidir?

- A) Sa'y
- B) Vakfe
- C) Tavaf
- D) Şavt

13. • Peygamberimiz bir kişiyle konuşurken o kişi yüzünü çevirmedikçe yüzünü çevirmezdi.
- Peygamberimiz biri ile tokalaştığında karşısındaki elini bırakmadıkça elini çekmezdi.
- Peygamberimiz sahabilerle otururken ayaklarını asla uzatmazdı.

Hz. Peygamber'in bu davranışları aşağıdaki özelliklerinden hangisi ile ifade edilebilir?

- A) Güvenilir olmasıyla
- B) Hoşgörülü olmasıyla
- C) Merhametli olmasıyla
- D) İnsanlara değer vermesiyle

14. Hz. Muhammed Bedir Savaşı'nda alınan bazı esirleri on Müslümana okuma-yazma öğretmeleri karşılığında serbest bırakmıştır.

Aşağıdaki özelliklerden hangisi Peygamberimizin bu tutumunu en iyi ifade eder?

- A) Özgürlüğe önem vermesi
- B) Bilgiye değer vermesi
- C) İstişarede bulunması
- D) Affedici olması

15. Evrendeki fiziksel, biyolojik ve toplumsal yasalarla ilgili Kur'an ayetleri incelendiğinde, yaratılıştaki ölçü ve düzenin mükemmelliğinin vurgulandığı görülmektedir.

Bu gibi ayetler aşağıdaki kavramlardan hangisinin kapsamında değerlendirilebilir?

- A) Kader
- B) Tevekkül
- C) İrade
- D) İlim

16. Aşağıdaki ayetlerden hangisi Kur'an-ı Kerim'in düşünmeye verdiği önem konusunda örnek olarak gösterilemez?

- A) "O, göklerde ve yerde ne varsa hepsini sizin emrinize vermiştir. Bunda düşünen bir topluluk için ibretler vardır."
(Casiye suresi, 13. ayet)
- B) "Eğer biz bu Kur'an'ı bir dağa indirseydik, muhakkak ki onu Allah korkusundan baş eğerek parça parça olmuş görürdün. Bu örnekleri insanlara düşünsünler diye veriyorum."
(Haşr suresi, 21. ayet)
- C) "Onlar, ayakta iken, otururken ve yatarken Allah'ı anarlar. Göklerin ve yerin yaratılışı hakkında derin derin düşünürler..."
(Âl-i İmran suresi, 191. ayet)
- D) "Asr'a yemin olsun ki, insan gerçekten zarardadır. Ancak iman edip yararlı işler yapanlar ve birbirine hakkı ve sabrı tavsiye edenler bundan hariçtir."
(Asr suresi, 1-3. ayetler)

17. I- Körle yatan şaşı kalkar.
II- Dost kara günde belli olur.
III- Üzüm üzüme baka baka kararır.

Yukarıdaki atasözlerinden hangileri kötü alışkanlıklara başlamada arkadaş etkisini ifade etmez?

- A) Yalnız I
- B) Yalnız II
- C) I ve II
- D) II ve III

18. “Mallarını Allah yolunda harcayıp da arkasından başa kakmayan, fakirlerin gönlünü kırmayan kimselerin Allah katında ödülleri vardır. Onlara korku yoktur ve onlar üzülmeyeceklerdir.”

(Bakara suresi, 262. ayet)

Bu ayette vurgulanan husus aşağıdakilerden hangisidir?

- A) İnsan onurunun korunması
- B) Yardımların nereye harcandığının bilinmesi
- C) İyiliklerin karşılığının insanlardan beklenmesi
- D) Yardım ederken akrabaya öncelik verilmesi

19.



Öğretmen

Çok tanrılı bir din olan Hinduizm’de en önemli üç tanrı Brahma, Vişnu ve’dir.

Boş bırakılan yere aşağıdakilerden hangisi gelmelidir?

- A) Ganj
- B) Veda
- C) Şiva
- D) Nirvana

20. Yüce Allah ilk insandan itibaren peygamberler ve kitaplar göndermiştir. Nitekim insanların ellerinde bulunan ilahi kitaplar dinin tarihinin insanlık tarihiyle başladığını göstermektedir. Ayrıca eski yerleşim alanlarında yapılan kazı ve incelemelerde pek çok tapınak ve dinî sembole de rastlanmıştır.

Bu metinde vurgulanan asıl düşünce aşağıdakilerden hangisidir?

- A) Toplumlar ibadethanelere önem vermiştir.
- B) İlk insan aynı zamanda ilk peygamberdir.
- C) Her dinin bir kutsal kitabı vardır.
- D) Din evrensel bir gerçekliktir.

TEST BİTTİ.

CEVAPLARINIZI KONTROL EDİNİZ.

**28 NİSAN 2014 TARİHİNDE YAPILAN 8. SINIF II. DÖNEM
DİN KÜLTÜRÜ VE AHLAK BİLGİSİ DERSİ ORTAK SINAVI
“A” KİTAPÇIĞI CEVAP ANAHTARI**

DİN KÜLTÜRÜ VE AHLAK BİLGİSİ

1. C
2. A
3. C
4. B
5. B
6. D
7. C
8. B
9. A
10. B
11. D
12. C
13. D
14. B
15. A
16. D
17. B
18. A
19. C
20. D