

8.
SINIF



T.C.
MILLÎ EĞİTİM BAKANLIĞI

KİTAPÇIK TÜRÜ

A

ORTAÖĞRETİME GEÇİŞ SİSTEMİ
8. SINIF SEVİYE BELİRLEME SINAVI SORU KİTAPÇIĞI
6 HAZİRAN 2009 Saat: 10.00

Adayın Adı ve Soyadı :
Aday Numarası (T.C. Kimlik No) :

DİKKAT: 1. Soru kitapçıklarını kontrol ederek, baskı hatası olan kitapçığın değiştirilmesi için salon görevlilerine başvurunuz.
2. Soru kitapçığının ön ve arka yüzündeki açıklamaları okuyunuz.
3. Sınavda hesap makinesi, cep telefonu ve çağrı cihazı kullanılması yasaktır. Bu cihazları sınav başlamadan önce salon başkanına teslim ediniz.

CEVAP KAĞIDI İLE İLGİLİ AÇIKLAMA

1. Cevap kağıdı üzerine yazacağınız yazı ve yapacağınız işaretlemelelerde kurşun kalem dışında kalem kullanmayınız.
2. Cevap kağıdındaki olan bilgilerin size ait olup olmadığını kontrol ediniz. Cevap kağıdı kullanılmayacak durumdaysa veya size ait değilse verilecek yedek cevap kağıdına, kimliğinizle ilgili bilgileri, salon başkanının açıklamalarına göre yazınız.
3. Kitapçık türünü cevap kağıdınızın ilgili bölümüne mutlaka işaretleyiniz.
4. Cevap kağıdında **TÜRKÇE, MATEMATİK, FEN VE TEKNOLOJİ, SOSYAL BİLGİLER ve YABANCI DİL (İNGİLİZCE, ALMANCA, FRANSIZCA, İTALYANCA)** testleri için beş ayrı bölüm bulunmaktadır. Cevaplarınızı cevap kağıdındaki ilgili sütunlara aşağıdaki örnekte olduğu gibi yuvarlağı, dışına taşımadan işaretleyiniz.
Yanlış karalamalarınızı düzeltirken yuvarlağın içini temizce siliniz.

ÖRNEK KODLAMA:

(A) (B) (C) (D)

SORU KİTAPÇIĞI İLE İLGİLİ AÇIKLAMA

1. Bu soru kitapçığında; **TÜRKÇE testinde 23, MATEMATİK testinde 20, FEN VE TEKNOLOJİ testinde 20, SOSYAL BİLGİLER testinde 20 ve YABANCI DİL (İNGİLİZCE, ALMANCA, FRANSIZCA, İTALYANCA) testinde 17** olmak üzere toplam **100** soru bulunmaktadır. Kitapçığın tümü için verilen cevaplama süresi **120** dakikadır.
2. Her sorunun dört seçeneğı vardır. Dört seçenektan sadece bir tanesi doğru cevaptır. Doğru bulduğunuz seçeneğı cevap kağıdında o soru için ayrılan yerde bularak işaretleyiniz.
3. Size ayrı bir karalama kağıdı verilmeyecektir. Soru kitapçığının içindeki boş alanları karalama yapmak için kullanabilirsiniz.
4. Cevabını bilmediğiniz sorular üzerinde fazla zaman kaybetmeden diğer sorulara geçiniz. Zamanınız kalırsa bu sorulara daha sonra dönebilirsiniz.
5. Puanlamada her soru grubu için yanlış cevap sayısının **üçte biri, doğru cevap sayısından çıkarılarak** geçerli cevaplara karşı gelen ham puan tespit edilecektir. Bu nedenle rastgele cevaplama yapmayınız.
6. Sınavın bitiminde cevap kağıdınızı ve soru kitapçığınızı salon sorumlularına teslim etmeyi unutmayınız.

BAŞLAYINIZ DENİLMEDEN SORU KİTAPÇIĞINIZI AÇMAYINIZ.

1. Aşağıda bazı kelimelerin anlamları ve bu kelimelerin bu anlamda kullanıldıkları cümleler verilmiştir. Bu kelimeleri cümlelerin içinden bulmacanın satırlarına yazınız.

	1	2	3	4	5	6
1						
2						
3						

ANLAMLAR

Soldan Sağa

1. Bir işi sağlamak veya bozmak için girişilen gizli çalışma.
2. Bir konuyu yazılı veya sözlü olarak açıklamaya yarayan kelime dizisi.
3. Önemli, yararlı, değerli şey.

CÜMLELER

- Devlet; tarih, kültür ve tabiat varlıklarının korunmasını sağlar.
- Hiçbir zaman onların oyununa kanmış değildir.
- Bu yazıda çoğu türküde rastladığımız basmakalıp sözler vardır.

Buna göre bulmacanın 3. sütununda yer alan harfler aşağıdakilerden hangisidir?

- A)

Z
R
L

 B)

B
S
V

 C)

U
Z
R

 D)

L
K
B

2.



Bu karşılıklı konuşmada, banka görevlisinin yaşlı kadına yardımcı olma sürecini aşağıdaki kavramlardan hangisi anlatır?

- A) Yönlendirme B) Onaylama
C) Değerlendirme D) İnceleme

3. Bir çocuk düşünde, Irmağın kıyısında kocaman bir çiçek gördü. Ata benziyordu çiçek ve etrafındaki arkadaşlarına da nasihatler ediyordu. Sonra şiddetli bir rüzgâr sesi geldi dışarıdan ve bir ağaç devrildi gürültüyle. Çocuk uyandı bu gürültüye.

Aşağıdakilerden hangisi bu metindeki "kişileştirme sanatı" nı sağlamıştır?

- A) Şiddetli rüzgâr sesinin duyulması
B) Çiçeğin ata benzetilmesi
C) Ağacın gürültüyle devrilmesi
D) Çiçeğin nasihatte bulunması

4.



Tarihçiler, geçmiş yaşamla ilgili bilgilere ulaşırken kartpostallardan da yararlanmaktadır. Örneğin, bir Osmanlı kartpostalında yüz yıl öncesine ait yaşamdan kesitler görülebilmektedir.

Buna göre yukarıda verilen kartpostaldan, dönemin yaşamıyla ilgili hangi bilgilere ulaşamaz?

- A) Günlük kıyafetler B) Ticaret yaşamı
C) Toplumsal kurallar D) Mimari özellikler

5.

Ödül kazanmış bir yazar olarak ödüller hakkında ne düşünüyorsunuz?

Ödüller elbette pek yararlıdır. En azından bir eleştirme görevi görürler. Başka yararları da vardır; bunları saymak, bilineni tekrarlamak olur. ... edebiyat ödülleri bizde istenen ortamı bulamadı, iyi oldukları söylenmeyecek amaçlarla baltalandı, yarardan çok, zarar verdi.



Yazarın konuşmasındaki boşluğa, düşüncenin yönüne göre aşağıdakilerden hangisi getirilemez?

- A) Öte yandan B) Çünkü
C) Oysa D) Ne var ki

6.



Yukarıdaki tablo 1906 yılında Osman Hamdi Bey tarafından yapılmıştır. Tablonun adı "Kaplumbağa Terbiyecisi" dir.

Bu tabloyla ilgili aşağıdaki cümlelerden hangisi kişisel düşünce içermektedir?

- A) Duvara yansıyan ışık pencereden gelmektedir.
B) Pencerenin üstündeki duvarda çatlaklar vardır.
C) Adamın elleri arkasındadır ve bir ney tutmaktadır.
D) Sağdaki iki kaplumbağa yapraklara yaklaşmaktadır.

7. Bu bayram, dilimizin bir kelime kaybettiğine iyice inandım. “Tandır” gibi “kağrı” gibi hayatta yeri kalmamış şöyle böyle bir kelime değil; zarif, ince, medeni bir kelime. Kapıyı çalan çöpçünün pos bıyıklarında aradım onu. Yok!.. Bahşisini alan bekçinin kavlak dudaklarından onu bekledim. Yok!... İki yüz kuruş yazan taksinin şoförüne iki yüz elli kuruş veriyorsunuz. Taş gibi bir sükût! Tramvayda ayakta kalmış bir kadına yerinizi veriyorsunuz. Yüzünüze, burun delikleriyle yüksekten bir bakış! Ve hiçbirinin dilinde aradığınız o ince, o kibar, o insanı insan yapan güzel kelime yok! Affedersiniz deminden beri, yana yakıla hasretini çektiğim bu kelimenin ne olduğunu söylemedim değil mi?...

Bu parçada yazarın hasretini çektiği ifade, aşağıdakilerden hangisidir?

- A) Rica ederim. B) Teşekkür ederim.
C) Sağlıcakla kalın. D) İyi günler.

8. Sabah çık evden, akşam gel, türlü iş güç, türlü üzüntü, türlü yorgunluk. Ancak yatakta, uykudan önceki yarım saat, bir saat, bazen de uyku kaçınca, gece yarılardan sonra bir saat. O yarım saatler, bir saatler birike birike koca kitapları deviren zaman parçaları oluveriyor işte! Bir de yollarda, vapurlarda, otobüslerde okumak var. Oturacak bir yer bulmuşuz, şöyle aydınlık bir pencere dibi. Açarız kitabımızın yapraklarını, kendi evrenimize dalarız... Kalabalık varsın sıkıştıkça sıkışsın dursun.

Konusu dikkate alındığında bu paragrafın öncesi aşağıdakilerden hangisidir?

- A) Kitapların hepsine yetişmek zor. Ya okumaya zaman bulmak? En zoru da bu.
B) İnsanların bizden beklentileri çoktur. Vaktimizin çoğu bunları karşılamakla geçer.
C) Geçim derdi çevremizdeki güzellikleri görmemizi engelleyen şeylerden biridir. Belki de ilkidir.
D) Bazı insanlar yorar bizi, bunaldığımızı hissedimiz. Küçük dünyamızda sıkışıp kalırız.

9. Aşağıdaki metinlerin hangisinde olay, üçüncü kişinin ağzından anlatılmıştır?

- A) Anneme armağan olarak aldığım cam kavanozu yemek masasının üzerine bıraktım. Annem mutfağa girdi, sandalyeye oturdu ve masanın üzerindeki kavanoza bakmaya başladı. Kavanozun üzerindeki “Senin İçin” yazısını okuyunca gülümsedi.
B) Günlerden beri ilk kez; yağmurun fısıltısından, ikinci güneşinin odaya yansımından çok, hamam buğusu gibi içeride toplanmış hissini veren puslu, ıslak aydınlıktan hoşlandım.
C) Arkadaşım birkaç çitayı çatmış, çevrelerinden geçirdiği ipi bağlamaya çalışıyordu. “Yardım edebilir misin?” dedi. Yanına gittim ve parmağımı düğüme bastırdım. Çok büyük ve güzel bir uçurtma yaptık.
D) Çiftçi, çalılıkların arasında bir kıpırtı hissetti. “Bu mutlaka bizim tavukları yiyen tilkidir.” diye düşündü. Ağır ve sessiz adımlarla sesin geldiği yöne ilerledi.

10.

AÇIK OTURUM
Gürültü Kirliliği

Konusmacılar ve Konular

Aslan Eren

Gürültü Kirliliğinin İnsan Sağlığına Zararları

Kadriye Başar

Gürültü Kirliliği ve Çözüm Yolları

Fahri Yılmaz

Gürültü Kirliliğine Yol Açan Bir Etken: Çarpık Kentleşme

Zeliha Demir

Gürültü Kirliliğinin Bir Sonucu: Doğal Dengenin Bozulması

Yer: MEB Şura Salonu

Tarih ve Saat: 10.07.2009 - 14.00

Açık oturuma katılacak konuşmacılardan hangisi gürültü kirliliğinin nedeniyle ilgili bir konuşma yapacaktır?

- A) Aslan Eren B) Kadriye Başar
C) Fahri Yılmaz D) Zeliha Demir

Aşağıda bir metnin giriş, gelişme ve sonuç bölümleri karışık olarak verilmiştir. Z, Y, V harfleriyle belirtilen paragrafları dikkatle okuyunuz. 11, 12 ve 13. soruları bu paragraflara göre yanıtlayınız.

<p>Y</p> <p>Toprağa tutunmak istemez gezgin. Hiçbir yere yerleşme hayalleri kurmaz. Bir başına yola düşmeye alışkındır ve kendini sakıya dönmüş bir bot gibi hissetmeye başlayınca, ilk fırsatta yarı yarıya, döker toprağını. Çünkü bir bot yürümeye eğilimlidir. Tıpkı bir gezginin yola düşerken yalnız olmaya meyilli olması gibi.</p>	<p>Z</p> <p>O vakit ağırlaşır yol. Kısaysa uzar gider. Uzunsu çekilmez olur. İçine toprak doldurulmuş, ortasına da bir tohum ekilmiş, ökçesi delik eski bir bot gibi hissederek kendini gezgin. <u>Bilir ki, o bot giderek ağırlaşacak, o tohum yakında filizlenecek, minicik kökleri salacak, sonra o kökleri büyüyüp ökçedeki delikten fıskırarak ve toprağa tutunacak.</u></p>
---	--

V

Bir gezginin belki de en büyük hatası kendisiyle yollara düşmek için heves eden insanlara açık kapı bırakmasıdır. Bir gün o kapıdan biri illa ki girer. Derken yola çıkılır. Ama anlar gezginin hata yaptığını. İlk virajda, ilk durakta, hem de daha ilk konuşmada.

11. Aşağıdakilerin hangisinde metnin bölümlerini ifade eden harfler "giriş, gelişme, sonuç" şeklinde sıralanmıştır?
- A) V, Z, Y B) Z, V, Y C) Z, Y, V D) Y, V, Z
12. Y paragrafına göre, gezginlerle ilgili olarak aşağıdakilerden hangisi söylenebilir?
- A) Bir yerde uzun süre yaşadıkları
B) Tek başına yolculuk etmek istedikleri
C) Gezilerini yürüyerek yaptıkları
D) Toprakla uğraşmayı sevdiikleri
13. Her üç paragraf dikkate alındığında, Z paragrafındaki altı çizili cümle aşağıdakilerden hangisini ifade eder?
- A) Yorgun düşmeyi
B) Bir yere yerleşmeyi
C) Sorumluluğun yükünü hissetmeyi
D) Gördüklerini başkalarıyla paylaşmayı

14. Bizim memleket eskiden çok hareketliydi. Değirmencilik öyle işlek bir zanaattı ki, on kilometrelik yerden çiftçiler öğütülecek buğdayı bize getirirlerdi. Köyü saran tepeler yel değirmenleriyle kaplıydı. Bu tepelerde, yollar boyunca inip çıkan çuval yüklü eşek katarlarından başka bir şey görülmezdi. Şimdi ise ne eski değirmen ve değirmenciler ne de buğday getiren köylüler kaldı...
- Bu parçada düşünceyi geliştirme yollarından hangisi kullanılmıştır?

- A) Tanımlama B) Benzetme
C) Karşılaştırma D) Tanık gösterme

15. Her şeyi yapmak isteyen, hiçbir şey yapamayacaktır. Öyle insanlar tanırız ki neyi yapıp neyi yapamayacaklarından emin olmadıkları için bazen "İş hayatında kolayca başarı kazanabilirdim." bazen de "Eğer politikaya atılsaydım, mutlaka başarılı olurum." derler. Hiç kuşkunuz olmasın ki bu gibiler, her zaman amatörlikten ileri gidememiş besteci, iflas etmiş tüccar ve başarısız politikacı olurlar. Yaşamak sanatı da iyi bir hedef seçebilmekten ve bütün gücünü ona ulaşmak için kullanmaktan ibarettir.

Bu parçada asıl anlatılmak istenen aşağıdakilerden hangisidir?

- A) İnsan yapabileceklerini bilerek hayatına yön vermelidir.
B) Bazı insanlar başarısızlıklarını yaptıkları yanlış seçimlere bağlarlar.
C) İnsan, hayatın zorluklarına karşı ayakta durabilmeyi iradesi sayesinde başarır.
D) Gücünü ve aklını sınırlandırmayan insanlar hayatı daha iyi tanır.

16. Enerjisi yoğun tarımın en belirgin niteliklerinden birisi, tarla içi ve tarla dışı işlerin büyük ölçüde makineleşmiş olmasıdır. Makineleşmenin temel amacı kol işi gereksiniminin azaltılmasıyla kişi başına düşen üretimin artırılmasıdır. Bu yüzden tarımda makineleşme denince ilk akla gelen araç traktördür. Çünkü traktör sayesinde daha az insan çalışmakta, daha çok verim elde edilmektedir.

Aşağıdakilerden hangisi bu yazının özelliklerinden biridir?

- A) Senli benli bir üslupla yazılmış olması
B) Kesin olmayan yargılar içermesi
C) Bilgilendirici ve öğretici olması
D) Anlatımının içten olması

17.



Kirpiler, kış uykusuna yatmak için birkaç küçük yuva yaparlar. Bu yuvaların içine kuru yapraklar, ince dallar yerleştirirler. Yuvanın içinde sürekli dönerek yaprakların, dalların düzleşmesini sağlarlar. Kirpiler birkaç yuvaları olduğu için başka hayvanlar tarafından rahatsız edildiklerinde ya da soğuktan etkilendiklerinde birinden diğerine geçebilirler.



Sincaplar; kış için ağaç kovuklarına, kuş yuvalarına, ağaç dallarına, çatılara yuva kurabilirler. Yuvalarının içini kuru yaprak, ot, yosun ve tüy gibi malzemelerle kaplarlar. Yuvalarının en dışını da ağaç dallarını yerleştirerek iyice sağlamlaştırırlar. Yuvalarını diğer sincaplarla paylaşabilirler ve birbirlerine sokularak ısınırlar. Dışarı çıkamadıkları dönemler için kozalak, ceviz gibi tohumları yuvalarında saklarlar. Sincapların birkaç kış yuvası da vardır.

Buna göre, kirpilerin ve sincapların farklı yönü aşağıdakilerden hangisidir?

- A) Kış şartlarına uygun yuvalar yapmaları
B) Yuvalarını kendi türlerinden hayvanlarla paylaşmaları
C) Kışın yararlanmak için birden fazla yuva yapmaları
D) Yuvalarını kurmak için ağaç dallarından faydalanmaları

18. 1. Orada burada; kitaplar, etiketlenmiş ve numaralanmış ecza şişeleriyle dolu masalar duruyordu.
2. Bunun üzerine, beklemekten usanan Meryem, laboratuvara çıktı.
3. Profesörün her yana bulaşan bu dağınıklığı, her zamanki alışkanlıklarına hiç de uymuyordu.
4. Profesör aşağı inmemişti.
5. İçeri girdiğinde babasını geniş, çok aydınlık ve her yanı makinelerle, tozlu cam eşyalarla kaplı bir odanın ortasında buldu.

Olayların oluş sırasına göre, numaralandırılmış cümleler nasıl sıralanmalıdır?

- A) 4 - 2 - 5 - 1 - 3
B) 4 - 2 - 3 - 1 - 5
C) 5 - 1 - 2 - 3 - 4
D) 5 - 1 - 3 - 4 - 2

19. Avratos, kendi türü de dâhil bütün küçük balıkları sürekli rahatsız eder, hatta onlara zarar da verebilir. Akvaryumdaki en büyük balık olduğu sürece sorun çıkarır. Kendi büyüklüğündeki avratos, imparator, prenses vb. balıklarla uyum içinde yaşayabilir.

Emre 10 cm büyüklüğünde yetişkin bir avratos balığı almıştır. Akvaryumunda 10 cm'den küçük iki japon balığı, bir de melek balığı vardır. Avratosun diğer balıklara zarar vermemesi için Emre'nin önlem alması gereklidir.

Bu bilgilere göre Emre aşağıdakilerden hangisini yaparsa akvaryumunda oluşabilecek bir sorunu önlemiş olur?

- A) Akvaryumundaki melek balığını arkadaşı Ali'ye vermesi
B) Akvaryumuna birkaç avratos yavrusu koyması
C) Kendindeki avratostan daha iri bir imparator balığını akvaryumuna yerleştirmesi
D) Kuzeninden, kendisindeki japon balıklarıyla aynı büyüklükte iki prenses balığı getirmesi

20.



Bir televizyon kanalının ana haber bültenini arkadaşlarıyla izleyen Fatih, sunucunun cümlesindeki anlatım bozukluğunu fark etmiş ve arkadaşlarından bu yanlış bulmalarını istemiştir.

Fatih'in arkadaşlarından hangisi sunucunun hatasını doğru tespit etmiştir?

A)

Sunucu birbiriyile çelişen kelimeler kullandı.



B)

Sunucu bir kelimeyi yanlış anlamda kullandı.



C)

Sunucu bazı kelimeleri yanlış yerde kullandı.



D)

Sunucu eş anlamlı kelimeleri bir arada kullandı.



21. "Tatlı söz söyleyen, hiç kimseden kötü söz işitmez." cümlesinde vurgulanan ifadenin cümledeki görevi aşağıdakilerden hangisidir?

- A) Belirtisiz nesne B) Yer tamlayıcısı
C) Özne D) Yüklem

22. Virgül (,) aşağıdakilerin hangisinde "Bir varmış, bir yokmuş." cümlesindeki göreviyle kullanılmıştır?

- A) Fırtınadan, soğuktan, karanlıktan sonra bu sıcak odanın havasında erir gibi oldum.
B) Eski yapılar, dikkat ettiniz mi, hep birbirine benzer.
C) Hasan Bey, oğlunun sesini duyar duymaz koltuğundan fırlamış ve ona kapıyı açmıştı.
D) O geçip gitti, ben arabamı kapının önüne getirttim.

23.



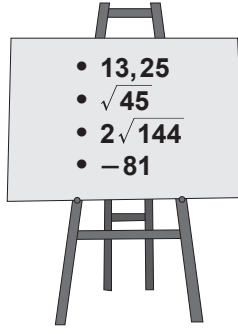
İngiltere'nin güneyindeki bir adada bulunan Stonehenge (Sıtonhenç) yaklaşık 4000 yıl önce inşa edilmiştir. Büyük bölümü yok olmuş bu yapının geriye kalan taşlarından en büyüğü 9 m uzunluğunda ve yaklaşık 45 ton ağırlığındadır. Taşlar, iç içe birkaç çember oluşturacak biçimde dizilmiştir. Bu yapı, o zamanın insanları tarafından Ay'ın ve Güneş'in hareketlerinin izlendiği bir gözlemevi olarak da kullanılmıştır.

Bu parçada Stonehenge ile ilgili olarak aşağıdakilerin hangisine değinilmemiştir?

- A) Taşlarının belirli bir düzenle yerleştirildiğine
B) Araştırma-inceleme amacıyla kullanıldığına
C) Bir kısmının günümüze kadar ulaştığına
D) Bu tür bir yapının ilk örneği olduğuna

TÜRKÇE TESTİ BİTTİ.
MATEMATİK TESTİNE GEÇİNİZ.

1. Yandaki tahtada yazılmış olan sayılardan hangisi silinirse kalan sayıların tamamı rasyonel sayı olur?

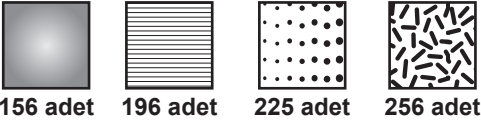


- A) -81
B) $2\sqrt{144}$
C) $\sqrt{45}$
D) 13,25





2. $\left(\frac{1}{2}\right)^5$ üslü ifadesinin değeri için aşağıdakilerden hangisi doğrudur?

- A) 0'dan küçüktür.
B) 1'den büyüktür.
C) $\frac{1}{2}$ ile 1 arasındadır.
D) 0 ile $\frac{1}{2}$ arasındadır.

3.



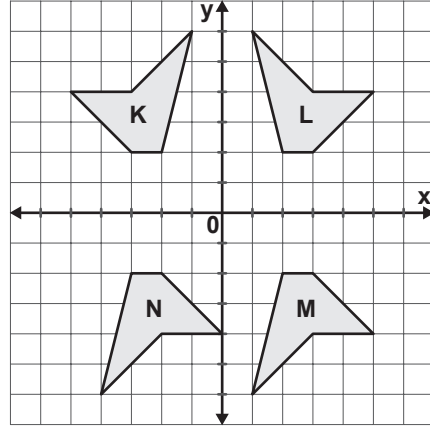
Dört odalı bir evin her bir odasının tabanı yukarıda verilen sayılarda, kare şeklindeki fayanslarla döşenmiştir. Her bir model fayans bir odaya döşendiğine göre, hangi fayansın döşendiği taban, kare şeklinde olamaz?

- A)  B) 
C)  D) 

4. $\sqrt{2,25} - (\sqrt{0,09} - \sqrt{0,64})$ işleminin sonucu kaçtır?

- A) 2,6 B) 2 C) 1 D) 0,4

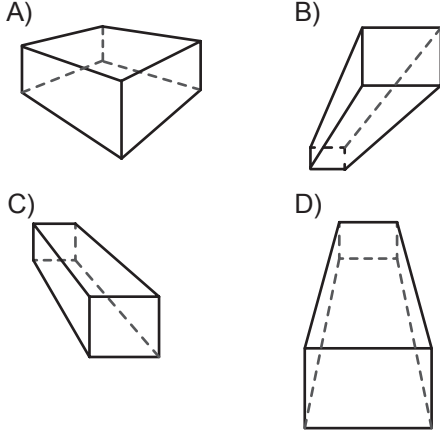
5.



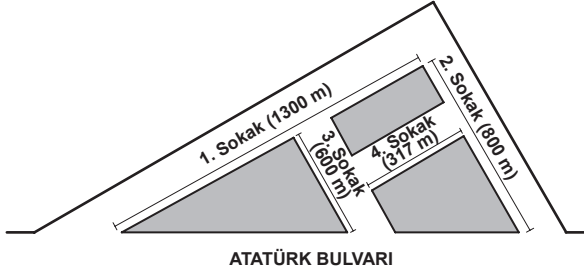
Yukarıdaki koordinat düzleminde verilen K, L, M, N şekillerine göre, aşağıdakilerden hangisi yanlıştır?

- A) L'nin y eksenine göre yansıması K'dir.
B) K'nin orijin etrafında ve saat yönünde 180° döndürülmesiyle M elde edilmiştir.
C) M'nin x eksenı boyunca 5 birim sola ötelenmesiyle N elde edilmiştir.
D) K'nin x eksenine göre yansıması N'dir.

6. Aşağıdaki cisimlerden hangisinin çiziminde iki nokta perspektifi kullanılmıştır?



7.

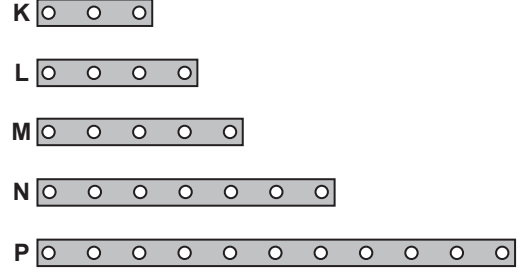


Verilen krokide 1. sokak, 2. ve 3. sokaklara dik, 4. sokağa paraleldir. 1., 2., 3. ve 4. sokakların uzunlukları sırasıyla 1300 m, 800 m, 600 m ve 317 m'dir.

Buna göre, 3. sokak kaç metre genişliğindedir?

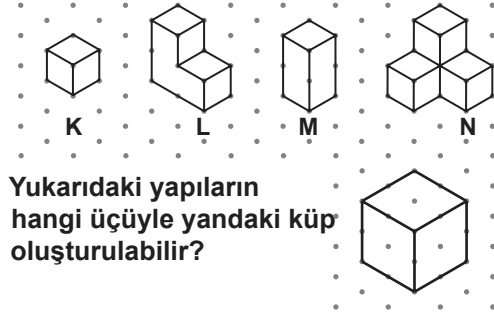
- A) 6 B) 8 C) 10 D) 12

8. Aşağıdaki geometrik şeritler, uçlarından tutturularak üçgenler oluşturulacaktır. Hangi şeritlerle oluşturulacak üçgenin çevresi en büyük olur?



- A) K, N ve P B) K, L ve M
C) L, N ve P D) L, M ve N

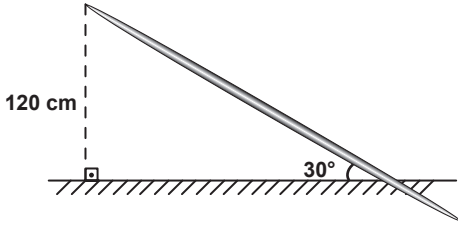
9.



Yukarıdaki yapıların hangi üçüyle yandaki küp oluşturulabilir?

- A) K, L, N B) L, M, N
C) K, L, M D) K, M, N

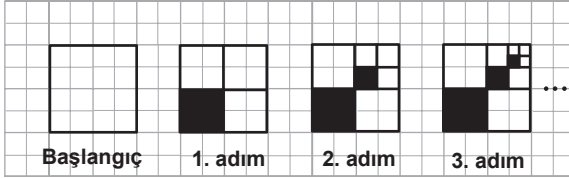
10.



Bir cirit atma müsabakasında, uzunluğu 260 cm olan cirit, yere 30° lik açı yaparak şekildeki gibi saplanıyor. Bu ciritin diğer ucunun yerden yüksekliği 120 cm olduğuna göre, saplanan kısmı kaç santimetredir? ($\sin 30^\circ = \frac{1}{2}$)

- A) 10 B) 20 C) 40 D) 60

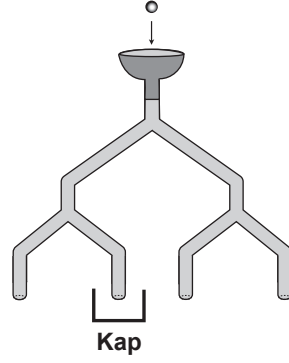
11.



Yukarıdaki şekilde oluşturulan fraktal modelinin 1. adımındaki boyalı bölgenin alanı 1 cm^2 dir. 10. adımda oluşan en küçük alana sahip karesel bölgenin bir kenarının uzunluğu kaç santimetredir?

- A) $\frac{1}{9}$ B) $\frac{1}{9^2}$ C) $\frac{1}{2^9}$ D) $\frac{1}{2^{10}}$

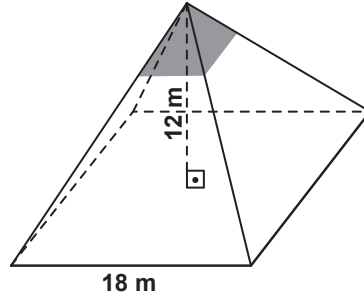
12.



Aynı özelliklere sahip şekildeki borular eş açılarla ikiye ayrılmaktadır. Huniye bırakılan bir topun kaba düşme olasılığı nedir?

- A) $\frac{1}{2}$ B) $\frac{1}{4}$ C) $\frac{1}{8}$ D) $\frac{1}{16}$


13.



12 m yüksekliğinde ve taban ayırıtı 18 m olan kare dik piramit şeklinde bir iş merkezi inşa edilecektir. Bu iş merkezinin tabanından 8 m yükseklikten sonraki kısmının yan yüzleri, şekildeki gibi camla kaplanacaktır. Bunun için kaç metrekare cam kullanılır?

- A) 90 B) 60 C) 30 D) 15

14.



Kuşların su içmesi için yapılmış olan şekildeki sulukların her biri, çapı 20 cm olan çeyrek küre yüzeyinden oluşmuştur. Bu suluklar yağmur suyu ile tamamen dolduğunda toplam kaç litre su birikir? (π 'yi 3 alınız.)

- A) 0,5 B) 1,5 C) 5 D) 8

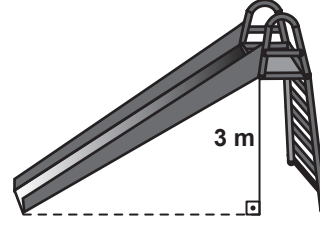
15. Tablo: Basketbolcuların Maçlarda Attıkları Ortalama Basket Sayıları ve Açıklığı

Basketbolcunun adı	Basket sayılarının ortalaması	Basket sayılarının açıklığı
Cemil	17	3
Alper	17	15
Hasan	12	15
Ali	12	3

Geçen yıl aynı sayıda maçta oynayan dört basketbolcunun attıkları basket sayılarının ortalamaları ve açıklık değerleri tabloda verilmiştir. Hem daha fazla sayı atıp hem de attığı basket sayısı en az değişen oyuncu hangisidir?

- A) Ali B) Hasan C) Alper D) Cemil

16.



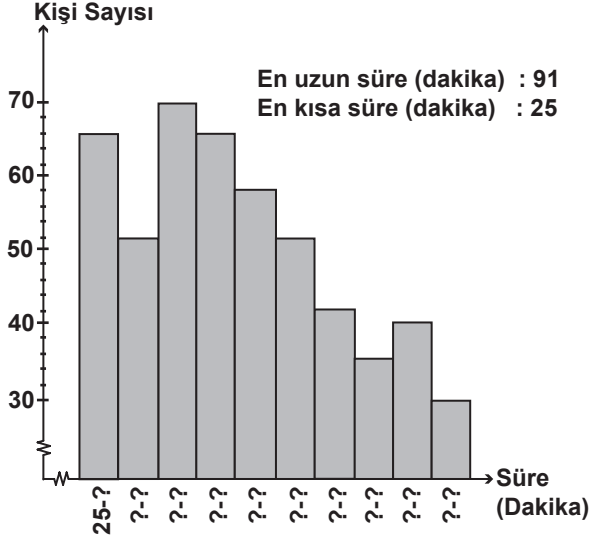
Yerden yüksekliği 3 m olan şekildeki kaydırağın eğimi 0,6 dır. Bu kaydırağın uzunluğu kaç metredir?

- A) 3,6 B) 4 C) $\sqrt{34}$ D) $\sqrt{41}$

17. Bir pastanede bir günde satılan börek ve poğaçaların toplam sayısı 144 ve bu satıştan elde edilen gelir 88 TL'dir. Börek 50 Kr, poğaçaya 75 Kr olduğuna göre kaç adet poğaçaya satılmıştır?

- A) 80 B) 64 C) 58 D) 44

18.



Bir okuldaki öğrencilerin günlük kitap okuma süreleriyle ilgili bazı bilgileri içeren histogram yukarıda verilmiştir. Grafiğe göre, kişi sayısı en fazla olan grubun günlük okuma süresi hangi dakika aralığındadır?

- A) 39 - 45 B) 41 - 46
C) 34 - 41 D) 41 - 49

19. Her biri 0,3 litre su alan bardaklar, bir sürahideki su ile dolduruluyor. Sekizinci bardak tam dolmadığına göre, sürahideki su miktarı aşağıdakilerden hangisi olabilir?

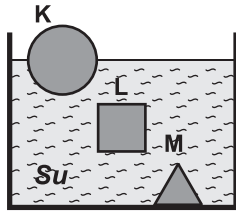
- A) 1,8 L B) 2,1 L C) 2,3 L D) 2,4 L

20. Bir sınıfta yapılacak etkinlik için öğrenciler, sayıları x ve y olan iki gruba ayrılıyor. Öğretmen her öğrenciye, grubundaki öğrenci sayısı kadar şeker dağıtıyor. Gruplardaki öğrenci sayıları farkı ile şeker sayılarının farkını kullanarak sınıf mevcudunu hesaplamak için aşağıdaki özdeşliklerden hangisinden yararlanmak daha uygundur?

- A) $(x - y)^2 = x^2 - 2xy + y^2$
B) $(2x - y)^2 = 4x^2 - 4xy + y^2$
C) $(x + y)^2 = x^2 + 2xy + y^2$
D) $x^2 - y^2 = (x - y)(x + y)$

MATEMATİK TESTİ BİTTİ.
FEN VE TEKNOLOJİ TESTİNE GEÇİNİZ.

1. Bir öğretmen, kütleleri eşit ve yoğunlukları farklı, suda erimeyen K, L ve M cisimlerini şekildeki kaba bırakıyor. Cisimlerin sudaki son konumlarına bakan öğrenciler aşağıdaki yorumları yapıyorlar.



- Ege : K ve L'ye etki eden kaldırma kuvvetleri eşittir.
 Zafer : L'ye etki eden kaldırma kuvveti M'ye etki eden kaldırma kuvvetinden büyüktür.
 Pelin : K'ye etki eden kaldırma kuvveti K'nin ağırlığından büyüktür.
 Özlem: M'ye etki eden kaldırma kuvveti M'nin ağırlığından küçüktür.

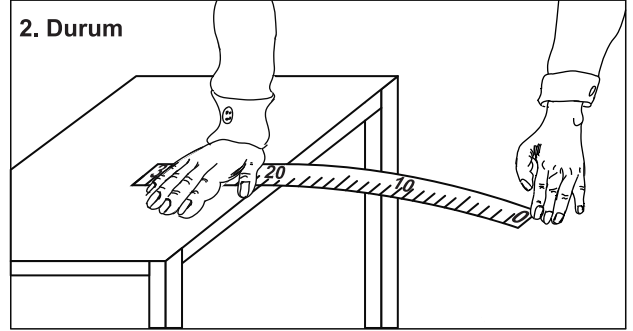
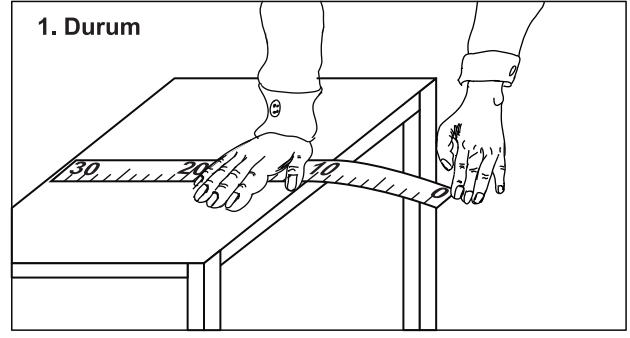
Buna göre, hangi öğrencinin yorumu **yanlıştır**?

- A) Ege B) Zafer C) Pelin D) Özlem

2. Aşağıdakilerden hangisi basıncı arttırmak için yapılmıştır?

- A) Rayların şekil bozukluğuna uğramaması için trenlerde tekerlek sayısının artırılması
 B) Meyvenin daha rahat kesilmesi için bıçağın keskinleştirilmesi
 C) Karda daha rahat yürümek için kar ayakkabısı kullanılması
 D) Traktörlerin toprağa saplanmaması için geniş tekerlekli yapılması

3. Efe, 30 cm uzunluğundaki cetveli bir sehpanın kenarına iki farklı şekilde yerleştiriyor.



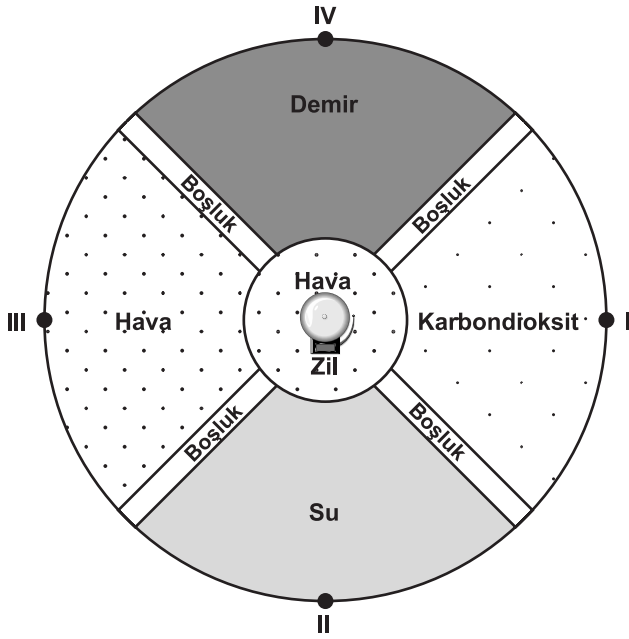
Her iki durumda da cetveli bir eliyle sehpa üstüne bastırarak Efe, diğer eliyle de cetvelin boştaki ucunu aşağı doğru esnetip serbest bırakıyor.

Bu işlem sonunda 2. Durumda çıkan sesin 1. Durumda çıkan sestene daha kalın olduğunu fark ediyor.

Buna göre Efe, sesteki kalınlaşmanın nedenini aşağıdakilerden hangisi ile açıklar?

- A) Sesin genliğinin artmasıyla.
 B) Sesin frekansının artmasıyla.
 C) Sesin genliğinin azalmasıyla.
 D) Sesin frekansının azalmasıyla.

4. Şekildeki gibi bölmelendirilmiş dairesel bir odada farklı ortamlar bulunmaktadır.

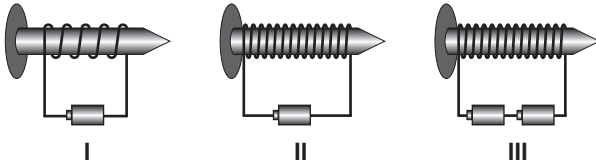


Ortamların yoğunluk sıralaması demir > su > hava > karbondiyoksit olduğuna göre, odanın merkezinde çalan zilin sesi en geç hangi noktadan duyulur?

- A) I B) II C) III D) IV

5. 1. hipotez: Bobindeki sarım sayısı arttıkça elektromıknatısın çekim gücü artar.
2. hipotez: Üzerinden geçen akım şiddeti arttıkça elektromıknatısın çekim gücü artar.

Bir öğrenci yukarıdaki hipotezleri için özdeş çivi, tel ve pillerle I, II ve III elektromıknatıslarını yapıyor.

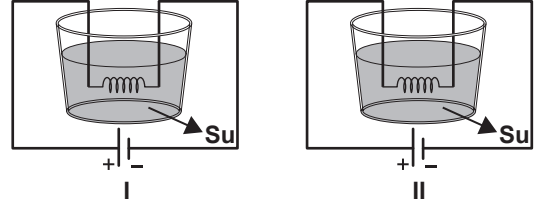


Daha sonra her bir elektromıknatısı özdeş iğnelere yaklaştırarak kaçar tane iğne çektiklerini kaydediyor.

Buna göre, öğrenci 1. ve 2. hipotezlerini test etmek için hangi elektromıknatısları ile elde ettiği verileri birlikte değerlendirmelidir?

- | 1. hipotez | 2. hipotez |
|-------------|------------|
| A) I - II | II - III |
| B) II - III | I - II |
| C) I - III | II - III |
| D) I - II | I - III |

6. Fatih, birbiriyle her bakımdan özdeş aşağıdaki iki devreyi kuruyor.



Fatih, bu iki devreyi kullanarak üzerinden akım geçen bir telde açığa çıkan ısı miktarı ile ilgili olarak aşağıdaki sonuçlardan hangisine ulaşabilir?

- A) Telin cinsine bağlıdır.
B) Telin direncine bağlıdır.
C) Telin üzerinden geçen akımın şiddetine bağlıdır.
D) Telin üzerinden geçen akımın geçiş süresine bağlıdır.

7. Işık veren ampulün harcadığı elektrik enerjisi miktarı aşağıdakilerden hangilerine bağlıdır?

I- Ampulün aydınlattığı alanın büyüklüğüne
II- Ampulün gücüne
III- Ampulün ışık verme süresine

- A) Yalnız II B) I - II
C) II - III D) I - II - III

8. Güneş ışınlarının Dünya'ya geliş açısının değişmesi, aşağıdaki olaylardan hangisine sebep olur?

- A) Gece ve gündüzün oluşmasına.
B) Mevsimlerin oluşmasına.
C) Güneş tutulmasına.
D) Ay tutulmasına.

9.

Seçtiğim elementin atomlarının özellikleri şunlardır:
 * 4 katmana sahiptir.
 * Son katmanında 2 elektronu vardır.
 * 2 elektron verdiğinde katyon hâline gelir.



Aydın

Periyodik Tablo

1A								8A
1	2A							2
H								He
3	4		5	6	7	8	9	10
Li	Be		B	C	N	O	F	Ne
11	12		13	14	15	16	17	18
Na	Mg		Al	Si	P	S	Cl	Ar
19	20		31	32	33	34	35	36
K	Ca		Ga	Ge	As	Se	Br	Kr
37	38		49	50	51	52	53	54
Rb	Sr		In	Sn	Sb	Te	I	Xe

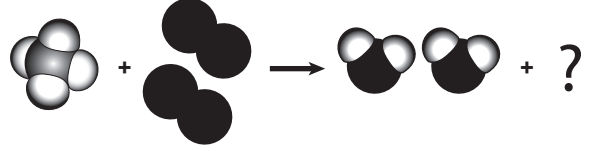
Aydın'ın, bir bölümü verilen periyodik tablodan seçip bahsettiği element aşağıdakilerden hangisidir?

- A) C B) Mg C) Ar D) Ca

10. KHCO_3 , Na_2CO_3 , AlPO_4 bileşik formülleri için aşağıdakilerden hangisi doğrudur?

- A) Toplam atom sayıları aynıdır.
 B) Anyonlarının yükleri birbirine eşittir.
 C) Her formülde aynı sayıda katyon vardır.
 D) Her formülde aynı sayıda element vardır.

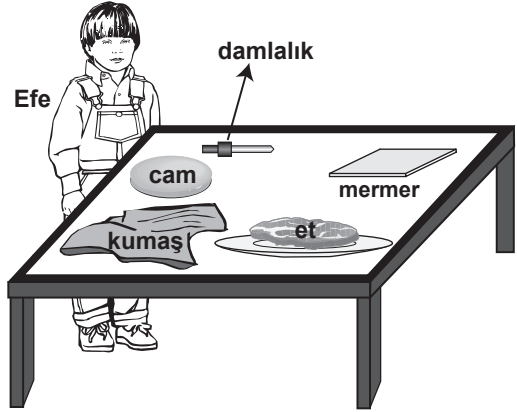
11.



Tanecik modeli verilen tepkimenin denkleşmesi için ürünler tarafına aşağıdakilerden hangisi eklenmelidir?

- A) B)
 C) D)

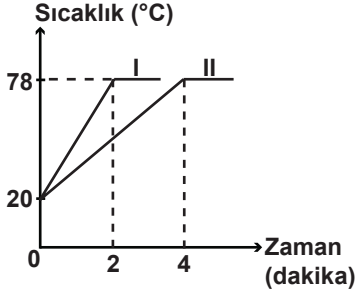
12.



Efe, masadaki maddelerin üzerine asit damlattıktan sonra etin, mermerin ve kumaşın tahriş olduğunu, camın ise tahriş olmadığını gözlemliyor. Efe'nin etkinlik sonucu edindiği bilgiye göre, aşağıdakilerden hangisini yapması uygun olmaz?

- A) Sirkeyi cam şişede saklaması
 B) Mermer tezgahın üzerinde limon kesmesi
 C) Laboratuvarında çalışırken koruyucu kıyafet kullanması
 D) Tuz ruhu ile banyoyu temizlerken koruyucu eldiven kullanması

13. Özdeş I ve II kaplarında bulunan aynı sıvılar özdeş ısıtıcılarla ısıtılıyor ve aşağıdaki grafik elde ediliyor.



Grafığe göre, aşağıdakilerden hangisi söylenemez?

- A) Kaplardaki sıvıların miktarları farklıdır.
B) I. kaptaki sıvıya daha az ısı verilmiştir.
C) II. kaptaki sıvı daha uzun süre ısıtılmıştır.
D) Kaplardaki sıvılara aynı miktarlarda ısı verilmiştir.

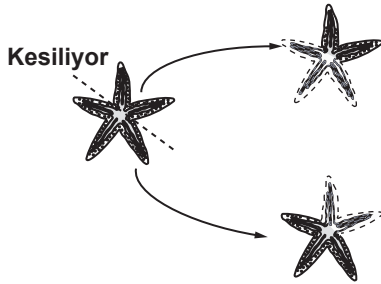
14. Erime sıcaklıklarındaki aynı miktar X, Y ve Z katı maddeleri özdeş ısıtıcılarla ısıtıldığında;

- X katısı 3 dakika
- Y katısı 8 dakika
- Z katısı 11 dakika

sonra tamamen sıvı hâle geçiyor. Bu maddelerin erime ısılarının büyükten küçüğe doğru sıralanışı aşağıdakilerden hangisidir?

- A) $X > Y > Z$ B) $Y > Z > X$
C) $Z > Y > X$ D) $Z > X > Y$

- 15.



Yukarıda verilen deniz yıldızındaki yenilenme olayı ile ilgili olarak aşağıdakilerden hangisi söylenebilir?

- A) Eşeyli üremez.
B) Mitoz bölünme ile gerçekleşir.
C) Yavru canlıların genotipi ana canlıdan farklıdır.
D) Yavru canlılar ana canlıdan daha gelişmiş yapıdadır.

16. Yangın sonucu ormanları azalan bir bölgede hızla ağaçlandırma çalışması yapılacaktır. Bir araştırmacı bu konuyla ilgili olarak aşağıdaki hipotezi savunmaktadır.

Hipotez: Hızlı büyüyen baskın AA genotipli K türü ağaç, yangın bölgesindeki yavaş büyüyen çekinik aa genotipli K türü ağaç ile çaprazlanırsa, hızlı büyüyen ağaç elde edilir.

Bu araştırmacının hipotezi için ne söylenebilir?

- A) Hipotez doğrudur, çünkü birinci kuşakta hızlı büyüyen ağaç elde edilir.
B) Hipotez doğrudur, ancak hızlı büyüyen ağaç ikinci kuşakta elde edileceğinden zaman alıcıdır.
C) Hipotez yanlıştır, çünkü saf dölleri arasında yapılan çaprazlamada hızlı büyüyen ağaç elde edilemez.
D) Hipotez yanlıştır, çünkü aynı tür bitkiler arasında çaprazlama yapılamaz.

- 17.

Özellikler	Boy uzunluğu	Bir günde tüketilen süt-yoğurt miktarı	Bir günde tüketilen sebze-meyve miktarı	Haftada kaç saat spor yapıldığı
Selma				
Ersoy				
Burçin				
Mehmet				
Neşe				

Bir öğrenci çevre şartlarının boy uzunluğuna etkisini incelemek istiyor. Aynı yaşta arkadaşlarıyla ilgili verileri tabloya yazacaktır.

Eğer bu öğrenci boy uzunluğuna kalıtımın da etkisini araştırmak isterse tabloda hangi değişikliği yapabilir?

- A) Arkadaşlarının vücut ağırlığını da yazmalı
B) Farklı yaşta bireyleri de tabloya eklemeli
C) Arkadaşlarının anne ve babasının boy uzunluğunu da yazmalı
D) Günlük tüketilen süt-yoğurt miktarını, günlük tüketilen et miktarıyla değiştirmeli

18. Ahmet, sınıfındaki bir etkinlikte fotosentezin önemini anlatmaktadır.

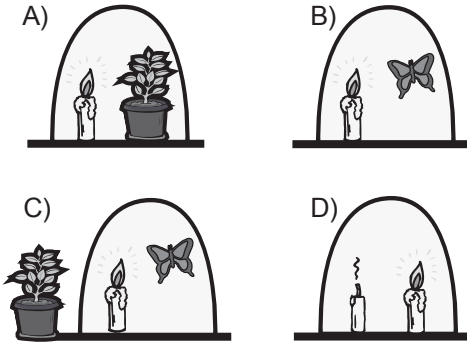


Şekil - I

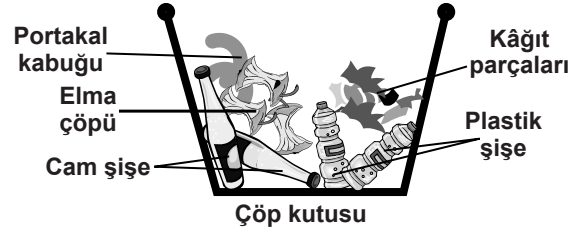


Şekil - II

Şekil-I ve şekil-II'deki gibi konusunu anlatan Ahmet'in şekil-II'deki düzeneği hangisidir?



- 19.



Öğretmen: Sınıfımızdaki çöp kutusunun içindekileri birlikte inceleyip problemi ve çözümü belirleyelim, çözümle ilgili örnek verelim.

Mehmet : Farklı atıklar birbirine karışmış. Geri dönüşümle yeniden kullanabilmek için kâğıt, cam, plastik ve besin atıklarını ayrı kutulara atalım.

Öğretmen: Çocuklar; Mehmet'in düşüncesine, aşağıdaki tabloda açıklamaları verilen puanlardan hangisini vermeliyiz?

Puan	Açıklama
4	Problemi anladı, çözüm buldu, örnek verdi.
3	Problemi anladı, çözüm buldu, örnek veremedi.
2	Problemi anladı, çözüm ve örnek bulamadı.
1	Problemi tam anlamadı, çözüm ve örnek bulamadı.

A) 4 B) 3 C) 2 D) 1

20.



Şekilde verilen azot döngüsünde aşağıdaki olaylardan hangisi gözlenir?

- A) Hayvanların solunumuyla havadan azot aldığı
- B) Hayvan atıklarındaki azotun havaya karıştığı
- C) Bitkilerin yapraklarıyla havaya azot verdiği
- D) Bitkilerin topraktan kökleriyle azot aldığı

**FEN VE TEKNOLOJİ TESTİ BİTTİ,
SOSYAL BİLGİLER TESTİNE GEÇİNİZ.**

1. Çanakkale Savaşı'nda denizlerde başarılı olamayan düşman kuvvetleri, amaçlarına karadan ulaşmak istiyordu. Mustafa Kemal, düşmanın Conkbayırı hattını aşarak ilerleyeceğini tahmin ediyordu. Bu sebeple bu hattın güçlendirilmesine çalıştı. Düşman güçleri 25 Nisan 1915 sabahı Mustafa Kemal'in öngördüğü noktadan, Arıburnu bölgesinden saldırdı. Mustafa Kemal; Arıburnu, Conkbayırı ve Anafartalar'da düşman güçlerine karşı büyük başarılar elde etti.

Mustafa Kemal'in bu başarısında etkili olan kişilik özelliği aşağıdakilerden hangisidir?


- A) Birleştirme ve bütünleştirme gücü
B) İleri görüşlülüğü ve askerî yeteneği
C) Vatan ve millet sevgisi
D) Mantıklı ve gerçekçi oluşu

2. Mustafa Kemal'in fikir hayatına okul çevresinin katkısı yadsınamaz. Manastır Askerî İdadisinde okurken burada vatan ve hürriyet şairi Namık Kemal'i ve eserlerinde Türklüğü öne çıkaran Mehmet Emin Yurdakul'u tanıdı. Mustafa Kemal'in fikir hayatı, bu dönemde Türk kültürü ve tarihi ile ilgili okuduğu eserler sayesinde şekillendi. Özellikle tarih bilinci bu dönemde oluşmaya başladı. Bunda da tarih öğretmeni etkili oldu.

Parçada verilen bu durumun Mustafa Kemal'in fikir hayatına katkısı, aşağıdakilerden hangisi olabilir?

- A) Milliyetçilik
B) Akılcılık
C) Barışçılık
D) Devletçilik

3.



Yukarıdaki oklarla yandaki hedefleri vurmak isteyen okçu çocuğun, aşağıdakilerin hangisiyle isabetli atış yaptığı söylenebilir?

	K	L	M	N
A)	3	1	4	2
B)	2	3	1	4
C)	1	3	4	2
D)	1	4	3	2

4. Sivas Kongresi, yurdun her yerinden gelen temsilcilerin katılımı ile gerçekleşti. Kongre'ye katılan temsilciler yaptıkları konuşmalarda mücadelenin millet adına yapıldığını, amaçlarının vatanın kurtuluşu ve milletin bağımsızlığı olduğunu açıkladılar. Kongre'de, Anadolu ve Rumeli'de faaliyet gösteren bütün millî cemiyetlerin "Anadolu ve Rumeli Müdafaa-i Hukuk Cemiyeti" adı altında birleştirilerek vatanın kurtuluşu için birlikte hareket etmeleri de sağlandı.

Buna göre, Sivas Kongresi'nin Kurtuluş Savaşı için aşağıdakilerden hangisini sağladığı söylenemez?

- A) Amaç birliğini
B) Kültür birliğini
C) Millî birliği
D) Güç birliğini

5. “Hıyanet-i Vataniye Kanunu’nun Büyük Millet Meclisinde görüşüldüğü günlerde idi. İstanbul Hükümetinin tayin ettiği Erzurum valisi, Erzurum’a doğru yola çıkmıştı. Bu haberi alan bazı vekiller mecliste, Reşit Paşa adındaki valinin yolda öldürülmesini önerdiler. Bu kanunsuz teklife Mustafa Kemal Paşa şöyle yanıt verdi: ‘*Ne diyorsunuz? Eşkiya gibi dağda, komiteci gibi sokakta adam mı vuracağız? Bizim devlet anlayışımızda bu yoktur. Bundan sonra bu memlekette vatandaş ancak mahkeme kararıyla cezalandırılır.*’”

Mustafa Kemal Paşa, bu cevabıyla aşağıdaki devlet anlayışlarından hangisini vurgulamıştır?

- A) Hukuk Devleti B) Sosyal Devlet
C) Demokratik Devlet D) Laik Devlet

6.



Hamdullah Suphi Bey: Paşam!

Mustafa Kemal Paşa : (Dalgın, düşünceli bir hâli vardı.) Buyrun.

Hamdullah Suphi Bey: Vaktinizi almaya-cağız... Öğretmenler Derneği birkaç gün sonra Ankara’da toplanacak. İki yüzden fazla öğretmen katılıyor. Fakat Fevzi Paşa’yı dinleyince tereddüde düştük. Savaşın yoğunlaşacağı anlaşılan bir sırada böyle geniş bir toplantı size ayak bağı olabilir. Uygun görürseniz erteleyelim.

Mustafa Kemal Paşa : Hayır, hayır ertelemeyin... Cahillikle, ilkelikle savaş, düşmanla savaştan daha az önemli değildir. Toplantıya katılacağım ve konuşacağım.

Mustafa Kemal Paşa’nın Hamdullah Suphi Bey’e verdiği cevapta aşağıdakilerden hangisinin önemi vurgulanmıştır?

- A) Ordunun B) Eğitimin
C) Ekonominin D) Savaşın

7. • I. İnönü Savaşı’nın kazanılmasından sonra yapılan Moskova Antlaşması ile Sovyetler Birliği TBMM Hükümetini tanıdı.
• Sakarya Zaferi’nden sonra imzalanan Ankara Antlaşması ile Fransa, TBMM Hükümetini resmen tanıdı.

Kurtuluş Savaşı sürecinde yaşanan bu gelişmelere dayanarak aşağıdaki değerlendirmelerden hangisi yapılabilir?

- A) İtilaf Devletleri görüş birliği içindedir.
B) Askerî zaferler siyasi başarılarla tamamlanmıştır.
C) Türk ordusu Sakarya Savaşı’nda Fransız ordusunu yenmiştir.
D) Yunanistan Anadolu’daki isteklerinden vazgeçmiştir.

8. 17 Şubat 1923’te İzmir’de toplanan ilk iktisat kongresinde alınan kararlardan bazıları şunlardır:

- Hammaddesi yurt içinden temin edilen sanayi dalları kurulmalıdır.
- Yabancıların kurduğu ticaret işletmelerinden kaçınılmalıdır.
- Yerli malı kullanılması ve tasarruf özendirilmelidir.

Bu kararlarla;

- I- dışa bağımlılığı önlemek
- II- yabancı sermayeyi etkili kılmak
- III- millî ekonomiyi kurmak
- IV- ekonomik bağımsızlığı sağlamak

hedeflerinden hangilerine ulaşılması amaçlanmış olabilir?

- A) Yalnız I B) I - II
C) II - III - IV D) I - III - IV

9.

SEVR ANTLAŞMASI	LOZAN BARIŞ ANTLAŞMASI
1. Tüm devletlerin gemileri Boğazlardan geçebilecektir. Ayrıca Boğazlarla ilgili her türlü işlem, içinde Türk delegesinin yer almadığı uluslararası Boğazlar Komisyonu tarafından yürütülecektir.	1. Boğazlardan geçişleri Türkiye başkanlığında kurulacak uluslararası bir "Boğazlar Komisyonu" düzenleyecektir.
2. İzmir ile birlikte Ege Bölgesi'nin büyük bir bölümü ve Doğu Trakya Yunanistan'a verilecektir.	2. Türkiye ile Yunanistan arasındaki sınır, Meriç Nehri kabul edilecektir. Yunanistan savaş tazminatı olarak Meriç Nehri'nin batısındaki Karaağaç'ı Türkiye'ye verecektir.
3. Kapitülasyonlardan müttefik devletler yararlanabilecektir.	3. Kapitülasyonlar kesin olarak kaldırılacaktır.
4. Türk ordusundaki asker sayısı ile savaş teçhizatı sınırlandırılacaktır.	4. Boğazların her iki yakası askerden arındırılacaktır. Bunun dışında orduyla ilgili hiçbir sınırlama getirilmeyecektir.

Sevr ve Lozan Barış antlaşmalarının tablodaki maddeleri karşılaştırıldığında Lozan Barış Antlaşması ile;

- I- toprak
- II- egemenlik
- III- bağımsızlık
- IV- haberleşme

alanlarından hangilerinde kazanım elde edildiği söylenebilir?

- A) Yalnız II
- B) I - III
- C) I - III - IV
- D) I - II - III

10.



Şemadaki (?) ile belirtilen yer, aşağıdaki kavramlardan hangisiyle isimlendirilebilir?

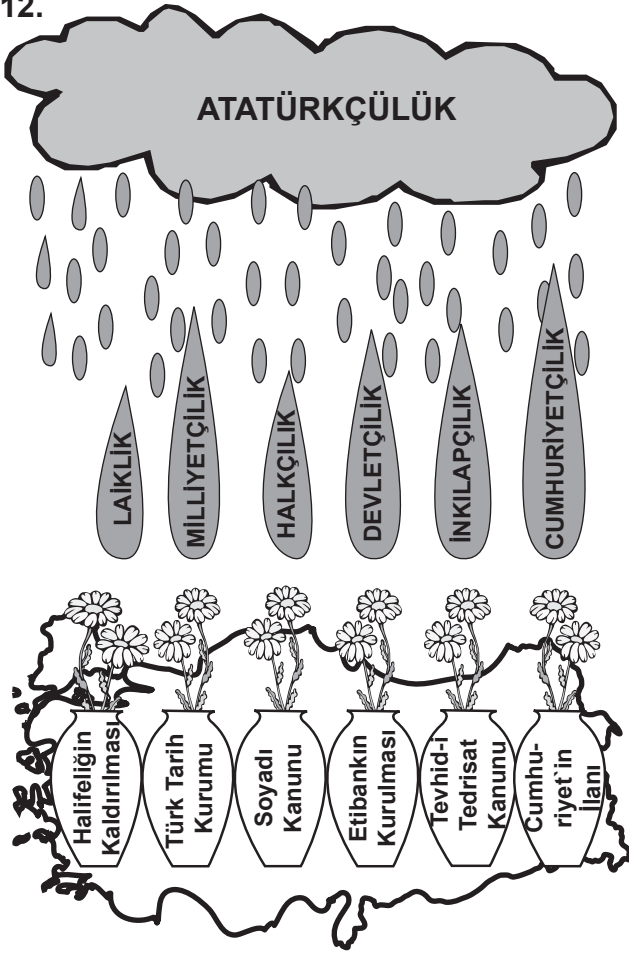
- A) Demokratikleşme
- B) Millî egemenlik
- C) Çağdaşlaşma
- D) Millî bağımsızlık

11. İtilaf Devletleri, Lozan Barış Konferansı'na TBMM Hükûmeti ile birlikte Osmanlı Hükûmetini de çağırdılar. Böylece Türk tarafını ikiye bölerek zayıf düşürmek ve kendi çıkarlarını daha kolay elde etmek düşüncesinde idiler. İtilaf Devletleri'nin bu tutumu, Osmanlı Hükûmetinin de konferansa katılmaya istekli oluşu TBMM Hükûmetini harekete geçirdi. İtilaf Devletleri'nin oyununa gelmemek için TBMM Hükûmeti 1 Kasım 1922'de saltanatı kaldırdı.

Aşağıdakilerden hangisi TBMM Hükûmetinin İtilaf Devletleri'ne karşı izlediği bu politikanın sonucu olamaz?

- A) Din ve devlet işleri tek bir makamın elinde toplanmıştır.
- B) Ülkede iki ayrı yönetimin bulunmasına son verilmiştir.
- C) Ulusal egemenliğin sağlanması yolunda önemli bir adım atılmıştır.
- D) İtilaf Devletleri'nin ikilik çıkarma planları sonuçsuz kalmıştır.

12.




Verilen görselden aşağıdaki sonuçlardan hangisi çıkarılamaz?

- A) İnkıpların kaynağı Atatürk ilkeleridir.
- B) Atatürkçülük, Atatürk ilkelerinden oluşan bir düşünce sistemidir.
- C) Atatürkçülükte güçler birliği ilkesi esas alınır.
- D) Atatürk ilkeleri uygulanabilir özelliğe sahiptir.

13.

1919 yılı Mayısında Samsun'a çıktığım gün elimde, maddi hiçbir kuvvet yoktu. Yalnız büyük Türk milletinin asaletinden doğan ve benim vicdanımı dolduran yüksek ve manevi bir kuvvet vardı. İşte ben bu millî kuvvete, bu Türk milletine güvenerek işe başladım.



Mustafa Kemal'in konuşmasında vurguladığı millî güç unsuru aşağıdakilerden hangisidir?

- A) Siyasi güç
- B) Sosyokültürel güç
- C) Ekonomik güç
- D) Askerî güç

14. Halkçılık ilkesine göre, millî egemenliğin dayanağı halktır. Halk, ülke yönetimine katılabilir. Kanun önünde tüm vatandaşlar aynı haklara sahiptir. Hiçbir kişiye, aileye, zümreye veya sınıfa ayrıcalık tanınmaz.

Buna göre;

- I- toplumda ayrıcalık ifade eden unvanların kaldırılması
- II- kadınlara milletvekili seçme ve seçilme hakkının tanınması
- III- medreselerin kapatılması
- IV- saltanatın kaldırılması

İnkıplarından hangilerinin halkçılık ilkesi doğrultusunda yapıldığı söylenebilir?

- A) Yalnız II
- B) Yalnız IV
- C) I - III
- D) I - II - IV

15. Atatürkçü düşüncede millî dış politikanın ilkelerinden bazıları şunlardır:

- Millî sınırlarımız içinde kalmak
- Gerçekleştiremeyeceğimiz emeller peşinde koşmamak
- Uluslararası ilişkilerde, eşitliğe dayanan karşılıklı dostluklar ve ittifaklar kurmak
- Dış politikada bilim ve teknolojiyi yol gösterici olarak kullanmak

Verilen ilkelere göre, Atatürk'ün dış politika anlayışı hakkında aşağıdakilerden hangisi söylenemez?

- A) Gerçekçidir. B) Yayılımacıdır.
C) Barışçıdır. D) Akılcıdır.

16. İkinci Dünya Savaşı sırasında ülkemizde;

- ekmek karnesi uygulaması başlatıldı.
- radyo yayınlarında kesinti yapıldı.
- İstanbul'da özel otomobillerin trafiğe çıkması yasaklandı.

Bu uygulamalara göre, ülkemizde İkinci Dünya Savaşı'nın olumsuz etkilerinin aşağıdakilerden hangisinde görüldüğü söylenemez?

- A) Tüketimde B) Haber almada
C) Seyahat etmede D) Yerleşmede

DİN KÜLTÜRÜ VE AHLAK BİLGİSİ DERSİNİ OKUYANLAR AŞAĞIDAKİ SORULARI CEVAPLAYACAKLAR. OKUMAYANLAR BUNUN YERİNE AYNI NUMARALI SOSYAL BİLGİLER SORULARINI CEVAPLAYACAKLAR.

17.

HAC	UMRE
İmkânı olana ömründe bir kez yapması farzdır.	Sünnettir.
Ay takvimine göre zilhicce ayının 9 ve 10. günlerinde yapılır.	Yıl içinde birden fazla ve istenen herhangi bir zamanda yapılabilir.
İhram, vakfe, tavaf, sa'y, şeytan taşlama ve kurban vardır.	İhrama girip sadece Kabe'yi tavaf ve sa'y ile yerine getirilir.

Bu tabloya göre, aşağıda söylenenlerden hangisi yanlıştır?

- A) Ayça: İmkânı olan kimsenin hac yapması, umre yapmasından daha önemlidir.
B) Beyhan: Mekke`de yaşayanlar yılda iki üç kez hac yapabilirler.
C) Ceyhun: Hem hacda hem de umrede ihrama giriyor, tavaf ve sa'y yapıyoruz.
D) Dilaver: Yalnızca hac sırasında vakfe yapar, şeytan taşlar ve kurban keseriz.

18.



Çocuklar!
Sadaka-i cariye; herkesin yararlanacağı hayır kurumları yaptırmak veya bu kurumların yapımına katkıda bulunmaktır. Bu tür sadakaların sevapları kişi ölse de devam eder. Şimdi buna örnek verelim:

Aşağıdaki öğrencilerden hangisinin verdiği örnek, öğretmenin açıklamasına uygundur?

A)



Bir yoksulun giyecek ihtiyacını karşılamak

B)



Bayramda huzurevinde kalan yaşlıları ziyaret etmek

C)



Hastanede tedavi olan hastaları ziyaret etmek

D)



Yoksul ve kimsesiz çocukların barınacağı yurtlar yapmak

19. Mehtap ve arkadaşları araştırmaları sonucunda dinin evrensel bir gerçeklik olduğu fikrine vardılar. Onlardan hangisinin dile getirdiği görüş, bu fikri kanıtlamaz?

- A) Ayşe: Binlerce yıldır insanların okuduğu ilahî kitaplar, dinin insanlık tarihi ile başladığını bildirir.
B) Baha: Farklı coğrafyalarda ortaya çıkmış dinlerde ortak yönler bulunmaktadır.
C) Can: Her din insanlara nelere inanmaları gerektiği konusunda farklı görüşler ortaya koyar.
D) Dilara: Eski yerleşim yerlerinde yapılan kazılarda pek çok tapınak ve dinî sembole rastlanmıştır.

20. Sultan, aşağıdaki resmi çizerek İslam düşüncesinde ortaya çıkan yorumları gökkuşağını oluşturan renklerle anlatmıştır. Bu benzetmedeki ana fikir aşağıdakilerden hangisidir?



- A) İslam düşüncesinde görülen farklı anlayışlar birer zenginliktir.
B) İslam dini, hoşgörü ve düşünce özgürlüğüne önem verir.
C) Toplumsal değişim, insanların İslam'ı anlama biçimlerini etkiler.
D) İslam, insanı inanç, ibadet ve ahlak konularında bilgilendirir.

DİN KÜLTÜRÜ VE AHLAK BİLGİSİ DERSİNİ OKUMAYANLAR AŞAĞIDAKİ SOSYAL BİLGİLER SORULARINI CEVAPLAYACAKLAR.

17. Mondros Ateşkes Antlaşması'ndan sonra İtilaf Devletleri yurdumuzu işgal etmeye başladılar. İşgaller karşısında hiçbir harekette bulunmayan İstanbul Hükûmeti, ülkeyi içinde bulunduğu kötü durumdan kurtarmaya yönelik çalışmalarda da bulunmuyordu. İstanbul Hükûmeti, Anadolu'ya sadece nasihat heyetleri göndererek halkı, işgaller karşısında sükûnete davet ediyor, İtilaf Devletleri'ne silahla karşı konulmamasını istiyordu.

Buna göre, İstanbul Hükûmetinin işgaller karşısında izlediği politika;

- I- mücadelecidir.
II- duyarsızdır.
III- çekingendir.
IV- teslimiyetçidir.
V- milliyetçidir.

yargılarından hangileriyle açıklanabilir?

- A) I - II - III
B) II - III - IV
C) I - III - V
D) I - II - IV - V

18. 5 Aralık 1934 tarihinde kabul edilen yasa ile Türk kadınına milletvekili seçme ve seçilme hakkı tanınmıştır.

Bu durumun aşağıdakilerden hangisine katkı sağladığı söylenemez?

- A) Demokrasinin gelişmesine
- B) Kadın erkek eşitliğine
- C) Kadınların devlet yönetimine katılmasına
- D) Din ve vicdan özgürlüğünün sağlanmasına

19. Atatürk, inkılaplarını gerçekleştirirken Batılı ülkelerin sahip olduğu kurumları Türkiye’de de oluşturmaya çalışmıştır. Ancak bunu yaparken Batıyı ve Batılı kurumları taklit etmemiş, sadece örnek almıştır. Örnek aldığı kurumların Türk milletine uygun olmasına özen göstermiştir.

Buna göre Atatürk, inkılaplarını yaparken daha çok aşağıdakilerden hangisine önem vermiştir?

- A) Akla ve mantığa uygun olmasına
- B) Halkın desteğini almış olmasına
- C) Millî karaktere uygun olmasına
- D) Din ve vicdan özgürlüğünü sağlamasına

20.

TARİHİ	BULUNDUĞU YER	BULUNMA SEBEBİ
1993	Bosna-Hersek	Bosna-Hersek halkının uğradığı zulüm
1999	Kosova	Kosova’da yaşanan krizin silahlı çatışmaya dönüşmesi
2002	Afganistan	Afganistan’daki kargaşa ortamı
2006	Lübnan	Lübnan’daki iç savaş

Türkiye, yukarıdaki tabloda adı geçen yerlere asker göndermekle aşağıdakilerden hangisini amaçlamış olabilir?

- A) Dünya barışına katkıda bulunmayı
- B) Türkiye’yi gittiği ülkelere tanıtmayı
- C) Kendi kültürel değerlerini yaymayı
- D) Uluslararası ticareti geliştirmeyi

**SOSYAL BİLGİLER TESTİ BİTTİ.
YABANCI DİL TESTİNE GEÇİNİZ.**

BU GRUPTAKİ SORULAR YABANCI DİLLERE AİTTİR. OKUDUĞUNUZ YABANCI DİLE AİT SORULARI CEVAPLANDIRINIZ.

İNGİLİZCE

1.- 9. sorularda boş bırakılan yerlere uygun düşün sözcük veya ifadeyi bulunuz.

1. Esen wants to study literature as

- A) she likes reading and writing.
- B) she is interested in science.
- C) she enjoys holidays.
- D) she is good at music.

2. Burak: It's important to be sympathetic to people.

Ceren: I agree with you.

- A) I don't think so!
- B) That is not right!
- C) Absolutely!
- D) What a shame!


3. Gül : I have been very busy lately and I hate doing housework.

Mehmet : Don't worry! I'll help you.

Gül : Really?

- A) What a pity! Poor you!
- B) I'm sorry, I can't.
- C) That's an awful offer, isn't it?
- D) Ah, that's very kind of you!

4.



Serhat hasn't yet.


- A) made his bed
- B) put the rubbish out
- C) fed the family pet
- D) bought some flowers

5.



- A) sunburn
- B) sun rays
- C) sun cream
- D) sunglasses


6. Melda is a thirteen year old girl. This is her photo album:



She's never

- A) driven a car.
- B) been abroad.
- C) eaten Chinese food.
- D) seen a tiger.

7.



Çağatay prefers to visiting museums.

- A) mountain biking
- B) horse riding
- C) windsurfing
- D) parasailing

8.



- A) friendly
- B) tactful
- C) noisy
- D) punctual


9.



- A) You're joking!
- B) That's incredible!
- C) You look terrible!
- D) See you later!

10. "Their father and stepmother leave Harry and Sally alone in the forest. There they see a little house. The owner of the house is an old witch ..."


Yukarıda bir bölümü verilen hikâyenin kitap kapağı olabilecek seçeneği işaretleyiniz.



11.


	TO DO LIST
Ali	do the shopping
Bülent	make breakfast
Özkan	do the washing up
Burak	take the dog for a walk

Yukarıda verilen tabloya bakarak Ali'nin bulunduğu resmi işaretleyiniz.



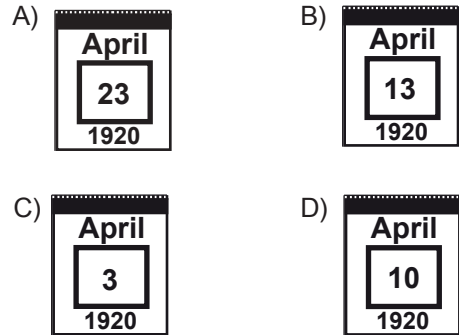
12. Konuşma balonunda verilen ifadeye uygun gelen resmi işaretleyiniz.

In my dream last night, I was playing at an amusement park.

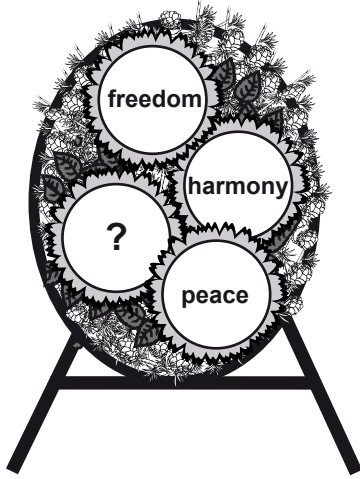


13. M. Kemal Atatürk opened the Turkish Grand National Assembly on the twenty-third of April 1920.

Hangi takvim yaprağı yukarıda anlatılan olaya aittir?



14.



Barış çelenginin tamamlanması için soru işaretiyle gösterilen yere hangi çiçek getirilmelidir?

- A) B)
 C) D)

15. Someone stole a computer from Cumhuriyet Primary School yesterday. At the crime scene the police found some footprints. The thief was wearing trainers. They also found a black crayon. Who do you think stole the computer?

- A) B)
 C) D)

16. Sibel has a good sense of humour. She likes listening to jokes. Who can tell jokes for Sibel?

- A) B)
 C) D)

17.

Where should I put these empty milk bottles to recycle them?



- A) B)
 C) D)

ALMANCA

1.- 11. sorularda boş bırakılan yerlere uygun düşen sözcük veya ifadeyi bulunuz.

1.



- A) mir B) dir C) ihm D) ihr

2.



- A) unter B) über C) auf D) ins

3.

Name : Hans Müller
 Wohnort : Hannover
 Geburtsdatum : 1.12.1980
 Geburtsort : Niedersachsen
 Nationalität : Deutsch
 Familienstand : Verheiratet
 Schulische Ausbildung: Volksschule,
 Welsede
 Mittelschule,
 Hannover.

Otto : Was ist das?

Walter: Das ist

- A) Brief B) Landkarte
 C) Tagesprogramm D) Lebenslauf

4. Müller: Warum fährst du nach Frankfurt?

Ahmet: Ich fahre nach Frankfurt,
 ich dort Deutsch lernen kann.

- A) sondern B) damit
 C) denn D) als

5.

8⁰⁰ Frühstück
 9⁰⁰ Sport und Umwelt
 9³⁰ Folklore
 11⁰⁰ Freizeit - Schwimmen
 12⁰⁰ Mittagessen - Freizeit
 17³⁰ Abendessen
 19⁰⁰ Freizeit
 22⁰⁰ Gute Nacht!

Hans : Was ist das?

Walter: Das ist

- A) Stundenpläne.
 B) Essen und Trinken.
 C) ein Tagesprogramm.
 D) ein Tagesbuch.


6.



Peter ist größer und älter Bora.

- A) als B) genau
C) so D) wie

7.



- A) -er / auf B) -e / für
C) auf / über D) -es / über

8. Atatürk wurde 1881 in Saloniki
Er ist am 10 November 1938

- A) gestorben / geboren
B) gewesen / geworden
C) geworden / besucht
D) geboren / gestorben

9. Sie spielen gern auf einer Straße,
ruhig ist.

- A) der B) das C) die D) den

10. Er lässt einen Brief

- A) schreiben B) fahren
C) umsteigen D) bauen

11. Er freut sich darauf, er nach Deutschland fährt.

- A) ob B) daß C) oder D) damit

12. Aşağıda verilen sıfatlardan hangisinin zıt anlamı yanlış verilmiştir?

- A) kalt x warm B) schön x schlecht
C) klein x hell D) fleißig x faul

13.

schnell

fleißig

kurz

lachen

sagen

lesen

finden

Tanja

Monika

Petra

Inge

Yukarıda karışık verilen sözcüklerden sadece fiillerin geçtiği doğru seçenek hangisidir?

- A) lachen / sagen / lesen / finden
 B) schnell / fleißig / Tanja / sagen
 C) Monika / Petra / lachen / kurz
 D) lesen / Petra / finden / Inge

14. Aşağıdaki seçeneklerin hangisinde verilen sıfatın komperativ çekimi yanlış verilmiştir?

- | | <u>Positiv</u> | <u>Komperativ</u> |
|----|----------------|-------------------|
| A) | gern | lieber |
| B) | viel | mehr |
| C) | gut | guter |
| D) | schön | schöner |

15. Aşağıdakilerden hangisinde anlam yönünden aynı tür sözcükler bir arada verilmiştir?

- A) Deutsch, Sport, Zeugnis, gut.
 B) Teuer, hoch, viel, fahren.
 C) Der Löwe, die, Maus, lachen, schnell.
 D) Wolfgang, Peter, Dieter, Klaus.

16. Aşağıda verilen sözcüklerden hangisi diğerlerinden farklıdır?

- A) größer
 B) Fahrer
 C) teurer
 D) besser

17. Peter / in / heute / fährt / den Wald

1 2 3 4 5

Kurallı bir cümle yapınız.

- A) 1 / 4 / 3 / 2 / 5
 B) 5 / 2 / 4 / 1 / 3
 C) 1 / 2 / 4 / 5 / 3
 D) 2 / 1 / 4 / 3 / 5

FRANSIZCA

1.- 9. sorularda boş bırakılan yerlere uygun düşün sözcük veya ifadeyi bulunuz.

1. Selin et Ecem sont à Ankara.

- A) néés
 B) né
 C) nés
 D) née

2. Je connais un enfant joue du piano.

- A) où
 B) que
 C) qui
 D) quoi

3. Je à 7 heures. Je mon petit déjeuner tout de suite.

- A) se lève / prends
 B) se lève / ai pris
 C) te lève / ai pris
 D) me lève / prends

4. A: Qu'est-ce que tu manges au dîner?

B: Je mange pain et viande.

- A) de / du
 B) du / de la
 C) de la / de
 D) du / de

5.



....., j'ai fait du ski.

....., je joue au tennis.

- A) Maintenant / Hier
 B) Demain / Maintenant
 C) Hier / Aujourd'hui
 D) Aujourd'hui / Hier

6.



- A) Elle demande si nous avons fait nos devoirs.
- B) Elle dit de faire les devoirs.
- C) Elle nous dit que nous devons faire nos devoirs.
- D) Elle a fait ses devoirs.

7.



- A) celle-là
- B) celui-là
- C) ceux-là
- D) celles-là

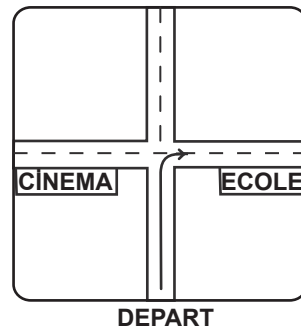
8.



Monsieur Legrand lit son journal de la musique.

- A) en lisant
- B) en chantant
- C) en regardant
- D) en écoutant

9.



Il faut pour aller à l'école.

- A) aller tout droit
- B) continuer tout droit
- C) tourner à droite
- D) tourner à gauche

10.




Serdar

Gérard

Resme göre aşağıdaki ifadelerden hangisi doğrudur?

- A) Serdar boit autant d'eau que Gérard.
- B) Serdar boit moins d'eau que Gérard.
- C) Gérard boit plus d'eau que Serdar.
- D) Gérard boit moins d'eau que Serdar.


11.



Bahçede oynayan çocuklardan hangisi konuşmasında (impératif) emir cümlesi kullanmıştır?

- A) Sylvie B) Alain C) Marie D) Jean

12.



Elif

Resme göre Elif' in ileride yapmak istediği meslek hangisidir?

- A) Dentiste B) Médecin
- C) Journaliste D) Mécanicien


13.



Verilen cümlede boş bırakılan yere uygun düşen sözcüğün bulunduğu elma parçasını işaretleyiniz.

- A) pomme B) raisin C) orange D) poire

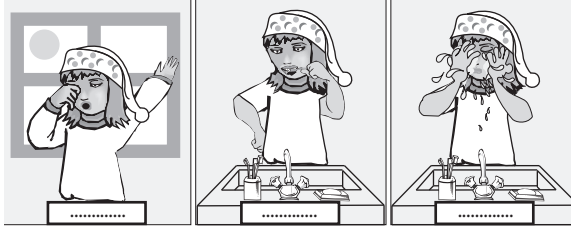
14.



Konuşma balonundaki boşluğa aşağıdaki seçeneklerden hangisi getirilemez?

- A) Je n'aime pas le café.
- B) Je déteste le café.
- C) J'aime beaucoup le café.
- D) Je ne veux pas de café.

15.



1

2

3

Resimdeki çocuğun yaptığı günlük işlere göre boş bırakılan kutucuklara sırasıyla hangi sözcükler getirilmelidir?

1	2	3
A) Après	D'abord	Enfin
B) Après	Enfin	D'abord
C) Enfin	D'abord	Après
D) D'abord	Après	Enfin

16.



Pourquoi il est gros?

- A) Parce qu'il nage beaucoup.
- B) Parce qu'il mange beaucoup.
- C) Parce qu'il court beaucoup.
- D) Parce qu'il marche beaucoup.

17. Où est-ce qu'elle a mal?



- A) Elle a mal au genou.
- B) Elle a mal aux dents.
- C) Elle a mal à la tête.
- D) Elle a mal au bras.

İTALYANCA

1. Carlo a Roma fino a 1998, al momento a Torino ma per il suo lavoro lavorare all'estero l'anno prossimo.

Yukarıda verilen boşluklar doğru zamanda hangi seçenikle doldurulmalıdır?

- A) è vissuto / sta / dovrà
- B) viveva / stia / doverà
- C) viveve / stia / doverà
- D) é visto / sta / dovrà

2. Aşağıdaki cümlelerden hangisi yanlıştır?

- A) Non ho dormito ieri notte.
- B) Non ti hanno detto niente?
- C) Sei mai stata in Italia, Roberto?
- D) Quando sei andato in Italia, Franco?

3. Se abbastanza soldi, dove in questi giorni, Gabriele?

cümlesindeki boşluklar aşağıdakilerin hangisinde doğru verilmiştir?

- A) avesse / andrebbe
- B) tu avessi / andrebbe
- C) tu avresti / andassi
- D) tu avessi / andresti

4. Aşağıdaki cümlelerden doğru olan seçeneği bulunuz.

- A) Mentre camminavamo, abbiamo incontrati Giulia
- B) Mentre camminavamo, abbiamo incontrato Giulia
- C) Quando abbiamo camminati, abbiamo incontrato Giulia
- D) Mentre abbiamo camminato, abbiamo incontrato Giulia

5. Paola :Chi cerchi,Franco?

Franco :Cerco la ragazza è uscita poco fa.

Yukarıdaki boşluğa hangi bağ fiil gelmelidir?

- A) chi
- B) con chi
- C) che
- D) il quale

6. Fa tre giorni Antonella sposterà ma non capisco perché non è ancora felice?

Cümlesinde yanlış kullanılan kelime, aşağıdakilerden hangisidir?

- A) fa
- B) felice
- C) sposterà
- D) é

7. Gramsci bulvarından kütüphaneye gitmek için izlenecek en doğru yol aşağıdakilerden hangisidir?



A: Scusi,mi sa dire dov'è la Biblioteca Comunale?

- A) -Certo, prima cammini diritto fino al primo incrocio e poi giri a sinistra, faccia cento metri e vedrà la biblioteca comunale
- B) -Certo, prima cammini diritto, giri a sinistra, cammini un pò, proprio davanti all'ufficio postale troverà la biblioteca comunale.
- C) -Certo, prima vada diritto fino al primo incrocio, giri a destra e poi cammini diritto, è vedrà la biblioteca comunale.
- D) -Certo,prima cammini diritto e giri a destra, vada diritto e vedrai Viale Bassi,da lì giri a sinistra.Non vada troppo avanti,circa cento metri la biblioteca comunale

A: Grazie
B: Di niente.

8. “Se Lei vuole stare bene, le medicine che ho dato” cümlesi emir kipi anlamı için aşağıdaki seçeneklerden hangisiyle doldurulmalıdır?



- A) prendè
B) prende
C) prenda
D) prendi

9. Elena : Quest'estate vado in Italia.
Severio : Non ci sei stato prima?
Elena : I miei genitori ci sono andati due Ma io, no.

Boşlukları doldurunuz.

- A) mai / volta
B) ormai / giorni
C) mai / volte
D) ormai / volta

10. Diyalogu tamamlayınız.

Peppino : non andiamo al concerto stasera?
Angela : A dire la verità non mi di uscire stasera.

- A) perchè / va
B) perchè / vada
C) se / va
D) come / va

11. Aşağıdaki cümleyi tamamlayınız.

Quello è stato momento bello mia vita.

- A) un / piu' / della
B) il / piu' / della
C) il / meno / nella
D) un / piu' / nella

- 12.



Aşağıdaki diyalogu tamamlayınız.

Silvio : Pronto?
Ignazio : Ciao Silvio! Sono Ignazio. Senti, devo dartinotizia. Sei occupata?
Silvio : No, no. Dimmi! Anchi'o ho sentitocose. Le notizie sull'esame, no?
Ignazio : Si, e' vero. Hanno cancellato l'esame scritto. Quindi, dobbiamo fare l'esame orale!
Silvio : Si, lo so! Non posso capire mai.....professori!

- A) alcuno / qualche / qualche
B) qualche / alcuni / qualche
C) qualche / alcune / alcuni
D) alcuni / qualche / alcune

13.



Diyaloğu tamamlayınız.

Cliente : Buongiorno.
Commessa : Buongiorno,?
Cliente : Cerco le scarpe con i tacchi.
Commessa : come?
Cliente : Sono proprio belle. E quanto?
Commessa : 100 euro.

- A) desidera / sono queste / costano
 B) desidera / sono questi / costano
 C) desidera / sono questi / costa
 D) desidera / è questo / costa

14. Aşağıdaki cümleleri tamamlayınız.

Ho finito leggere il libro mi hai regalato.

- A) a / che
 B) per / chi
 C) di / che
 D) di / chi

15. Diyalogu uygun fiillerle doldurunuz.

Cristina : Sai cosa ho fatto ieri? ho telefonato al mio ex ragazzo!
Nadia : Ma, no! Perché? Io al posto tuo, noncon lui mai!
Cristina : Però mi piace sentire la sua voce ancora.
Nadia : A causa di lui hai sofferto un sacco!
Cristina : Va bene. Hai ragione. Non lo..... di nuovo!

- A) parlo / chiamerò
 B) parlerei / chiamo
 C) parlerai / chiamerei
 D) parlerei / chiamerò

16. Diyalogu tamamlayınız.

Tommaso : Stasera posso invitarti a cena?
Giulia : No, non, ho tante cose da fare.

- A) mi piace / puoi accettare
 B) mi dispiace / posso venire
 C) ti dispiace / posso venire
 D) ti piace / puoi accettare

17. Diyalogu tamamlayınız.

Carla : Ho visto la ragazza di Maurizio!
Paola : ah, si? Come è?
Carla : Prima di vederla mi più giovane e simpatica. Ma in realtà non è così.

- A) sembrava
 B) piaceva
 C) vedeva
 D) sentiva

**TEST BİTTİ.
 CEVAPLARINIZI KONTROL EDİNİZ.**

TÜRKÇE	MATEMATİK	FEN ve TEKNOLOJİ	SOSYAL BİLGİLER	YABANCI DİL
1. C	1. C	1. C	1. B	1. A
2. A	2. D	2. B	2. A	2. C
3. D	3. A	3. D	3. D	3. D
4. C	4. B	4. A	4. B	4. B
5. B	5. D	5. A	5. A	5. C
6. D	6. A	6. D	6. B	6. A
7. B	7. B	7. C	7. B	7. B
8. A	8. D	8. B	8. D	8. D
9. D	9. A	9. D	9. D	9. C
10. C	10. B	10. A	10. C	10. A
11. A	11. C	11. C	11. A	11. B
12. B	12. B	12. B	12. C	12. C
13. B	13. B	13. D	13. B	13. A
14. C	14. C	14. C	14. D	14. C
15. A	15. D	15. B	15. B	15. D
16. C	16. C	16. A	16. D	16. B
17. B	17. B	17. C	17. B	17. A
18. A	18. A	18. A	18. D	
19. C	19. C	19. B	19. C	
20. C	20. D	20. D	20. A	
21. A				
22. D				
23. D				

Soracağınız bir şey var mı? Varsa, şimdi sorunuz; sınav başladıktan sonra sorularınıza cevap verilmeyecektir. Hazır mısınız? Sınav, okulun bütün salonlarında aynı anda başlayacağı için başlama zili ni beraberce bekleyelim. Hepinize başarılar dileriz.

(Salon başkanı başlama ve bitiş saatini tahtaya yazacaktır.)

Bu kitapçığın her hakkı saklıdır. Hangi amaçla olursa olsun, kitapçığın tamamının veya bir kısmının Millî Eğitim Bakanlığı Eğitim Teknolojileri Genel Müdürlüğünün yazılı izni olmadan kopya edilmesi, fotoğraflarının çekilmesi, bilgisayar ortamına alınması, herhangi bir yolla çoğaltılması, yayımlanması veya başka bir amaçla kullanılması yasaktır. Bu yasağa uymayanlar, doğabilecek cezai sorumluluğu ve kitapçığın hazırlanmasındaki mali külfeti peşinen kabullenmiş sayılır.