

TÜRKÇE TESTİ

Lâle, Türk kültüründe önemli yeri olan güzel bir çiçektir. O, yalnız bahçelerde yetiştirilmekle kalmamış; kumaşlardan işlemelere, örtülere, halılardan tahta, deri, sedef ve taş işlerine kadar her yerde süsleme unsuru olarak kullanılmıştır. Özellikle çinilerdeki lâle motifleri, çiçek zevki ve lâle sevgimizin ölümsüzlüğünü gösteren zarif belgelerdir.

(1. ve 2. sorular paragrafa göre cevaplandırılacaktır.)

1. Paragrafın konusu nedir?
A) Türk kültüründe süslemenin önemi
B) Süsleme sanatında lâlenin yeri
C) Lâlenin eskiden beri yetiştirildiği
D) Çiniciliğimizde lâle motifleri
2. Paragrafta, lâle ile ilgili olarak aşağıdakilerin hangisinden söz edilmemiştir?
A) Süs bitkisi olarak kullanıldığından
B) Çok kullanılan bir motif olduğundan
C) Türk zevkini simgelediğinden
D) Tarihi belge niteliği taşıdığından
3. Aşağıdakilerin hangisinde büyük sesli uyumu kuralına uymayan bir kelime vardır?
A) Sabahtan beridir ince bir yağmur
B) Yağıyor soğuk bir sisle karışık
C) Kafesler kapanmış, sokaklar çamur
D) Dışarda ne bir ses, ne de bir ışık
4. "Yeni" kelimesi, aşağıdaki cümlelerin hangisinde "biraz önce" anlamında kullanılmıştır?
A) Başarılı olmak için yeni yayınları da takip etmelisin.
B) Eski dostlarını unutma, fakat yeni dostlar edinmekten de korkma.
C) Şair, yeni şiirlerinde sosyal konulara ağırlık vermiş.
D) İstasyona yeni gelen tren, hemen hareket etti.
5. Aşağıdaki cümlelerden hangisinin ögeleri, "özne-dolaylı tümleç-yüklem" şeklinde sıralanmıştır?
A) Bu şekilde giyinmek size yakışıyor.
B) Dalgalar sandalımızı kıyıya attı.
C) Sizi dün den beri telefonla arıyoruz.
D) Ağaçların yaprakları günden güne sarıyor.

Bu gün pazar. Okul yok. Birkaç günden beri yağın yağmur bu sabah durdu. Sonbahar dışarda son bir ayrılık şenliği yapıyor. Uzaktaki sıra dağlar, sazlıklardaki sular, güneşe karşı gülümsüyor. Selvilerde, siyah mezar taşlarında bile gizli bir gönül sevinci var. Kalbimi derin derin yokluyorum. Görüyorum ki alışmaya, hatta bu karanlık ve can sıkıcı memleketi biraz da sevmeye başladım.

6. Parçanın yazarı için aşağıdakilerden hangisi söylenebilir?

A) Neşeli
B) İyimser
C) Uysal
D) Heyecanlı

Kirazın derisinin altında kiraz,
Narın içinde nar,
Benim yüreğimde boylu boyunca
Memleketim var.
Canıma, ciğerime dek işlemiş,
Canıma ciğerime...

7. Yukarıdaki şiirin konusuna göre türü nedir?

A) Didaktik
B) Pastoral
C) Epik
D) Lirik

8. "Dil, kültürün olduğuna göre, bir milletin dil ile ettiği sözlü, yazılı her şey kültür kavramına girer." cümlesini anlamıca tamamlamak için boş bırakılan yerlere aşağıdakilerden hangisi getirilmelidir?

A) temeli - ifade
B) ögesi - kabul
C) desteği - tespit
D) kaynağı - temsil

9. Aşağıdaki cümlelerin hangisinde, "belli etmeden dinlemek" anlamında bir deyim kullanılmıştır?

A) Kulağı tetikte radyo haberlerini bekliyordu.
B) Hem çalışıyor hem de konuşulanlara kulak kabartıyordu.
C) Misarifimizin anlattıklarına kulak kesilmişti.
D) Babam konuşmaya başlayınca herkes kulak verdi.

10. "Söz veriyse mutlaka gelir." cümlesine altı çizili sözün kattığı anlam aşağıdakilerden hangisinde vardır?

A) Doktorun hemen gelmesi istendi.
B) Bu ilacı kesinlikle kullanmalısın.
C) Hasta gelir gelmez ameliyata alındı.
D) Buradaki işimiz çabuk biter.

TÜRKÇE TESTİ

11. "Etmek" yardımcı fiili, aşağıdaki kelimelerin hangisi ile kullanıldığında ayrı yazılır?

- A) His
B) Sabır
C) Rica
D) Hapis

12. "Gelecek yıl sonunda kardeşimle birlikte birçok sınava gireceğiz." cümlesinde, aşağıdaki kelimelerden hangisi gereksizdir?

- A) gelecek
B) sınava
C) birçok
D) birlikte

13. Hangi cümlede benzetme vardır?

- A) Çocuk uyandığı gibi dışarı fırladı.
B) Kardeşim geldiği gibi gitti.
C) Davetsiz misafir gibi ortada kaldı.
D) Kitapları okuduğu gibi gerekli notları da çıkardı.

14. Hangisi soru cümlesidir?

- A) Bu ağaçların nasıl yetiştirildiğini biliyorsunuz
B) Neler söylediğimi bir hatırlayabilsem
C) Onlar niçin böyle uzak duruyorlar
D) Hangi gömleği alacağına karar ver

Burda güneş
Orda yağmur
Güneşte de güzel dünya
Yağmurda da
Şükürler olsun Tanrım
Şükürler olsun sana
Verdiğin hayat pırlı pırlı

(15. ve 16. sorular şiire göre cevaplandırılacaktır.)

15. Şiirin teması nedir?

- A) Doğa sevgisi
B) Mutluluk özlemi
C) Tanrı sevgisi
D) Yaşama sevinci

16. Şair için aşağıdakilerden hangisi söylenemez?

- A) Kanaatkâr
B) İyimser
C) Meraklı
D) Huzurlu

17. Hangi cümlenin yüklemi dönüşlü bir fiildir?

- A) Kardeşim birden bire karşıma dikildi.
B) Çocuk tabaktaki meyveleri yedi.
C) Ev sahibi bizi kapıya kadar geçirdi.
D) Annesi bize pencereden el salladı.

18. Aşağıdaki kelimelerle anlam ilişkisi bakımından üçlü bir grup oluşturulduğunda hangisi dışta kalır?

- A) Yiğit
B) Mert
C) Hırçın
D) Cesur

Bir dünya düşünürüm:
Öylesine günlük güneşlik,
Orada her şey iyilik, güzellik, dostluk
üstüne...

Bir dünya düşünürüm bir dünya
Aklın aydınlığında
Duygunun selinde yıkanmış.

19. Şiire hâkim olan duygu nedir?

- A) Özlem
B) Sevgi
C) İmrenme
D) Coşku

20. Aşağıdaki cümlelerden hangisinin öznesi ve yüklemi isim tamlamasıdır?

- A) Yakın dostlarım, bütün kitaplardır.
B) Babamın arabası evin önündeydi.
C) Cebindeki paraların hesabını bilmez.
D) Ayrılık acısı çekilecek dert değil.

21. "Sabah sabah içimde anlayamadığım bir vardı." cümlesinde boş bırakılan yerlere, aşağıdaki kelime çiftlerinden hangisinin getirilmesi uygundur?

- A) derecesini - istek
B) özelliğini - sevinç
C) sebebini - sıkıntı
D) önemini - coşku

22. Aşağıdakilerin hangisinde kelime halinde zamir yoktur?

- A) Bu sorulardan zor olanı hangisidir?
B) Neyi okumam gerektiğini şimdi öğrendim.
C) Artık kime, nasıl davranacağımı bilemiyorum.
D) Hangi romanı okuduğunuzu söyler misiniz?

23. "Penceremi açtığımda patlamış egzoz borusunun sesi yerine, kavak yapraklarının türküsünü dinlemek istiyorum." diyen bir insan için aşağıdakilerin hangisi söylenemez?

- A) Müzik zevkinin gelişmiş olduğu
B) Yeşil bir çevre özlediği
C) Gürültüden uzak yaşamak istediği
D) Çevredeki olumsuzluklardan rahatsız olduğu

TÜRKÇE TESTİ

24. Aşağıdaki cümlelerin hangisinde kişisel görüş söz konusudur?
- A) Roman, edebiyatımıza Batı'dan gelmiş bir türdür.
B) "Yaban", Yakup Kadri Karaosmanoğlu'nun bir eseridir.
C) "Eylül", psikolojik roman türüne girer.
D) "9. Hariciye Koğuşu", Peyami Safa'nın en güzel eseridir.
25. Aşağıdaki cümlelerden hangisi anlamca olumludur?
- A) Gittiği günden beri ne aradı, ne de sordu.
B) Seninle görüşme fırsatı aramadım değil.
C) Buralara geleceğimizi kim biliyordu ki...
D) Güneş henüz toprağı ısıtmış değil.
26. Aşağıdaki cümlelerin hangisinde "-ce" eki, eklendiği kelimeye "göre" anlamı katmıştır?
- A) Bence onun söylediklerini de yabana atmayalım.
B) Düşüncemiz arkadaşlarca kabul edilir mi?
C) Onun sessizce içeri girdiğini görmedim.
D) Önemli işlere ailece karar verilmeli.
27. Aşağıdaki cümlelerin hangisinde soru, bir sıfatla sağlanmıştır?
- A) Ödevini yapmayı nasıl unutursun?
B) Kütüphaneden hangi kitapları aldınız?
C) Kimler benimle top oynamaya gelecek?
D) Gecenin bu saatinde nereye gidiyor?
28. Aşağıdakilerin hangisinden virgül kaldırılırsa cümlenin anlamında değişiklik olur?
- A) Hasta, annesinin kulağına bir şeyler fısıldadı.
B) Eşitlik, demokrasinin temel ögesidir.
C) Araba, büyükçe bir binanın önünde durdu.
D) Annelik, kadınların en güçlü duygusudur.
29. "Tuttuğu yolda ilerlemek isteyen, ağır ağır, güvenilir adımlarla yürümelidir. Acele eden kimse yanılabilir, yolunu şaşırabilir." anlamına gelen atasözü aşağıdakilerden hangisidir?
- A) Ağır kazan geç kaynar.
B) Ağır git ki yol alsın.
C) Ağır basar, hafif kalkar.
D) Ağır yongayı yel kaldırmaz.
30. Aşağıdaki birleşik kelimelerden hangisinin yapılışı diğerlerinden farklıdır?
- A) Uçaksavar
B) Bilgisayar
C) Gecekondu
D) Dedikodu

TÜRKÇE TESTİ BİTTİ.
MATEMATİK TESTİNE GEÇİNİZ.

MATEMATİK TESTİ

1. $A \cap B$ nin alt kümelerinin sayısı 16 dır. A nın 1 tane, B nin de 3 tane elemanı $A \cap B$ nin elemanı olmadığına göre $s(A \cup B)$ kaçtır?
A) 3 B) 4 C) 7 D) 8
2. A ve B iki küme olmak üzere, $s(A)=13$ ve $s(A \cap B)=4$ ise $s(A \setminus B)$ kaçtır?
A) 5 B) 9 C) 10 D) 17
3. $\frac{825}{c46} - \frac{3ab}{c46}$ Verilen çıkarma işlemine göre, $a+b+c$ kaçtır?
A) 9 B) 14 C) 16 D) 20
4. 18 ve 21 ile ayrı ayrı bölündüğünde 5 kalanını veren sayı aşağıdakilerden hangisi olamaz?
A) 126 B) 131 C) 257 D) 383
5. Bir sınıftaki öğrenciler sıralara 2 şer 2 şer oturursa 7 öğrenci ayakta kalıyor. 3 er 3 er oturursa 3 sıra boş kalıyor. Buna göre sınıf mevcudu kaç kişidir?
A) 16 B) 33 C) 39 D) 43
6. $\frac{\frac{1}{2} - 1}{1 - \frac{1}{2}} + \frac{\frac{1}{3} - \frac{1}{4}}{\frac{1}{4} - \frac{1}{3}}$ işleminin sonucu kaçtır?
A) -2 B) -1 C) 1 D) 2
7. 2 kalem 1 defter 3850 lira, 5 kalem 2 defter 8950 lira ve 1 defter 1 silgi 2450 liradır. 1 silgi, 1 defter ve 1 kalem alan öğrenci kaç lira öder?
A) 3450 B) 3600 C) 3700 D) 4050
8. Ali ve Ahmet bir işi birlikte 4 günde yapabiliyor.
Ahmet bu işin $\frac{1}{3}$ ünü 4 günde yaptığına göre
Ali aynı işin $\frac{1}{2}$ sini kaç günde yapar?
A) 3 B) 4 C) 5 D) 6
9. Aşağıdakilerden hangisi sayı ekseninde 0,5 ile 0,8 arasındadır?
A) $\frac{3}{5}$ B) $\frac{1}{2}$ C) $\frac{4}{5}$ D) $\frac{9}{10}$
10. $\frac{\overline{1,3} + 0, \overline{3}}{1, \overline{6}}$ işleminin sonucu kaçtır?
A) 1 B) 2 C) $\frac{1}{2}$ D) $\frac{1}{3}$
11. a ve b iki doğal sayı olmak üzere, $b > a$ ve $b = 7a - 48$ ise a en az kaç olur?
A) 7 B) 9 C) 11 D) 15
12. $|a+1|=8$ ve $|b+1|=4$ ise $a+b$ nin alabileceği en büyük değer kaç olur?
A) 6 B) 8 C) 10 D) 14
13. x ile y doğru orantılı olarak değişmektedir. $x = \frac{1}{5}$ iken $y = 30$ ise $x = \frac{3}{5}$ iken y kaçtır?
A) 60 B) 70 C) 80 D) 90
14. İki doğal sayının kareleri farkı 240 tır. Bu iki sayı arasındaki fark 6 ise büyük sayı kaçtır?
A) 17 B) 19 C) 21 D) 23
15. $(\frac{1-a}{a^4-1} : \frac{a+1}{a^2+1})(a+1)^2$ ifadesinin sadeleştirilmiş şekli aşağıdakilerden hangisidir?
A) 1 B) $\frac{1}{a+1}$ C) -1 D) a-1
16. $\frac{2\sqrt{5} + 3\sqrt{5}}{2\sqrt{5} \cdot \sqrt{25}}$ işleminin sonucu kaçtır?
A) $\sqrt{5}$ B) $\frac{3\sqrt{5}}{5}$ C) 1 D) $\frac{1}{2}$
17. A sınıfındaki öğrencilerin $\frac{1}{4}$ ü B sınıfına geçerse bu iki sınıftaki öğrencilerin sayıları eşit olacaktır. A sınıfındaki öğrencilerin sayısı, B sınıfındaki öğrencilerin sayısının kaç katıdır?
A) 4 B) 2 C) $\frac{3}{4}$ D) $\frac{1}{4}$
18. Bir adam parasının bir kısmını % 60 tan, bir kısmını da % 50 den faize veriyor. Bunlardan bir yıl sonunda toplam 610000 lira faiz alıyor. % 60 tan faize verilen para diğerinden 100000 lira fazla olduğuna göre % 50 den faize verilen para kaç liradır?
A) 400000 B) 500000
C) 600000 D) 700000

MATEMATİK TESTİ

19. $a+b=86$, $b+c=47$ ve $a+c=63$ ise aşağıdakilerden hangisi doğrudur?

A) $c < a < b$ B) $a < b < c$
C) $b < a < c$ D) $c < b < a$

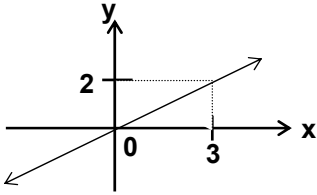
20. $a + \frac{3}{b} = 4$ ve $b + \frac{3}{a} = 12$ ise $\frac{a}{b}$ nedir?

A) $\frac{1}{4}$ B) $\frac{1}{3}$ C) 3 D) 4

21. $(-2,3)$ noktasının $y=1$ doğrusuna göre simetriği olan nokta hangisidir?

A) $(-2, -1)$ B) $(3, 3)$ C) $(-2, 3)$ D) $(2, -3)$

- 22.



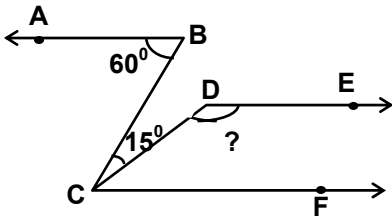
Şekilde grafiği verilen doğrunun denklemi aşağıdakilerden hangisidir?

A) $y = -\frac{3}{2}x$ B) $y = x$
C) $y = \frac{2}{3}x$ D) $y = \frac{3}{2}x$

23. Tabanının bir kenarı 4 cm, yüksekliği 10 cm olan kare prizma şeklindeki bir kutu, silindirik şeklindeki bir kutu içerisine yerleştirilecektir. Silindirik şeklindeki kutunun hacmi en az kaç $\pi \text{ cm}^3$ olmalıdır?

A) 40 B) 60 C) 80 D) 100

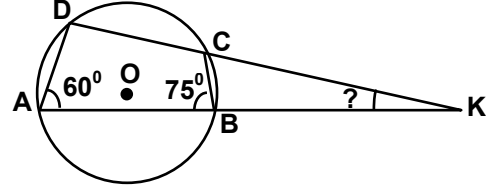
- 24.



Şekilde $[BA \parallel [DE \parallel [CF$, $s(\hat{ABC}) = 60^\circ$ ve $s(\hat{BCD}) = 15^\circ$ ise $s(\hat{CDE})$ kaç derecedir?

A) 120 B) 125 C) 130 D) 135

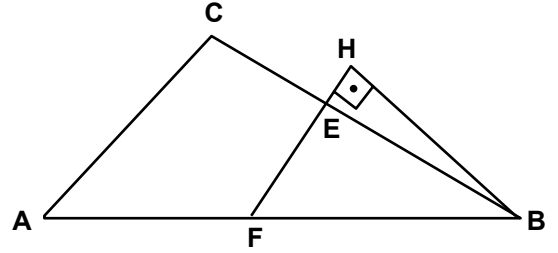
- 25.



Şekilde A, B, C ve D noktaları O merkezli çember üzerindedir. $s(\hat{DAK}) = 60^\circ$ ve $s(\hat{ABC}) = 75^\circ$ ise $s(\hat{AKD})$ kaç derecedir?

A) 10 B) 15 C) 20 D) 25

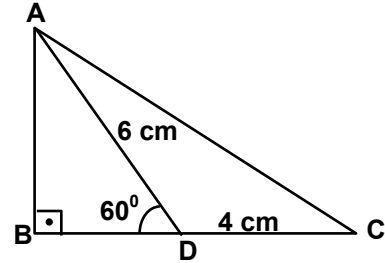
- 26.



Şekilde, $[AC] \parallel [FH]$ ve $[BH] \perp [FH]$ dir. $|BE|=8 \text{ cm}$, $|EC|=4 \text{ cm}$, $|AC|=6 \text{ cm}$ ve $|BH|=5 \text{ cm}$ ise $A(\hat{EFB})$ kaç cm^2 dir?

A) 10 B) 12 C) 16 D) 20

- 27.

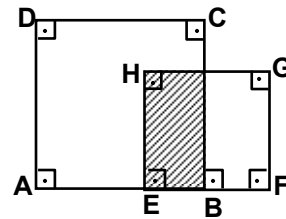


Şekilde $s(\hat{ABC}) = 90^\circ$, $s(\hat{ADB}) = 60^\circ$,

$|AD|=6 \text{ cm}$ ve $|DC|=4 \text{ cm}$ ise $A(\hat{ADC})$ kaç cm^2 dir?

A) 6 B) $6\sqrt{3}$ C) 12 D) $12\sqrt{3}$

- 28.

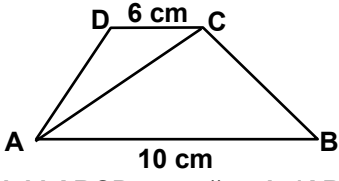


Şekildeki ABCD karesinin alanı 144 cm^2 , EFGH karesinin alanı 81 cm^2 dir. $|AF|=19 \text{ cm}$ ise taralı şeklin çevresi kaç cm dir?

A) 34 B) 28 C) 22 D) 18

MATEMATİK TESTİ

29.



Şekildeki ABCD yamuğunda $|AB|=10$ cm ve $|DC|=6$ cm dir. $A(\triangle DAC) = 12$ cm² ise yamuğun alanı kaç cm² dir?

- A) 48 B) 32 C) 24 D) 18

30. Bir dikdörtgenler prizmasının farklı üç yüzünün alanları sırasıyla 20 cm², 27 cm² ve 50 cm² ise hacmi kaç cm³ tür?

- A) $30\sqrt{30}$ B) 30
C) 20 D) $20\sqrt{10}$

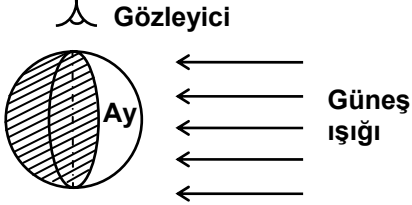
MATEMATİK TESTİ BİTTİ.
FEN BİLGİSİ TESTİNE GEÇİNİZ.

FEN BİLGİSİ TESTİ

1. Sıcaklığı 5000 °C den fazla olduğu hâlde, basıncın çok yüksek olması sebebiyle yapısı katıya yakın olan katman hangisidir?

A) Barisfer B) Litosfer
C) Pirosfer D) Hidrosfer

2.



Şekildeki gözleyici, Ay'ı hangi evrede görür?

A) İlk dördün B) Son dördün
C) Dolunay D) Yeni ay

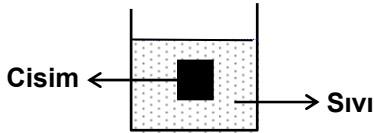
3. Aşağıdakilerden hangisi yükün ortada olduğu kaldıraca örnektir?

A) El arabası B) Soba maşası
C) Kürek D) Kerpeten

4. Hacimleri eşit, yoğunlukları 1,2 g/cm³ ve 0,8 g/cm³ olan sıvılar karıştırılırsa, karışımın yoğunluğu kaç g/cm³ olur? (Hacim azalması olmadığı düşünülecek.)

A) 0,4 B) 0,6 C) 1 D) 2

5.



Şekildeki gibi sıvı içinde dengede olan bir cismin ağırlığını bulabilmek için aşağıdakilerden hangilerinin bilinmesi gerekir?

I- Cismin kabın tabanına olan uzaklığının
II- Sıvının öz ağırlığının
III- Cismin hacminin

A) Yalnız II B) I-III
C) II-III D) I-II-III

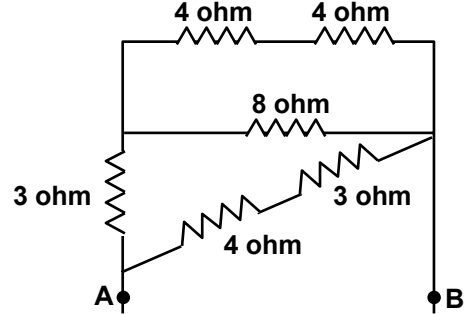
6. Bir denizaltının 5 m² lik yüzeyine etki eden basınç kuvveti 250000 N olduğuna göre denizaltı kaç metre derinliktedir? (d_{deniz suyu}=10³ kg/m³ ,g=10 N/kg alınacak.)

A) 5 B) 25 C) 50 D) 500

7. 5 °C deki 5 gram su, 0 °C de buz hâline geçerken kaç kalorilik ısı verir? (L_{buz} = 80 cal / g, c_{su} = 1 cal / g.°C)

A) 375 B) 400 C) 425 D) 450

8.



Şekildeki devrenin toplam direnci kaç ohmdur?

A) 3,5 B) 4 C) 4,5 D) 7

9. Bir iletkenin öz direncinin hesaplanmasında aşağıdakilerden hangisi kullanılmaz?

A) Direnci B) Özkütlesi
C) Uzunluğu D) Kesiti

10. Bir düz aynaya gelen ışınla yansıyan ışın arasındaki açı 40° dir. Gelen ışının ayna ile yaptığı açı kaç derecedir?

A) 20 B) 40 C) 50 D) 70

11. Tümsek aynada, cisim aynaya yaklaştırıldığında görüntüsünde hangileri gözlenir?

I- Boyunun büyüdüğü
II- Aynaya yaklaştığı
III- Gerçek olduğu

A) Yalnız I B) Yalnız III
C) I-II D) II-III

12. Bir bileşiğin molekül formülü aşağıdakilerden hangilerini belirtmez?

I- Bileşenlerinin birleşme oranını
II- Bileşiğin hâl durumunu
III- Bileşenlerinin cinsini

A) Yalnız II B) I-II
C) I-III D) I-II-III

FEN BİLGİSİ TESTİ

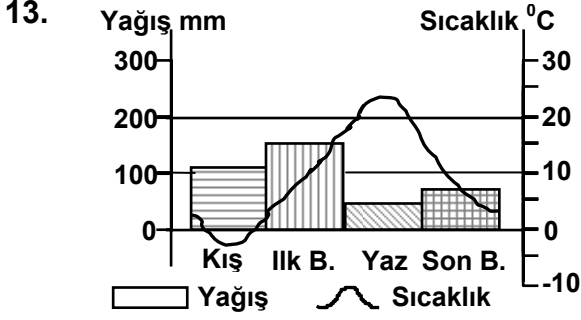
13. HNO_3 bileşiğinde O (oksijen) in kütleinin HNO_3 (nitrik asit) in kütleine oranı $\frac{16}{21}$ dir. Buna göre 12 gram oksijen kullanılırsa kaç gram HNO_3 elde edilir?
- A) 33 B) 31,50 C) 28 D) 15,75
14. İyi bir yakıt, aşağıdaki özelliklerden hangilerine sahip olmalıdır?
- I- Çevreyi kirletmemeli
II- Katı yakıtlardan olmalı
III- Yanma ısısı yüksek olmalı
- A) Yalnız I B) Yalnız II
C) I-III D) II-III
15. Aşağıdaki bitkilerin hangisinde iletim boruları yoktur?
- A) Eğrelti otunda B) Papatyada
C) Menekşede D) Su yosununda
16. Yeryüzündeki hayatın devamında aşağıdakilerden hangisi en etkilidir?
- A) Bitki çeşidinin yaygınlaştırılması
B) Bitkilerin besin maddesi üretmesi
C) Hava kirliliğinin önlenmesi
D) Kirletici yakıt kullanılmaması
17. Hayvan hücresinde, aşağıdaki organellerden hangisi sindirimde görevlidir?
- A) Lizozom B) Ribozom
C) Mitokondri D) Golgi aygıtı
18. Aşağıdakilerden hangisi proteinin görevlerinden değildir?
- A) Enerji vericilik B) Düzenleyicilik
C) Yapıcılık D) Onarıcılık
19. Aşağıdakilerden hangisi vücudumuzdaki zararlı maddelerin dışarı atılmasında görevli değildir?
- A) Karaciğer B) Böbrek
C) Akciğer D) Deri
20. Ana ve baba genlerinin kimyasal yapılarında olan ve kalıtsal olarak yavruya geçen değiş-melere ne denir?
- A) Mutasyon B) Fermantasyon
C) Regenerasyon D) Modifikasyon

FEN BİLGİSİ TESTİ BİTTİ.
SOSYAL BİLGİLER - DİN KÜLTÜRÜ ve
AHLÂK BİLGİSİ TESTİNE GEÇİNİZ.

SOSYAL BİLGİLER - DİN KÜLTÜRÜ ve AHLÂK BİLGİSİ TESTİ

- Aşağıdaki savaşların hangisiyle Müslüman Arapların Avrupa'daki ilerleyişi durmuştur?
A) Puvatya
B) Kadisiye
C) Nihavend
D) Sıffin
- İlk Türk beyliklerinden olan Mengücekoğulları, aşağıdaki yörelerin hangisinde kurulmuştur?
A) Erzurum ve çevresi
B) Erzincan ve çevresi
C) Sivas, Tokat ve Çorum dolayları
D) Diyarbakır, Mardin ve Harput dolayları
- Aşağıdaki savaşlardan hangisi Yıldırım Bayezit döneminde yapılmıştır?
A) I. Kosova
B) Varna
C) Niğbolu
D) II. Kosova
- Aşağıdakilerden hangisi, XV. yüzyılın sonlarında başlayan coğrafi keşiflerin sonuçlarından biri değildir?
A) Sömürge imparatorluklarının kurulması
B) Akdeniz limanlarının eski önemini kaybetmesi
C) Avrupa ülkelerinin zenginleşmesi
D) Avrupa'da soyluların nüfuzunun artması
- Aşağıdakilerden hangisi, Osmanlı Devleti'nin gerileme sebepleri arasında yer almaz?
A) Maliyenin bozulması
B) Yeniçeri Ocağı'nın kaldırılması
C) Bilim ve teknik alanında geri kalınması
D) Devlet görevlerine atamalarda kayırmanın yaygınlaşması
- I. Dünya Savaşı'nda, İtilaf devletleri, Rusya'ya yardım etmek ve Osmanlı Devleti'ni savaş dışı bırakmak için aşağıdakilerden hangisini ele geçirmeyi gerekli görmüşlerdir?
A) İç Anadolu Bölgesi'ni
B) Doğu ve Güneydoğu Anadolu'yu
C) İstanbul ve Boğazları
D) Akdeniz Bölgesi'ni
- Millî Mücadele'de, TBMM Hükümeti'nin kazandığı ilk askerî başarı aşağıdakilerden hangisidir?
A) Doğu illerinin Ermenilerden kurtarılması
B) Güney illerinin Fransızlardan kurtarılması
C) İzmir'in Yunanlılardan kurtarılması
D) İstanbul'un İtilaf devletlerinden teslim alınması
- Aşağıdakilerden hangisi, Sakarya Savaşı'nın sonuçlarından biri değildir?
A) Ankara Antlaşması'nın imzalanması
B) Yunan ilerleyişinin durdurulması
C) Kars Antlaşması'nın imzalanması
D) Londra Konferansı'nın toplanması
- Bir ülkede yaşayan insanların cinsiyet, yaş grupları, öğrenim seviyeleri, yaptıkları iş ve işsizlik oranının tespiti, aşağıdakilerden hangisini ortaya çıkarır?
A) Nüfus yoğunluğunu
B) Yerleşme özelliklerini
C) Nüfusun yapısını
D) Şehir ve köy nüfusunu
- Akdeniz Bölgesi'nin genel özellikleri ile ilgili aşağıdaki bilgilerden hangisi yanlıştır?
A) Dağlar çok geniş yer kaplamaktadır.
B) Kıyı ile yaklaşık 700 m yükseltiye kadar olan kısım bozkırdır.
C) Taşeli ve Teke platoları ile Toros dağları çok tenha yerlerdir.
D) Dağ sıraları, kıyı ile iç kesimler arasındaki ulaşımı zorlaştırmıştır.
- Mardin'de yıllık yağış miktarı ortalama 723 mm, Erzurum'da ise 450 mm dir. Yıllık yağış miktarının daha fazla olduğu Mardin'de, yaz mevsiminin Erzurum'dan daha kurak geçmesi, Güneydoğu Anadolu Bölgesi'nin hangi özelliğine bağlanabilir?
A) Yer şekillerinin sade olmasına
B) Akar su ağının seyrek olmasına
C) Buharlaşmanın fazla olmasına
D) Orman alanlarının az olmasına
- Fırat ve Dicle nehirleri, aşağıdaki denizlerden hangisinin uzantısı olan bir körfeze dökülmektedir?
A) Akdeniz
B) Kızıldeniz
C) Hazar Denizi
D) Umman Denizi

SOSYAL BİLGİLER - DİN KÜLTÜRÜ ve AHLÂK BİLGİSİ TESTİ



Yukarıdaki grafikte, bir il merkezimizdeki yağışın ve ortalama sıcaklığın mevsimlere göre dağılışı gösterilmiştir.

Bu ilimiz, aşağıdakilerden hangisi olabilir?

- A) Kayseri B) Adana
C) Rize D) İzmir

14. Ülkemizde, aşağıdakilerden hangisi, kişilerin özel bir sözleşme sonucu kazandığı haklardan değildir?

- A) Kiracının, kiraladığı evi kullanma hakkı
B) İşçinin, patronundan ücret alma hakkı
C) Bir kişinin üye olduğu kulübün imkânlarından faydalanma hakkı
D) Bir vatandaşın istediği şehirde yaşama hakkı

15. Aşağıdakilerden hangisi, demokratik devletin özelliklerinden biri değildir?

- A) Devleti idare edenlerin bir gruba karşı sorumlu olması
B) Fertlerin kendi düşüncelerine uygun partiye girebilmesi
C) Kişilerin, vazgeçilmez, devredilmez hak ve hürriyetlerinin olması
D) Devlet yönetiminde halk tarafından kabul edilen Anayasanın esas alınması

DİN KÜLTÜRÜ ve AHLÂK BİLGİSİ OKUYANLAR AŞAĞIDAKİ SORULARI CEVAPLAYACAKLAR. OKUMAYANLAR BUNUN YERİNE, AYNI NUMARALI SOSYAL BİLGİLER SORULARINI CEVAPLAYACAKLAR.

16. Kur'an'ın emirlerinden hangisi vatanın korunması ile ilgilidir?

- A) Adalet ilkelerine titizlikle uymak
B) Düşmana karşı güçlü olmak
C) Allah için doğru tanıklık etmek
D) Değerli mallardan sadaka vermek

17. Bedir Savaşı esirlerinin 10 müslümana okuma yazma öğretilmesi karşılığında serbest bırakılması İslâm'ın hangi önemli ilkesini gösterir?

- A) İbadet B) İman C) İlim D) Ahlâk

18. Aşağıdaki olaylardan hangisi Kadir Gecesi'nde meydana gelmiştir?

- A) Peygamberimiz'in miracı
B) Kur'an-ı Kerim'in Peygamberimiz'e vahyedilmeye başlanması
C) Peygamberimiz'in dünyaya gelişi
D) 5 vakit namazın farz kılınması

19. Dinimize göre insanî bir olgu olan selâmlaşma ile ilgili aşağıdakilerden hangisi yanlıştır?

- A) Selâm vermek sünnet, almak farzdır.
B) Müslümanların aralarında selâmı yaymaları emredilmiştir.
C) Selâmlaşmak, müslümanların birbirlerine olan barış dileklerinin bir ifadesidir.
D) Selâmlaşmak için müslümanların birbirlerini tanımaları şarttır.

20. Aşağıdakilerden hangisi, İslâm dininin namaz konusunda sağladığı kolaylıklardan biri değildir?

- A) Sağlıklı bir kimsenin yattığı yerden başını hareket ettirerek namazını kılabilmesi
B) Namazını vaktinde kılamayanların sonradan kaza edebilmesi
C) Yolculukta kible şartına bağlı kalmaksızın namaz kılınabilmesi
D) Namazını ayakta kılamayacak kadar yaşlı ve hastaların oturarak kılabilmesi

DİN KÜLTÜRÜ ve AHLÂK BİLGİSİ OKUYANLAR AŞAĞIDAKİ SOSYAL BİLGİLER SORULARINA CEVAP VERECEKLER. OKUYANLAR CEVAP VERMEYECEKLER.

16. "Maveraünnehir, Balkaş gölü ve Tanrı dağları çevresinde kurulan Müslüman Türk devletidir. Kurucusu Bilge Kül Kadir Han'dır. Abdülkerim Satuk Buğra Han'ın hükümdarlığı zamanında İslâmiyeti kabul etmişlerdir."

Yukarıda, hangi Müslüman Türk devleti anılmaktadır?

- A) Gazneliler B) Karahanlılar
C) Tolunoğulları D) İhşitler (Akşitler)

SOSYAL BİLGİLER - DİN KÜLTÜRÜ ve AHLÂK BİLGİSİ TESTİ

17. Aşağıdaki Atatürk İnkılâplarından hangisi siyasal alanda değildir?

- A) Halifeliğin kaldırılması
- B) Saltanatın kaldırılması
- C) Medreselerin kaldırılması
- D) Cumhuriyetin ilânı

18. Aşağıdakilerden hangisi beşerî coğrafyanın konuları arasında yer almaz?

- A) Nüfusun dağılışı
- B) Akar sular ve özellikleri
- C) İç göçler
- D) Yerleşme şekilleri

19. İç Anadolu Bölgesi'nde, sebze ve meyve üretimi ile verimde son yıllarda artış görülmüştür.

Bunda, aşağıdakilerden hangisinin en az etkili olduğu söylenebilir?

- A) Ziraî mücadelenin önem kazanmasının
- B) Gübre kullanımının yaygınlaşmasının
- C) Sulu tarım alanlarının genişlemesinin
- D) Bazı bataklıkların tarım alanı haline getirilmesinin

20. Aşağıdakilerden hangisi devletin sağladığı yararlarından biri değildir?

- A) Kişilere davranışlarında sınırsız özgürlük tanınması
- B) Toplumun tehlikelerden korunması
- C) Toplumda düzeni sağlanması
- D) Bireylerin çeşitli ihtiyaçlarını karşılaması

TEST BİTTİ.

CEVAPLARINIZI KONTROL EDİNİZ.